

Урок математики в 3 классе

Повторение по теме

«Сложение и вычитание трехзначных чисел»

Выполнила
учитель начальных классов
МКОУ Марченковская ООШ
Еськина Л.Н.

Устный счет

$$84:7$$

$$140-39$$

$$20*3$$

$$88:8$$

$$320+15$$


$$400+20$$

$$1000*0$$

$$66:6$$

$$335-0$$

Реши задачу



Чему равны площадь и периметр фигуры?

$$P=18 \text{ см}, S=18 \text{ кв.см}$$

На катке было 48 детей. 12 мальчиков ушли. Сколько детей осталось?



Ответ: осталось 36 мальчиков.

В школе 920 детей, из них 520 девочек.
Сколько мальчиков в школе?



Ответ: 400 мальчиков

Реши примеры:

$7*7$, $8*2$, $9*4$, $5*4$, $9*7$, $3*6$, $35:7$, $40:5$, $100:10$, $36:4$

36-п

17-з

16-о

0-м

49-в

20-т

1000-я

18-о,

63-р,

5-е,

600-ю

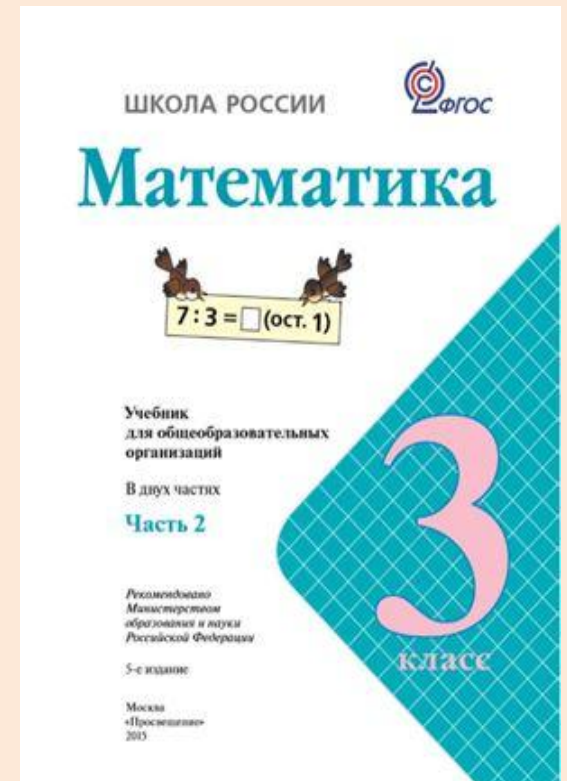
8-н,

10-е

СОСТАВЬ СЛОВО

Тема урока

ПОВТОРЕНИЕ



Физминутка



Преврати в часы и минуты

- 120 мин
- 100 мин
- 185 мин

Ответ:

2 часа

1 час 40 мин

2 часа 65 мин



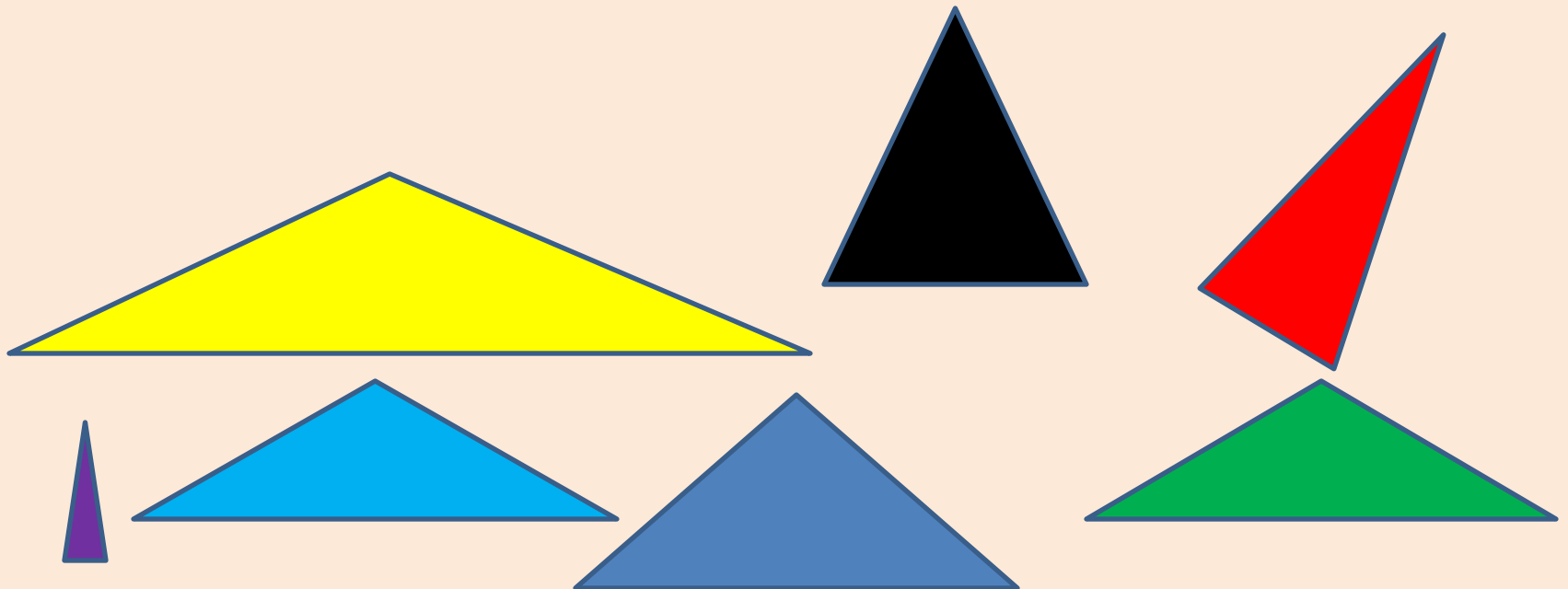
Работа в парах

Стр.74 учебник

-Какие фигуры перед вами?

-Что вы о них знаете?

Измерьте стороны треугольников и сделайте вывод.



ИСТОЧНИКИ:

- heimwerkzeug.com
- twirpx.com
- vsolikamske.ru
- intermedia.ru
- tapenik.ru