

**Уро
к
51**

УМК «Начальная школа XXI века»

Складываем и вычитаем числа

*Учитель начальных классов
ГБОУ Школа №1222 им. И.Х.Баграмяна г. Москвы
Луковкина Татьяна Сергеевна*

Интерактивный тренажер

**«Наряди
елочку!»**

***Считаем
устно***

*Танкова Елена Владиславовна,
учитель начальных классов
МБОУ «СОШ № 1» п. Пуровск
Пуровский район ЯНАО*

- 1
- 2
- 3
- 4
- 5
- 6
- 7
- 8
- 9
- 10



$$6 + 2 =$$



- 1
- 2
- 3
- 4
- 5
- 6
- 7
- 8
- 9
- 10



$3 + 3 =$



- 1
- 2
- 3
- 4
- 5
- 6
- 7
- 8
- 9
- 10



$7 - 4 =$



- 1
- 2
- 3
- 4
- 5
- 6
- 7
- 8
- 9
- 10



$$7 + 3 =$$



- 1
- 2
- 3
- 4
- 5
- 6
- 7
- 8
- 9
- 10



$9 - 8 =$



- 1
- 2
- 3
- 4
- 5
- 6
- 7
- 8
- 9
- 10



$5 + 2 =$



- 1
- 2
- 3
- 4
- 5
- 6
- 7
- 8
- 9
- 10



$6 - 2 =$



- 1
- 2
- 3
- 4
- 5
- 6
- 7
- 8
- 9
- 10



$5 + 4 =$



- 1
- 2
- 3
- 4
- 5
- 6
- 7
- 8
- 9
- 10



$$5 - 3 =$$



- 1
- 2
- 3
- 4
- 5
- 6
- 7
- 8
- 9
- 10



$4 + 1 =$



- 1
- 2
- 3
- 4
- 5
- 6
- 7
- 8
- 9
- 10



$4 - 1 =$



1 2 3 4 5 6 7 8 9 10



4 + 4 =



- 1
- 2
- 3
- 4
- 5
- 6
- 7
- 8
- 9
- 10



$5 + 5 =$





МОЛОДЦЫ!



1. Прочитай записи.

$3 + 2 = 5$ К трём прибавить два получится пять.

$8 - 3 = 5$ Из восьми вычесть три получится пять.

$2 + 4 = 6$ $2 + 6 = 8$ $3 + 4 = 7$
 $6 - 2 = 4$ $7 - 4 = 3$ $8 - 2 = 6$

2. Чем похожи и чем отличаются записи?

$2 + 6 = 8$ $8 - 2 = 6$

3. Составь записи.

$\square + \square = 10$

$10 - \square = \square$

Распредели записи по группам.

$$6 + 4 = 10$$

$$10 - 6 = 4$$

$$10 - 4 = 6$$

$$14 - 4 = 10$$

$$10 + 4 = 14$$

$$16 - 6 = 10$$

$$14 - 10 = 4$$

$$10 + 6 = 16$$

$$16 - 10 = 6$$

$$6 + 4 = 10$$

$$10 + 4 = 14$$

$$10 + 6 = 16$$

$$10 - 6 = 4$$

$$14 - 4 = 10$$

$$16 - 6 = 10$$

$$10 - 4 = 6$$

$$14 - 10 = 4$$

$$16 - 10 = 6$$

Работа по учебнику стр. 115 № 6

Ира купила мороженое, шоколадку и воздушный шарик. Что неверно на рисунке?



10 рублей

Сколько надо заплатить за мороженое и шоколадку?

Дополни условие задачи и ответь на вопрос.
Сколько денег осталось у Иры?

Как узнать, сколько всего рублей в каждом наборе? Запиши.



Работа по учебнику

стр. 114 № 4

Назови по порядку числа от 12 до 18, от 7 до 16, от 14 до 11.

Как изменяется число в нижнем ряду? Заполни пропуски.

3	4	5	9	7	8	6
1	2	3	<input type="text" value="7"/>	<input type="text" value="5"/>	<input type="text" value="6"/>	<input type="text" value="4"/>

Работа в тетради
стр. 57 № 5

$10 = 2 + 8$

$7 + 3 = 10$

$10 = 4 + 6$

$10 = 4 + 6$

$5 + 5 = 10$

$10 = 1 + 9$

Работа по учебнику

стр. 114 № 5

Какие задачи решаются **сложением**? Почему?

- v** 1) Из клетки вылетели 2 жёлтых и 4 зелёных попугая. Сколько попугаев вылетело из клетки?
- 2) В клетке сидели 3 попугая. Улетели 2 из них. На сколько больше попугаев было, чем улетело?
- v** 3) После того, как из клетки вылетели 4 попугая, в ней осталось 2 попугая. Сколько попугаев было в клетке?

Работа в тетради

стр. 57 № 4

Отметь знаком задачи, которые решаются вычитанием.





Брату 6 лет, а сестра на 2 года старше. Сколько лет сестре?

Миша записал число 7, а Дима — число, которое на 2 меньше. Какое число записал Дима?

Миша и Дима забили всего 9 шайб. Миша забил 3 шайбы. Сколько шайб забил Дима?

Работа по учебнику стр. 115 № 6

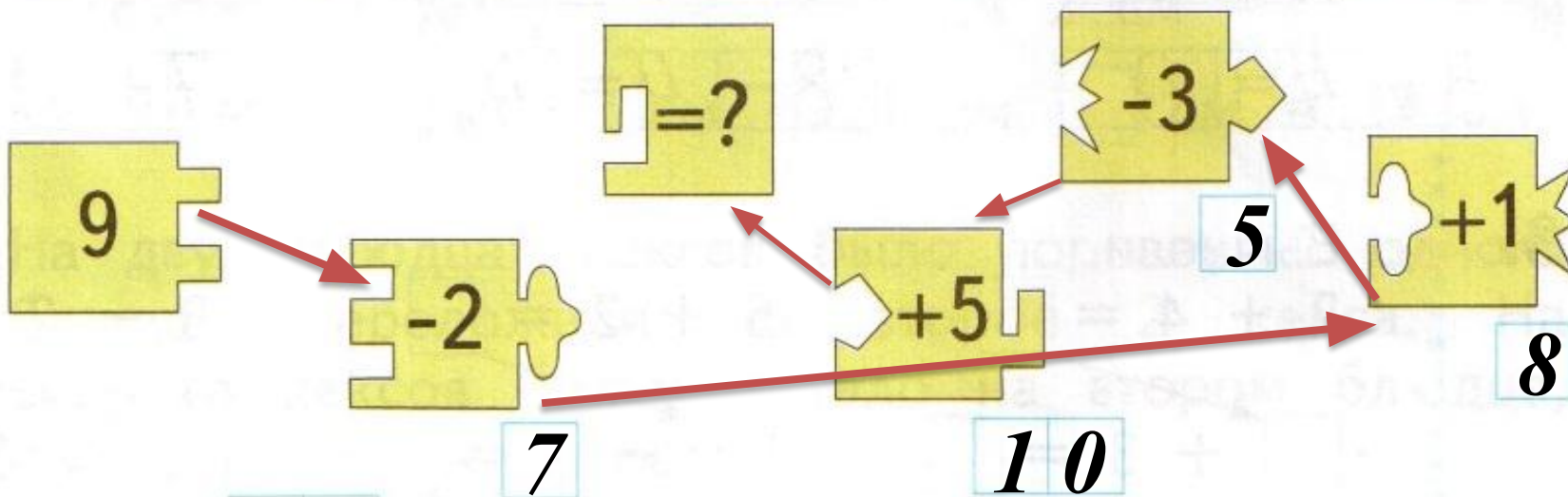
Какую деталь вырезали из этого листа?



Работа в тетради

стр. 57 № 6

«Сложи» все детали мозаики и найди результат.



Ответ: **10**.

Рефлексия.



**Отлично усвоил
тему урока.**



**Не всё было
понятно.**



**Ничего не
понял.**



Используемые интернет

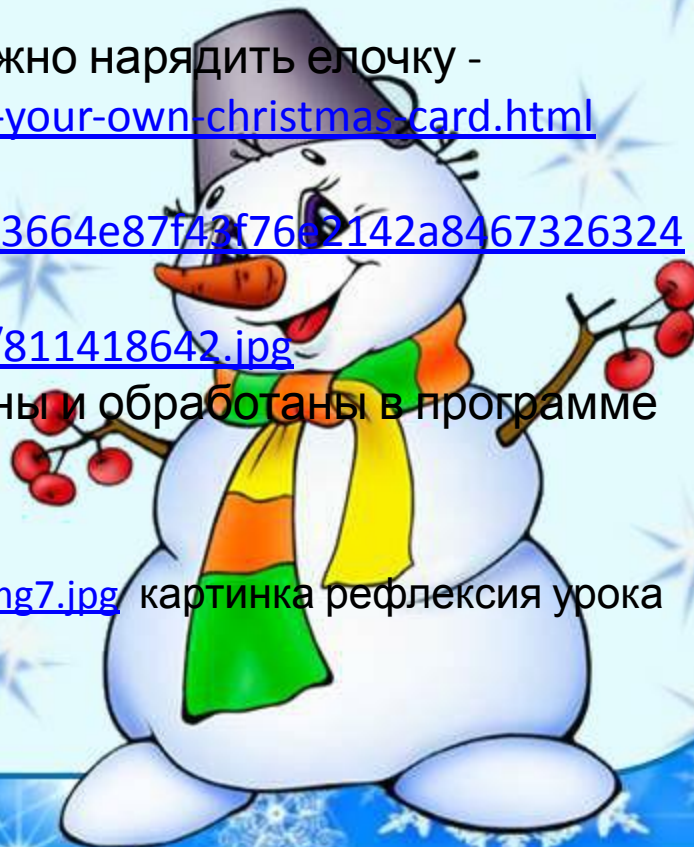
Интерактивные источники:

«Наряди елочку!»

*Танкова Елена Владиславовна,
учитель начальных классов
МБОУ «СОШ № 1» п. Пуровск
Пуровский район ЯНАО*

1. Картинки созданы на сервис, где можно нарядить елочку - <http://www.ispringsolutions.com/design-your-own-christmas-card.html>
2. Снеговик - <http://boombob.ru/img/picture/Jul/09/e3664e87f43f7662142a846732632440/10.jpg>
3. Для фона - http://russia-gid.ru/_ph/56/811418642.jpg
4. Звуковые файлы авторские, записаны и обработаны в программе Audacity

<http://fs00.infourok.ru/images/doc/218/713/1/img7.jpg> картинка рефлексия урока





***На уроке используется материал
учебных пособий УМК «Начальная школа XXI века»***

**Е.Э. Кочурова, В.Н. Рудницкая, О.А. Радзе Математика, 1 класс, учебник для
учащихся общеобразовательных учреждений в 2 ч. Москва Издательский
Центр «Вентана – Граф», 2015 г. Стр. 114-115**

**Печатная тетрадь Е.Э. Кочуровой «Математика.1 класс. № 2», Издание: 2-е
изд., перераб. - М.: Вентана - Граф, 2015; с. 56-57.**