

# Прибавление и вычитание числа 4

1 класс  
УМК «Школа России»



Выполнила:  
учитель начальных классов  
МБОУ СШ с.п. Селекционной станции  
Демидова И.А.

Встало солнышко давно,  
Заглянуло к нам в окно,  
На урок торопит нас -  
Математика сейчас.

Внимание! Проверь, дружок,  
Готов ли ты начать урок.  
Все ли на месте, все ли в порядке?  
Книги, ручка и тетрадки?



# Попробуй, посчитай!



- Найди сумму 1 и 3
- увеличь число 5 на 2;
- 5 да еще 5;
- к 2 прибавить 6;
- уменьши число 10 на 3;
- из 8 вычти 5;
- какое число находится между 3 и 5

Помоги мне найти лишний  
пример!



$$5+2$$

$$8-2$$

$$7+1$$

$$3-2$$

$$7+1$$



Молодцы, а теперь решите эти  
примеры:



$$6+3$$

$$5+3$$

$$7-3$$

$$5+4$$



$$5+4$$



# Варианты решения:

$$1. 5+4=5+1+1+1+1$$



$$2. 5+4=5+2+2$$

$$3. 5+4=5+3+1$$


$$4. 5+4=5+1+3$$

5-4 ?

$$5-4=5-2-2$$

$$5-4=5-3-1$$

$$5-4=5-1-3$$



# Физкультминутка





Наклоняемся с хлопком  
И с хлопком потом встаем.  
Вниз и вверх, вниз и верх,  
Ну-ка хлопни громче всех!  
На одной ноге мы скачем,  
Как упругий звонкий мячик.  
На другой поскачем тоже,  
Очень долго прыгать можем.  
Головой вращаем плавно,  
Смотрим влево, смотрим вправо.  
И пройдемся мы немного,  
И вернемся вновь к уроку.



# Учебник с.8

Вспомни, что 4 — это 2 и □, 4 — это 1 и □.  
Объясни по рисунку, как можно к числу прибавить по частям число 4.


$$\square + 4$$
$$\square - 4$$



$$4 = 2 + 2$$

$$4 = 3 + 1$$

**Разделим на группы по:**

По цвету

По размеру

# Учебник с. 8 № 2

2. Мама положила в салат 3 яйца, а в тесто на 1 яйцо меньше. Сколько яиц мама положила в тесто?

$$3 - 1 = 2$$

Ответ: 2 яйца.





# Учебник с. 8 № 3

3. Ане 6 лет, а Вера на 4 года старше. Сколько лет Вере?

$$6 + 4 = 10$$

Ответ: 10 лет Вере.



# Проверь себя!




?  $8 - 3 - \square = 4$

$6 - 2 - \square = 2$





Оцени  
свою  
работу  
на уроке



# Молодцы!

