


Повторение. Урок №2.





Кто нарисован справа?


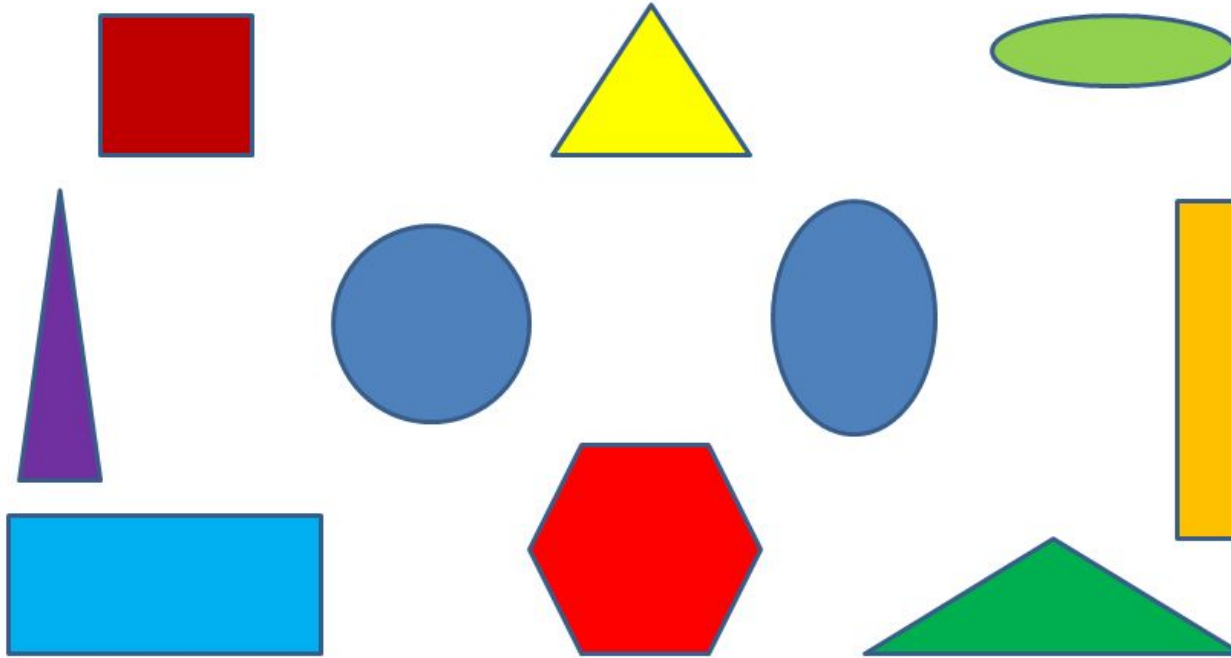
Кто нарисован слева?

Кто нарисован посередине?


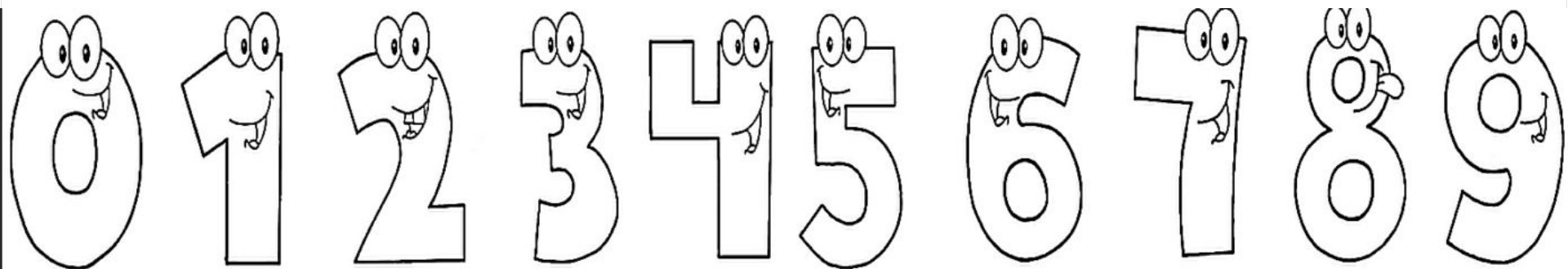
Герои из какого мультфильма пожаловали к нам на урок?



НАЗОВИ ГЕОМЕТРИЧЕСКИЕ ФИГУРЫ
КАКИЕ ФИГУРЫ ОТНОСЯТСЯ К МНОГОУГОЛЬНИКАМ? СКОЛЬКО
ЗДЕСЬ МНОГОУГОЛЬНИКОВ?
ЧЕМ ОТЛИЧАЮТСЯ КРУГ И ОВАЛ? ЧЕМ ОНИ ПОХОЖИ?



ПОСЧИТАЙ ЦИФРЫ В ПРЯМОМ ПОРЯДКЕ.
ПОСЧИТАЙ В ОБРАТНОМ ПОРЯДКЕ.
НАЧНИ СЧИТАТЬ С НАЗВАННОГО ЧИСЛА.
НАЗОВИ СОСЕДЕЙ ЧИСЛА...



1

Разбей фигуры на части и составь равенства. Проведи линии. В числовых равенствах подчеркни части и обведи целое.



$$\begin{array}{|c|} \hline \bullet \bullet \\ \hline \end{array} + \begin{array}{|c|} \hline \bullet \\ \hline \end{array} = \begin{array}{|c|} \hline \bullet \bullet \bullet \\ \hline \end{array}$$

$$3 - 2 = 1$$

$$\begin{array}{|c|} \hline \\ \hline \end{array} + \begin{array}{|c|} \hline \\ \hline \end{array} = \begin{array}{|c|} \hline \\ \hline \end{array}$$

$$2 + 1 = 3$$

$$\begin{array}{|c|} \hline \\ \hline \end{array} - \begin{array}{|c|} \hline \\ \hline \end{array} = \begin{array}{|c|} \hline \\ \hline \end{array}$$

$$3 - 1 = 2$$

$$\begin{array}{|c|} \hline \\ \hline \end{array} - \begin{array}{|c|} \hline \\ \hline \end{array} = \begin{array}{|c|} \hline \\ \hline \end{array}$$

$$1 + 2 = 3$$

Стр.3



1 Определи стоимость покупки, если цена каждого овоща указана на табличке.



--	--	--	--



--	--	--	--



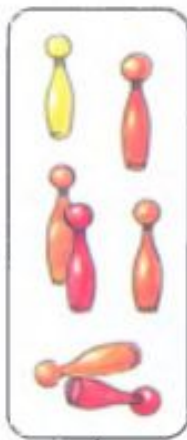
--	--	--	--





1

Сравни с помощью знаков $>$, $<$ или $=$.



7





5



2



2



3





4



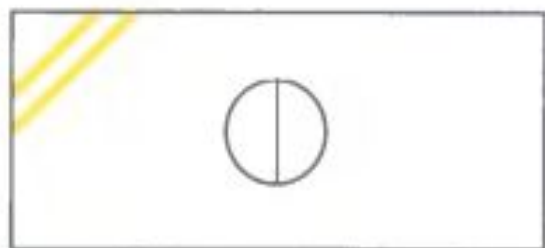


2 Вставь пропущенные знаки.

Стр.7



3 Сделай все скатерти одинаковыми.



5

Соедини между собой фигуры, не похожие друг на друга ни по одному свойству.



Стр. 8



Спасибо за внимание!

