

# Урок - путешествие с Винни-Пухом



***Я желаю тебе добра,  
Ты желаешь мне добра.  
Если тебе трудно,  
я помогу.***



$$6 \dots 3 < 7$$

$$1 \dots 5 > 3$$

$$4 \dots 3 > 5$$

$$4 \dots 3 < 2$$

$$3 \dots 2 < 4$$

$$4 \dots 4 > 4$$







На сколько больше?

На сколько меньше?



**На сколько меньше?**

**Правило: На сколько больше?**

**Чтобы ответить на вопрос:  
на сколько одно число больше  
или  
меньше другого, надо из  
большого**

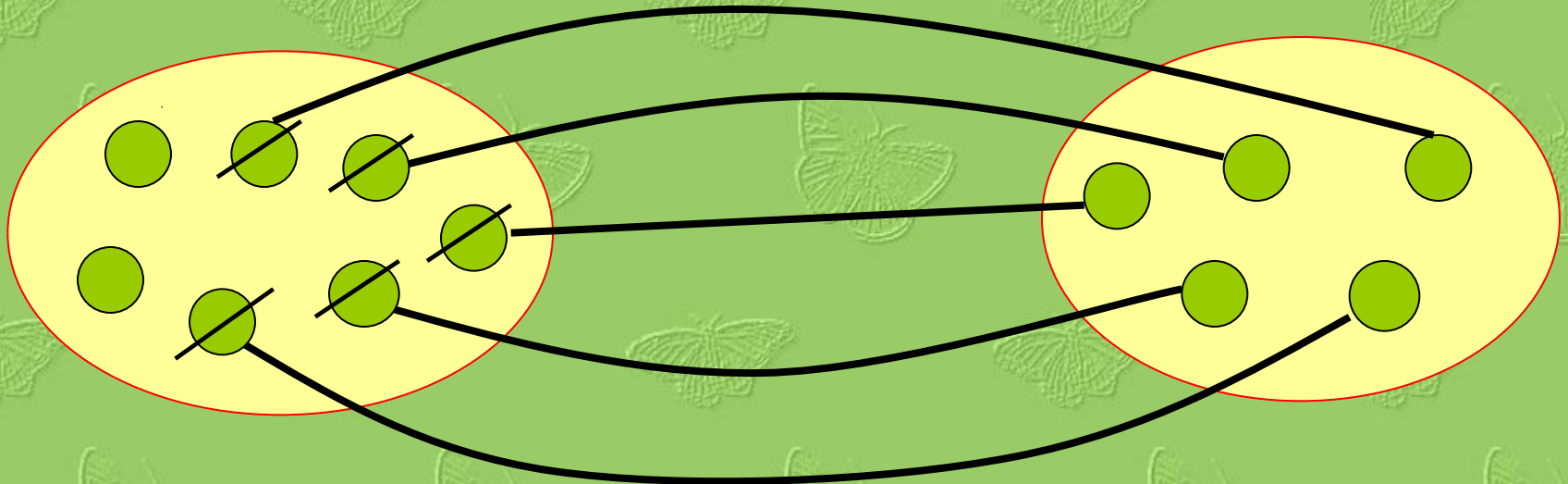
**числа вычесть меньшее.**



$$5 - 3 = 2$$



Покажи на рисунке, **на сколько больше** кругов слева, чем справа.




Запиши равенство, которое соответствует рисунку.

$$7 - 5 = 2$$



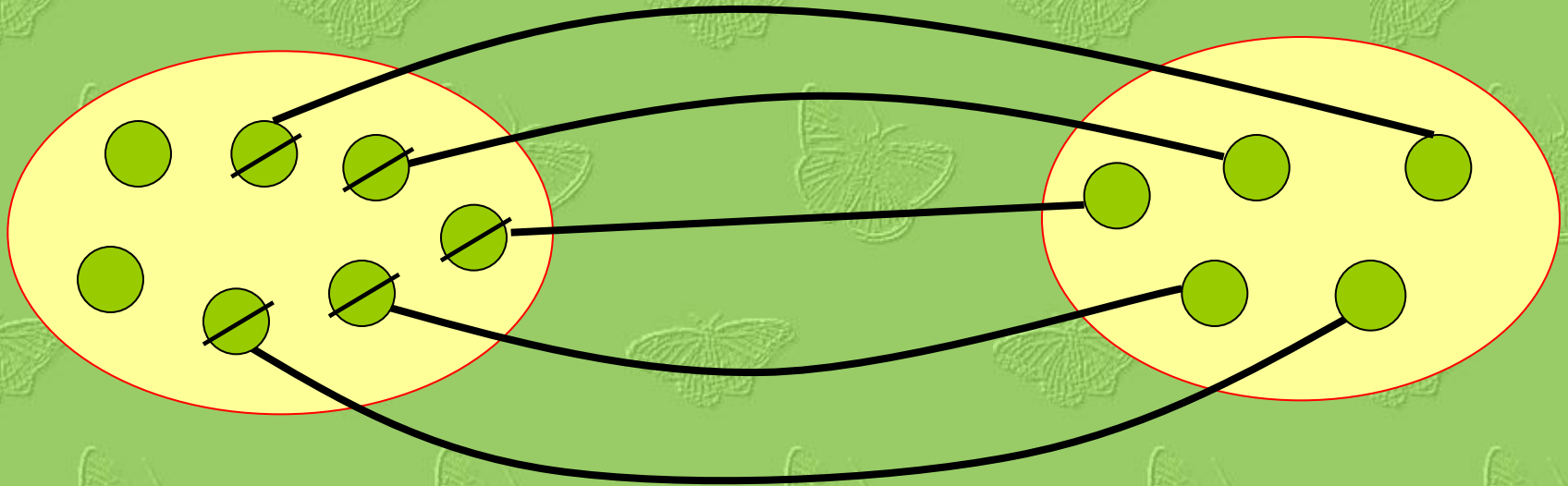
Покажи на рисунке, **на сколько больше**  
кругов справа, чем слева.



Запиши равенство, которое соответствует  
рисунку.

$$8 - 6 = 2$$

Покажи на рисунке, **на сколько меньше** кругов справа, чем слева.



Запиши равенство, которое соответствует рисунку.

$$7 - 5 = 2$$

Вставь числа и запиши решение задачи.


Для фруктового салата взяли 7 яблок и 5 груш. На сколько больше взяли яблок, чем груш?



$$\square > \square$$

$$\square - \square = \square$$







## **Вывод:**

**Чтобы узнать на сколько одно число больше или меньше другого, надо из большего числа вычесть меньшее.**



# Урок - путешествие с Винни-Пухом

