

Математик

а

2 класс

Школа

России

УСТНЫЕ ВЫЧИСЛЕНИЯ

Урок № 73

Автор-составитель : Печенкина Светлана
Владимировна,
учитель начальных классов
МКОУ «СОШ №44»,
город Миасс, Челябинской области

2015 г

Реши
задачу:

**Купили 6кг риса и 7кг гречки, а
манки –
столько, сколько гречки и риса
вместе.**

Сколько манки купили?



7к



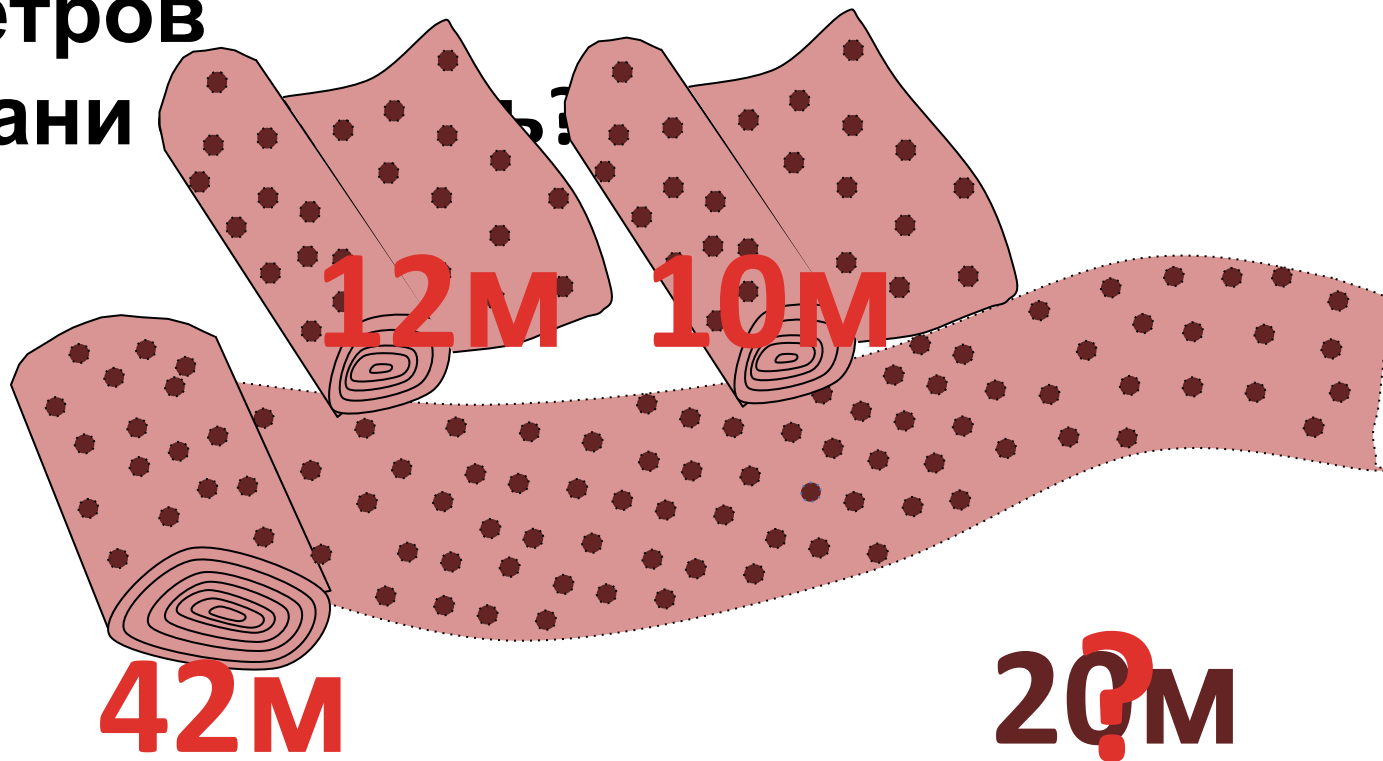
6к



13?кг

Реши
задачу:

**В куске ткани было 42м . Утром
продали
12м, а вечером – 10м . Сколько
метров
ткани**



Логическая
задача:

**Каждая машина на автодроме
вмещает
2 человека. Сколько потребуется
машин,
чтобы прокатились 7 мальчиков?**



Логическая
задача:

Три поросёнка строили три домика из
соломы, из прутьев и из камней.

Каждый

из поросят строил один домик. Ниф-
Ниф

строил домик не из камней и не из
путь-

ее из камней. Какой

домик

строил



Ниф?

из

камней



Для
проверки
рассуждения
кликни
по герою

солома

камни

прутья



Ниф-

+

-

-



иф

Нуф-

-

-

+



иф

Наф-

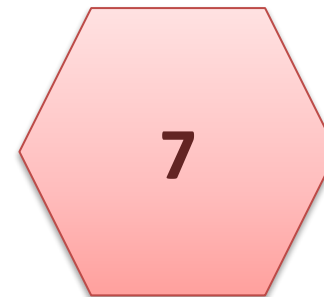
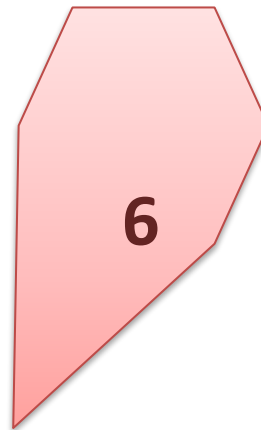
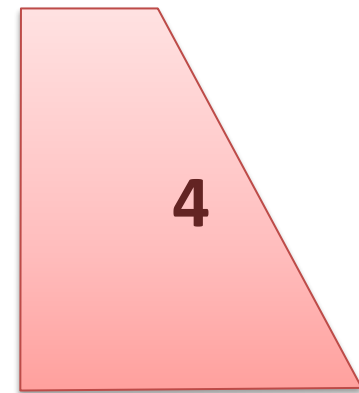
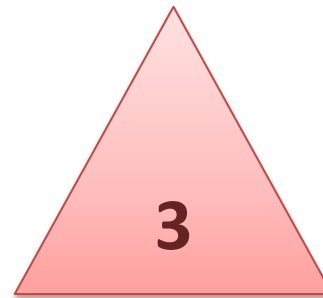
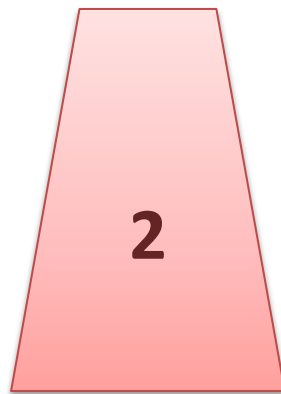
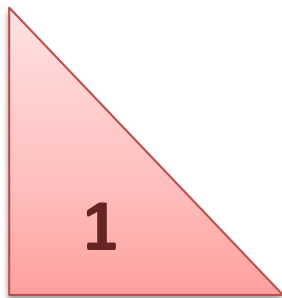
-

+

-

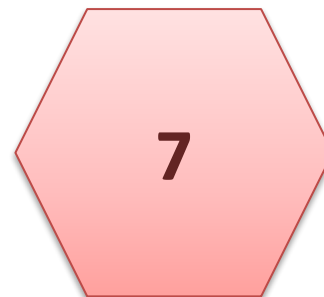
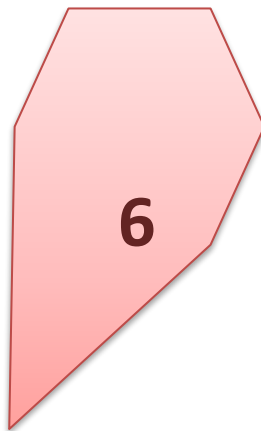
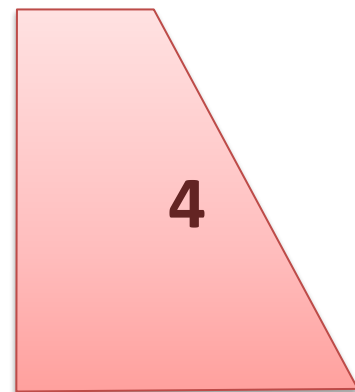
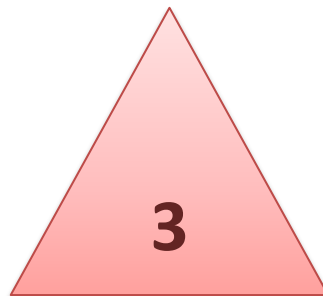
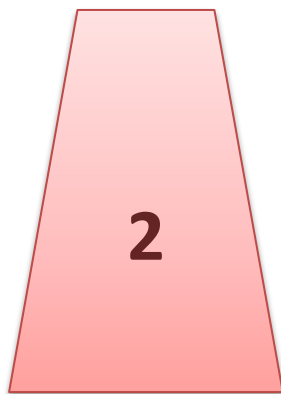
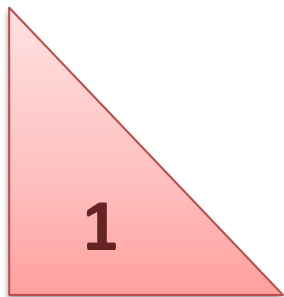
Наф





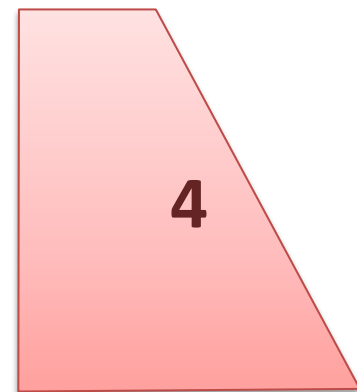
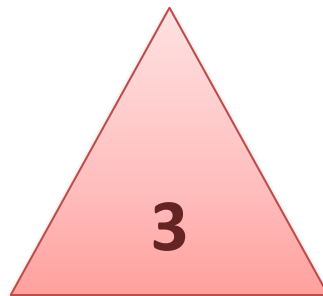
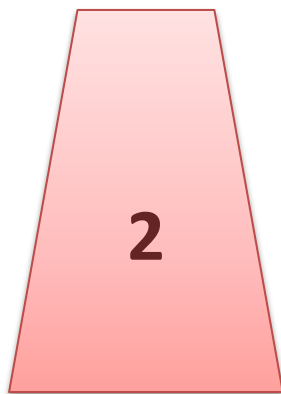
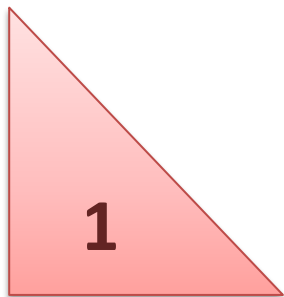
Как классифицировать фигуры можно разбить на группы?





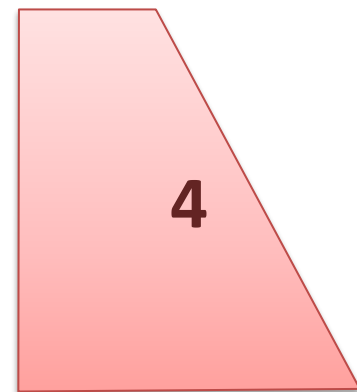
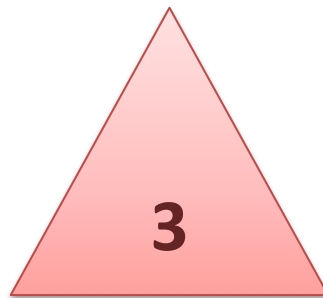
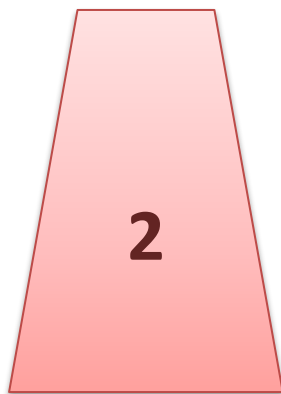
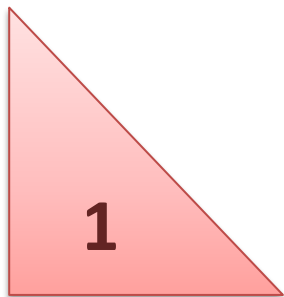
**Уберите
шестиугольники.**





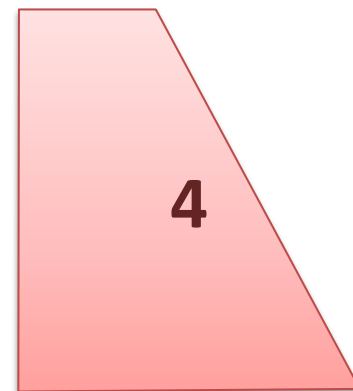
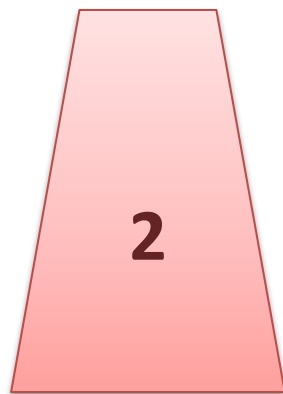
**Какие фигуры и
оставятся?
остатки?**





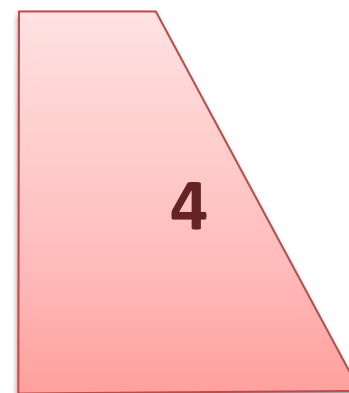
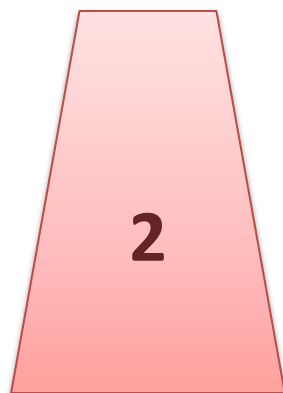
**Уберите
треугольники.**





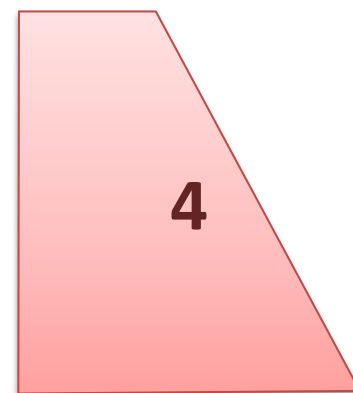
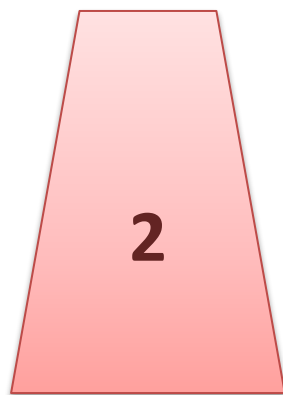
Какие фигуры
остались?
Осталось
КИ.





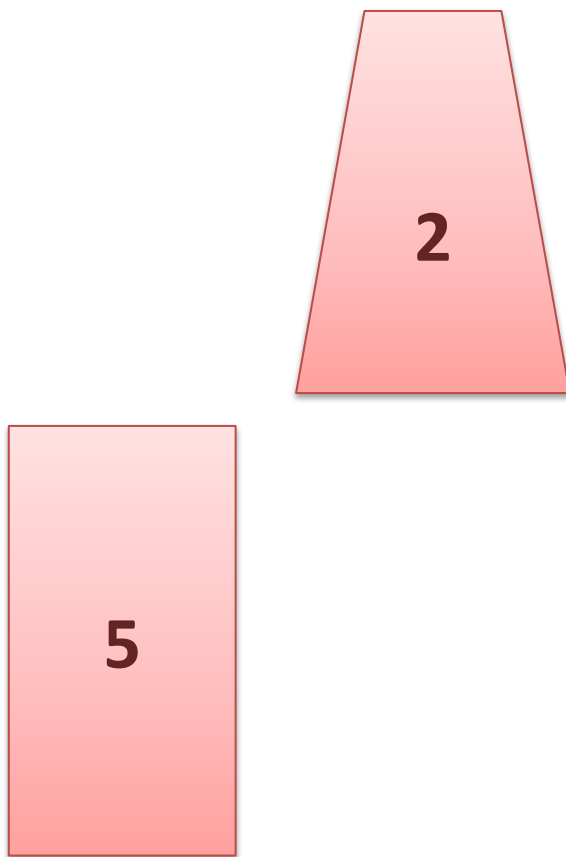
**Какие углы имеют
оставшиеся
фигуры?**





**Можно ли все эти
четырёхугольники
назвать прямоугольниками?**





**Какой четырёхугольник
называется
прямоугольником?**



Интернет-источники:

<http://mir-krup.ru/files/Image/p/main/32d458f0ef908d03f9e35174429ad495.jpg> рис

http://www.uvoice.ru/pic/img_724d5cfc7f77696f02aec04cbee93b9.jpg гречка

http://news.unipack.ru/light_editor_img/.thumbs/images/2013-4-2/file1364809641.jpg

манка

<http://www.gizmonews.ru/wp-content/uploads/2011/11/suzuki-q-1-550x376.jpg>

автомобиль

https://encrypted-tbn1.gstatic.com/images?q=tbn:ANd9GcQ4irdQnUT1oM8EnYCSvUcn cS-BKtXXYfIWWqzD1ns_qrJD5xkF4Vdm0Mw Знайка

Рисунок рулонов ткани Е.М.Савченко

Автор шаблона:

Фокина Лидия

Петровна

учитель начальных

классов

МКОУ «СОШ ст.

Евсино»

Искитимского района
Сайт <http://linda6035.ucoz.ru/>
Новосибирской
области