



ТРЕНАЖЕР

(технологический прием «Пазлы»)

«Устный счет в пределах 10»

(математика, 1 класс)

УМК любой



Танкова Елена Владиславовна,
учитель начальных классов
МБОУ «СОШ № 1» п. Пуровск
Пуровский район ЯНАО

*Ребята,
чтобы из пазлов сложить
картинку из известного мультфильма,
надо правильно вставить
пропущенные числа.*



СТАРТ

$$7 + \blacksquare = 10$$

2

3

4

$$5 + \blacksquare = 10$$



4

5

6


$$2 + \blacksquare = 10$$



$$6 + \blacksquare = 10$$



$$1 + \blacksquare = 10$$



$$10 - \blacksquare = 8$$



3

2

1

$$10 - \square = 6$$




2


3

4

$$4 + \blacksquare = 8$$



$$7 + \blacksquare = 9$$




$$10 - \blacksquare = 2$$



$$10 - \blacksquare = 9$$



$$5 + \square = 8$$





МО

ЛОД

ЦЫ!



ИСТОЧНИК

И:

1. Буратино - http://buratino33.rusedu.net/gallery/1566/4204503_ec3b9b98.jpg
2. Картинка - <http://fs00.infourok.ru/images/doc/254/259325/img3.jpg>
3. [Шаблон пазлов](#)