

Устный счёт

на цветочной полянке

1 класс

Автор презентации
Коровина Ирина Николаевна
учитель начальных классов
МБОУ «СОШ №9»
г.Сафоново Смоленской области



Назовите номера
«соседей»

19

20

21

30

31

32


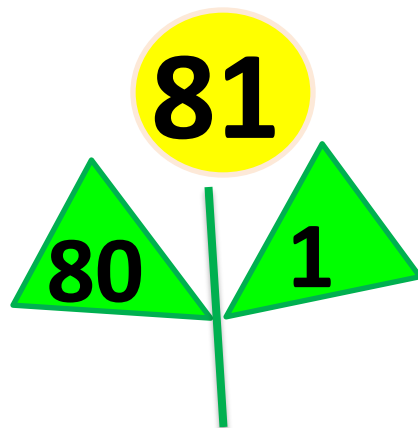
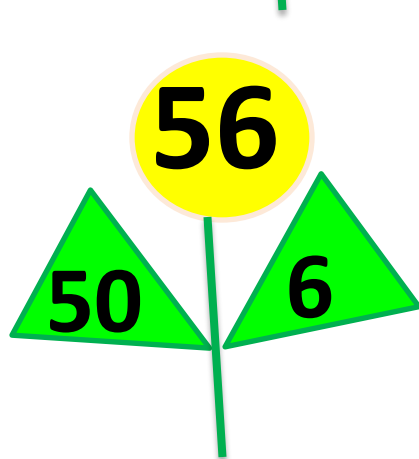
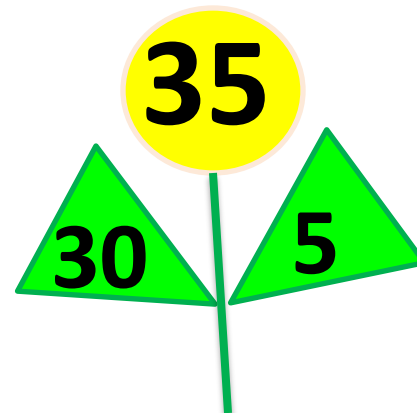

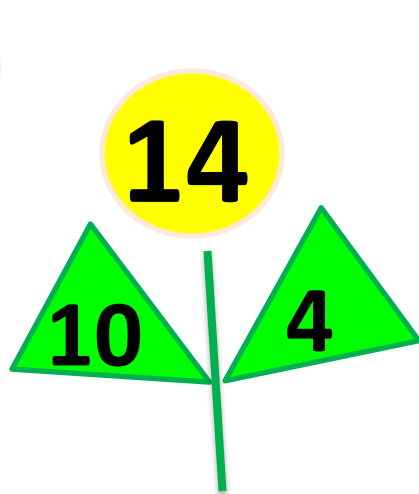
38



39

40



Представь числа на цветке в виде
суммы разрядных слагаемых





Сравни: < >

=

$$15 + 1 > 15 - 1$$

$$2 + 10 = 10 + 2$$

$$17 - 10 < 17 - 5$$

$$14 - 4 > 14 - 10$$



Реши задачу:

У одной ромашки 35 лепестков, а у другой – 30. На сколько больше лепестков у первой ромашки?


$$35 - 30 = 5 \text{ (л.)}$$

Ответ: на 5 лепестков больше.



Использованы ресурсы:

- http://allpictures4u.ru/risunok_ruki_karandashom_131101.html
- <http://fotoramochki.com/cvetochnie/fotoramka-25.png>
- <http://fotiko.ru/1115512>
- <http://luntiki.ru/blog/audioskazki>
- <http://domsovkusom.ru/flip-flap?page=1>



Шаблон «Лето. Ромашки» -
автор **Коровина Ирина Николаевна**
учитель начальных классов МБОУ «СОШ №9»
г.Сафоново Смоленской области