



УСТНЫЙ СЧЁТ


Прогулка
по городу

1 класс



Автор презентации Коровина Ирина Николаевна
учитель начальных классов МБОУ «СОШ №9» г.Сафоново Смоленской

В трамвае едут числа, назови «соседей»



Определи номера следующих домов на
улице Цветочной, соблюдая закономерность





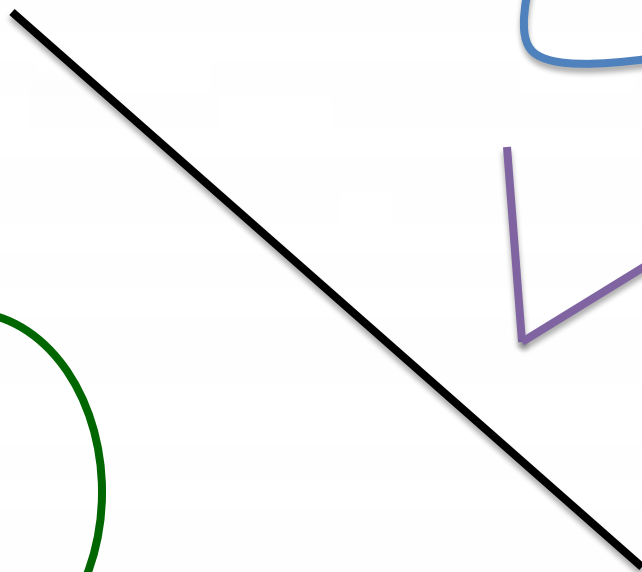

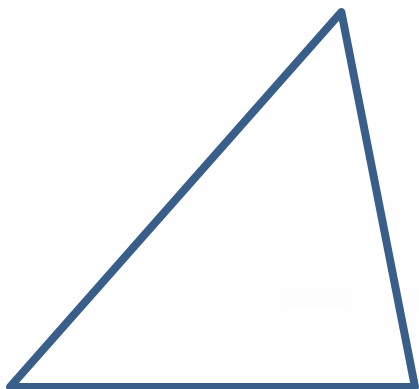
Определи номера домов на
противоположной стороне улицы Цветочной

11 13 15 17 19 21 23 25

11 13 15 17 19 21 23 25

The image shows a row of eight numbers in blue boxes: 11, 13, 15, 17, 19, 21, 23, and 25. A green arrow points from the right towards the numbers.

Улицы города образовали фигуры,
назови эти фигуры



Реши правильно, чтобы перейти дорогу

$$4 + 3 = \textcircled{8} - 1$$

$$\textcircled{1} + 5 = 9 - 3$$

$$10 - 3 = \textcircled{4} + 3$$

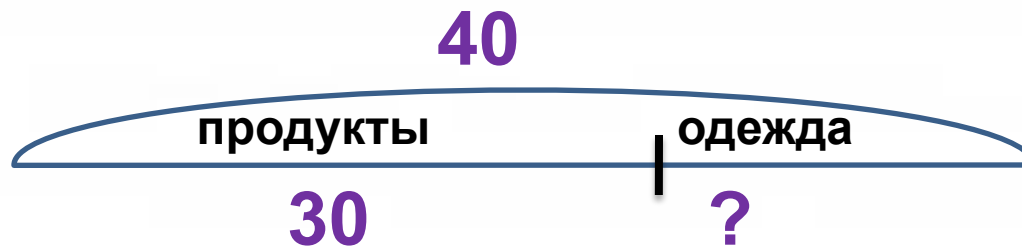
$$8 + 2 = 20 - \textcircled{10}$$

$$\textcircled{2} + 7 = 10 - 1$$



1 **2** **3** **4** **5** **6** **7** **8** **9** **10**

В городе **40** магазинов, из них **30** торгуют продуктами, а остальные одеждой.
Сколько магазинов продают одежду?



$$40 - 30 = 10 \text{ (м.) - одежды}$$

Ответ: 10 магазинов одежды

