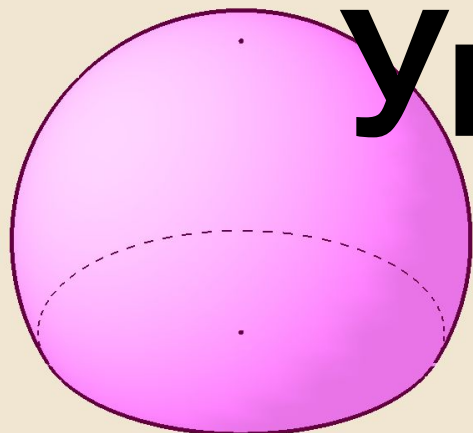


Урок № 1

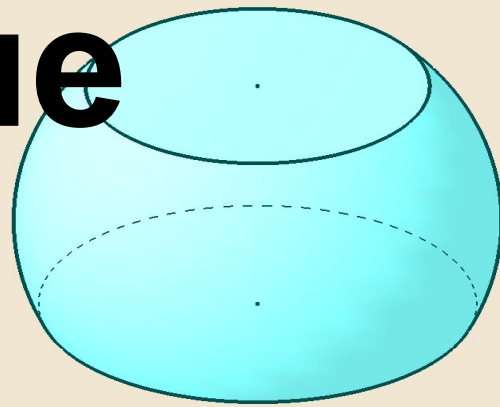
1 класс

второе
полугодие

УМК «Начальная школа XXI века»



**Увеличение
числа на**




несколько единиц

*Учитель начальных классов
ГБОУ Школа №1222 имени маршала И.Х.
Баграмяна г. Москвы
Луковкина Татьяна Сергеевна*

Считаем устно с Колобком

Путешествуй со мной и
узнаешь, где я сегодня
побывал



11



12



13



Сколько бабочек я поймал на поляне?





$$7+6$$

12

11

13



Сколько ёлочек
увидел на поляне?






14


9

1


В речке плавало 5 ершей, а карасей на 4 больше. Сколько карасей плавало в реке?



Утром я собрал 5 кг малины, 3 кг черники и 1 кг земляники. Сколько всего кг ягод я собрал?





8 кг



4 кг



9 кг



17



17

5



На первом стеллаже стояло 11 книг, а на втором 6. На сколько больше книг стояло на первом стеллаже, чем на втором?




Сколько надрезов надо
сделать, чтобы распилить
бревно на 4 части?

3

4

5



Работа по учебнику

стр. 100




1.

В группе детского сада 4 мальчика, а девочек на две больше. Сколько девочек в группе?



Объясни, почему выполнено сложение.



$$4 + 2 = 6$$

Работа по учебнику

стр. 100



1. В террариуме 8 ужей, а черепах на 3 больше. Сколько черепах в террариуме? **1**

1

3. В шахматном турнире Коля набрал 5 очков, а Серёжа на 3 очка больше.

13

Сколько очков набрали оба мальчика? Сколько очков набрал Серёжа? **8**

На какой из этих вопросов легче ответить и почему?

Работа в тетради стр. 67

1.

Увеличь на 6 каждое из чисел и запиши результат.

2	4	5	7	9	0
8	10	11	13	15	6

2.

Под мухомором от дождя спряталось на две мышки больше, чем белым грибом. Сколько мышек под мухомором?




Решение:

$$3 + 2 = 5 \text{ (мыш.)}$$

Ответ: 5 мышек.

Работа в тетради стр. 68

3. Найди высоту стакана.



Решение:

$$7 + 6 = 13 \text{ (см)}$$

Ответ: **13 см.**

На 6 см выше

4. Какое из чисел на 5 больше числа 7?

10

11

12

13

Работа в тетради стр. 68



5. Если 9 увеличить на 6, то получится число ...
- 12 15 14 11

6. Начерти отрезок, длина которого на 4 см больше длины данного отрезка. $5 + 4 = 9$ (см)



Работа в тетради стр. 68

ВСПОМИНАЕМ ПРОЙДЕННОЕ

7.

В воскресенье с участка собрали 5 мешков картофеля, а в понедельник — 7 мешков.
На сколько больше мешков картофеля собрали в понедельник?



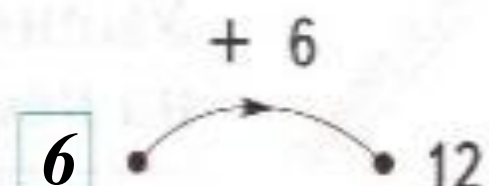
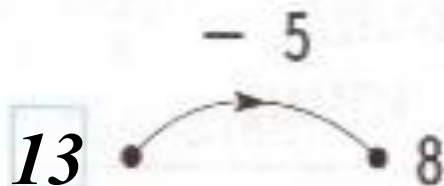
Решение:

$$7 - 5 = 2 \text{ (меш.)}$$

Ответ: на 2 мешка.

Работа в тетради стр. 69

8. Угадай числа, которые ввели в «машины».



9. Запиши ответы.

$6 + 4 = 10$

$11 - 5 = 6$

$8 + 6 = 14$

$7 - 5 = 2$

$3 + 9 = 12$

$10 - 3 = 7$

$11 - 3 = 8$

$8 + 3 = 11$

$12 - 5 = 7$

$8 + 5 = 13$

$14 - 6 = 8$

$7 + 4 = 11$

$15 + 0 = 15$

$10 - 4 = 6$

$9 + 6 = 15$

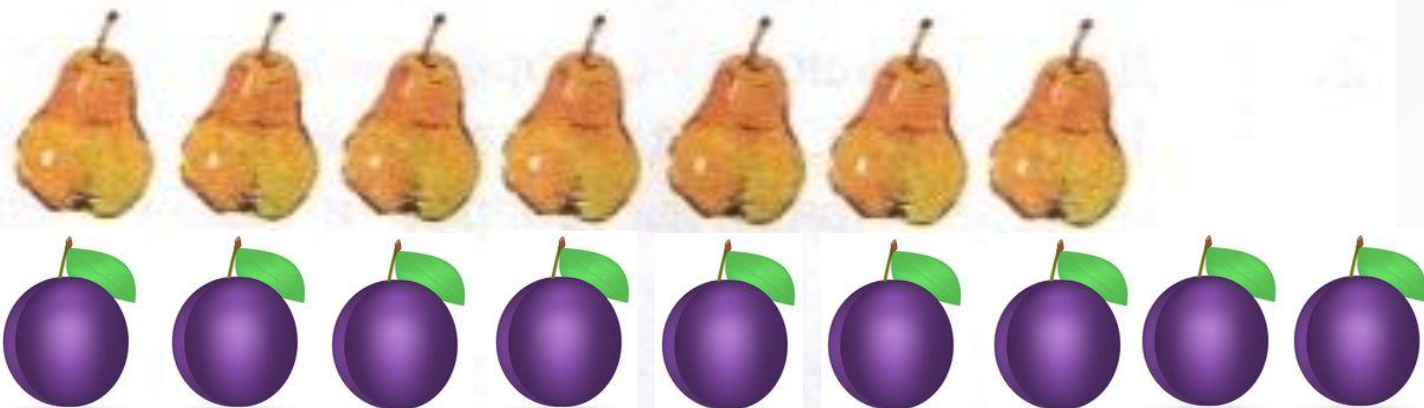
Работа в тетради

стр. 69



10.

Нарисуй столько слив, чтобы их было на две больше, чем груш.

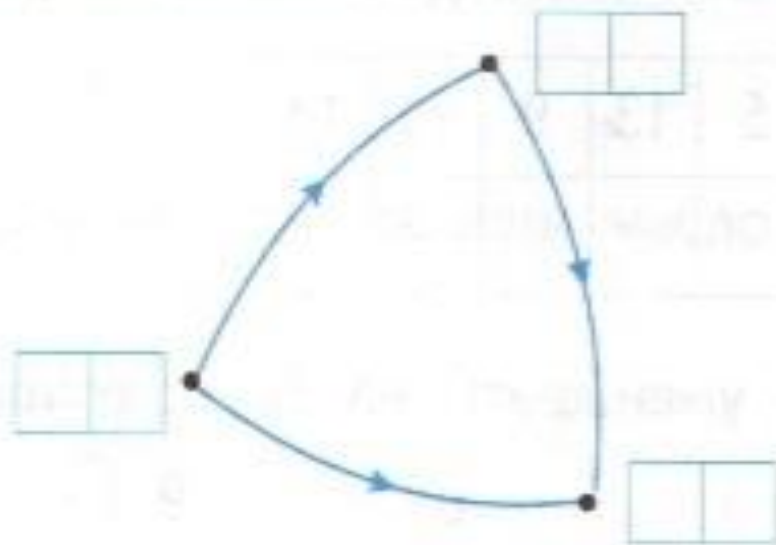


$$7+2=9 \text{ (сл.)}$$

Самоподготовка в тетради стр. 69



11. * Синяя стрелка заменяет слово «меньше».
Подбери и напиши около точек такие числа, чтобы все высказывания о числах были верными.



Рефлексия урока



1

У меня всё
получилось!



2

Не всё получилось,
но я старался.



3

Не старался,
Много не получилось



**На уроке используется материал
учебных пособий УМК «Начальная школа XXI века»**

**В.Н. Рудницкая Математика, 1 класс, учебник для учащихся
общеобразовательных учреждений в 2 ч. Москва
Издательский Центр «Вентана – Граф», 2015 г. ; часть вторая
стр. 100**

**Печатная тетрадь Н.В. Рудницкая «Математика.1 класс. № 3»,
Издание: 4-е изд., перераб. - М.: Вентана - Граф, 2015; с. 67-69**

Интернет-ресурсы для создания презентации



Шаблон - учителя математики Чулановой Т.Ю.

http://tatyachulan.ucoz.ru/load/shablony_prezentacij_k_urokam_matematiki/1-1-0-1

Автор устного счёта
«Путешествуем с Колобком»
(слайды 2-8)



Ковтун Алла Александровна учитель начальных классов МОУ СОШ №3 г. Талдома

<http://pedsovet.su/load/240-1-0-13646>

http://www.kyshtovgrad.ru/sites/default/files/u1975/moe_nastroenie.png - рефлексия урока

<http://www.cliparthut.com/clip-arts/1597/prune-fruit-vector-clipart-and-illustrations-1597986.jpg>

- картинка сливы