

Викторина по математике



У Сергея Ивановича 5
дочерей, и у каждой
из них есть брат.
Сколько детей у
Сергея Ивановича?



На веревке завязали
6 узлов. На сколько
частей эти узлы
разделили веревку?



Иван Петрович – отец
Нины Ивановны, а
Толя – сын Нины
Ивановны Кем Толя
приходится Ивану
Петровичу?




По улице идут два
сына и два отца.
Сколько всего
человек идут по
улице?



Решите анаграммы:







ААЛТЕРК
ДМОНЧЕА
ШКААЧ



ЗАПОЛНИ МАГИЧЕСКИЙ КВАДРАТ

		11
	8	
5		9

ДОРИСУЙ НУЖНУЮ ФИГУРУ:



- Сколько пальчиков у четырех мальчиков?
- Сколько ушей у пяти малышей?
- Сколько ушек у трех старушек?
- Сколько носов у двух псов?



Расшифруйте героя сказки

л	$180 : 2$
---	-----------

в	$350 : 2$
---	-----------

ь	$72 - 26$
---	-----------

и	$420 : 60$
---	------------

а	$46 : 23$
---	-----------

м	$540 : 90$
---	------------



н	$400 : 8$
---	-----------



6	2	90	46	700	7	50	2

Расставьте числа от 1 до 16 так, чтобы сумма чисел на стороне квадрата составляла 34. сумма на вершинах каждого квадрата тоже должна быть 34

