


Внеклассное занятие





**Там на неведомых
дорожках
Следы невиданных зверей,
Избушка там на курьих
ножках
Стоит без окон, без дверей.**



В гостях у

сказки

Математическое царство





Разложите карточки

лесного

лото в порядке

уменьшения

7
0

10

2

8

5
щ

6

4

3
е

1
й

9
к

Василису Прекрасную послал



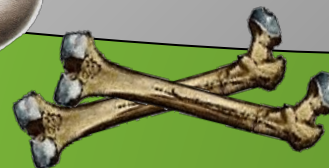


1	2	3	4	5	6	7	8	9	10
---	---	---	---	---	---	---	---	---	----





**Верная дорога
та,
где ответ не
самый большой
и не самый
маленький**





$$9 - 3 = 6$$

$$6 + 2 = 8$$

$$7 + 3 = 10$$


$$8 < 10$$



Запишите состав чисел



6, 7, 8.





Задачка №1 от Бабки-

Ёжки

Пять веселых
медвежат

За малиной в лес
спешат.

Испугался вдруг один,
Убежал и след
простыл.

$5 - 1 = 4$

Сколько смелых
медвежат

За малиной в лес
спешат?



Задачка №2

от Бабки-

Три зайчонка,
Два бельчонка

Ежки

Ходят вместе
В детский сад.

Подсчитать прошу,
Сколько малышей в
саду?

$$3 + 2 = 5$$





ЗМЯ ГОРЫНЫЧ

Раскрасить примеры первому ряду

- с ответом 5, второму – 6, третьему - 7

$$2 + 3$$

$$7 - 1$$

$$6 + 1$$

$$8 - 1$$

$$6 - 1$$

$$4 + 2$$

$$3 + 3$$

$$5 + 2$$

$$7 - 2$$



Спасибо
за

помощь!





Все

МОЛОДЦЫ!