



Вспомним все
И даже больше



Подготовила: Лейн Ирина
13 школа 3 «в» класс





Освежаем свои знания

Сейчас мы с вами вспомним то, что изучали раньше. А может и узнаем что то новое.

Флаг Российской Федерации изображен на рисунке:



(А)



(Б)



(В)



(Г)



(Д)

В



Космический корабль, на котором Юрий Гагарин облетел вокруг Земли назывался:

- (А) «Прогресс»; (Б) «Восход»; (В) «Восток»;
(Г) «Союз»; (Д) «Меркурий».



В





Какое море не существует?

- (А) Белое; (Б) Черное; (В) Красное;
(Г) Синее; (Д) Желтое.

(Г) **Синее** – поэтический образ, а на карте мира такого моря не существует.





Какое время года изображено на картине А.К. Саврасова «Грачи прилетели»?



- (А) ранняя осень;*
- (Б) поздняя осень;*
- (В) зима;*
- (Г) ранняя весна;*
- (Д) поздняя весна.*

(Г) Ранняя весна

Почему вы так решили?



Это дерево сбрасывает на зиму
Иголки:

- (А) ель;
- (Б) пихта;
- (В) лиственница;
- (Г) сосна;
- (Д) кедр.

(В) Хвоя лиственницы мягкая, нежная, 1-5 см длиной. Лиственница отличается от остальных хвойных деревьев тем, что каждую осень полностью сбрасывает хвою, как листву – отсюда и название дерева. Перед опадением хвоя желтеет.





Первое прирученное человеком животное:

(А)

(Б)

(В)

(Г)

(Д)



(Б) Первым спутником человека стал волк, прирученный уже в каменном веке 15 тысяч лет назад. Поначалу они служили помощниками при охоте, а позже стали сторожить жилище человека. В настоящее время существует более 300 пород собак.



Найди побег липы:



(А)



(Б)



(В)



(Г)



(Д)

На рисунках изображены побеги:

(А) - дуба; (Б) - рябины; (В) - клена; (Г) - липы; (Д) - ели.



Дюймовочка, героиня сказки Г.Х. Андерсена, некоторое время гостила под землей у Крота, который старательно запасал зерно на зиму. А чем обычно питается настоящий крот?

*(А) зерном; (Б) корнеплодами; (В) мухами;
(Г) дождевыми червями; (Д) корой.*

(В) и (Г)- В сказках особенности животных не всегда соответствуют действительности. На самом деле кроты насекомоядные. Они питаются мелкими почвенными животными, которых им удается найти в своих длинных норах.





Какого животного не встретишь в тундре?



(А)



(Б)



(В)



(Г)



(Д)

(Г) Пингвины обитают на островах и морских побережьях южного полушария.



Сколько раз наша планета за 2 недели
обернется вокруг своей оси?



(А) 7; (Б) 10; (В) 12; (Г) 14; (Д) 28.

(Г) - Земле требуются звёздные сутки (23 часа 56 минут и 4 секунды), чтобы совершить один оборот вокруг своей оси. Одна неделя – это 7 суток и, следовательно - 7 оборотов вокруг оси. За две недели - 14 оборотов.



Крупнейшая страна в мире по занимаемой площади:

(А) Россия; (Б) Канада; (В) Бразилия;
(Г) Китай; (Д) США.

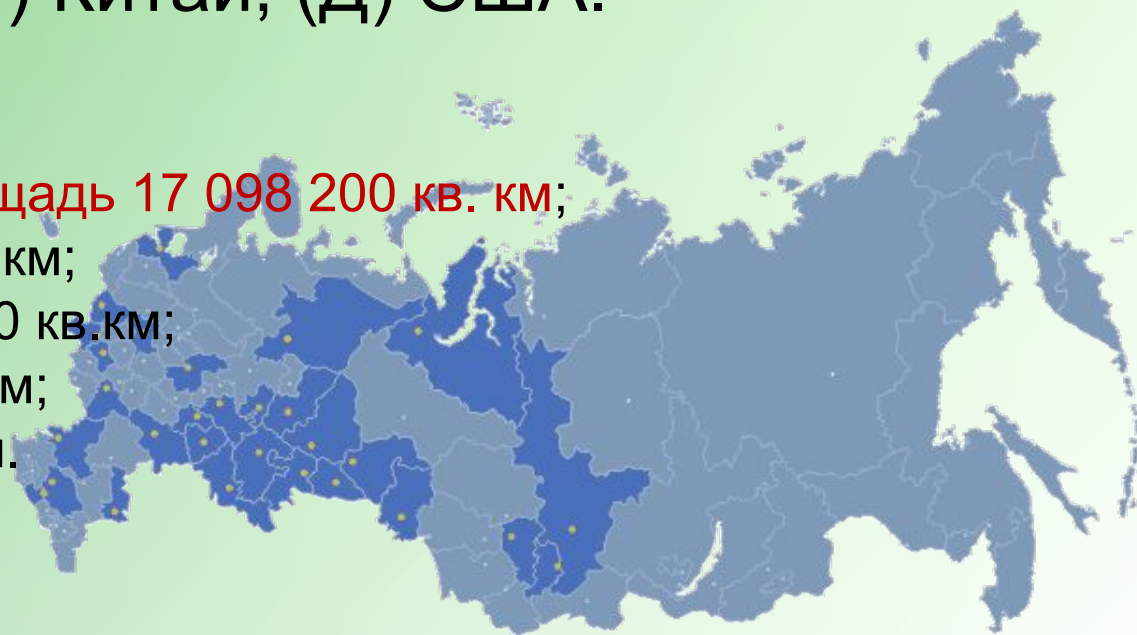
(А) Россия занимает площадь 17 098 200 кв. км;

(Б) Канада - 9 976 140 кв.км;

(В) Бразилия - 8 511 970 кв.км;

(Г) Китай - 9 596 960 кв.км;

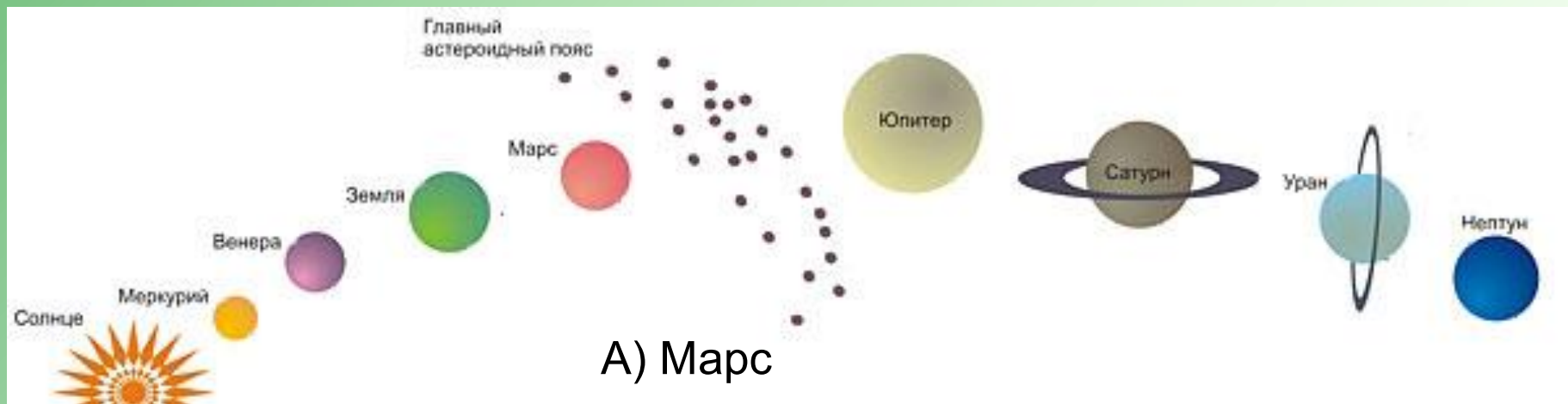
(Д) США - 9 372 610 кв.км.





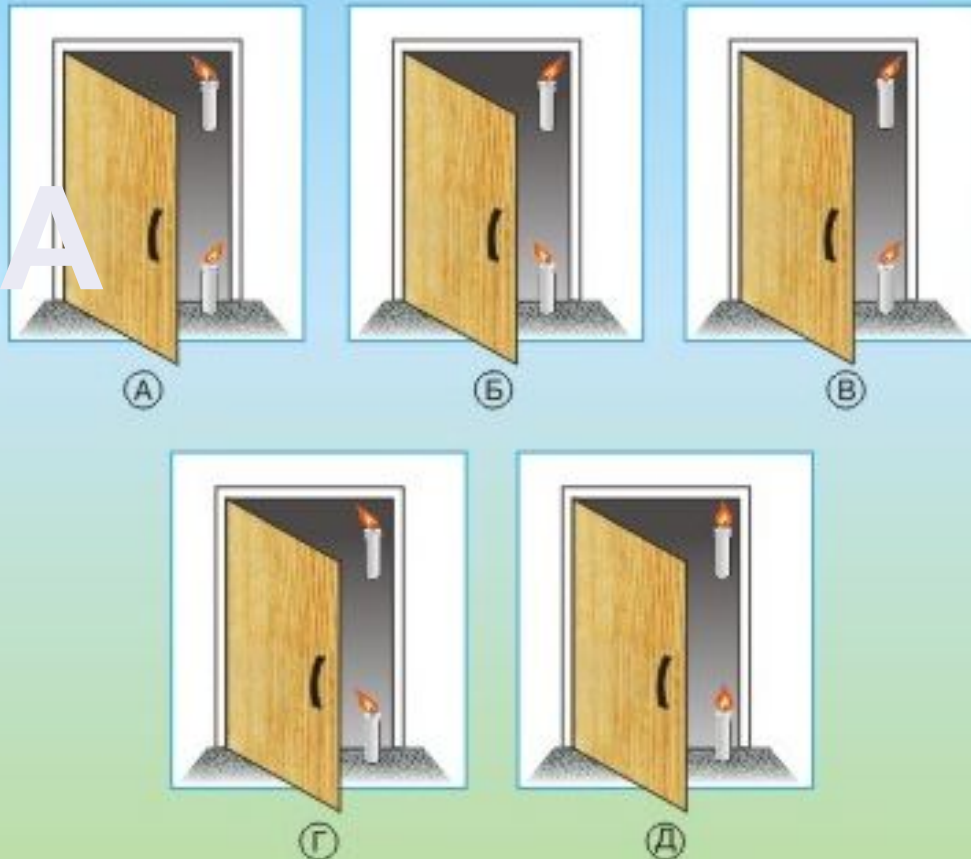
Какая из планет солнечной системы находится от Солнца дальше, чем Земля, но ближе, чем Юпитер?

(А) Марс; (Б) Уран; (В) Сатурн;
(Г) Венера; (Д) Плутон.





На смекалку



Теплый воздух имеет особенность подниматься вверх, а холодный имеет особенность опускаться вниз. А стала бы ворвавшийся снизу холодный воздух вытеснять теплый, находящийся выше него. Тогда пламя свечей, установленное соответственно движению масс воздуха, то есть входящий снизу холодный воздух отклонит пламя внутрь помещения, а выходящий сверху – наружу.

**В морозный день
к приоткрытой
входной двери
поднести
горящие свечи.
Как установится
пламя свечей,
если дверь
открывается во
внутрь
помещения?**



Спасибо за внимание!

