

1 класс

второе
полугодие

УМК «Начальная школа XXI века»

2+2=4

Вычитание чисел 7, 8, 9. Решение задач

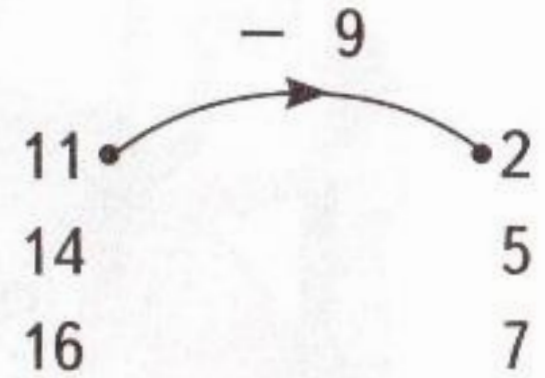
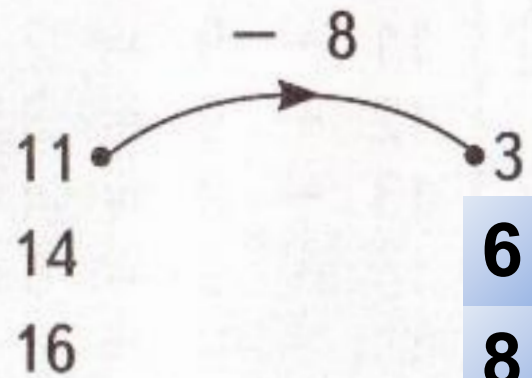
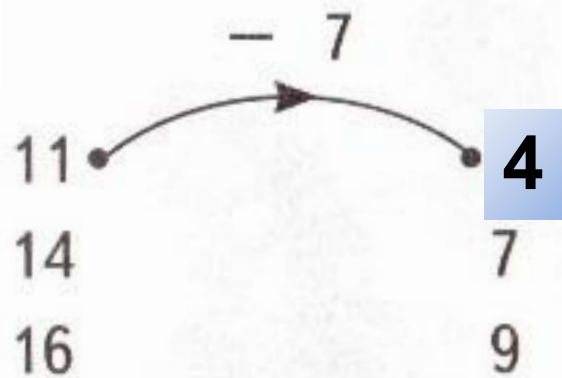


*Учитель начальных классов
ГБОУ Школа №1222 имени маршала И.Х.Баграмяна г. Москвы
Луковкина Татьяна Сергеевна*

Работа по учебнику


стр. 121

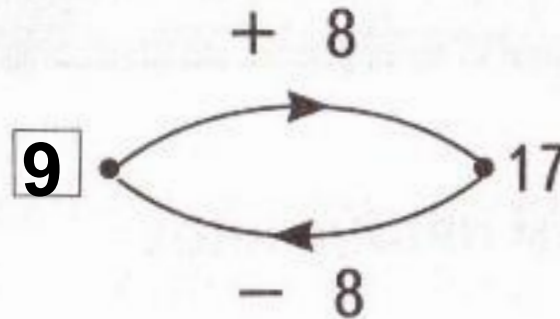
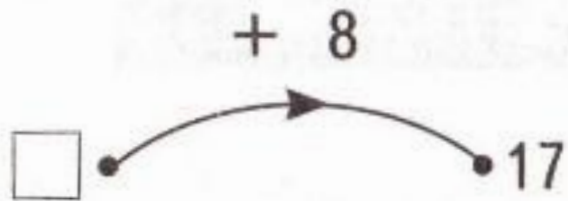
29. Проверь работу каждой «машины». Какая из них неисправна? Исправь ошибки.



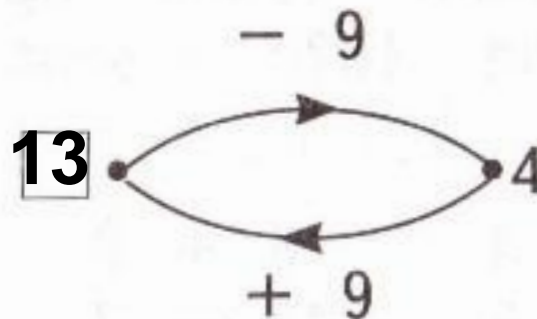
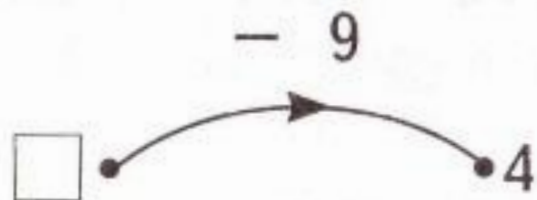
Работа по учебнику

стр. 121

30.  Рассмотрите, как можно вычислить число, которое ввели в «машину».



Решение:
 $17 - 8 = 9.$
Проверка:
 $9 + 8 = 17.$
Ответ: 9.



Решение:
 $4 + 9 = 13.$
Проверка:
 $13 - 9 = 4.$
Ответ: 13.

Работа по учебнику стр. 121

31. Вычисли число, которое ввели в «машину».

$$12 \xrightarrow{-7} 5$$

$$6 \xrightarrow{+9} 15$$

$$10 \xrightarrow{-8} 2$$

$$4 \xrightarrow{+7} 11$$



Работа в тетради стр. 77

4. Запиши результаты действий.

$8 + 9 = 17$

$14 - 7 = 7$

$17 - 9 = 8$

$7 + 7 = 14$

$7 + 8 = 15$

$12 - 8 = 4$

$15 - 8 = 7$

$4 + 8 = 12$

5. В магазине на полке стояло 12 пар туфель и 8 пар сапог. На сколько пар сапог меньше, чем туфель?

Решение:

$12 - 8 = 4 \text{ (пары)}$

Ответ: на 4 пары меньше.

6. В коровнике 17 стойл, в каждом — одно животное. В стойлах размещены 9 бычков и несколько коров. Сколько стойл с коровами?

Решение:

$$17 - 9 = 8 \text{ (ст.)}$$

Ответ: **8 стойл с коровами.**

7. На столе было 15 тетрадей. Учительница раздала детям 8 тетрадей. Сколько тетрадей осталось на столе?

9 8 7 6

Измени текст задачи: замени число 15 числом 13, а число 8 — числом 7. Реши задачу с новыми числами.

Ответ: **13 - 7 = 6**

Работа по учебнику стр. 123

33. Составь и реши задачу.



4 на 7 больше

$$4 + 7 = 11 \text{ (пингв.)}$$

Ответ: на второй льдине 11 пингвинов.



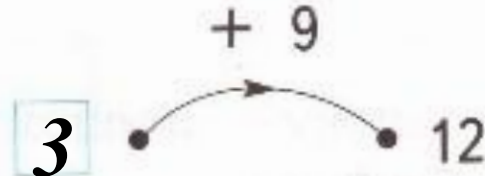
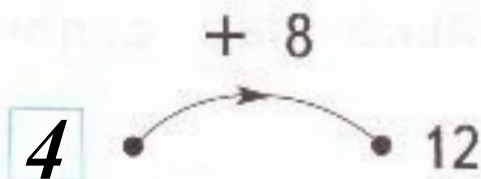
Работа в тетради стр. 78

8. На сколько сантиметров красный отрезок короче синего?




Ответ: на см

9. Угадай и запиши числа, введённые в «машину».



Работа в тетради стр. 78

10. В автомобиле едут 6 девочек и мальчики. Мальчиков на 2 больше, чем девочек. Сколько детей в автомобиле?



Девочек - 6
Мальчиков - ?, на 2 > } ? дет.

Решение:

- 1) $6 + 2 = 8$ (мал.)
- 2) $6 + 8 = 14$ (дет.)

Ответ: 14 детей.

Рефлексия урока



1

У меня всё
получилось!



2

Не всё получилось,
но я старался.



3

Не старался,
Многое не получилось.

На уроке используется материал учебных пособий УМК «Начальная школа XXI века»

В.Н. Рудницкая Математика, 1 класс, учебник для учащихся общеобразовательных учреждений в 2 ч. Москва Издательский Центр «Вентана – Граф», 2015 г. ; часть вторая стр. 121, 123.

**Печатная тетрадь Н.В. Рудницкая «Математика.1 класс. № 3»,
Издание: 4-е изд., перераб. - М.: Вентана - Граф, 2015; с. 77-78.**



Интернет-ресурсы:

Автор шаблона

Зинаида Васильевна Александрова

<http://www.proshkolu.ru/user/AidaAlex/folder/294205>

http://www.kyshtovgrad.ru/sites/default/files/u1975/moe_nastroenie.png - рефлексия урока

