



1 класс
второе
полугодие

УМК «Начальная школа XXI века»

Вычитание числа 5



Учитель начальных классов
ГБОУ Школа №1222 имени маршала И.Х.Баграмяна г. Москвы
Луковкина Татьяна Сергеевна

9 марта

Классная работа

5 5

5 5

5 5

5 5

5 5

5 5

- Сколько нужно вычесть из чисел 11, 12, 13, 14, 15 чтобы получить 10?

- Вычислите, используя приём

вычитания по частям:

$$14 - 5 = 9$$



$$13 - 5 = 8$$



$$12 - 5 = 7$$



$$11 - 5 = 6$$



Запомни таблицу сложения/вычитания числа 5

Запомни!



5	+	5	=	10	10	-	5	=	5
6	+	5	=	11	11	-	5	=	6
7	+	5	=	12	12	-	5	=	7
8	+	5	=	13	13	-	5	=	8
9	+	5	=	14	14	-	5	=	9



Учебник, стр. 72



Считаем устно

- Толя поймал в реке 12 раков, а Женя – 5. На сколько раков меньше поймал Женя, чем Толя? **7**
- Аня и Валя полили по 5 грядок. Дима полил 6 грядок. Сколько грядок полили дети? **16**
- Ластик дешевле карандаша на 4 рубля. Карандаш стоит 5 рублей. Какова цена ластика? **1 руб.**



Соедините примеры с ответами

• $12-5$ → 12

• $9+5$ → 13

• $3+8$ → 14

• $14-5$ → 9

• $12-4$ → 7


• $5+7$ → 8

• $8+5$ → 1

1




Работа в тетради стр. 49

6.  В коробке десяток яиц. Сколько яиц надо взять из коробки, чтобы там осталось 5 штук?

Решение:

$$10 - 5 = 5 \text{ (яиц)}$$

Ответ: 5 яиц надо взять.



7. Выполни вычитание.

$$10 - 4 = 6$$

$$10 - 2 = 8$$

$$10 - 1 = 9$$

$$10 - 3 = 7$$



Работа в тетради стр. 50

8.

Запиши результаты работы «машины».

Вариант 1

$- 5$

12

10

13

Вариант 2

$- 5$

11

14

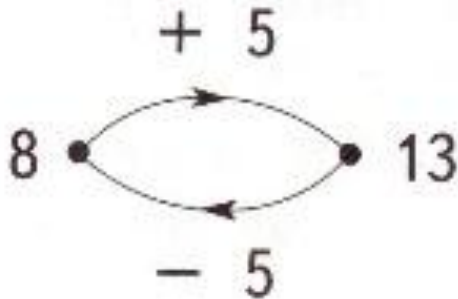
9



Работа в тетради стр. 50

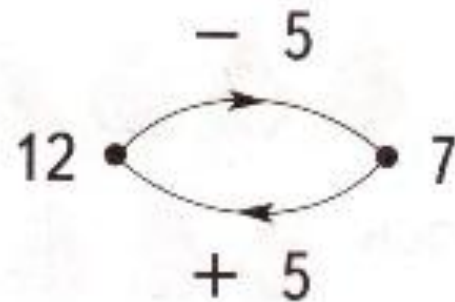
9.

Сделай записи.



$$\boxed{8} + \boxed{5} = \boxed{13}$$

$$\boxed{13} - \boxed{5} = \boxed{8}$$



$$\boxed{12} - \boxed{5} = \boxed{7}$$

$$\boxed{7} + \boxed{5} = \boxed{12}$$



10. Угадай числа, которые ввели в «машины». Запиши числа в «окошки».

$$\boxed{13} - 5 = 8$$

$$\boxed{6} + 5 = 11$$

11. Составь задачу и реши её.



Решение:

$$\boxed{12} - 5 = 8 \text{ (св.)}$$

Ответ: $\boxed{8}$ свечей.



Работа по учебнику стр. 70 с записью в рабочую тетрадь

11. Выполни вычитание.

$7 - 5$

$9 - 5$

$5 - 5$

$8 - 5$

$6 - 5$

$10 - 5$

14. Выполни вычитание.

$13 - 5$

$14 - 5$

$10 - 5$

$11 - 5$



9 марта
Классная работа

5 5

5 5

5 5

5 5

5 5

5 5

$$7 - 5 = 2$$

$$9 - 5 = 4$$

$$5 - 5 = 0$$

$$8 - 5 = 3$$

$$6 - 5 = 1$$

$$10 - 5 = 5$$

$$13 - 5 = 8$$

$$11 - 5 = 6$$

$$14 - 5 = 9$$

Задания для самоподготовки в тетради стр. 52

17. Подчеркни все буквы «р» в этом стихотворении.

* * *

Люблю грозу в начале мая,
Когда весенний первый гром,
Как бы резвяся и играя,
Грохочет в небе голубом.
Гремят раскаты молодые,
Вот дождик брызнул, пыль летит,
Повисли перлы дождевые,
И солнце нити золотит.



Ф.И. Тютчев

Сколько букв подчёркнуто?

18. Проведи стрелку от каждого человека к названию его профессии.



Почтальон



Пограничник



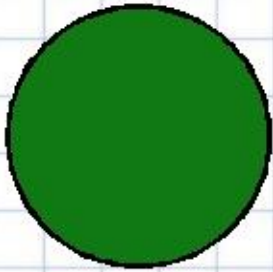
Водитель




Доярка




Рефлексия



**Мне все понятно.
Я молодец!**



**У меня не всё
получилось, но я
старался!**



**Мне надо быть
внимательнее!**



Автор шаблона:

Кардаева Надежда Александровна,

учитель начальных классов

МОУ «Чемальская СОШ»

с. Чемала Республики Алтай

http://easyen.ru/load/shablony_prezentacij/matematika_algebra_geometrija/shablony_prezentacij_po_matematike/517-1-0-22705



Используемые источники для оформления шаблона:

- <http://s4.pic4you.ru/y2014/02-12/24687/4189028-thumb.png> цифры
- http://img-fotki.yandex.ru/get/6813/16969765.240/0_91743_d3d51e7d_orig.png фон
- http://d1m6.meta.ua/pic/0/36/184/6lzHbX_Fxz.jpg шары
- <http://im3-tub-ru.yandex.net/i?id=05342d3a840feefba73823d54acf087d-132-144&n=21> кубики
- <http://im1-tub-ru.yandex.net/i?id=021c63e91959ce5378cdd9b9eab6f965-66-144&n=21> множитель
- <http://s2.pic4you.ru/allimage/y2013/04-19/24687/3391817-thumb.png> божья коровка



Используемые интернет-ресурсы для презентации

http://www.propartner.ru/uploads_img/prop_item/user-54848/230x200c/prop_products-54848-1439470139-1.jpg коробка яиц

http://img-fotki.yandex.ru/get/6615/16969765.ca/0_6bf4b_5bdfc8bb_orig.jpg - ЛИСТ В клетку

<http://fs00.infourok.ru/images/doc/231/66762/1/img10.jpg> - картинка рефлексии



На уроке используется материал
учебных пособий УМК «Начальная школа XXI века»

**В.Н. Рудницкая Математика, 1 класс, учебник для учащихся
общеобразовательных учреждений в 2 ч. Москва Издательский Центр
«Вентана – Граф», 2015 г. ; часть вторая стр. 70**

**Печатная тетрадь Н.В. Рудницкая «Математика.1 класс. № 3»,
Издание: 4-е изд., перераб. - М.: Вентана - Граф, 2015; с.49, 50**



