

1 класс

второе
полугодие

УМК «Начальная школа XXI века»

Вычитание числа 6

*Учитель начальных классов
ГБОУ Школа №1222 имени маршала И.Х.Баграмяна г. Москвы
Луковкина Татьяна Сергеевна*



Считаем устно

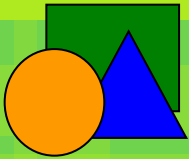
14

$$8+6$$

11

14

13



Считаем устно

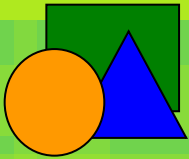
7

$$12 - 5$$

7

8

9



Считаем устно

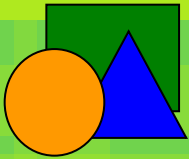
13

$$7+6$$

12

14

13



Считаем устно

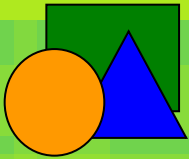
15

$$9+6$$

15

14

12



Считаем устно

12

$$7+5$$

12

11

13



Считаем устно

6

$$11-5$$

7

6

9

Закрепляем таблицу сложения 6


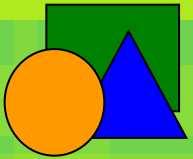
Запомни!

5	+	6	=	11
6	+	6	=	12
7	+	6	=	13
8	+	6	=	14
9	+	6	=	15



14 марта

Классная работа



14 марта

Классная работа

6 6

6 6

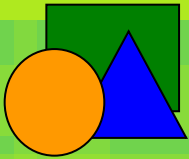
6 6

6 6

6 6

6 6

6 6



• Сколько нужно вычесть из

12, 16, 14, 19,

чтобы получить 10?

- Вычислите, используя приём вычитания по частям:

$$11 - 6 = 5$$

Diagram showing the decomposition of 6 into 1 and 5. A blue line connects the 6 to a red 1 on the left and a red 5 on the right.

$$13 - 6 = 7$$

Diagram showing the decomposition of 6 into 3 and 3. A blue line connects the 6 to a red 3 on the left and a red 3 on the right.

$$14 - 6 = 8$$


Diagram showing the decomposition of 6 into 4 and 2. A blue line connects the 6 to a red 4 on the left and a red 2 on the right.

$$15 - 6 = 9$$


Diagram showing the decomposition of 6 into 5 and 1. A blue line connects the 6 to a red 5 on the left and a red 1 on the right.

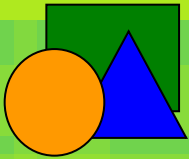
Работа по учебнику стр. 79

18. Кто какой пример решал?



9 - 6	12 - 6	15 - 6
10 - 6	14 - 6	11 - 6





Работа в тетради стр. 55

9. Выполни вычитание.

$13 - 3 = 10$

$10 - 2 = 8$

$11 - 1 = 10$

$10 - 3 = 7$

$14 - 4 = 10$

$10 - 4 = 6$

$12 - 2 = 10$

$10 - 5 = 5$

10. Запиши результаты действий.

$7 - 6 = 1$

$1 + 6 = 7$

$7 + 6 = 13$

$12 - 6 = 6$

$6 + 6 = 12$

$13 - 6 = 7$

$15 - 6 = 9$

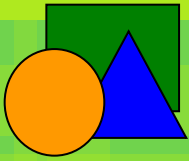
$9 + 6 = 15$

$8 + 6 = 14$

$11 - 6 = 5$

$5 + 6 = 11$

$14 - 6 = 8$



Работа в тетради стр. 55

11. У Юры было 13 открыток. Несколько открыток он подарил Юле, и у него осталось 6 открыток. Сколько открыток получила Юля?

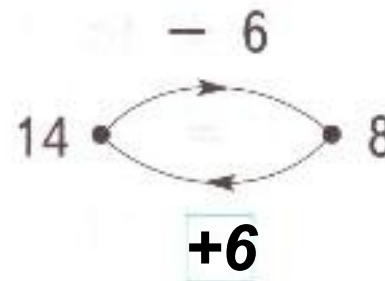
Решение:

$$13 - 6 = 7 \text{ (откр.)}$$

Ответ: 7 открыток.

Работа в тетради стр. 56

13. Запиши, как работает вторая «машина» в парах.





Работа по учебнику стр. 79 с записью в рабочую тетрадь

20.

Выполни вычисления. Поясни решение выделенных примеров.

$$8 + 6$$

$$6 + 5$$

$$11 - 3$$

$$7 + 6$$

$$14 - 4$$

$$13 - 6$$

$$7 + 4$$

$$9 + 6$$

14 марта

Классная работа

6 6

6 6

6 6

6 6

6 6

6 6

6 6

$$8 + 6 = 14$$

$$6 + 5 = 11$$

$$11 - 3 = 8$$

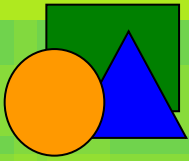
$$14 - 4 = 10$$

$$13 - 6 = 7$$

$$7 + 4 = 11$$

$$7 + 6 = 13$$

$$9 + 6 = 15$$



Решите устно задачи

9

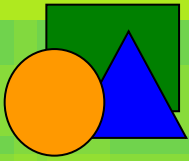
- У Ани было 15 фотографий. Она наклеила в альбом 6 фотографий. Сколько фотографий осталось у Ани?

7

- Из бочки взяли 6 вёдер воды. Сколько вёдер воды осталось в бочке, если в ней было 13 вёдер воды?

5

- В комнате было 6 стульев. Принесли ещё несколько стульев, и в комнате стало 11 стульев. Сколько стульев принесли?



8

- **Длина ручки 14 см. Карандаш на 6 см короче ручки. Какова его длина?**
- **Начертите в тетради отрезок, равный длине карандаша.**

14 марта

Классная работа

6 6

6 6

6 6

6 6

6 6

6 6

6 6

$$8 + 6 = 14$$

$$6 + 5 = 11$$

$$11 - 3 = 8$$

$$14 - 4 = 10$$

$$13 - 6 = 7$$

$$7 + 4 = 11$$

$$7 + 6 = 13$$

$$9 + 6 = 15$$

8 см



Работа по учебнику стр. 79

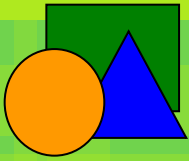
19. Составь и реши две задачи.



$$13 - 6$$



$$6 + 1$$



Задание для самоподготовки

- **Выучить таблицу вычитания числа 6 в учебнике на стр. 80**

Рефлексия урока



1

У меня всё
получилось!



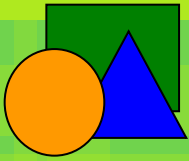
2

Не всё получилось,
но я старался.



3

Не старался,
Многое не получилось.



На уроке используется материал учебных пособий УМК «Начальная школа XXI века»

В.Н. Рудницкая Математика, 1 класс, учебник для учащихся общеобразовательных учреждений в 2 ч. Москва Издательский Центр «Вентана – Граф», 2015 г. ; часть вторая стр. 78-80.

**Печатная тетрадь Н.В. Рудницкая «Математика.1 класс. № 3»,
Издание: 4-е изд., перераб. - М.: Вентана - Граф, 2015; с. 55.**

Интернет-ресурсы:

Автор тренажёра «Учимся писать цифры» (слайд10)

Терпугова Наталья Валентиновна

МОУ Воробьёвская СОШ, Воронежская область

Портал готовых презентаций

<http://presentacii.com/detskie/6724-uchimsya-pisat-cifry.html>

http://img-fotki.yandex.ru/get/6615/16969765.ca/0_6bf4b_5bdfc8bb_orig.jpg - лист

в клетку

http://www.kyshtovgrad.ru/sites/default/files/u1975/moe_nastroenie.png - рефлексия урока