



Путешествие в сказку «Колобок»

Кравченко Татьяна Ивановна
учитель начальных классов
ГБОУ ООШ села Большая Малышевка
Самарской области Кинельского района



Дерево целей




Что возьмём
на урок?



Герои сказки
«Колобок»
Пришли к нам
в гости на урок.

Каждый
задание принёс,
И приготовил
вам вопрос.



ЗАДАНИЕ ДЕДА

«Зарядка для ума»



$$2 + 7$$

$$- 8$$

$$+ 5$$

$$- 4$$

$$- 1$$


$$+ 6$$

$$- 3$$

$$= 4$$



ЗАДАНИЕ ЗАЙЧИКА



1. Что это за знаки?
Найди лишний.

<, Ъ, >

2. Поставь нужную
цифру.



4 > * (3, 2, 1...)

7 < * (8, 9, 10...)

ЗАДАНИЕ ВОЛКА

учебник стр. 10

1. Положи перед собой




На сколько
квадратов
больше, чем
треугольников?



ЗАДАНИЕ ВОЛКА

Как посчитали?

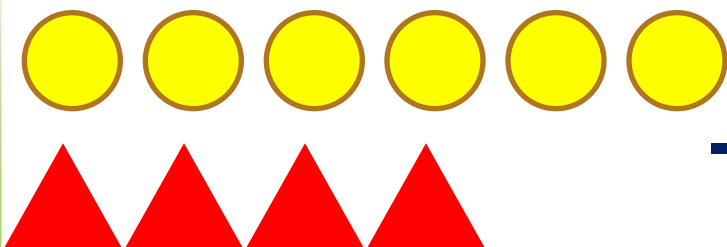


СРАВНИТЬ
из большего
вычесть
меньшее



ЗАДАНИЕ МЕДВЕДЯ

Учебник стр.10 №2



- на?

Решение

$$6 - 4 = \underline{\text{на}} 2 \text{ (б.)}$$

Ответ: на 2 билета

ФИЗМИНУТКА





ЗАДАНИЕ ЛИСИЧКИ - СЕСТРИЧКИ

Решишь задачу –
не буду тебя есть!





Бабка испекла 6 пирожков и 4 ватрушки.
Чего бабка испекла больше и на сколько?



условие
вопрос
решение
ответ



ЗАДАНИЕ ЛИСИЧКИ

Сравните выражения:

$$5 + 2 \nabla 9 - 3$$

$$3 + 3 \triangleleft 0 + 7$$

$$8 - 4 \triangleleft 2 + 3$$

! + ?





Закончи предложение по выбору

Сегодня на уроке я узнал...

Я справился самостоятельно...

Мне было сложно...

Мне понравилось...





**Спасибо,
ребята!
Вы, молодцы!**

ИЗДАТЕЛЬСТВО «МОСКВА»

ИСПОЛЬЗОВАННЫЕ МАТЕРИАЛЫ:

- «Математика 1 класс» (2 часть) М.И. Моро, С.И. Волкова, С.В. Степанова, УМК «Школа России»
- картинки www.yandex.ru

