


Задачи на увеличение (уменьшение) числа на несколько единиц



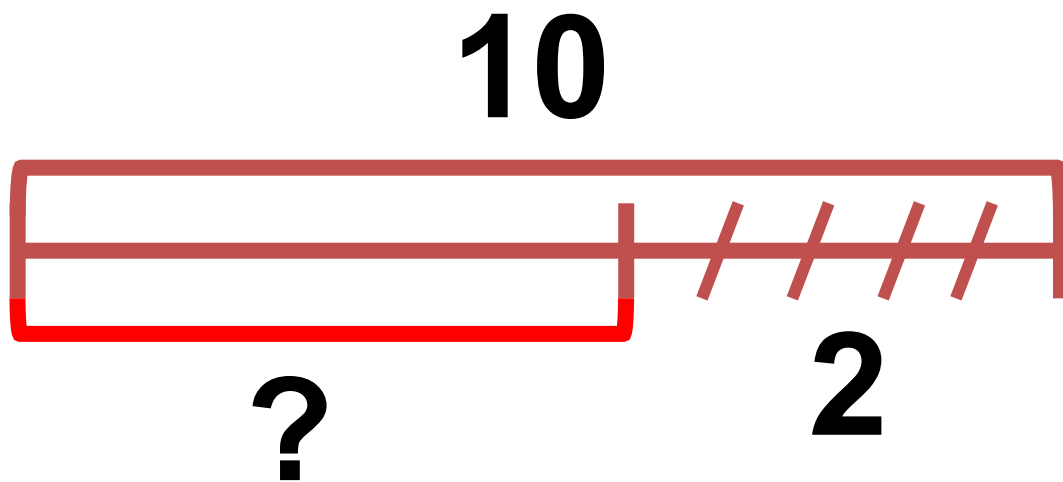
Составные части задачи



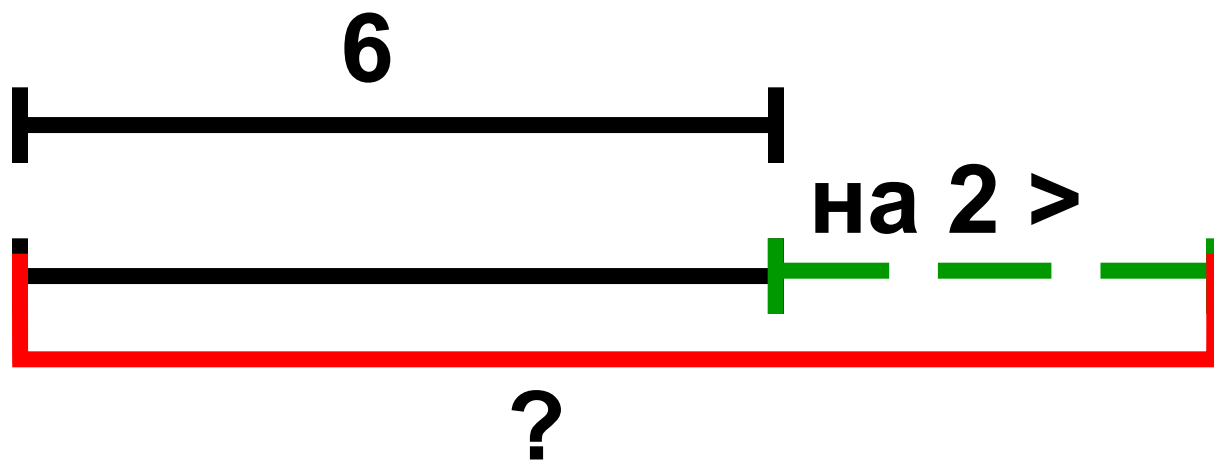
Составь по схеме задачу



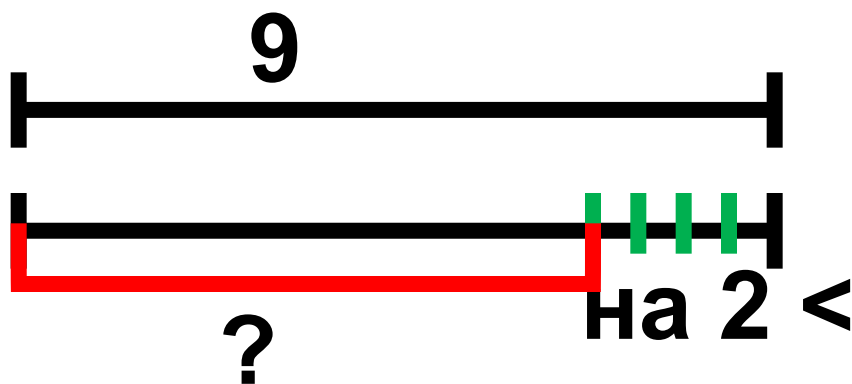
Составь по схеме задачу



Составь по схеме задачу



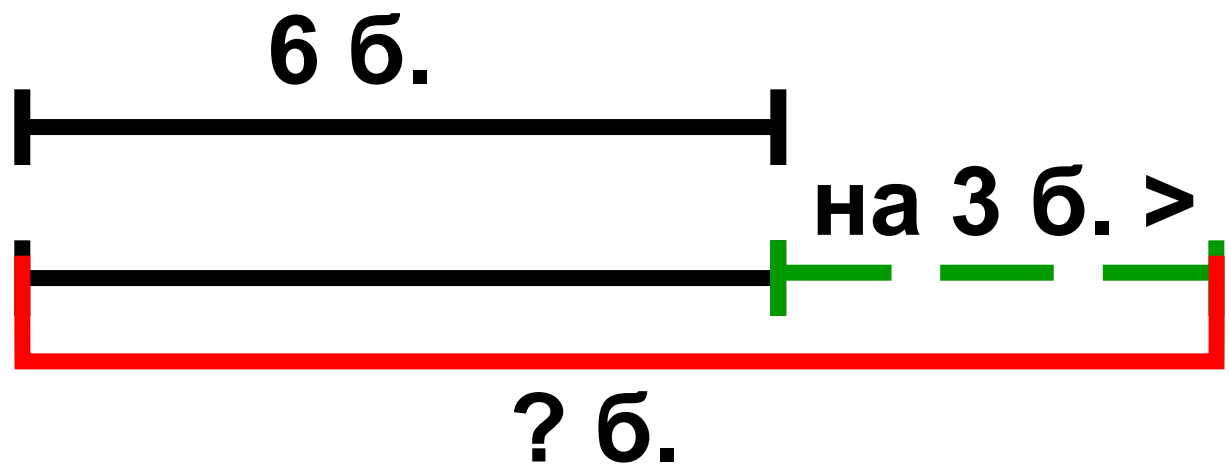
Составь по схеме задачу



Работа в тетрадочке



На первой тарелке 6 булочек, а на второй – на 3 булочки больше. Сколько булочек на второй тарелке?



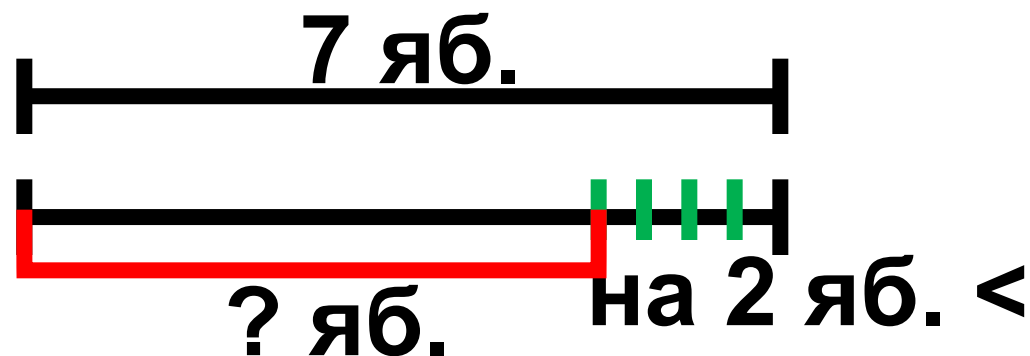
$6 + 3 = 9$ (б.)

Ответ: 9 булочек на 2 тарелке.

**Мы ногами топ-топ,
Мы руками хлоп-хлоп,
А потом прыг-скок
А потом вприсядку,
И опять вприсядку,
Побежим мы по дорожке
Раз, два, три!
И похлопаем в ладошки
Раз, два, три!
И покрутим головами
Раз, два, три!
Все танцуйте вместе с нами
Раз, два, три!**




В корзине было 7 красных яблок, а зелёных на 2 меньше. Сколько зелёных яблок было в корзине?




$$7 - 2 = 5 \text{ (яб.)}$$


Ответ: 5 зелёных яблок.



- Я умею сам



**- Я умею, но не
уверен**



- Нужна помощь

