


Задачи на увеличение (уменьшение) числа на несколько единиц



Составные части задачи



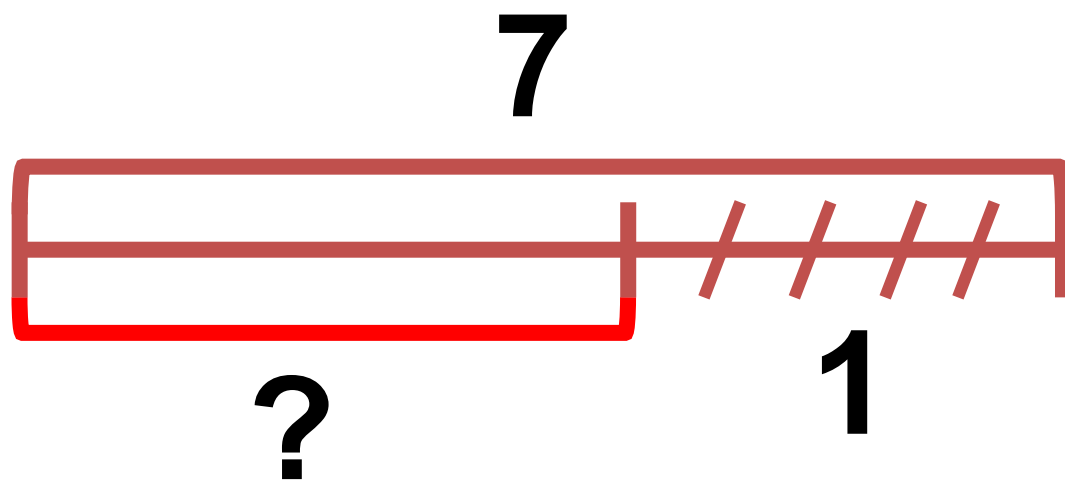
Составь по схеме задачу



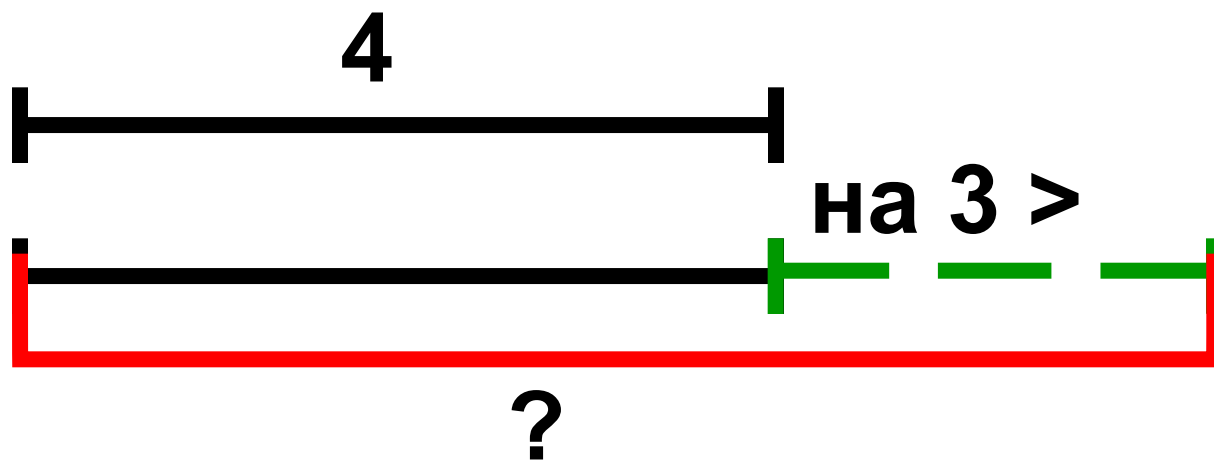
?



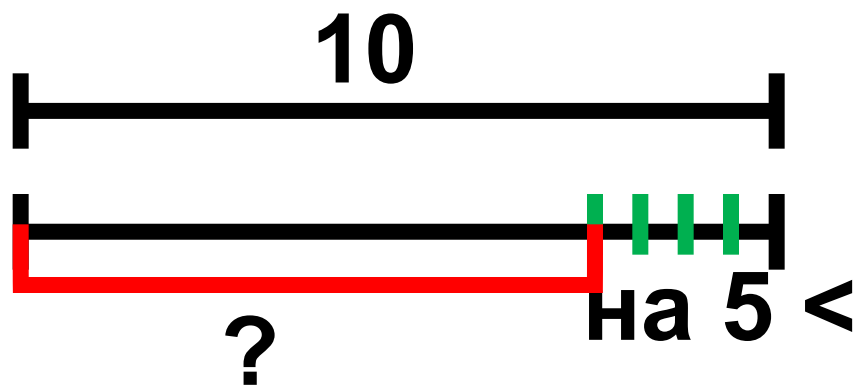
Составь по схеме задачу



Составь по схеме задачу








Составь по схеме задачу



Работа в тетрадочке







С. И. Волкова



Математика

Проверочные
работы



1

класс


ПРОСВЕЩЕНИЕ
ИЗДАТЕЛЬСТВО

Проверочная работа 2

Вариант 1


- 1 Соедини линией карточку, на которой записан пример, с той карточкой, на которой записан его ответ.

$3 + 1$ $6 - 2$ $4 + 3$ $5 + 2$ $8 - 3$ $9 + 1$

1 2 4 5 7 8 9 10

$5 - 3$ $7 - 3$ $6 + 2$ $4 - 3$ $2 + 3$ $6 + 3$

- 2 Измерь длину каждого отрезка и запиши ответы в окошках.



Проверочная работа 2

Вариант 2



- 1 Соедини линией карточку, на которой записан пример, с той карточкой, на которой записан его ответ.

$4 + 1$ $5 - 2$ $6 + 3$ $7 - 2$ $9 - 3$ $8 + 2$

3 4 5 6 8 9 10


$8 - 2$ $7 + 2$ $3 + 3$ $7 - 3$ $6 - 2$ $9 - 1$

- 2 Измерь длину каждого отрезка и запиши ответы в окошках.




- 1 На одной тарелке , а на другой — 2 яблока. Сколько яблок на двух тарелках?

Ответ:

- 2 У Димы было . Он отдал сестре 2 тетради. Сколько тетрадей осталось у Димы?

Ответ:

- 1 Оля нашла под одним деревом , а под другим — 2 гриба. Сколько всего грибов нашла Оля под этими деревьями?

Ответ:

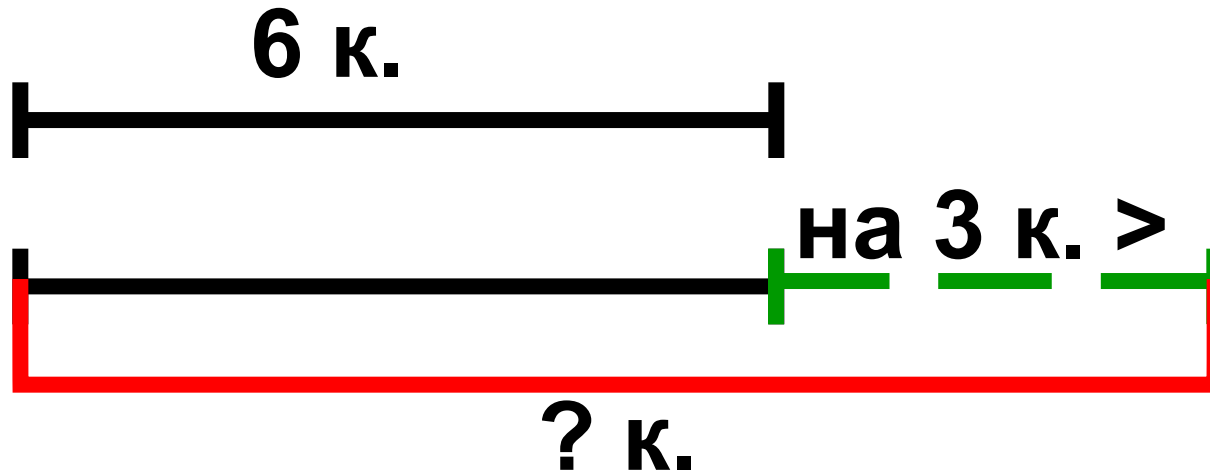
- 2 В вазе было . За обедом съели 3 груши. Сколько груш осталось?

Ответ:

**Мы ногами топ-топ,
Мы руками хлоп-хлоп,
А потом прыг-скок
А потом вприсядку,
И опять вприсядку,
Побежим мы по дорожке
Раз, два, три!
И похлопаем в ладошки
Раз, два, три!
И покрутим головами
Раз, два, три!
Все танцуйте вместе с нами
Раз, два, три!**



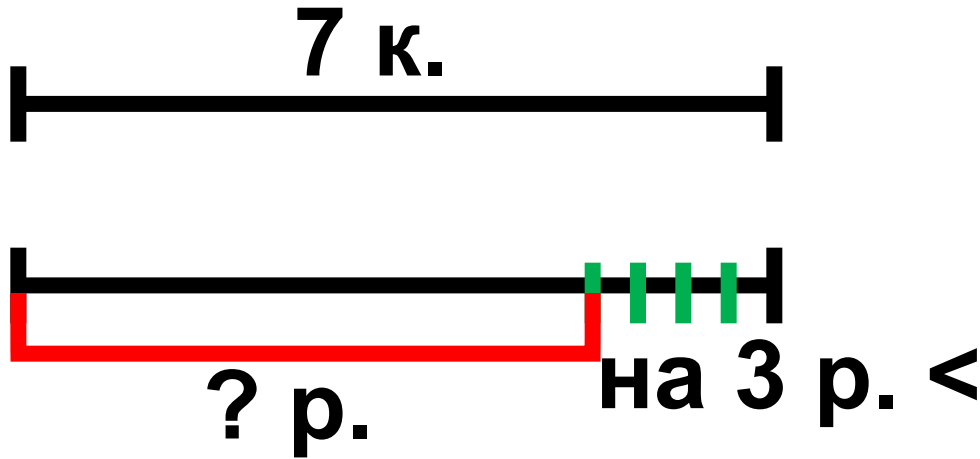
На первой полке стоит 6 книг, а на второй на 3 книги больше. Сколько книг на второй полке?



$$6 + 3 = 9 \text{ (к.)}$$


Ответ: 9 книг на второй полке.

В пенале 7 карандашей, а ручек на 3 меньше. Сколько ручек?




$$7 - 3 = 4 \text{ (р.)}$$


Ответ: 4 ручки.



- Я умею сам



**- Я умею, но не
уверен**



- Нужна помощь





М.И. Моро С.И. Волкова



Математика

Рабочая тетрадь



Blank writing area with horizontal lines.



Часть 1



1

ПРОСВЕЩЕНИЕ
ИЗДАТЕЛЬСТВО

ПРОСВЕЩЕНИЕ
ИЗДАТЕЛЬСТВО

● Найди две задачи. Обведи их номера. Реши каждую задачу.

1. В одном пенале 6 карандашей, а в другом — 2 карандаша. Сколько кисточек в двух пеналах?
2. В связке 5 красных шариков и 2 синих. Сколько всего красных и синих шариков в этой связке?
3. Брату 8 лет, а сестра старше брата. Сколько лет сестре?
4. В корзине было 10 мячей. Из корзины взяли 2 мяча. Сколько мячей осталось в корзине?
5. На большой льдине 6 пингвинов, а на маленькой — 2. Сколько пингвинов на большой льдине?

Grid for writing the answer to task 1.

Ответ:

Grid for writing the answer to task 2.

Ответ:

● Измерь и сравни длины звеньев каждой ломаной.



CM > CM



CM > CM