

МАТЕМАТИКА

– ум в порядок
приводит!

играть сегодня в

прятки.

дуть и рабль

мажным

ссе у р рок уж

важн




ПОДВЕДЁМ ИТОГИ!



Лазарева Лидия Андреевна, учитель начальных классов, Рижская основная школа «ПАРДАУГАВА», Рига, 2009


e-mail: lazareva@pdps.lv

ДОПІЛЬВІЄМ ДО БЕРЕГА!




ВСТАВИМ ЧИСЛА!

27



39

45



33

ЧТО ЗАШИФРОВАНО?

МОЛОДЦЫ!

+	12	17	16	13
14	26 _д		30 _м	
12		9 _о		2 _ц
11			27 _о	5
16	4 _о			

ЧИСЛОВЫЕ ВЫРАЖЕНИЯ

$$(15 - 7) + 2 = 10 \quad 15 - (7 + 2) = 6$$

$$(12 - 4) + 3 = 11 \quad 12 - (4 + 3) = 5$$





ЗАПИСИ СОСЕДЕЙ ЧИСЛА

44	4	
46	5	
31	0	
60	9	
71	0	
97	9	
99	8	



Сравни:

$$16 + 15 \dots 32$$

$$16 + 15 < 32$$

$$34 + 23 \dots 34 - 23$$

$$34 + 23 > 34 - 23$$



$16 + 5 = 21$

$69 - 7 = 62$

$68 - 15 = 53$

$19 + 3 = 22$

$51 - 4 = 47$

$94 - 37 = 57$

$21 + 25 = 45$

$80 - 5 = 75$

$46 + 14 = 60$

$34 + 12 = 46$

$78 - 9 = 69$

$18 + 2 = 20$

$17 + 13 = 30$

$70 - 8 = 62$

$100 - 16 = 84$

РЕШИ УРАВНЕНИЯ!

$$\underline{X + 36 = 92}$$

$$X = 92 - 36$$

$$X = 56$$

$$56 + 36 = 92$$

$$\underline{a - 74 = 26}$$

$$a = 74 + 26$$

$$a = 100$$

$$100 - 74 = 26$$

$$\underline{56 + y = 72}$$

$$y = 72 - 56$$

$$y = 16$$

$$56 + 16 = 72$$

$$\underline{68 - b = 39}$$

$$b = 68 - 39$$

$$b = 29$$

$$68 - 29 = 39$$

ПЕРЕВЕДИ!



$$6 \text{ недель } 6 \text{ дней} = 48 \text{ дней}$$

$$3 \text{ год } 2 \text{ месяца} = 38 \text{ мес.}$$


$$2 \text{ дм } 5 \text{ см} = 25 \text{ см}$$

$$95 \text{ см} = 9 \text{ дм } 5 \text{ см}$$

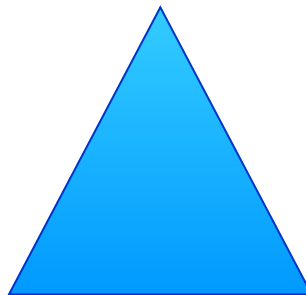
$$1 \text{ час } 15 \text{ мин} = 75 \text{ мин}$$

$$80 \text{ мин} = 1 \text{ ч } 20 \text{ мин}$$


НАЗОВИ ФИГУРЫ!




1




2




3




4




5



6

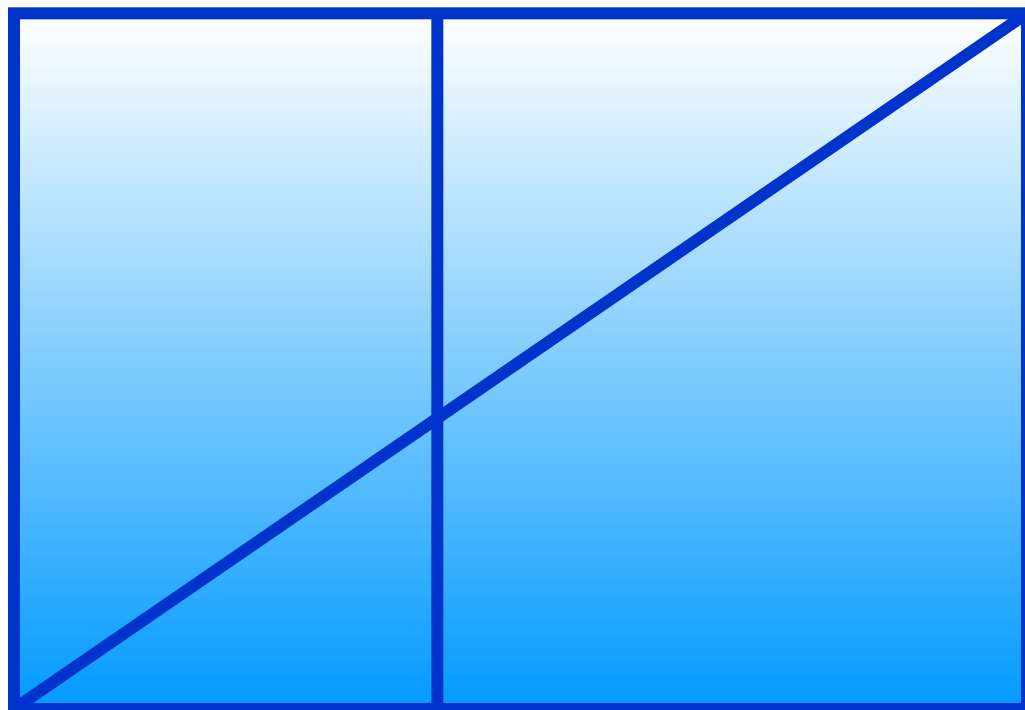


7



8

Сосчитайте, сколько на чертеже **острых**
углов? **Прямых**? **Тупых**?



Найди **ПЕРИМЕТР** прямоугольника
со сторонами **16 см** и **14 см**



54 см

60 см

56 см

58 см




Чтобы найти периметр
прямоугольника,
нужно длины всех
сторон
сложить!





На поляне резвилось 15 зайчат,
но когда к ним присоединились щенки, их вместе стало
29.

Сколько щенков присоединилось к зайчатам?



Таисия в магазине купила 24 тетрадки в клеточку, а
в линейку на 7 тетрадей больше.
Сколько всего тетрадей купила Таисия?



РЕШИ!



Из ведра упало 13 клубничек.
В ведре осталось 15 клубничек.
А сколько было?

ВЫБЕРИ ДЕЙСТВИЕ!

?


У Дениса 25 марок, у Никиты – 19 марок.
На сколько марок У Дениса больше, чем у Никиты?



ВЫБЕРИ ДЕЙСТВИЕ!

У Дениса 25 марок, у Никиты на 19 марок
больше.

Сколько марок у Никиты?



ЗАПОМНИ!



Сколько всего ...

+

Сколько осталось ...

-

Сколько было ...

+

На сколько больше
или меньше ...

-



Математика уступает свои крепости лишь
смышлёным и смелым.

А. П. Конфорович

РЕФЛЕКСИЯ

На уроке я узнал ...



На уроке я научился ...



Самым трудным на уроке было



