


МБОУ «Октябрьская школа-гимназия»
Республика Крым

Урок математики в 1- А классе

Смотр знаний для родителей

1 класс

Презентацию составила учитель
начальных классов
Григоренко Наталья Витальевна
МБОУ «Октябрьская школа-гимназия»
Республика Крым





1

Определение темы и целей урока.

Целеполагание.

У нее нет ничего:

Нет ни глаз, ни рук, ни носа,

Состоит она всего

Из условия с вопросом.

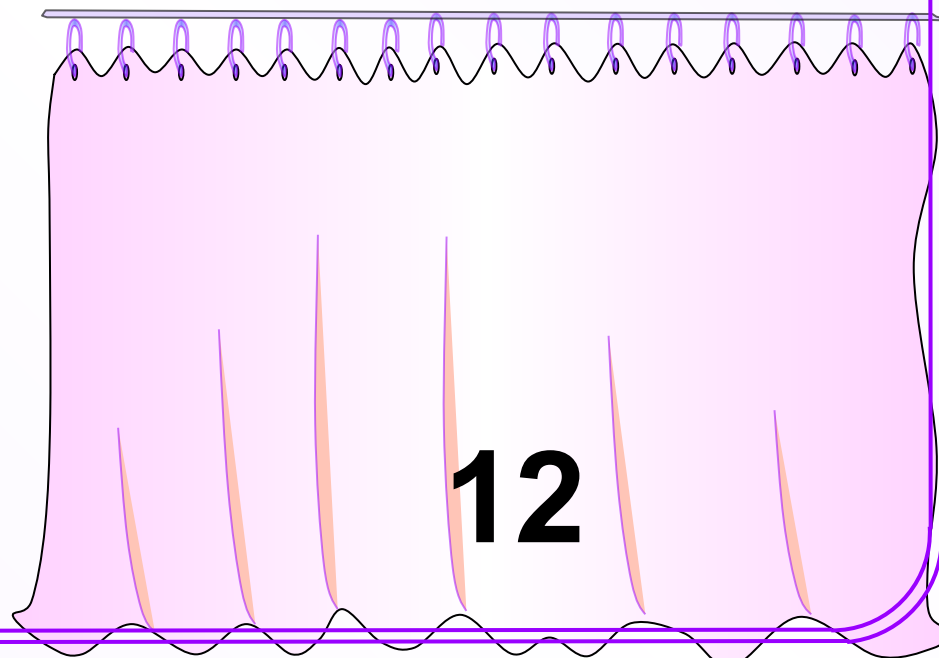
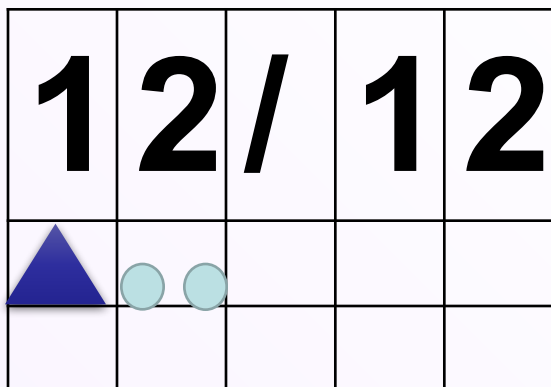


Задача

4

Минутка

ЧИСТОПИСАНИЯ.
СКОЛЬКО МЕСЯЦЕВ В ГОДУ?



5

Математический

диктант

1. Сколько ушей у трёх мышей?
2. Сколько лап у двух медвежат?

3. Внуку Шуре добрый дед
Дал вчера семь штук конфет.
Съел одну конфету внук.
Сколько же осталось штук?

4. Во дворе играли дети.
Всех их вместе было десять.
Семь мальчишек среди них.
А девчонок? Сколько их?

6, 8, 6, 3

6

Состав числа 12

12	8	6	7	5	9

12	8	6	7	5	9
	4	6	5	7	3

Алгоритм

- 1) Дополни до 
- 2) Разложи 2 слагаемое

8

Решить примеры

$$8+6=$$

$$7+5=$$

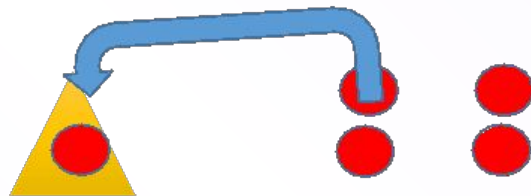
$$6+6=$$

$$8+6=8+2+4=14$$

$$7+5=7+3+2=12$$

$$6+6=6+4+2=12$$

Вы
вод

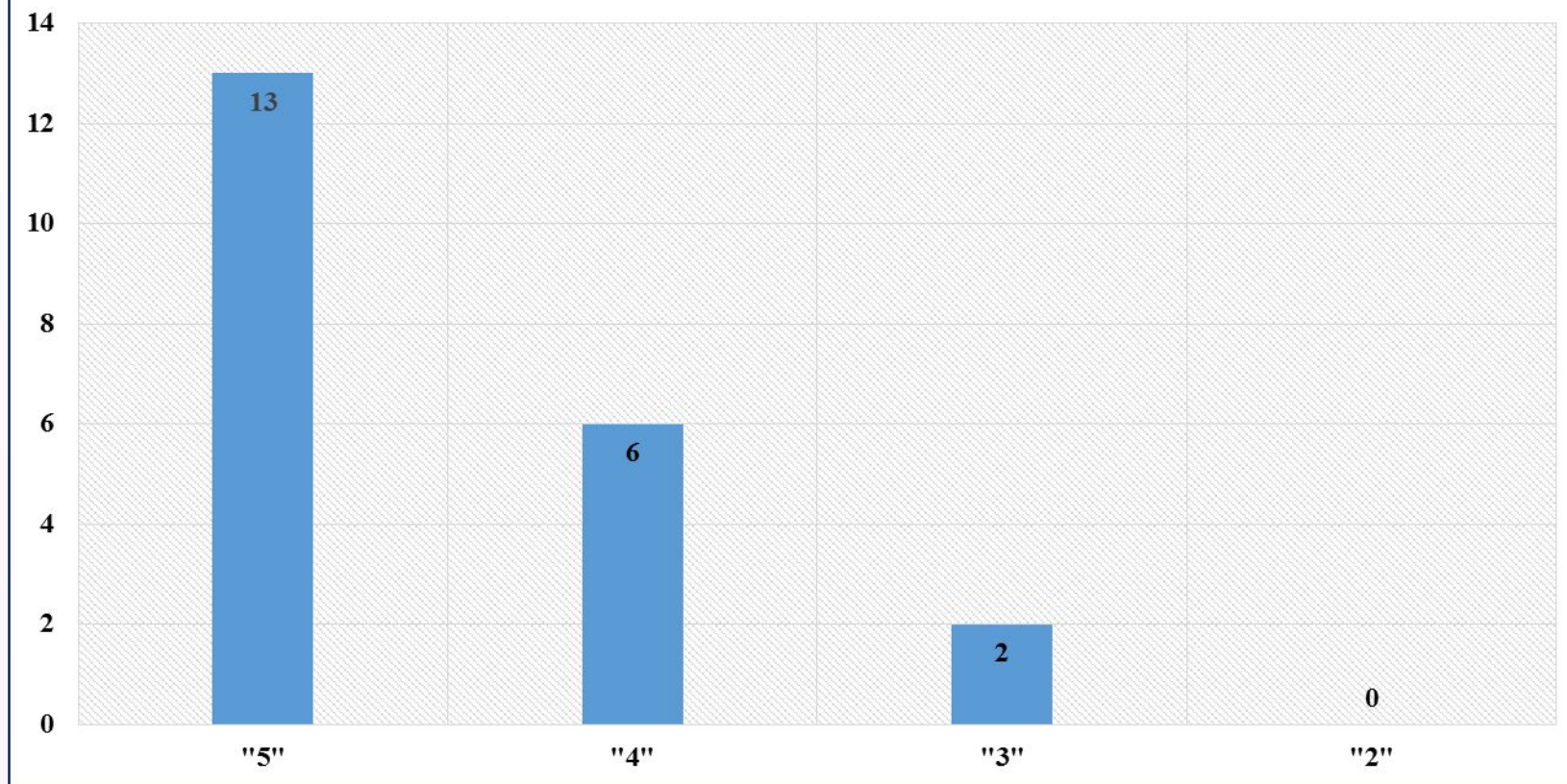


$$9 + 4 = \underline{13}$$

$$9 + 1 + 3 = \underline{13}$$

ИТ

*Примеры на сложение
в классе-24уч.
выполняли работу-21уч.*




Физ.минутка


*Покачайтесь, покружитесь,
Потянитесь, распрямитесь.*


*Приседайте, приседайте,
Пошагайте, пошагайте,
Встаньте на носок, на пятку,*

*Поскачите-ка вприсядку.
Глубоко теперь вздохните,
Сядьте тихо, отдохните,
Все в порядок приведем
И решать, друзья, начнем.*



Алгоритм

1) От  - 

2) + 

1
2

Решить примеры

$$12-4=$$

$$18-9=$$

$$15-6=$$



$$12-4=10-4+2=8$$

$$18-9=10-9+8=9$$

$$15-6=10-6+5=9$$

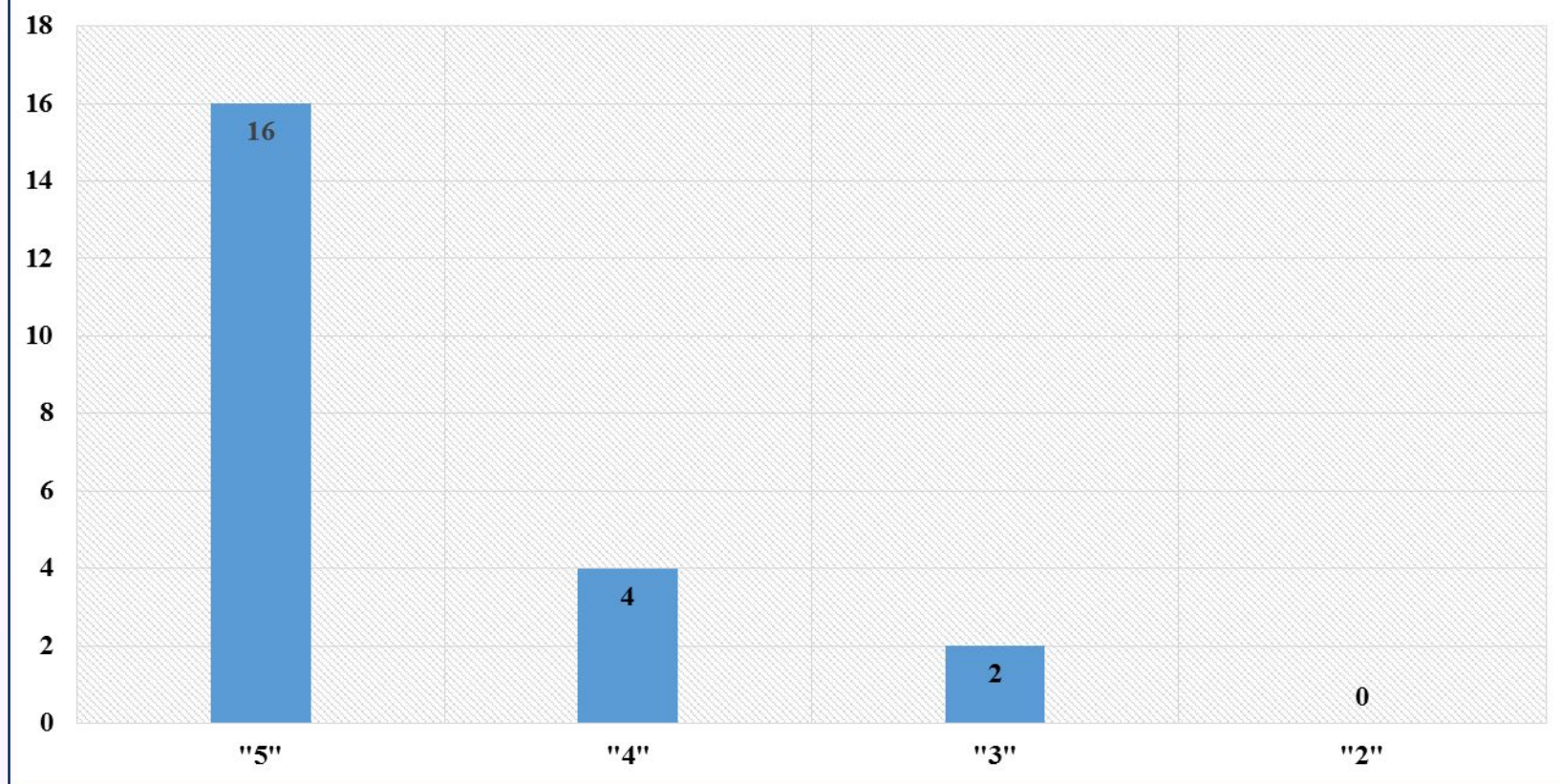
1
3

Вывод



Итог

*Примеры на вычитание
в классе-24уч.
выполняли работу-2уч.*



Алгоритм

1. Прочитать задачу.
2. Узнать о чём (ком) задача.
3. Что об этом известно.
4. Найти вопрос задачи.
5. Написать краткое условие.
6. Начертить модель.
7. Решить задачу.
8. Написать ответ..

1
5

Решить задачу

N1

В одном доме 7 этажей, а в другом на 3 этажа больше. Сколько этажей во втором доме?



$$7+3=10(\text{ЭТ.})$$

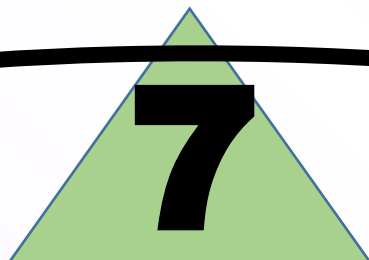
Ответ: 10этажей

модель

7




7



3



?



1

Решить задачу

N2

*У Вани 8 машин, а у Серёжи на 4 меньше.
Сколько машинок у Серёжи?*



$$8-4=4(\text{м.})$$

Ответ: 4 машины

модель

4

8

8

?

4



1
9

Решить задачу

N2



На лугу паслось 6 коров и 2 козы. На сколько меньше паслось коз, чем коров?



$$6 - 2 = 4 (\text{м.})$$

Ответ: на 4 козы
меньше

модель

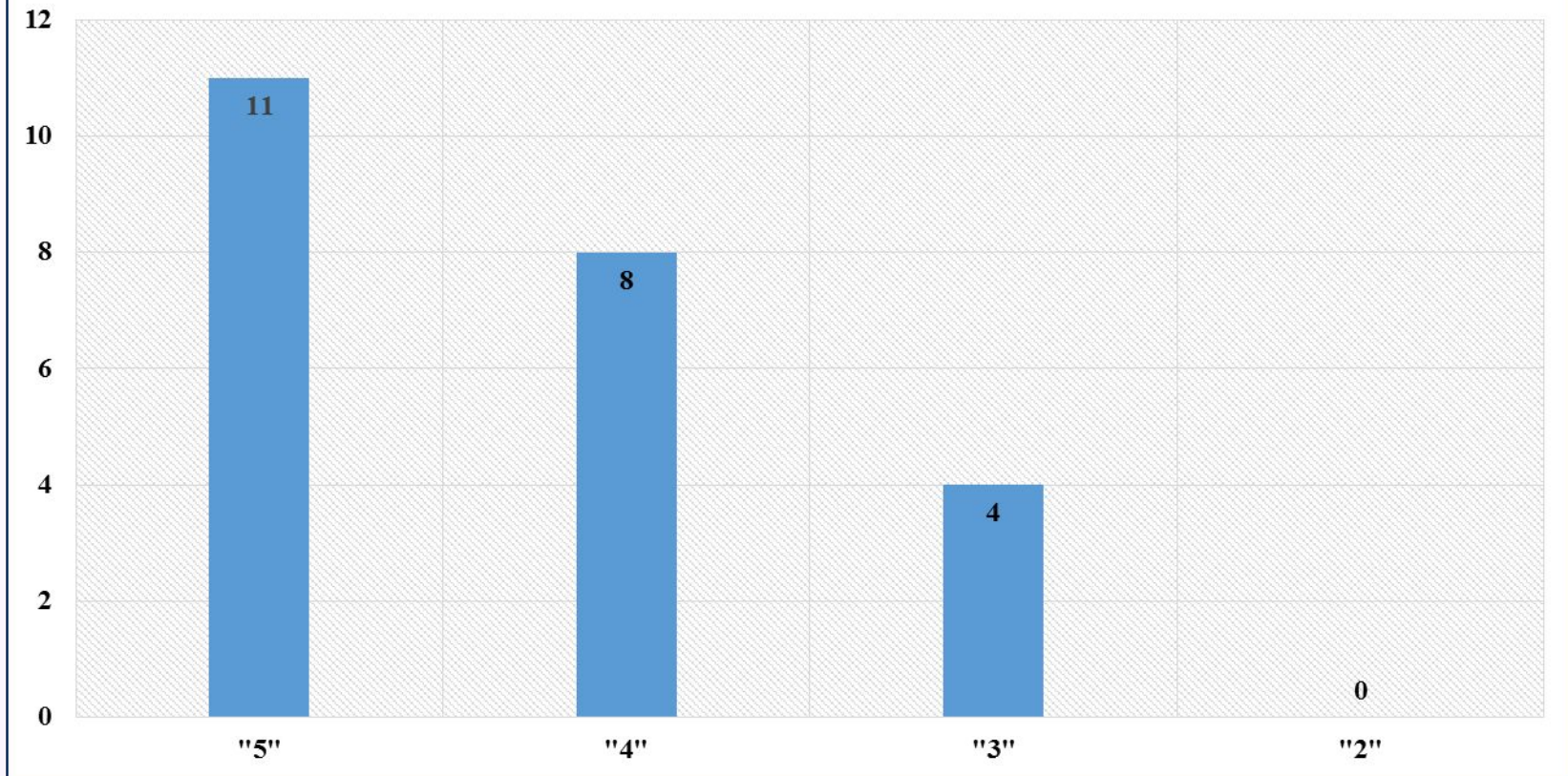


НА?



ИТОГ

*Задачи
в классе-24уч.
выполняли работу-23уч.*

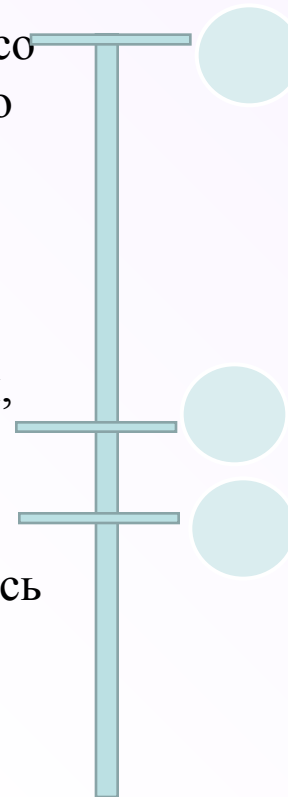


Оцените свою работу на уроке.

«5»• Кому на уроке было всё понятно, со всеми заданиями справлялись уверенно

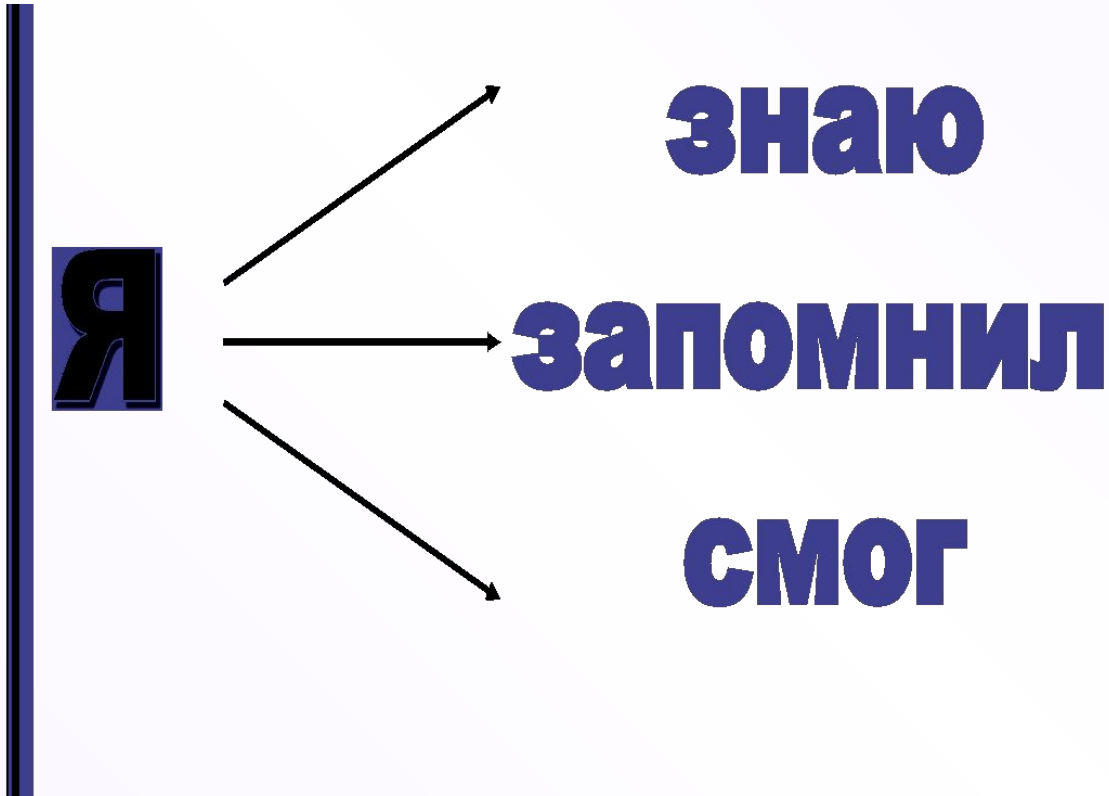
«4»• Если вы затруднялись при выполнении заданий, чувствовали себя неуверенно

«3»• Кому на уроке было очень трудно, с заданиями не справлялись



Ито

г.





источник шаблона: сайт <http://pedsovet.su>

Солнышко2

<http://cs623816.vk.me/v623816954/3dd9b/rJND0qmkZLU.jpg>

Солнышко1

http://risovach.ru/upload/2015/01/generator/spoki-noki_72133844_orig_.jpg

Дети

https://fs00.infourok.ru/images/doc/14/18432/hello_html_12a1c298.png

Корова

http://wallpapers1920.ru/img/picture/Apr/09/968d8424ed2ac10e390a17a786c58c24/mini_7.jpg

Коза

http://900igr.net/Detskie_prezentatsii/biologiya/Domashnie_-_na_ferme.files/slide0017_image016.jpg

Домики

http://city-moskva.ru/uploads/firm_fotos/market/firm_20p-55147-_890780-21.jpg

Машинки

<http://i.ytimg.com/vi/TYKNm0Qfryc/hqdefault.jpg>

