

Математика 3 класс

Закрепление пройденного

УМК "ГАРМОНИЯ"



Учитель начальных классов
МБОУ СОШ №14 г. Балей
Забайкальский край
Чередниченко Валентина

Запиши число **102 512** в виде суммы разрядных слагаемых.

Запиши число **964 230** в виде суммы разрядных слагаемых.

Продолжи ряды чисел.

82 395, 82 396, 82 397, ..., ..., ...

500 004, 500 003, 500 002, ..., ..., ...

Сравни числа..

82 164 ... 82 048

484 703 ... 484 730

89 183 ... 80 282

235 176 ... 48 209



Найди значения выражений.

$$694\ 382 - 374\ 92 \boxed{} 55$$

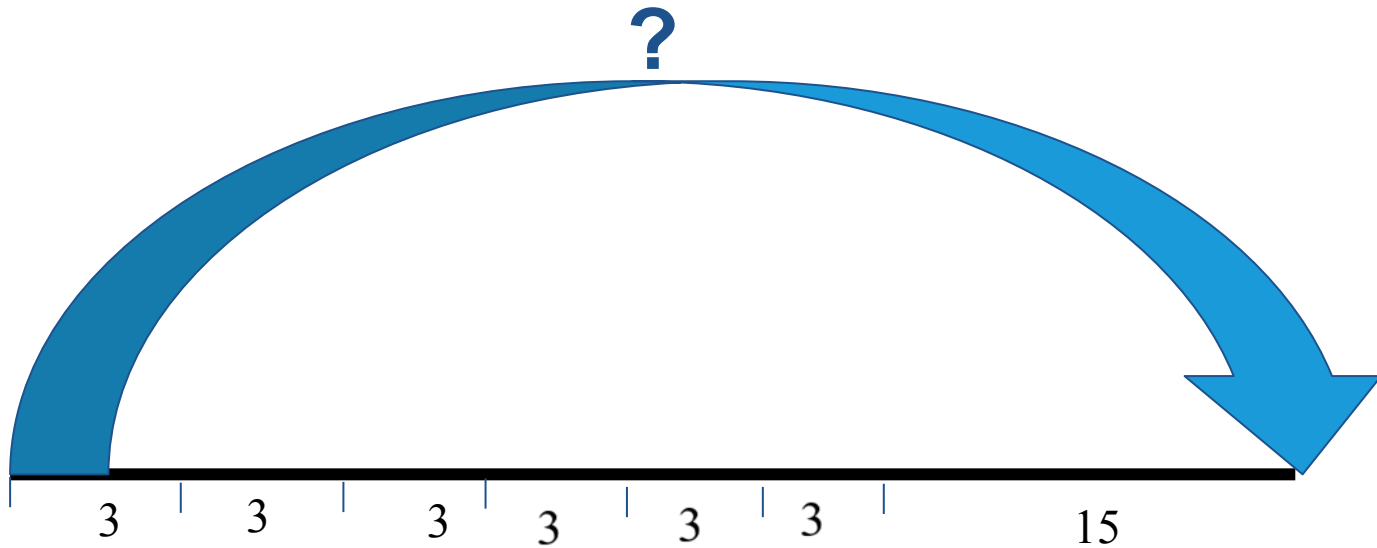
$$442\ 305 + 75\ 116 = \boxed{}$$

$$694\ 382 - 374\ 927 = \boxed{}$$



Реши задачу

После того как Женя купил 6 карандашей по 3 р., у него осталось 15 р. Сколько денег было у Жени?



Проверим

- ◆ $3 \times 6 = 18(\text{руб.}) - ?$
- ◆ $18 + 15 = 33(\text{руб.}) - ?$



Найди значения выражений.

◆ $5 \cdot 100\ 000 + 6 \cdot 10\ 000 + 2 \cdot 1\ 000 + 5 \cdot 100 + 8 \cdot 2 =$

◆ $4 \cdot 100\ 000 + 3 \cdot 1\ 000 + 6 \cdot 100 - 1 =$

◆ $8 \cdot 100\ 000 + 7 \cdot 10\ 000 + 4 \cdot 9 - 3 =$

Вставь пропущенные цифры.

$$\begin{array}{r} _ 253905 \\ _ _ _ _ _ 16 \\ \hline _ 494 _ _ \end{array}$$

$$\begin{array}{r} + _ 7881 _ \\ _ 1 _ _ _ _ 5 \\ \hline 377274 \end{array}$$

$$\begin{array}{r} _ _ _ 7 _ 20 \\ _ 8 _ 6 _ 5 \\ \hline 48144 _ \end{array}$$

$$\begin{array}{r} _ 423 _ \\ _ _ _ 3 \\ \hline _ 426 \end{array}$$



Реши задачу

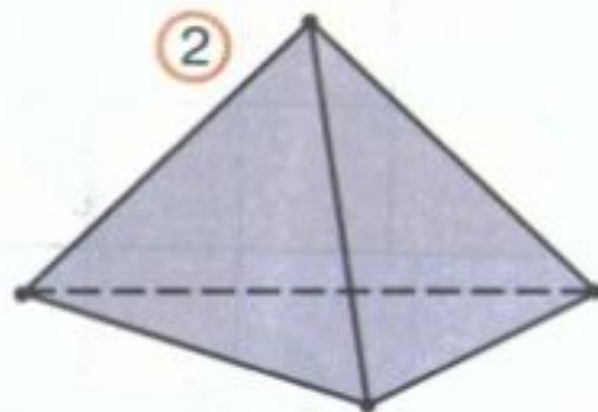
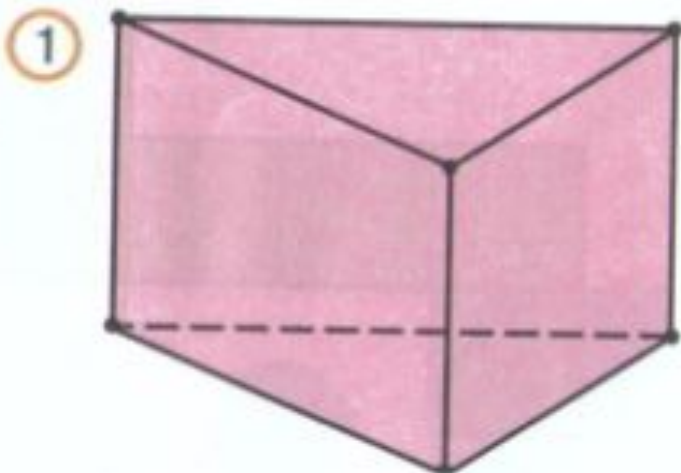
- ◆ . Масса бидона с молоком 27 кг. Если наполнить молоком половину бидона, то масса бидона с молоком будет равна 15 кг. Найди массу пустого бидона.

?

- Решение:
- 1) $27 - 15 = 12$ (кг) масса половины молока для полного бидона;
- 2) $15 - 12 = 3$ (кг).
- Ответ: масса бидона 3 кг

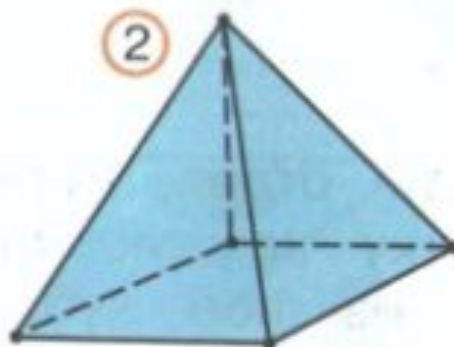
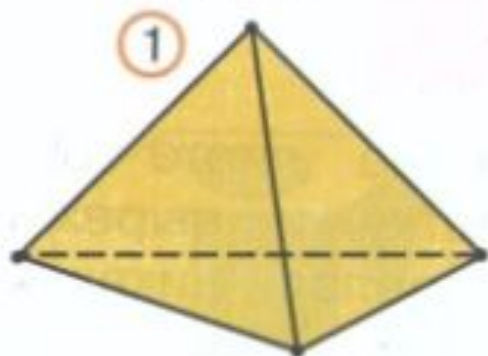


345. Чем похожи и чем отличаются геометрические тела?



- Можно ли фигуру ② назвать многогранником?

346. Чем похожи и чем отличаются многогранники?



! Каждый из этих многогранников называют **пирамидой**.

- Догадайся! На каком рисунке изображена: 1) четырёхугольная пирамида? 2) треугольная пирамида? 3) пятиугольная пирамида?
- Сколько вершин у каждой из этих пирамид?
- Догадайся! Сколько вершин будет в шестиугольной пирамиде? в восьмиугольной пирамиде?
- Проверь свои ответы на моделях пирамид.



расида

<http://images.yandex.ru/yandsearch?text=%D0%BA%D0%B0%D1%80%D1%82%D0%B8%D0%BD%D0%B0%20%D0%B1%D0%B8%D0%B4%D0%BE%D0%BD>

<http://www.umk-garmoniya.ru/about/>

http://www.umk-garmoniya.ru/matemat/metod/tem_plan_mat_3.pdf

<http://yandex.ru/yandsearch?text=%D1%83%D0%BC%D0%BA%20%D0%B3%D0%B0%D1%80%D0%BC%D0%BE%D0%BD%D0%B8%D1%8F%203%20%D0%BA%D0%BB%D0%B0%D1%81%D1%81&lr=68>