

Урок математики во 2 «Б»
классе.

**Тема: «Закрепление
пройденного
материала».**



школы № 168:

Учитель начальных классов

Тривцова
Татьяна Сергеевна.



*Математику, друзья,
Не любить никак нельзя,
Очень строгая наука,
Очень точная наука,
Интересная наука-
Это математика.*





*Долгожданный дан звонок ,
Начинается урок.
Тут затеи и задачи,
Игры, шутки- все для вас
Пожелаю вам удачи
За работу, в добрый час.*

16 декабря.

Классная работа.

84 ~ 84 ~ 84 ~ 84 ~ 84

~ 84 ~

Психологический настрой

На уроке бы ты был счастлив,

Чтоб был счастлив я,

Посмотри на всех людей,

Обними себя.

Если трудно будет,

Другу помоги.

Любому человеку руку

Работаем сегодня под девизом: « В кругу

протяни.

друзей лучше считать, лучше решать и
побеждать.»

54 21 76 32 65 43

3 С С К А А К 3 К К А

А



Девчонка озорная и очень
заводная, **Загадка**
торчащие косички, цветом как
лисичка?

Пеппи - Длинный
чулок .



М. д.

1. 26 уменьшили на несколько единиц и получили 16.

На сколько единиц уменьшили

2. число? Число увеличили на 7 и

3. получили 14. Какое это число?

равна 50.

Первое слагаемое 20.

Найдите второе?

4. Уменьшаемое 44,
разность – 30.

~~5. Найдите вычитаемое, получили
столько же.~~

~~Найдите это число.~~


Проверим

1. $(26 - x = 16,$ **ответы?** $x + 7 = 14,$

$8 = (20) + x = 50,$ $4 = (44 - x = 30,$

$x = 30)$ 5. $(x - 11 = 11, x = 14)$

$x = 22)$





Составьте имя

следующего

сказочного героя.


М

Н

О

Г

Г Н О М



двойками закопал на
глубину 5 метров, а
Толя закопал свой
дневник на глубину 12
метров. На сколько
метров глубже закопал
свой дневник с двойками
Толя?



Кол
Тол
12м
12
Рет
От
глу



в



A colorful illustration of Snow White at a well. She is a young woman with dark hair, wearing a purple top and a brown skirt, holding a rope that goes up to a wooden pulley wheel. A wooden bucket is suspended from the rope, and water is dripping from it. The well is made of yellow stone blocks. Several white doves are perched on the well's edge and on a ledge above. The scene is framed by a wooden structure with yellow leaves and pink flowers. The background shows a stone wall and green foliage.

Белоснежка

Сравним выражения: $>$, $<$,
 $=$.

$$1). 46 - 13 * 64 - 31$$


$$2). 58 + 20 * 79 - 30$$

$$3). 100 - 40 * 100 - 4$$

Проверим выражения:

справились!

1) = 2) > 3) <



Считаем
устно:



$9+7$

$80-50$

$15-10$

$74-70$

$100-9$

$6+5$

$10+19$

$15+3$

Хорошо!

Подумай!



У нас все получилось!

A collection of five colorful geometric shapes scattered around the text. From top to bottom: a blue triangle pointing downwards, a pink pentagon, a red octagon, an orange trapezoid, and a green square.



Друзья, урок наш кончен.

Все постарались, как смогли.

*Мы снова ждем все с вами
встречи.*

До новых встреч, простимся мы.



спасибо за работу!

