



Тема урока:

**«Закрепление знаний нумерации
трехзначных чисел.
Решение задач»**

Математика во 2 классе.

Учитель начальных классов
МБОУ СОШ № 30
ст.Кущевской, Краснодарского края
Давиденко Наталья Николаевна






Наш девиз:

«Повторяем то, что
знаем!»



**Мы за наукой в сказку
пойдем,
Смекалку и фантазию
с собой возьмем.**

Эдуард Успенский





Расставить трёхзначные числа в
порядке возрастания.


845 202 126 930 99 702






Дорогие ребята!
Я вас очень люблю! И зверей я тоже очень люблю. А мама с папой мне не разрешают их заводить. Поэтому я уехал в деревню Простоквашино. Здесь хорошо: река, воздух и животные рядом - кот Матроскин и пес Шарик. Но без друзей мне все равно скучно. Приезжайте к нам в Простоквашино, будем рады!

Дядя Федор, пес и кот.



По какому признаку можно разбить
числа на две группы:





По какому признаку можно разбить
числа на две группы:



1 группа

**744, 146,
948, 142,**

2 группа

**557, 751,
956, 652.**

Какое число «лишнее».

- 470, 720, 330,
~~400~~, 510, 640.

- 584, 485, 548,
845, ~~483~~, 854.





Уважаемые родители!





23

+

17

-

14

+

6

+



34

+

8

74







Проверь!

- 1) 415, 350, 770, 899, 406, 921.
- 2) 438, 803, 240.





Простоквашино!

Сравните величины длинны.



Вспомним!

$$1 \text{ см} = 10 \text{ мм}$$

$$1 \text{ дм} = 10 \text{ см}$$

$$1 \text{ м} = 10 \text{ дм}$$

$$1 \text{ м} = 100 \text{ см}$$



Сравните величины длинны.



Помни! 1 м = 10 дм = 100 см

1) 5 м 3 дм ... 5 м 4 дм

--	--	--	--	--	--	--	--

3 дм 5 см ... 35 см

--	--	--	--	--	--	--	--

4 дм 9 см ... 48 дм

--	--	--	--	--	--	--	--

2) 35 дм ... 3 дм 5 см

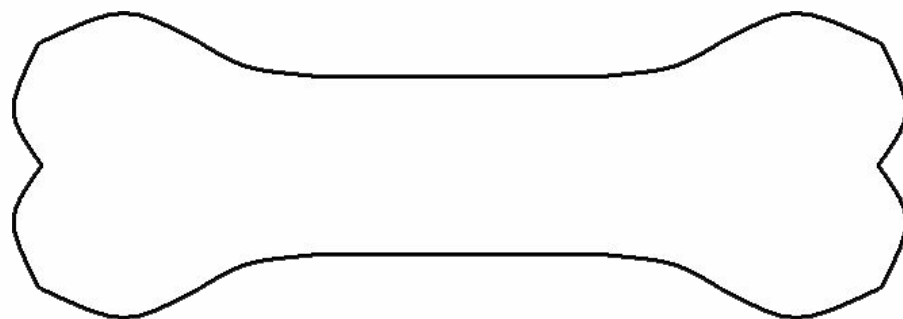
--	--	--	--	--	--	--	--

63 дм ... 6 м 3 дм 2 см

--	--	--	--	--	--	--	--

25 м ... 78 дм

--	--	--	--	--	--	--	--



Задача.



? на 3 бревна
меньше



10



Задача.



?

на 3 бревна
меньше



10



$$10 - 3 = 7 \text{ (б.)}$$

Ответ: 7 брёвен принёс Матроскин.



DANY



Пил ли молоко Шарик ?

Дала – 6 л

Отдал – 3 л

Выпил – 1 л


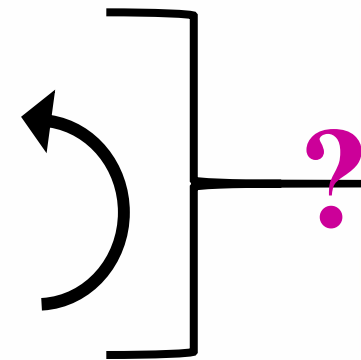
Осталось – 2 л





Газеты - 14 шт.

Журналы - ? на 2 меньше



Решение:

1) $14 - 2 = 12$ (ж.)

2) $14 + 12 = 26$ (г. и ж.)

Ответ: 26 газет и журналов было в сумке у Печкина.



Самостоятельная

$41 - 21 + 60 =$

$28 + 62 - 30 =$

$60 - 45 - 15 =$

$35 + 25 - 10 =$

работа



$48 - 42 + 44 =$

$46 + 12 + 22 =$

$39 - 18 + 36 =$

$30 - 18 + 36 =$





До новых



встреч!



Интернет-ресурсы

- Картинки из мультфильма – <http://www.kartinki24.ru/kartinki/prostokvashino>
- <http://www.liveinternet.ru/community/1019203/tags/%EF%F0%EE%F1%F2%EE%EA%E2%E0%F8%E8%ED%EE/>
- http://www.kinoonlayn.com/load/multfilmy_sovetskie_onlajn/multfilmy_sovetskie_onlajn_smotret_besplatno/troe_iz_prostokvashino/27-1-0-159
- Фоторамки «Простоквашино» - http://sc-pr.ru/ramki/ramki_detskie/page/2/
- http://mir-photoshop.3dn.ru/publ/detskie_ramki/fotoshop_ramka_prostokvashino/3-1-0-301
- Анимационные картинки - <http://vsyaanimaciya.ru/photo/63-0-5083>
- <http://astra50.jimdo.com/>
- Портрет Успенского Э. - <http://cooler2k.photographer.ru/nonstop/series.htm?id=2612>
- Персонажи мультфильма - <http://multfilm-prostokvashino.ru/avatarki.html>
- Ссылка на скачивание всех серий мультфильма - <http://dlydetei.ru/serial/68-troe-iz-prostokvashinovse-serii-1978-1984-multfilm-torrent-skachatsmotret.html>
- Фрагменты из мультфильмов были вырезаны с помощью программы Freemake Video Converter