

Вариант 1

1. Запишите слово, пропущенное в таблице.

Основные виды бирж			
товарная	валютная	фондовая

Ответ: _____.

2. Найдите понятие, которое является обобщающим для всех остальных понятий представленного ниже ряда, и запишите цифру, под которой оно указано.

- 1) налог на собственность; 2) прямой налог; 3) подоходный налог;
4) налог на землю; 5) налог на наследство.

Ответ:

3. Ниже приведён перечень терминов. Все они, за исключением двух, характеризуют понятие «экономический цикл».

- 1) подъём; 2) спад; 3) нис; 4) прибыль; 5) тренд; 6) кризис;
7) рецессия.

Найдите два термина, «выпадающих» из общего ряда, и запишите в таблицу цифры, под которыми они указаны.

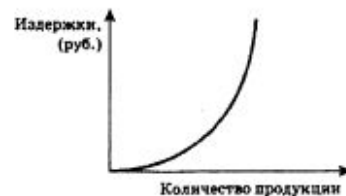
Ответ:

4. Выберите верные суждения об общественных благах и запишите цифры, под которыми они указаны.

- 1) Жилищная проблема граждан решается посредством индивидуального жилищного строительства.
- 2) Из государственного бюджета осуществляется финансирование работы НИИ по созданию нового лекарственного препарата от сахарного диабета.
- 3) Муниципальный бюджет оплачивает расходы, связанные с освещением улиц города.
- 4) Компьютеризация промышленности осуществляется за счёт собственных средств предприятий.
- 5) Гражданин приобрёл грузовой автомобиль для занятия бизнесом.

Ответ: _____.

5. На графике изображены издержки кафе-кондитерской в краткосрочном периоде.



Выберите статьи затрат, которые могут быть отражены этим графиком.

- 1) плата за упаковку
- 2) плата за аренду офиса
- 3) зарплата бухгалтера
- 4) зарплата сторожа
- 5) расходы на приобретение сырья: муки, сахара, фруктов

Ответ: _____.

6. Установите соответствие между факторами и видами экономического роста: к каждой позиции, данной в первом столбце, подберите соответствующую позицию из второго столбца.

**ФАКТОРЫ
ЭКОНОМИЧЕСКОГО
РОСТА**

**ВИДЫ
ЭКОНОМИЧЕСКОГО
РОСТА**

- А) ввод в действие дополнительного оборудования
- Б) приглашение иностранных рабочих
- В) открытие новых месторождений полезных ископаемых
- Г) повышение квалификации работников
- Д) укрупнение производства, экономия на масштабах

- 1) интенсивный
- 2) экстенсивный

Запишите в таблицу выбранные цифры под соответствующими буквами.

Ответ:

А	Б	В	Г	Д

7. Выберите верные суждения, характеризующие экономику как хозяйство, и запишите цифры, под которыми они указаны.

- 1) Экономика объясняет процессы ценообразования.
- 2) Экономика производит необходимые обществу товары и услуги.
- 3) Экономисты разрабатывают перспективные модели развития отечественной промышленности.
- 4) ВВП страны в прошлом году вырос на 1,5 %.
- 5) Экономисты исследуют причины роста инфляции.

Ответ: _____.

8. Установите соответствие между экономическими теориями и раскрывающими их сущность характеристиками: к каждой позиции, данной в первом столбце, подберите соответствующую позицию из второго столбца.

ХАРАКТЕРИСТИКИ

- А) её основой является трудовая теория стоимости и теория прибавочной стоимости
- Б) источником богатства является сфера промышленного производства, управляемая «невидимой рукой» рынка
- В) необходимость государственного регулирования рыночной экономики
- Г) внешняя торговля рассматривается как главный источник доходов; она обеспечивает приток золота в страну, подчиняется принципу: вывозить больше, чем ввозить
- Д) главный источник богатства нации — в земледелии, в сельскохозяйственном производстве
- Е) государственное вмешательство в экономику ограничивается только поддержанием стабильного темпа роста денежной массы

ЭКОНОМИЧЕСКИЕ ТЕОРИИ

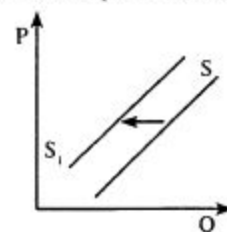
- 1) меркантилизм
- 2) физиократия
- 3) классическая политэкономия Адама Смита
- 4) марксистская политэкономия
- 5) рыночный либерализм
- 6) кейнсианство

Запишите в таблицу выбранные цифры под соответствующими буквами.

Ответ:

А	Б	В	Г	Д	Е

9. На рисунке отражена ситуация на рынке услуг частных клиник: линия предложения S переместилась в новое положение S_1 (P — цена товара, Q — объём предложения).



Из приведённого ниже списка выберите факторы, которые могут повлиять на изменение объёма предложения, и запишите цифры, под которыми они указаны.

- 1) существенный рост доходов населения
- 2) возрастание государственных требований к лицензированию врачебной практики
- 3) отмена ввозных пошлин на фармацевтические средства зарубежных производителей
- 4) снижение доступности и качества медицинских услуг в государственных клиниках
- 5) повышение налога на доходы частных медицинских клиник

Ответ: _____.

10. Найдите в приведённом списке признаки, характеризующие традиционную экономику, и запишите цифры, под которыми они указаны.

- 1) натуральная система хозяйствования
- 2) решения принимаются самостоятельными хозяйствующими субъектами на основе свободы выбора
- 3) решения о производстве, распределении и потреблении благ принимаются на основе обычаев и традиций
- 4) высокая степень монополизации экономики — сочетание крупных размеров предприятий и сосредоточение всего производства на них
- 5) общество состоит из массы однородных хозяйственных единиц (крестьянских семей, общин, феодальных поместий)
- 6) жёсткое адресное государственное планирование из единого экономического центра

Ответ: _____.

12. Прочитайте приведённый ниже текст, в котором пропущен ряд слов. Выберите из предлагаемого списка слова, которые необходимо вставить на место пропусков.

Основная проблема для экономики — это согласование безграничных и постоянно растущих потребностей людей с ограниченными _____ (А) для их удовлетворения.

Что такое потребности? Это понятие весьма многозначно и исторически изменчиво. Это _____ (Б) того, без чего нельзя поддерживать не только жизнь человека, но и его развитие как личности и как члена общества. Человек своей хозяйственной деятельностью научился удовлетворять свои разнообразные потребности, производя товары и услуги, т. е. экономические блага. При этом количество и качество этих благ непрерывно растёт и меняется под влиянием технического _____ (В), расширения кругозора людей, моды, рекламы и т. д. Таким образом, потребности всё время растут. А для того чтобы их удовлетворить, нужны _____ (Г). Те из них, которые удаётся вовлечь в производство экономических благ, называются факторами производства. Постепенно наука расширяла свои представления о факторах, необходимых для производства благ. Сначала считалось, что главный ресурс, главный фактор — это _____ (Д), что только сельское хозяйство может произвести необходимые блага. Позднее в качестве неперенного фактора признали _____ (Е) в любой сфере материального производства, а не только в сельском хозяйстве. С именем К. Маркса связано признание _____ (Ж) как важнейшего фактора экономического развития.

Слова в списке даны в именительном падеже. Каждое слово может быть использовано только один раз.

Выбирайте последовательно одно слово за другим, мысленно заполняя каждый пропуск. Обратите внимание на то, что слов в списке больше, чем Вам потребуется для заполнения пропусков.

Список терминов:

- 1) капитал
- 2) производство
- 3) возможности
- 4) ресурсы
- 5) прогресс
- 6) нехватка
- 7) информация
- 8) земля
- 9) труд

В данной ниже таблице приведены буквы, обозначающие пропущенные слова. Запишите в таблицу под каждой буквой номер выбранного Вами слова.

Ответ:

А	Б	В	Г	Д	Е	Ж

1. Запишите слово, пропущенное в таблице.

Виды экономической политики	Характеристика
Фискальная	Регулирование государственного бюджета
.....	Контроль за денежной массой

Ответ: _____.

2. Найдите понятие, которое является обобщающим для всех остальных понятий представленного ниже ряда, и запишите цифру, под которой оно указано.

- 1) таможенная пошлина;
- 2) налоги;
- 3) акцизы;
- 4) прогрессивная шкала;
- 5) декларация.

Ответ:

3. Ниже приведён перечень терминов. Все они, за исключением двух, относятся к понятию «рыночная экономика».

- 1) товарное производство;
- 2) предпринимательство;
- 3) государственный план;
- 4) частная собственность;
- 5) конкуренция;
- 6) свободные цены;
- 7) централизованное ценообразование.

Найдите два термина, «выпадающих» из общего ряда, и запишите в таблицу цифры, под которыми они указаны.

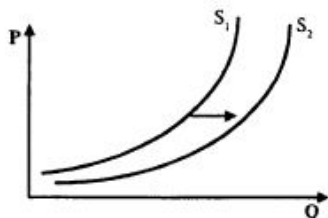
Ответ:

4. Выберите верные суждения о валовом внутреннем продукте и запишите цифры, под которыми они указаны.

- 1) ВВП включает в себя совокупную стоимость конечных товаров и услуг, созданных как внутри страны, так и за её пределами.
- 2) ВВП включает в себя рыночную стоимость всех конечных товаров и услуг, произведённых за год во всех отраслях экономики на территории государства.
- 3) Под ВВП понимают смету доходов и расходов государства, которая устанавливается на год.
- 4) ВВП — это совокупность экономических отношений, возникающих в процессе формирования, распределения и использования денежных средств.
- 5) ВВП может рассчитываться по доходам, по расходам, по добавленной стоимости.

Ответ: _____.

5. На графике отображено изменение предложения спортивной одежды и инвентаря на соответствующем рынке: линия предложения переместилась из положения S_1 в положение S_2 (P – цена товара, Q – объём предложения).



Выберите из списка факторы, которые могли вызвать данные изменения на рынке, и запишите цифры, под которыми они указаны.

- 1) рост цен на сырьё и материалы, из которых изготавливают спортивные товары
- 2) увеличение арендной платы за использование производственных помещений
- 3) налоговые льготы и государственные программы поддержки предприятиям, производящим продукцию для массового и профессионального спорта
- 4) повышение стоимости транспортных расходов
- 5) увеличение количества фирм, занимающихся производством и продажей спортивной одежды и инвентаря

Ответ: _____.

6. Установите соответствие между типами акционерных обществ и их характеристиками: к каждой позиции, данной в первом столбце, подберите соответствующую позицию из второго столбца.

ХАРАКТЕРИСТИКИ

- А) возможность распоряжаться своими акциями без согласия других акционеров
- Б) свободная продажа акций
- В) ограничено число акционеров
- Г) преимущественное право акционеров на приобретение акций, продаваемых другим акционером

ТИПЫ

- 1) открытое акционерное общество
- 2) закрытое акционерное общество

Запишите в таблицу выбранные цифры под соответствующими буквами.

Ответ:

А	Б	В	Г

7. В стране Н. доходы государственного бюджета составили 250 млрд условных единиц, а расходы – 290 млрд условных единиц. Из них более 50 % – на военно-промышленный комплекс. Найдите в приведённом списке верные характеристики данного государственного бюджета и запишите цифры, под которыми они указаны.

- 1) Бюджет страны Н. является профицитным.
- 2) Бюджет страны Н. можно охарактеризовать как социально-ориентированный.

- 3) Государственный бюджет страны Н. является дефицитным.
- 4) В государстве Н. милитаризированный бюджет.
- 5) Бюджет страны Н. можно назвать сбалансированным.
- 6) Это бюджет страны с рыночной экономикой.

Ответ: _____.

8. Как известно, при подсчёте ВВП по методу расходов учитываются расходы потребителей, расходы фирм (инвестиции) и расходы государства, а также чистый экспорт (разность между экспортом и импортом). Установите соответствие между видами расходов и приведёнными ниже ситуациями: к каждой позиции, данной в первом столбце, подберите соответствующую позицию из второго столбца.

СИТУАЦИИ

- А) семья получает пособие на рождение ребёнка
- Б) жильцы платят коммунальные платежи
- В) строительство нового стадиона за счёт бюджетных средств
- Г) семья покупает бытовую технику
- Д) завод покупает новые станки

ВИДЫ РАСХОДОВ

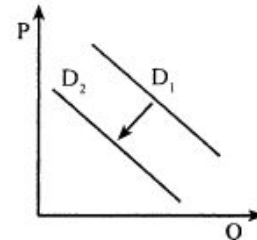
- 1) расходы потребителей
- 2) инвестиции
- 3) расходы государства

Запишите в таблицу выбранные цифры под соответствующими буквами.

Ответ:

А	Б	В	Г	Д

9. На рисунке ниже отражена ситуация на рынке легковых автомобилей: линия спроса D_1 переместилась в новое положение D_2 (P – цена товара, Q – объём спроса).



Из приведённого ниже списка выберите факторы, которые могут повлиять на изменение объёма спроса, и запишите цифры, под которыми они указаны.

- 1) рост цен на бензин
- 2) проблемы с парковкой автомобилей в городе, высокая стоимость парковки
- 3) снижение себестоимости производства автомобилей
- 4) снижение возраста получения водительских прав
- 5) рост конкуренции среди производителей автомобилей

Ответ: _____.

10. Найдите в приведённом списке вопросы, не относящиеся к фундаментальным вопросам экономики. Запишите цифры, под которыми они указаны.

- 1) Что производить?
- 2) По какой цене продавать?
- 3) Какие ресурсы использовать?
- 4) Как производить?
- 5) Для кого производить?
- 6) Как преобладать на рынке?

Ответ: _____.

12. Прочитайте приведённый ниже текст, в котором пропущен ряд слов. Выберите из предлагаемого списка слова, которые необходимо вставить на место пропусков.

Самой большой рыночной властью обладает _____ (А). Это рынок, на котором присутствует единственный _____ (Б) уникального продукта. Такой рынок не выгоден _____ (В) с точки зрения качества продукции, разнообразия _____ (Г), уровня цен. Чтобы не допустить образования новых рынков такого типа, _____ (Д) проводит _____ (Е) политику.

Слова в списке даны в именительном падеже. Каждое слово может быть использовано только один раз.

Выбирайте последовательно одно слово за другим, мысленно заполняя каждый пропуск. Обратите внимание на то, что слов в списке больше, чем Вам потребуется для заполнения пропусков.

Список терминов:

- 1) ассортимент
- 2) покупатель
- 3) продавец
- 4) монополия
- 5) конкуренция
- 6) товарищество
- 7) государство
- 8) разнообразный
- 9) антимонопольный

В данной ниже таблице приведены буквы, обозначающие пропущенные слова. Запишите в таблицу под каждой буквой номер выбранного Вами слова.

Ответ:

А	Б	В	Г	Д	Е

Прочитайте текст и выполните задания 1–4.

Коммерческим предприятиям необходимо эффективно работать, модернизировать производство, обновлять технологии. И только объединившись, можно повысить эффективность сотрудничества внутри своей отрасли в новых экономических условиях и успешно противостоять стихии рынка. Одним словом, решать возникающие проблемы вместе всегда проще.

Условно все предпринимательские объединения можно разделить на две группы. Первая — это профессиональные ассоциации, объединяющие компании по определённому виду деятельности: авиаперевозки, кредитно-банковская деятельность, строительство и др. Вторая группа — объединения, для которых род деятельности вступающих в них предприятий значения не имеет.

Одним из направлений деятельности предпринимательских ассоциаций является выражение коллективной позиции членов по вопросам государственной политики, участие в выработке государственных решений, затрагивающих область их корпоративных интересов. Кроме этого, ассоциации предполагают деловые контакты между своими членами, организацию круглых столов и семинаров.

Они координируют предпринимательскую деятельность в своём секторе рынка или на территории своего региона и предоставляют участникам ассоциации деловые услуги, помощь во внешнеэкономических контактах и информационную поддержку. Именно в профессиональной среде вырабатываются этические нормы, идёт передача полезного опыта, повышается уровень доверия фирм друг к другу и качество услуг.

Для вступления в деловые ассоциации чаще всего достаточно уплатить вступительный взнос и написать заявление на имя руководителя. Иногда могут потребоваться рекомендации других членов объединения.

Но эффективность работы ассоциаций во многом зависит от активности их участников. Пассивная позиция «я плачу взносы, поэтому требую помощи» здесь явно не подходит.

По данным Института стратегического анализа и развития предпринимательства (ИСАРП), в России в деловых ассоциациях состоят лишь 10–15 % предприятий. Начиная с 1996 года наблюдается сокращение доли предприятий — членов предпринимательских объединений. Для сравнения: в зарубежных странах в подобных объединениях состоят более 60 % всех предприятий.

(Т. Кузьминых, О. Кудряшова)

1. Приведите положение текста, в котором автор называет основные виды предпринимательских объединений.
2. Укажите любые три функции, выполняемые предпринимательскими ассоциациями в условиях современной рыночной экономики. Проиллюстрируйте каждую из них примерами.
3. Автор убеждён, что эффективность работы ассоциаций во многом зависит от активности их участников. Используя факты общественной жизни и личный опыт, назовите ещё три фактора, оказывающих на неё влияние.
4. Автор подчёркивает, что начиная с 1996 года наблюдается сокращение доли предприятий — членов предпринимательских объединений. Как Вы думаете, почему? Назовите три возможных причины сложившейся ситуации.

3. Какой смысл вкладывают обществоведы в понятие «собственность»? Привлекая знания обществоведческого курса, составьте два предложения: одно предложение, содержащее информацию о правах собственника, и одно предложение, содержащее информацию о формах собственности.

4. Какой смысл обществоведы вкладывают в понятие «государственный бюджет»? Привлекая знания обществоведческого курса, составьте два предложения: одно предложение, содержащее информацию о формировании государственного бюджета, и одно предложение о состоянии бюджета.

4. Одним из направлений экономической политики государства выступает протекционизм. Приведите три конкретных примера проявления протекционизма в экономической политике.

5. Укажите любые три источника финансирования бизнеса, каждый из которых проиллюстрировав примером.

3. В стране Z для развития экономики была снижена ставка рефинансирования центрального банка. Назовите любые три последствия данного решения для финансовой сферы страны Z.

4. Удельный вес расходов на оплату труда в стоимости продукции в США составляет 32 %, в Англии — 27 %, в Японии — 11 %. Так, в стоимости итальянских автомобилей «Фиат» на зарплату приходится 31 %, а в стоимости соответствующих японских — 6,6 %. Сделайте вывод на основе анализа приведённых данных. Опираясь на обществоведческие знания, укажите два фактора, влияющих на уменьшение доли заработной платы в стоимости продукции.

1. Вам поручено подготовить развёрнутый ответ по теме «Роль государства в экономике». Составьте план, в соответствии с которым Вы будете освещать эту тему. План должен содержать не менее трёх пунктов, из которых два или более детализированы в подпунктах.

Вариант 1

1. Запишите слово, пропущенное в таблице.

Основные виды бирж			
товарная	валютная	фондовая

Ответ: _____.

2. Найдите понятие, которое является обобщающим для всех остальных понятий представленного ниже ряда, и запишите цифру, под которой оно указано.

- 1) налог на собственность; 2) прямой налог; 3) подоходный налог;
4) налог на землю; 5) налог на наследство.

Ответ:

3. Ниже приведён перечень терминов. Все они, за исключением двух, характеризуют понятие «экономический цикл».

- 1) подъём; 2) спад; 3) нис; 4) прибыль; 5) тренд; 6) кризис;
7) рецессия.

Найдите два термина, «выпадающих» из общего ряда, и запишите в таблицу цифры, под которыми они указаны.

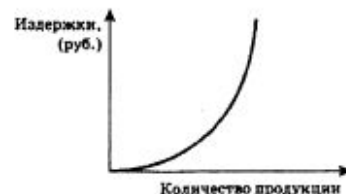
Ответ:

4. Выберите верные суждения об общественных благах и запишите цифры, под которыми они указаны.

- 1) Жилищная проблема граждан решается посредством индивидуального жилищного строительства.
2) Из государственного бюджета осуществляется финансирование работы НИИ по созданию нового лекарственного препарата от сахарного диабета.
3) Муниципальный бюджет оплачивает расходы, связанные с освещением улиц города.
4) Компьютеризация промышленности осуществляется за счёт собственных средств предприятий.
5) Гражданин приобрёл грузовой автомобиль для занятия бизнесом.

Ответ: _____.

5. На графике изображены издержки кафе-кондитерской в краткосрочном периоде.



Выберите статьи затрат, которые могут быть отражены этим графиком.

- 1) плата за упаковку
2) плата за аренду офиса
3) зарплата бухгалтера
4) зарплата сторожа
5) расходы на приобретение сырья: муки, сахара, фруктов

Ответ: _____.

6. Установите соответствие между факторами и видами экономического роста: к каждой позиции, данной в первом столбце, подберите соответствующую позицию из второго столбца.

**ФАКТОРЫ
ЭКОНОМИЧЕСКОГО
РОСТА**

**ВИДЫ
ЭКОНОМИЧЕСКОГО
РОСТА**

- А) ввод в действие дополнительного оборудования
Б) приглашение иностранных рабочих
В) открытие новых месторождений полезных ископаемых
Г) повышение квалификации работников
Д) укрупнение производства, экономия на масштабах

- 1) интенсивный
2) экстенсивный

Запишите в таблицу выбранные цифры под соответствующими буквами.

Ответ:

А	Б	В	Г	Д

7. Выберите верные суждения, характеризующие экономику как хозяйство, и запишите цифры, под которыми они указаны.

- 1) Экономика объясняет процессы ценообразования.
2) Экономика производит необходимые обществу товары и услуги.
3) Экономисты разрабатывают перспективные модели развития отечественной промышленности.
4) ВВП страны в прошлом году вырос на 1,5 %.
5) Экономисты исследуют причины роста инфляции.

Ответ: _____.

8. Установите соответствие между экономическими теориями и раскрывающими их сущность характеристиками: к каждой позиции, данной в первом столбце, подберите соответствующую позицию из второго столбца.

ХАРАКТЕРИСТИКИ

- А) её основой является трудовая теория стоимости и теория прибавочной стоимости
- Б) источником богатства является сфера промышленного производства, управляемая «невидимой рукой» рынка
- В) необходимость государственного регулирования рыночной экономики
- Г) внешняя торговля рассматривается как главный источник доходов; она обеспечивает приток золота в страну, подчиняется принципу: вывезть больше, чем ввозить
- Д) главный источник богатства нации — в земледелии, в сельскохозяйственном производстве
- Е) государственное вмешательство в экономику ограничивается только поддержанием стабильного темпа роста денежной массы

ЭКОНОМИЧЕСКИЕ ТЕОРИИ

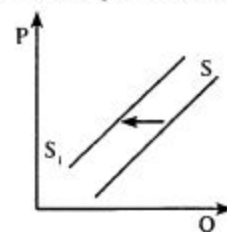
- 1) меркантилизм
- 2) физиократия
- 3) классическая политэкономия Адама Смита
- 4) марксистская политэкономия
- 5) рыночный либерализм
- 6) кейнсианство

Запишите в таблицу выбранные цифры под соответствующими буквами.

Ответ:

А	Б	В	Г	Д	Е

9. На рисунке отражена ситуация на рынке услуг частных клиник: линия предложения S переместилась в новое положение S_1 (P — цена товара, Q — объём предложения).



Из приведённого ниже списка выберите факторы, которые могут повлиять на изменение объёма предложения, и запишите цифры, под которыми они указаны.

- 1) существенный рост доходов населения
- 2) возрастание государственных требований к лицензированию врачебной практики
- 3) отмена ввозных пошлин на фармацевтические средства зарубежных производителей
- 4) снижение доступности и качества медицинских услуг в государственных клиниках
- 5) повышение налога на доходы частных медицинских клиник

Ответ: _____.

10. Найдите в приведённом списке признаки, характеризующие традиционную экономику, и запишите цифры, под которыми они указаны.

- 1) натуральная система хозяйствования
- 2) решения принимаются самостоятельными хозяйствующими субъектами на основе свободы выбора
- 3) решения о производстве, распределении и потреблении благ принимаются на основе обычаев и традиций
- 4) высокая степень монополизации экономики — сочетание крупных размеров предприятий и сосредоточение всего производства на них
- 5) общество состоит из массы однородных хозяйственных единиц (крестьянских семей, общин, феодальных поместий)
- 6) жёсткое адресное государственное планирование из единого экономического центра

Ответ: _____.

12. Прочитайте приведённый ниже текст, в котором пропущен ряд слов. Выберите из предлагаемого списка слова, которые необходимо вставить на место пропусков.

Основная проблема для экономики — это согласование безграничных и постоянно растущих потребностей людей с ограниченными _____ (А) для их удовлетворения.

Что такое потребности? Это понятие весьма многозначно и исторически изменчиво. Это _____ (Б) того, без чего нельзя поддерживать не только жизнь человека, но и его развитие как личности и как члена общества. Человек своей хозяйственной деятельностью научился удовлетворять свои разнообразные потребности, производя товары и услуги, т. е. экономические блага. При этом количество и качество этих благ непрерывно растёт и меняется под влиянием технического _____ (В), расширения кругозора людей, моды, рекламы и т. д. Таким образом, потребности всё время растут. А для того чтобы их удовлетворить, нужны _____ (Г). Те из них, которые удаётся вовлечь в производство экономических благ, называются факторами производства. Постепенно наука расширяла свои представления о факторах, необходимых для производства благ. Сначала считалось, что главный ресурс, главный фактор — это _____ (Д), что только сельское хозяйство может произвести необходимые блага. Позднее в качестве неперенного фактора признали _____ (Е) в любой сфере материального производства, а не только в сельском хозяйстве. С именем К. Маркса связано признание _____ (Ж) как важнейшего фактора экономического развития.

Слова в списке даны в именительном падеже. Каждое слово может быть использовано только один раз.

Выбирайте последовательно одно слово за другим, мысленно заполняя каждый пропуск. Обратите внимание на то, что слов в списке больше, чем Вам потребуется для заполнения пропусков.

Список терминов:

- 1) капитал
- 2) производство
- 3) возможности
- 4) ресурсы
- 5) прогресс
- 6) нехватка
- 7) информация
- 8) земля
- 9) труд

В данной ниже таблице приведены буквы, обозначающие пропущенные слова. Запишите в таблицу под каждой буквой номер выбранного Вами слова.

Ответ:

А	Б	В	Г	Д	Е	Ж

1. Запишите слово, пропущенное в таблице.

Виды экономической политики	Характеристика
Фискальная	Регулирование государственного бюджета
.....	Контроль за денежной массой

Ответ: _____.

2. Найдите понятие, которое является обобщающим для всех остальных понятий представленного ниже ряда, и запишите цифру, под которой оно указано.

- 1) таможенная пошлина;
- 2) налоги;
- 3) акцизы;
- 4) прогрессивная шкала;
- 5) декларация.

Ответ:

3. Ниже приведён перечень терминов. Все они, за исключением двух, относятся к понятию «рыночная экономика».

- 1) товарное производство;
- 2) предпринимательство;
- 3) государственный план;
- 4) частная собственность;
- 5) конкуренция;
- 6) свободные цены;
- 7) централизованное ценообразование.

Найдите два термина, «выпадающих» из общего ряда, и запишите в таблицу цифры, под которыми они указаны.

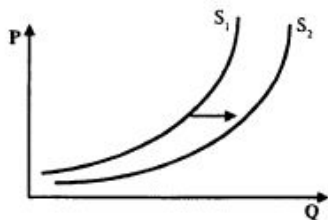
Ответ:

4. Выберите верные суждения о валовом внутреннем продукте и запишите цифры, под которыми они указаны.

- 1) ВВП включает в себя совокупную стоимость конечных товаров и услуг, созданных как внутри страны, так и за её пределами.
- 2) ВВП включает в себя рыночную стоимость всех конечных товаров и услуг, произведённых за год во всех отраслях экономики на территории государства.
- 3) Под ВВП понимают смету доходов и расходов государства, которая устанавливается на год.
- 4) ВВП — это совокупность экономических отношений, возникающих в процессе формирования, распределения и использования денежных средств.
- 5) ВВП может рассчитываться по доходам, по расходам, по добавленной стоимости.

Ответ: _____.

5. На графике отображено изменение предложения спортивной одежды и инвентаря на соответствующем рынке: линия предложения переместилась из положения S_1 в положение S_2 (P – цена товара, Q – объём предложения).



Выберите из списка факторы, которые могли вызвать данные изменения на рынке, и запишите цифры, под которыми они указаны.

- 1) рост цен на сырьё и материалы, из которых изготавливают спортивные товары
- 2) увеличение арендной платы за использование производственных помещений
- 3) налоговые льготы и государственные программы поддержки предприятиям, производящим продукцию для массового и профессионального спорта
- 4) повышение стоимости транспортных расходов
- 5) увеличение количества фирм, занимающихся производством и продажей спортивной одежды и инвентаря

Ответ: _____.

6. Установите соответствие между типами акционерных обществ и их характеристиками: к каждой позиции, данной в первом столбце, подберите соответствующую позицию из второго столбца.

ХАРАКТЕРИСТИКИ

- А) возможность распоряжаться своими акциями без согласия других акционеров
- Б) свободная продажа акций
- В) ограничено число акционеров
- Г) преимущественное право акционеров на приобретение акций, продаваемых другим акционером

ТИПЫ

- 1) открытое акционерное общество
- 2) закрытое акционерное общество

Запишите в таблицу выбранные цифры под соответствующими буквами.

Ответ:

А	Б	В	Г

7. В стране Н. доходы государственного бюджета составили 250 млрд условных единиц, а расходы – 290 млрд условных единиц. Из них более 50 % – на военно-промышленный комплекс. Найдите в приведённом списке верные характеристики данного государственного бюджета и запишите цифры, под которыми они указаны.

- 1) Бюджет страны Н. является профицитным.
- 2) Бюджет страны Н. можно охарактеризовать как социально-ориентированный.

- 3) Государственный бюджет страны Н. является дефицитным.
- 4) В государстве Н. милитаризированный бюджет.
- 5) Бюджет страны Н. можно назвать сбалансированным.
- 6) Это бюджет страны с рыночной экономикой.

Ответ: _____.

8. Как известно, при подсчёте ВВП по методу расходов учитываются расходы потребителей, расходы фирм (инвестиции) и расходы государства, а также чистый экспорт (разность между экспортом и импортом). Установите соответствие между видами расходов и приведёнными ниже ситуациями: к каждой позиции, данной в первом столбце, подберите соответствующую позицию из второго столбца.

СИТУАЦИИ

- А) семья получает пособие на рождение ребёнка
- Б) жильцы платят коммунальные платежи
- В) строительство нового стадиона за счёт бюджетных средств
- Г) семья покупает бытовую технику
- Д) завод покупает новые станки

ВИДЫ РАСХОДОВ

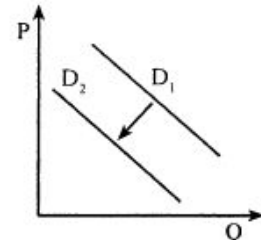
- 1) расходы потребителей
- 2) инвестиции
- 3) расходы государства

Запишите в таблицу выбранные цифры под соответствующими буквами.

Ответ:

А	Б	В	Г	Д

9. На рисунке ниже отражена ситуация на рынке легковых автомобилей: линия спроса D_1 переместилась в новое положение D_2 (P – цена товара, Q – объём спроса).



Из приведённого ниже списка выберите факторы, которые могут повлиять на изменение объёма спроса, и запишите цифры, под которыми они указаны.

- 1) рост цен на бензин
- 2) проблемы с парковкой автомобилей в городе, высокая стоимость парковки
- 3) снижение себестоимости производства автомобилей
- 4) снижение возраста получения водительских прав
- 5) рост конкуренции среди производителей автомобилей

Ответ: _____.

10. Найдите в приведённом списке вопросы, не относящиеся к фундаментальным вопросам экономики. Запишите цифры, под которыми они указаны.

- 1) Что производить?
- 2) По какой цене продавать?
- 3) Какие ресурсы использовать?
- 4) Как производить?
- 5) Для кого производить?
- 6) Как преобладать на рынке?

Ответ: _____.

12. Прочитайте приведённый ниже текст, в котором пропущен ряд слов. Выберите из предлагаемого списка слова, которые необходимо вставить на место пропусков.

Самой большой рыночной властью обладает _____ (А). Это рынок, на котором присутствует единственный _____ (Б) уникального продукта. Такой рынок не выгоден _____ (В) с точки зрения качества продукции, разнообразия _____ (Г), уровня цен. Чтобы не допустить образования новых рынков такого типа, _____ (Д) проводит _____ (Е) политику.

Слова в списке даны в именительном падеже. Каждое слово может быть использовано только один раз.

Выбирайте последовательно одно слово за другим, мысленно заполняя каждый пропуск. Обратите внимание на то, что слов в списке больше, чем Вам потребуется для заполнения пропусков.

Список терминов:

- 1) ассортимент
- 2) покупатель
- 3) продавец
- 4) монополия
- 5) конкуренция
- 6) товарищество
- 7) государство
- 8) разнообразный
- 9) антимонопольный

В данной ниже таблице приведены буквы, обозначающие пропущенные слова. Запишите в таблицу под каждой буквой номер выбранного Вами слова.

Ответ:

А	Б	В	Г	Д	Е

1. Какое слово пропущено в таблице?

Функции рынка	Характеристика
Информационная	Рынок предоставляет информацию о ценах, дефицитах и избытке товара
Регулирующая	С помощью рыночного механизма экономика перераспределяет свои ресурсы в пользу того или иного товара
.....	Рынок связывает воедино производителей и потребителей

Ответ: _____.

2. Найдите понятие, которое является обобщающим для всех остальных понятий представленного ниже ряда, и запишите цифру, под которой оно указано.

1) инвестиционный фонд; 2) коммерческий банк; 3) кредитная организация; 4) страховое общество; 5) сберегательная касса.

Ответ:

3. Ниже приведён перечень терминов. Все они, за исключением двух, относятся к понятию «обмен».

1) разделение труда; 2) производительные силы общества; 3) специализация производителей; 4) бартер; 5) унитарные предприятия; 6) товарно-денежные отношения.

Найдите два термина, «выпадающих» из общего ряда, и запишите в таблицу цифры, под которыми они указаны.

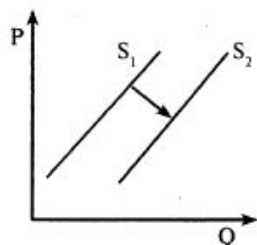
Ответ:

4. Выберите верные суждения, характеризующие функции государства в условиях рыночной экономики, и запишите цифры, под которыми они указаны.

- 1) За счёт государственных средств происходит финансирование и производство общественных благ.
- 2) Государство устанавливает твёрдые цены на продукты и товары широкого потребления.
- 3) Государство планирует работу всех хозяйствующих субъектов из единого центра.
- 4) Государство формирует правовой режим функционирования экономики.
- 5) Государство обеспечивает единое экономическое пространство и защищает частную собственность.

Ответ: _____.

5. На графике ниже отражена ситуация на рынке полимерной продукции: линия предложения из положения S_1 переместилась в положение S_2 (P – цена товара, Q – объём предложения).



Выберите из списка факторы, которые могли вызвать данные изменения на рынке, и запишите цифры, под которыми они указаны.

- 1) рост тарифов на газо- и нефтепродукты для промышленных предприятий
- 2) внедрение новой технологии производства полимеров, снижающей издержки
- 3) снижение налога на производителя продукции из полимерных материалов
- 4) открытие новых фирм в отрасли, производящей данный вид продукции
- 5) банкротство значительного количества фирм, работающих в данной отрасли, в связи с экономическим кризисом

Ответ: _____.

6. Термин *экономика* понимается в трёх аспектах. Установите соответствие между аспектами понимания этого термина и примерами, их иллюстрирующими: к каждой позиции, данной в первом столбце, подберите соответствующую позицию из второго столбца.

ПРИМЕРЫ

- А) Ежегодно в стране Н. производится 5 млрд тонн зерна.
- Б) В стране Н. сельское хозяйство активно поддерживается государством.
- В) Экономисты составили прогноз развития отечественной экономики на ближайшие 10 лет.
- Г) Предприниматель Н. заключил договор на поставку продукции в торговые точки.
- Д) Фирма «Агро» закупила оборудование для колбасного цеха.

АСПЕКТЫ ПОНИМАНИЯ ТЕРМИНА

- 1) как вид деятельности
- 2) как наука
- 3) как хозяйство

Запишите в таблицу выбранные цифры под соответствующими буквами.

Ответ:

А	Б	В	Г	Д

7. Выберите верные суждения о деятельности центрального банка в условиях спада в экономике, сокращения инвестиций и роста безработицы и запишите цифры, под которыми они указаны.

- 1) Центральному банку необходимо повысить учётную ставку.
- 2) Центральный банк должен снизить ставку рефинансирования.
- 3) Центральный банк должен активно покупать ценные бумаги на фондовой бирже.
- 4) Необходимо поддерживать высокий курс национальной валюты по сравнению с валютами других стран.
- 5) Центральный банк должен провести девальвацию национальной валюты.

Ответ: _____.

8. Установите соответствие между типами экономического роста и конкретными примерами, их иллюстрирующими: к каждой позиции, данной в первом столбце, подберите соответствующую позицию из второго столбца.

ПРИМЕРЫ

- А) Чаепроизводящая фирма наняла дополнительное количество женщин для сбора чайных листьев на своих плантациях.
- Б) Нефтедобывающая компания начала освоение нового месторождения нефти, истощив старое.
- В) Овощеводческая ферма в летний период времени наняла на временную работу студентов и учащихся для сбора огурцов и кабачков.
- Г) Японская фирма модернизировала линию по сборке автомобилей.
- Д) За счёт использования инновационных технологий на предприятии существенно возросла производительность труда.

ТИПЫ ЭКОНОМИЧЕСКОГО РОСТА

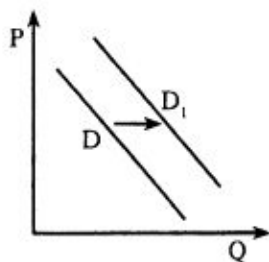
- 1) интенсивный
- 2) экстенсивный

Запишите в таблицу выбранные цифры под соответствующими буквами.

Ответ:

А	Б	В	Г	Д

9. На рисунке отражена ситуация на рынке услуг мобильной связи (P — цена, Q — объём спроса на услуги). Ряд компаний-операторов предложили потребителям новую услугу. Линия спроса D переместилась в положение D_1 .



Из приведённого ниже списка выберите факторы, которые могут повлиять на изменение объёма спроса, и запишите цифры, под которыми они указаны.

- 1) Потребители оценили полезность новой услуги.
- 2) Компании-операторы неверно установили цену услуги, это отпугнуло потребителей.
- 3) Доходы населения существенно сократились.
- 4) Компании-операторы не смогли обеспечить высокое качество предлагаемой услуги.
- 5) Новая услуга значительно расширила возможности пользователей данным видом связи.

Ответ: _____.

10. Рынок спортивной одежды области Z поделён между четырьмя крупными компаниями-операторами, другие производители не представлены. Выберите в приведённом ниже списке характеристики данного рынка и запишите цифры, под которыми они указаны.

- 1) рынок услуг
- 2) совершенная конкуренция
- 3) региональный рынок
- 4) рынок товаров
- 5) олигополия
- 6) рыночный дефицит

Ответ: _____.

12. Прочитайте приведённый ниже текст, в котором пропущен ряд слов. Выберите из предлагаемого списка слова, которые необходимо вставить на место пропусков.

Деньги были придуманы человечеством, прежде всего, для облегчения _____ (А). Первоначально роль денег играли различные _____ (Б), и лишь потом появились современные формы денег. Признаком денег является способность выполнять функции средства _____ (В) рыночной ценности товаров и средства сбережения.

Возникновение современных форм денег было вызвано неудобством _____ (Г), который требует чрезвычайной множественности относительных цен. Деньги позволили упростить функционирование _____ (Д) и облегчили всю хозяйственную жизнь общества. Деньги, кроме того, позволяют выражать ценность всех товаров в единой _____ (Е) и учитывать их для нужд контроля и управления.

Слова в списке даны в именительном падеже. Каждое слово может быть использовано только один раз.

Выбирайте последовательно одно слово за другим, мысленно заполняя каждый пропуск. Обратите внимание на то, что слов в списке больше, чем Вам потребуется для заполнения пропусков.

Список терминов:

- 1) обмен
- 2) измерение
- 3) издержки
- 4) бартер
- 5) торговля
- 6) система
- 7) прибыль
- 8) предметы
- 9) инфляция

В данной ниже таблице приведены буквы, обозначающие пропущенные слова. Запишите в таблицу под каждой буквой номер выбранного Вами слова.

Ответ:

	А	Б	В	Г	Д	Е

Вариант 5

1. Запишите слово, пропущенное в таблице.

Формы			
циклическая	структурная	сезонная	фрикционная

Ответ: _____.

2. Найдите понятие, которое является обобщающим для всех остальных понятий представленного ниже ряда, и запишите цифру, под которой оно указано.

- 1) совершенная конкуренция; 2) совокупный спрос; 3) рыночная экономика; 4) равновесная цена; 5) экономическая свобода.

Ответ:

3. Ниже приведён перечень терминов. Все они, за исключением двух, относятся к понятию «деньги».

- 1) ликвидность; 2) цена; 3) товар; 4) инфляция; 5) специализация; 6) натуральный обмен.

Найдите два термина, «выпадающих» из общего ряда, и запишите в таблицу цифры, под которыми они указаны.

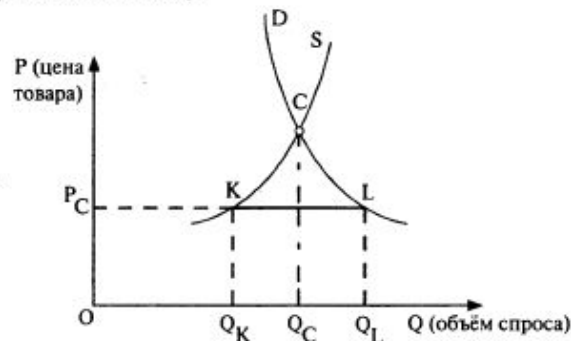
Ответ:

4. Выберите верные суждения об инфляции и запишите цифры, под которыми они указаны.

- 1) Слишком большое количество денег «гоняется» за малым количеством товаров.
- 2) Инфляция способствует повышению реальных доходов населения и понижению номинальных.
- 3) Инфляция – это рост объёма денежной массы, не обеспеченной товарами и услугами.
- 4) В результате инфляционных процессов в национальной экономике повышается инвестиционная активность зарубежного капитала.
- 5) Инфляция повышает уровень благосостояния граждан.

Ответ: _____.

5. На рисунке изображена ситуация на рынке продовольственных товаров в стране Н (S – кривая предложения, D – кривая спроса, C – равновесная цена).



Какие характеристики определяют ситуацию в закрашенном сегменте схемы и в районе линии KL?

- 1) дефицит продовольственных товаров в стране Н.
- 2) высокие затраты производителей продовольствия в стране Н.
- 3) избыточное предложение продуктов питания в стране Н.
- 4) кризис перепроизводства продуктов питания в стране Н.
- 5) в стране Н цена на продукты питания установлена ниже равновесной

Ответ: _____.

6. Установите соответствие между примерами использования факторов производства и факторными доходами: к каждой позиции, данной в первом столбце, подберите соответствующую позицию из второго столбца.

ПРИМЕРЫ	ФАКТОРНЫЕ ДОХОДЫ
А) Семья имеет в собственности земельный участок.	1) зарплата
Б) Андрей устроился слесарем 3 разряда на завод.	2) рента
В) Предприниматель успешно продал партию телевизоров.	3) процент
Г) Анна открыла накопительный вклад в коммерческом банке.	4) дивиденд
Д) Мария Петровна получила доход по принадлежащим ей акциям.	5) прибыль

Запишите в таблицу выбранные цифры под соответствующими буквами.

Ответ:

А	Б	В	Г	Д

7. Выберите верные суждения о предпринимательской деятельности и запишите цифры, под которыми они указаны.

- 1) Под предпринимательством понимается любая деятельность, приносящая доход.
- 2) Предпринимательская деятельность в РФ в основном регулируется нормами Гражданского кодекса.
- 3) Главным условием развития предпринимательства является монополизация экономики.
- 4) Предпринимательская деятельность осуществляется в условиях конкуренции за наилучшее применение имеющихся экономических ресурсов.
- 5) Предпринимательство бывает производственное, посредническое, инновационное.

Ответ: _____.

8. Установите соответствие между функциями заработной платы и их содержанием: к каждой позиции, данной в первом столбце, подберите соответствующую позицию из второго столбца.

**СОДЕРЖАНИЕ
ФУНКЦИЙ**

- А) обеспечение трудовой отдачи наёмного работника
Б) установление пропорций на рынке труда

**ФУНКЦИИ
ЗАРАБОТНОЙ ПЛАТЫ**

- 1) воспроизводственная
2) стимулирующая
3) статусная
4) регулирующая

- В) реализация принципа социальной справедливости
Г) определение меры участия живого труда в формировании цены товара
Д) соответствие статуса работника размеру заработной платы
Е) определение абсолютного уровня оплаты труда, необходимого для обеспечения жизненных потребностей работника и его семьи

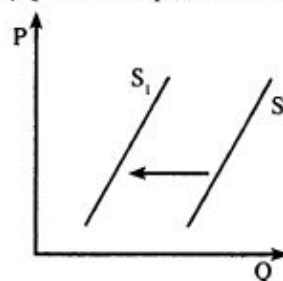
- 5) учётно-производственная
6) социальная

Запишите в таблицу выбранные цифры под соответствующими буквами.

Ответ:

А	Б	В	Г	Д	Е

9. На рисунке отражена ситуация на рынке изделий из натурального меха: линия предложения переместилась из положения S в положение S_1 (P – цена, Q – объём предложения на услуги).



Из приведённого ниже списка выберите факторы, которые могут повлиять на изменение объёма предложения, и запишите цифры, под которыми они указаны.

- 1) увеличение государством квоты на отлов пушного зверя
- 2) ожидание повышения цен на меховые изделия в связи с кризисом в отрасли
- 3) введение обязательной сертификации продукции из натурального меха и кожи
- 4) увеличение числа продавцов в данной сфере
- 5) усовершенствование технологии производства, удешевляющее себестоимость продукции

Ответ: _____.

10. Найдите в приведённом ниже списке признаки чистой монополии. Запишите цифры, под которыми они указаны.

- 1) единственный покупатель
- 2) открытое соперничество продавцов за рынки сбыта
- 3) реализуемый продукт уникален
- 4) цена на товар определяется соотношением спроса и предложения
- 5) полный контроль продавца над ценой товара и объёмом продаж
- 6) значительные барьеры для вступления в отрасль

Ответ: _____.

12. Прочитайте приведённый ниже текст, в котором пропущен ряд слов. Выберите из предлагаемого списка слова, которые необходимо вставить на место пропусков.

Протекционизм — естественная реакция многих стран на экономический _____ (А). Государства стремятся сохранить рабочие места, защитить внутренний рынок от иностранной _____ (Б) через систему определённых ограничений. Такая политика, с одной стороны, оказывает содействие развитию _____ (В) производства и защиты отечественного производителя, а с другой — может натолкнуться на ответные меры других государств, привести к застойным явлениям в экономике, усилению _____ (Г) и снижению конкурентоспособности отечественных товаров. Протекционизм защищает молодые отрасли _____ (Д) страны. На стадии становления отрасли её продукция часто не в состоянии конкурировать с продукцией из-за рубежа ввиду того, что её цена выше, чем у товаров конкурентов, а _____ (Е) ниже. Новая отрасль нуждается во временной защите со стороны государства, которая позволит ей развиваться.

Слова в списке даны в именительном падеже. Каждое слово может быть использовано только один раз.

Выбирайте последовательно одно слово за другим, мысленно заполняя каждый пропуск. Обратите внимание на то, что слов в списке больше, чем Вам потребуется для заполнения пропусков.

Список терминов:

- 1) качество
- 2) цикл
- 3) монополизм
- 4) пошлина
- 5) национальный
- 6) кризис
- 7) экспорт
- 8) хозяйство
- 9) конкуренция

В данной ниже таблице приведены буквы, обозначающие пропущенные слова. Запишите в таблицу под каждой буквой номер выбранного Вами слова.

Ответ:

А	Б	В	Г	Д	Е

Прочитайте текст и выполните задания 1–4.

Деньги, и это самое главное, являются средством обмена. Они сокращают издержки обмена, поскольку представляют собой тот общий знаменатель, к которому приведены все товары и услуги. Деньги позволяют людям вступать в отношения обмена на срок, включающий получение дохода и оплату покупки через длительное время, откладывание покупательной способности для будущего употребления. Деньги являются также единицей измерения, позволяющей проводить расчёты будущих доходов и издержек.

Однако экономическое значение денег напрямую связано с их стабильностью. В этом отношении деньги для экономики — то же самое, что язык для общения. Не существует слов, смысл которых непонятен как для говорящего, так и для слушателя — общение между ними было бы невозможно. То же самое и с деньгами. Если они не имеют стабильной и предсказуемой ценности, то для должников и кредиторов ведение обмена окажется накладным делом: сбережения, инвестиции и сделки, растянутые во времени (например, оплата в рассрочку купленного дома или автомобиля), будут связаны с дополнительным риском. При нестабильной ценности денег обмен становится затруднительным, а выигрыш от специализации, крупномасштабного производства и общественной кооперации снижается.

Причины денежной нестабильности ясны и понятны. Ценность денег, так же как и других товаров, определяется спросом и предложением. При постоянном или медленном устойчивом росте предложения денег их покупательная способность будет относительно стабильной. И напротив, если предложение денег растёт быстро и непредсказуемо относительно предложения товаров и услуг, цены повышаются, и покупательная способность денег падает. Так нередко происходит, если правительство, для того чтобы платить по своим счетам, печатает деньги или одалживает их у центрального банка.

Политики часто возлагают вину за инфляцию на алчных предпринимателей, могущественные профсоюзы, крупные нефтяные компании, иностранцев. Однако подобные уловки — не более чем средство отвлечь общественное мнение от истинных причин инфляции. И экономическая теория, и исторический опыт показывают,

что инфляция возникает в силу всего лишь одной-единственной причины — быстрого роста денежной массы. <...>

Инфляция разрушает экономику страны. <...> Но, наверное, самое разрушительное последствие инфляции — это подрыв веры граждан в своё правительство.

(Р. Струэн, Дж. Гартни)

1. Почему, по мнению авторов, нестабильность денег вредна для экономики? Какая причина нестабильности денег названа в тексте?
2. Какие три функции денег отмечены авторами? Приведите соответствующие фрагменты текста.
3. Авторы полагают, что инфляция разрушает экономику страны. Используя содержание текста, обществоведческие знания и факты общественной жизни, приведите три пояснения этого тезиса.
4. В тексте высказано мнение, что «самое разрушительное последствие инфляции — это подрыв веры граждан в своё правительство». Используя содержание текста, обществоведческие знания и личный социальный опыт, приведите три аргумента в обоснование этого мнения.

Прочитайте текст и выполните задания 1–4.

Коммерческим предприятиям необходимо эффективно работать, модернизировать производство, обновлять технологии. И только объединившись, можно повысить эффективность сотрудничества внутри своей отрасли в новых экономических условиях и успешно противостоять стихии рынка. Одним словом, решать возникающие проблемы вместе всегда проще.

Условно все предпринимательские объединения можно разделить на две группы. Первая — это профессиональные ассоциации, объединяющие компании по определённому виду деятельности: авиаперевозки, кредитно-банковская деятельность, строительство и др. Вторая группа — объединения, для которых род деятельности вступающих в них предприятий значения не имеет.

Одним из направлений деятельности предпринимательских ассоциаций является выражение коллективной позиции членов по вопросам государственной политики, участие в выработке государственных решений, затрагивающих область их корпоративных интересов. Кроме этого, ассоциации предполагают деловые контакты между своими членами, организацию круглых столов и семинаров.

Они координируют предпринимательскую деятельность в своём секторе рынка или на территории своего региона и предоставляют участникам ассоциации деловые услуги, помощь во внешнеэкономических контактах и информационную поддержку. Именно в профессиональной среде вырабатываются этические нормы, идёт передача полезного опыта, повышается уровень доверия фирм друг к другу и качество услуг.

Для вступления в деловые ассоциации чаще всего достаточно уплатить вступительный взнос и написать заявление на имя руководителя. Иногда могут потребоваться рекомендации других членов объединения.

Но эффективность работы ассоциаций во многом зависит от активности их участников. Пассивная позиция «я плачу взносы, поэтому требую помощи» здесь явно не подходит.

По данным Института стратегического анализа и развития предпринимательства (ИСАРП), в России в деловых ассоциациях состоят лишь 10–15 % предприятий. Начиная с 1996 года наблюдается сокращение доли предприятий — членов предпринимательских объединений. Для сравнения: в зарубежных странах в подобных объединениях состоят более 60 % всех предприятий.

(Т. Кузьминых, О. Кудряшова)

1. Приведите положение текста, в котором автор называет основные виды предпринимательских объединений.
2. Укажите любые три функции, выполняемые предпринимательскими ассоциациями в условиях современной рыночной экономики. Проиллюстрируйте каждую из них примерами.
3. Автор убеждён, что эффективность работы ассоциаций во многом зависит от активности их участников. Используя факты общественной жизни и личный опыт, назовите ещё три фактора, оказывающих на неё влияние.
4. Автор подчёркивает, что начиная с 1996 года наблюдается сокращение доли предприятий — членов предпринимательских объединений. Как Вы думаете, почему? Назовите три возможных причины сложившейся ситуации.

3. Какой смысл вкладывают обществоведы в понятие «собственность»? Привлекая знания обществоведческого курса, составьте два предложения: одно предложение, содержащее информацию о правах собственника, и одно предложение, содержащее информацию о формах собственности.

4. Какой смысл обществоведы вкладывают в понятие «государственный бюджет»? Привлекая знания обществоведческого курса, составьте два предложения: одно предложение, содержащее информацию о формировании государственного бюджета, и одно предложение о состоянии бюджета.

4. Одним из направлений экономической политики государства выступает протекционизм. Приведите три конкретных примера проявления протекционизма в экономической политике.

5. Укажите любые три источника финансирования бизнеса, каждый из которых проиллюстрировав примером.

3. В стране Z для развития экономики была снижена ставка рефинансирования центрального банка. Назовите любые три последствия данного решения для финансовой сферы страны Z.

4. Удельный вес расходов на оплату труда в стоимости продукции в США составляет 32 %, в Англии — 27 %, в Японии — 11 %. Так, в стоимости итальянских автомобилей «Фиат» на зарплату приходится 31 %, а в стоимости соответствующих японских — 6,6 %. Сделайте вывод на основе анализа приведённых данных. Опираясь на обществоведческие знания, укажите два фактора, влияющих на уменьшение доли заработной платы в стоимости продукции.

1. Вам поручено подготовить развёрнутый ответ по теме «Роль государства в экономике». Составьте план, в соответствии с которым Вы будете освещать эту тему. План должен содержать не менее трёх пунктов, из которых два или более детализированы в подпунктах.

4. Экономика

4.2. Тренировочные задания на множественный выбор правильных ответов и задания с кратким ответом

№ задания	Вариант 1	Вариант 2	Вариант 3	Вариант 4	Вариант 5
1	труда	монетарная	протекционизм	посредническая или интегрирующая	безработицы
2	2	2	3	3	3
3	45	37	16	25	56
4	23	25	135	145	134
5	15	35	14	234	15
6	22211	1122	32411	33211	21534
7	24	34	12	25	245
8	436125	31312	12212	22211	246531
9	25	12	23	15	23
10	135	236	25	345	356
11	32311	12223	32122	21113	32122
12	3654819	432179	614293	182456	695381

4.3.1. Задания на работу с текстами

Текст 1

1. Все предпринимательские объединения можно разделить на две группы:

1) профессиональные ассоциации, объединяющие компании по определённому виду деятельности: авиаперевозки, кредитно-банковская деятельность, строительство и др.;

2) объединения, для которых род деятельности вступающих в них предприятий значения не имеет.

2. Могут быть названы следующие функции:

— выражение коллективной позиции членов по вопросам государственной политики;

— участие в выработке государственных решений, затрагивающих область их корпоративных интересов;

— деловые контакты между своими членами, организация круглых столов и семинаров;

— координация предпринимательской деятельности в своём секторе рынка или на территории своего региона;

— предоставление участникам ассоциации деловых услуг;

— помощь во внешнеэкономических контактах и информационная поддержка;

— выработка этических норм, передача полезного опыта, повышение уровня доверия фирм друг к другу и качества услуг.

4. Могут быть приведены следующие примеры:

— ассоциация банкиров России разработала программу «Стратегия развития банковского сектора на период до 2020 года»;

— объединение фирм, специализирующихся на риелторской деятельности, определило основные стандарты оказания услуг на рынке недвижимости;

— коллективное обращение фермеров Юга России к Президенту РФ с просьбой ограничить рост цен на ГСМ в период посевной и уборочной кампаний);

— ассоциация риелторов провела цикл семинаров по основным проблемам земельного законодательства);

— ассоциация банкиров Юга России определила предельные размеры ставок процентов по банковским кредитам.

3. Могут быть названы следующие факторы:

1) политика государства в отношении ассоциаций предпринимателей;

2) общее состояние экономики и деловой активности в стране;

3) общий уровень экономической культуры предпринимателей.

4. Могут быть названы следующие причины:

1) предприниматели, озабоченные каждодневными проблемами выживания своего бизнеса, не располагают временем, чтобы участвовать в деятельности ассоциаций;

2) разочарование в ассоциациях, отсутствие реальной помощи, только сбор денег для представительства учредителей;

3) объединения не обладают должным авторитетом для представительства интересов бизнеса перед государством;

4) предприниматели, которые попросту не знают о существовании деловых ассоциаций.

Текст 2

1. Правильный ответ должен содержать следующие элементы:

1) ответ на первый вопрос, например:

«Для должников и кредиторов ведение обмена окажется накладным делом: сбережения, инвестиции и сделки, растянутые во времени, будут связаны с дополнительным риском. При нестабильной ценности денег обмен становится затруднительным, а выигрыш от специализации, крупномасштабного производства и общественной кооперации — снижается»;

2) ответ на второй вопрос, например:

«Причиной нестабильности денег является быстрый рост денежной массы».

Ответы на вопросы могут быть даны в иной, близкой по смыслу форме.

2. В правильном ответе должны быть названы функции и приведены соответствующие фрагменты текста, например:

1) средство обмена: «Деньги являются средством обмена»;

2) средство накопления: «Деньги позволяют людям вступать в отношения обмена на срок, включающий получение дохода и оплату покупки через длительное время, откладываяние покупательной способности для будущего употребления»;

3) единица измерения: «Деньги являются также единицей измерения, позволяющей проводить расчёты будущих доходов и издержек».

3. Могут быть приведены следующие пояснения:

1) высокий уровень инфляции приводит к остановке производства;

2) инфляция приводит к дезорганизации системы денежного обращения и её замене системой натуральных расчётов;

3) инфляция обесценивает трудовые услуги, существенно сокращает потребление.

Могут быть приведены другие пояснения.

4. Могут быть приведены следующие аргументы:

1) антиинфляционная политика всегда негативно отражается на уровне жизни и социальном самочувствии большинства населения, поэтому население к правительству может помешать осуществлению необходимых для снижения инфляции и оживления производства мер;

2) значительную роль в развитии инфляции играют инфляционные ожидания участников рынка, поэтому несомненно к правительству может усилить эти ожидания и дополнительно стимулировать увеличение инфляции;

3) несомненно граждан к правительству в условиях кризиса может привести к акциям социального протеста.

Могут быть приведены иные аргументы.

3. Правильный ответ должен содержать следующие элементы:

Смысл понятия:

Собственность — это экономические отношения между людьми по поводу принадлежности, раздела, передела материальных и духовных ценностей, юридическое право определённых лиц на такую принадлежность.

Может быть дано иное, близкое по смыслу определение.

Предложения:

1. Право собственности включает в себя три правомочия: владение, пользование, распоряжение.

2. Конституцией РФ и Гражданским кодексом РФ нормативно установлены три формы собственности: государственная (федеральная и субъектов Федерации), муниципальная и частная собственность.

Могут быть составлены любые другие предложения.

4. Правильный ответ должен содержать следующие элементы:

Смысл понятия:

Государственный бюджет — это смета доходов и расходов государства на определённый период времени.

Может быть приведено иное, близкое по смыслу определение.

Предложения:

1. Государственный бюджет составляется правительством и утверждается высшими законодательными органами.

2. В зависимости от соотношения доходной и расходной частей государственного бюджета он может быть дефицитным, профицитным или сбалансированным.

Могут быть составлены любые другие предложения.

4. Правильный ответ должен содержать следующие элементы:

Приведены примеры протекционизма, допустим:

1) для того чтобы поддерживать отечественного производителя автомобилей, государство повышает пошлины на ввоз автомобилей иностранных марок, как подержанных, так и новых, чтобы их цена на внутреннем рынке была выше цен на отечественные автомобили;

2) государство предоставляет субсидии отечественным производителям, для того чтобы поддержать их конкурентоспособность;

3) государство предоставляет льготы по налогообложению для отечественных предприятий, тем самым стимулируя их развитие.

Могут быть приведены другие примеры.

3. В правильном ответе должны быть названы три последствия:

- 1) снизились ставки по кредитам;
- 2) понизились доходы по вкладам;
- 3) снизился курс национальной валюты.

4. Правильный ответ должен содержать следующие элементы:

1) вывод: в Японии удельный вес расходов на оплату труда в стоимости продукции в 2–3 раза ниже, чем в других странах;

2) возможные факторы, влияющие на уменьшение доли зарплаты в стоимости продукции:

- стоимость жизненных благ, необходимых для поддержания способности человека к труду (в разных странах он различается);
- уровень квалификации работников;
- условия труда;
- спрос и предложение на рынке труда.

1. Один из вариантов плана раскрытия данной темы:

1. Экономические функции государства:
 - а) законодательное регулирование экономики;
 - б) предоставление общественных благ;
 - в) проведение социальной политики;
 - г) обеспечение экономического роста;
 - д) стабилизация экономики.
2. Финансирование экономической деятельности государства:
 - а) источники доходов госбюджета;
 - б) основные расходы госбюджета;
 - в) источники финансирования дефицита госбюджета.
3. Бюджетно-налоговая политика государства:
 - а) цели бюджетно-налоговой политики;
 - б) инструменты бюджетно-налоговой политики;
 - в) стимулирующая фискальная политика;
 - г) сдерживающая фискальная политика.
4. Монетарная политика:
 - а) поддержание стабильности национальной валюты;
 - б) борьба с инфляцией.
5. Кредитная политика:
 - а) политика учётной ставки;
 - б) определение размеров резервных фондов для коммерческих банков;
 - в) лицензирование и регулирование банковской деятельности.
6. Антимонопольная политика:
 - а) контроль за слиянием и объединением фирм;
 - б) контроль цен естественных монополий;
 - в) пресечение фактов недобросовестной конкуренции;
 - г) контроль и организация государственных закупок.
7. Значение государственного регулирования для обеспечения развития национальной экономики.

4. Один из вариантов плана раскрытия данной темы:

1. Понятие налогов и их виды:
 - а) прямые;
 - б) косвенные.
2. Системы налогообложения:
 - а) пропорциональная;
 - б) прогрессивная;
 - в) регрессивная.
3. Воздействие налогов на экономику страны, проявляющееся через реализацию следующих функций:
 - а) фискальная;
 - б) частичное перераспределение доходов;
 - в) регулирование экономических отношений;
 - г) стимулирующая;
 - д) контрольная и др.
4. Воздействие налогов на спрос и предложение как один из аспектов влияния на экономику страны.
5. Влияние налоговой политики государства на инвестиционную активность в стране.