
A stack of papers, slightly blurred, with a purple and blue color scheme.

# ХОЗЯЙСТВО ЗАРУБЕЖНОЙ ЕВРОПЫ.

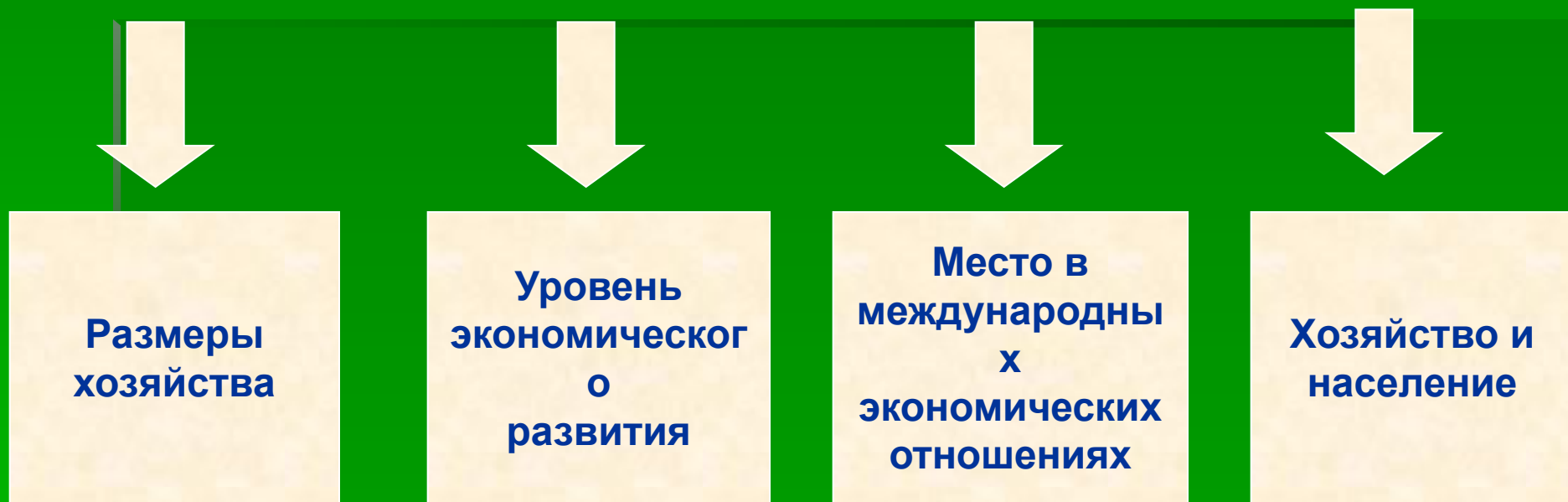
A large analog clock with a yellow face and black numbers, set against a yellow and orange background.

## Цель:

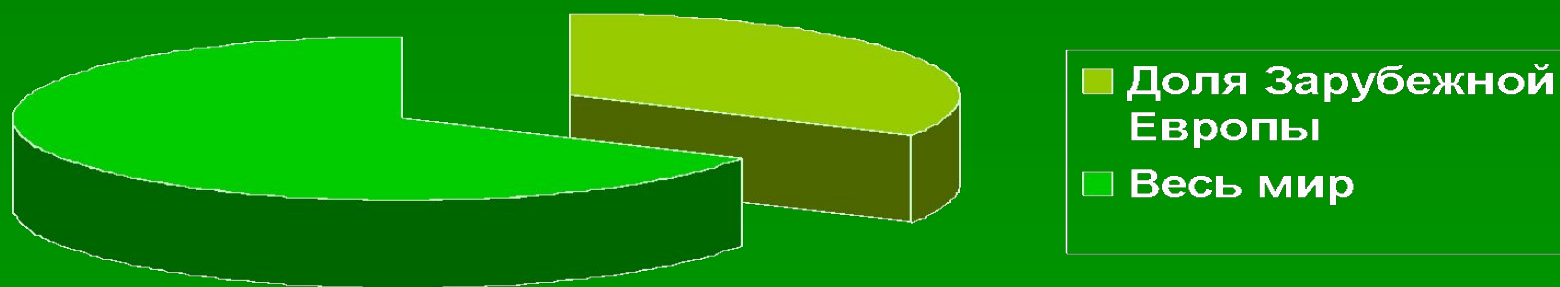
A stack of papers, slightly blurred, with a green and blue color scheme.

Оценить особенности хозяйства стран Зарубежной Европы

# Хозяйство Зарубежной Европы



# Размеры хозяйства



Приблизительно 1/3 мирового ВВП

## Пятёрка стран-лидеров (в трлн. \$, 2000г.)

- |                  |                         |                  |
|------------------|-------------------------|------------------|
| 1. ФРГ – 2,3     | 3. Великобритания - 1,4 | 5. Испания – 0,6 |
| 2. Франция – 1,5 | 4. Италия – 1,2         |                  |

# ВВП стран Зарубежной Европы



ВАЛОВОЙ ВНУТРЕННИЙ ПРОДУКТ (в млрд долларов США, во второй половине 1990-х гг. по официальному курсу валют)








Доля стран по валовому  
внутреннему продукту  
в мировом хозяйстве (в %)



# Уровень экономического развития




Производительность труда  
(в расчете на одного занятого  
в тыс. долл. в год)

 более 40	 10—20
 20—40	 5—10
	 менее 5

# Уровень экономического развития



## УРОВЕНЬ ЭКОНОМИЧЕСКОГО РАЗВИТИЯ СТРАНЫ \*

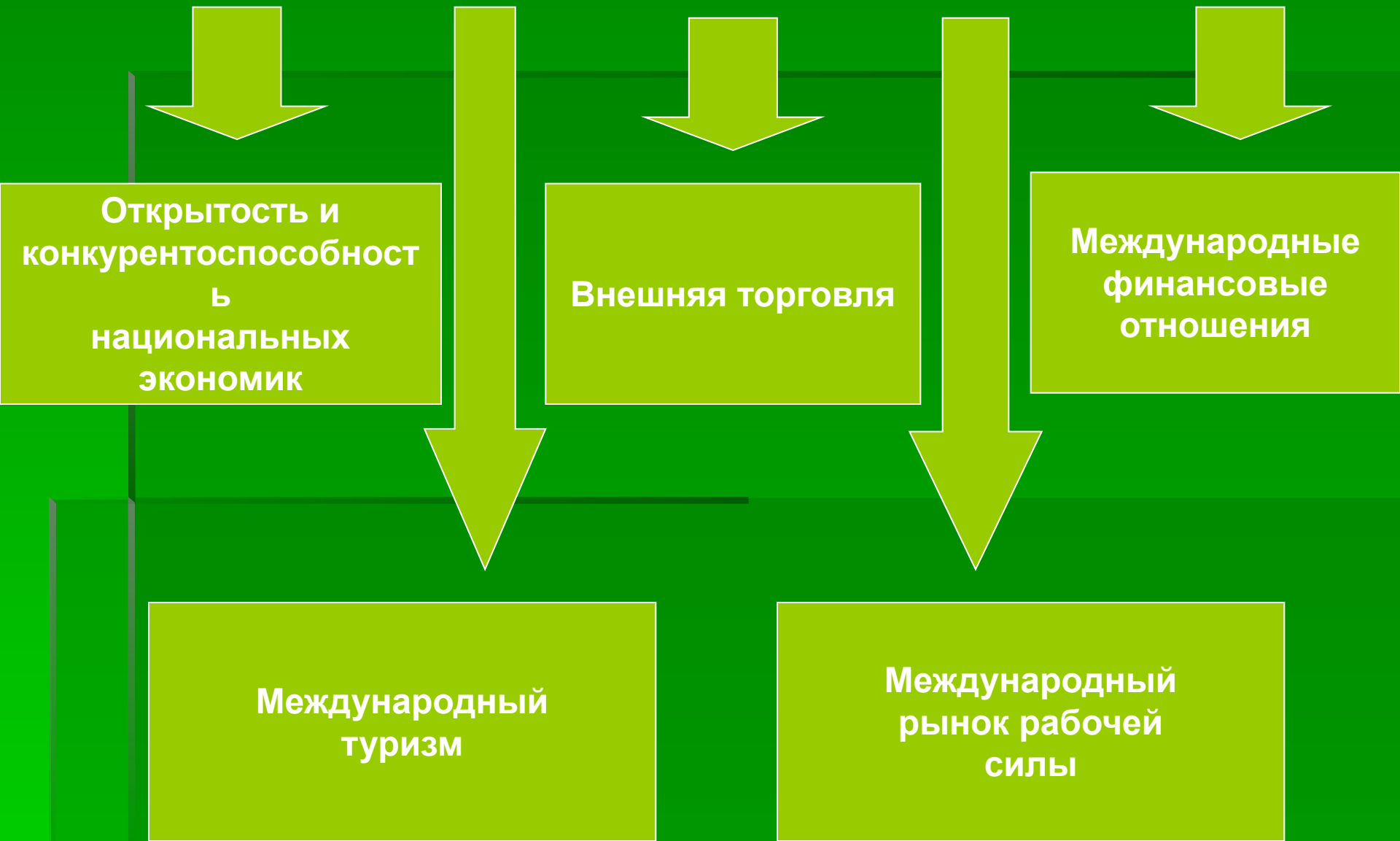


## ДОЛЯ В ЭКСПОРТЕ СТРАНЫ (в %)

**48** Германия машин и оборудования      **31** США продукции высоких технологий

\* Для оценки уровня экономического развития условно принят показатель производительности труда (стоимость произведенной продукции в расчете на 1-го занятого)

# Лидерство в МЭО



Открытость и конкурентоспособность национальных экономик

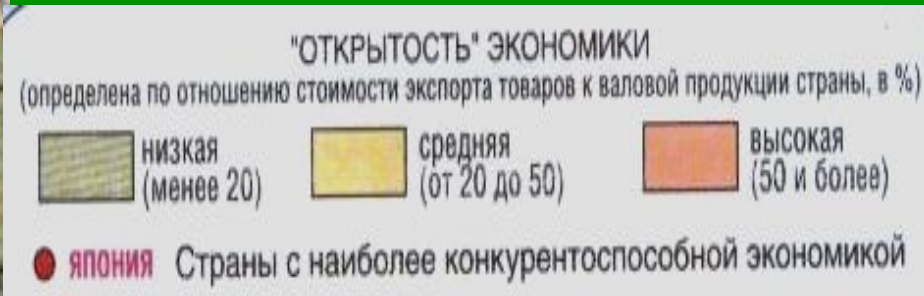
Внешняя торговля

Международные финансовые отношения

Международный туризм

Международный рынок рабочей силы

# Открытость и конкурентноспособность экономик

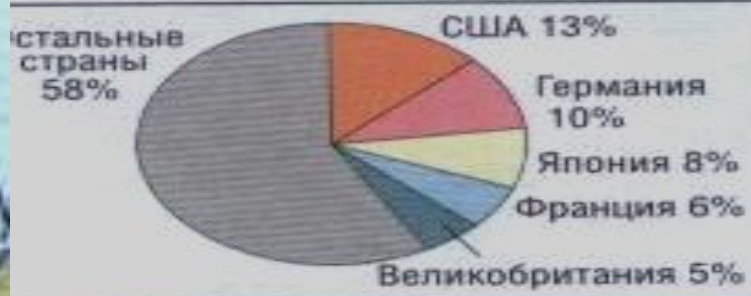




# Внешняя торговля



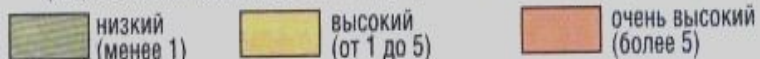
**Доля ведущих стран во внешней торговле товарами**



**Доля ведущих стран во внешней торговле услугами**



**УРОВЕНЬ РАЗВИТИЯ ВНЕШНЕЙ ТОРГОВЛИ**  
(оборот внешней торговли в расчете на душу населения в тыс. долларов США)



↪ основные внешнеторговые потоки товаров

# Финансовые отношения



СТРАНЫ МИРА, ОБЛАДАЮЩИЕ НАИБОЛЕЕ КРУПНЫМИ ЗАПАСАМИ ЗОЛОТА И ИНОСТРАННОЙ ВАЛЮТЫ (в млрд долларов США, в 1995 г.)

● более 150    ● от 100 до 150    ● от 50 до 100

СТРАНЫ-КРЕДИТОРЫ    ← Главные инвестиционные потоки

СТРАНЫ-ДОЛЖНИКИ  
(отношение внешнего долга к валовому национальному продукту, в %)

■ менее 25    ■ 25-50    ■ более 50    ■ нет данных

## Основные валюты мира

- \$ Доллар США
- ¥ Японская иена (Япония)
- £ Английский фунт стерлингов (Великобритания)
- € Евро (в отдельных странах Западной Европы)

# Рынок рабочей силы



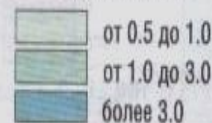
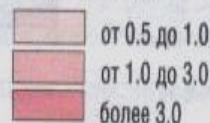
**Распределение иностранной рабочей силы по регионам мира (в %)**



**ЧИСЛЕННОСТЬ РАБОЧЕЙ СИЛЫ (в млн чел.)**

Страны-экспортеры рабочей силы

Страны-импортеры рабочей силы



← Основные направления миграции рабочей силы

Диаграммы показывают географию трудовой иммиграции в отдельных странах мира

# Международный туризм



**ВЕДУЩИЕ СТРАНЫ ПО КОЛИЧЕСТВУ**  
 принимаемых иностранных туристов, выезжающих за рубеж

● крупнейшие  
 ● крупные

● крупнейшие  
 ● крупные

→ основные потоки международного туризма

**ОСНОВНЫЕ РАЙОНЫ ТУРИЗМА**

○ ПРИМОРСКОГО    ○ ГОРНОЛЫЖНОГО    ○ КРУИЗНОГО

Доля стран мира в доходах от международного туризма (в %, в 1996 г.)



# Качество жизни в Зарубежной Европе



КАЧЕСТВО ЖИЗНИ НАСЕЛЕНИЯ

	Высокое		Низкое
	Среднее		

**НИГЕР** Страны с самым низким качеством жизни населения

**ЯПОНИЯ** Страны с самым высоким качеством жизни населения

ПРИМЕЧАНИЕ. Качество жизни населения определено на основании данных об уровнях дохода населения, образования и здравоохранения

# Хозяйство.

## Структура хозяйства



СТРАНЫ МИРА,  
В СТРУКТУРЕ ЭКОНОМИКИ КОТОРЫХ ПРЕОБЛАДАЕТ

-  сельское хозяйство
-  промышленность
-  непроизводственная сфера

# ЗАРУБЕЖНАЯ ЕВРОПА Специализация стран Европы

ОСОБЕННОСТИ	СТРАНА
Два лесных цеха Европы	Швеция и Финляндия
Страна цветов	Нидерланды
Ведущая роль АЭС в производстве электроэнергии	Франция
Использует геотермальную энергию, главный рыболов Европы	Исландия
Главная швейная фабрика региона	Португалия
Главная обувная фабрика региона	Италия
Молочная ферма Европы	Дания
Фруктовый сад Европы	Средиземноморье
Главные производители и потребители пива и хмеля	Германия, Чехия
Крупнейший экспортер апельсинов	Испания
Страна оливковых деревьев	Греция
Страна банкир	Швейцария
Родина лыжного спорта	Норвегия
Славится охотничьими ружьями и обработкой алмазов	Бельгия
Ведущий производитель горных лыж	Австрия

# Выводы:

- Зарубежная Европа занимает ведущие позиции в мировом хозяйстве по размерам экономики и уровню экономического развития
- Регион имеет крупномасштабные и разносторонние внешнеэкономические связи
- Мощный экономический потенциал способствовал формированию высоких стандартов жизни основной массы населения.



# Промышленность: главные отрасли.

Хозяйственный облик зарубежной Европы определяется прежде всего развитием промышленности. Уже более 200 лет промышленность является лицом зарубежной Европы в международном географическом разделении труда.

Особенности  
экономики  
зарубежной  
Европы

*Высокий технологический уровень развития*

*Высокая экспортность товаров и услуг*

*Наличие высококвалифицированных рабочих кадров*

*Наличие ресурсов*

*Высокое развитие малого и среднего предпринимательства*

**МАШИНОСТРОЕНИЕ**

**ХИМИЧЕСКАЯ ПРОМЫШЛЕННОСТЬ**

**ТОПЛИВНО-ЭНЕРГЕТИЧЕСКОЕ ХОЗЯЙСТВО**

**МЕТАЛЛУРГИЯ**

**ЛЕСНАЯ ПРОМЫШЛЕННОСТЬ**

**ЛЕГКАЯ ПРОМЫШЛЕННОСТЬ**

# Сельское хозяйство: три главных типа.

В регионе сложились три типа сельского хозяйства -

**СЕВЕРОЕВРОПЕЙСКИЙ**  
(преобладание интенсивного молочного животноводства и обслуживающего его растениеводство)

**СРЕДНЕЕВРОПЕЙСКИЙ**  
(преобладание молочно-мясного животноводства, свиноводства и птицеводства, значительная часть пахотных земель занята кормовыми культурами)

**ЮЖНО-ЕВРОПЕЙСКИЙ**  
(преобладание растениеводства, производство фруктов, цитрусовых, оливок, винограда и др.)

Карта Европы

## СПЕЦИАЛИЗАЦИЯ СЕЛЬСКОГО ХОЗЯЙСТВА

- |     |  |
|-----|--|
| 1   | Садоводство, виноградарство, субтропические культуры, овощеводство                   |
| 2   | Производство технических и специальных культур                                       |
| 3   | Зерновое хозяйство   |
| 4   | Производство технических культур и зерновое хозяйство                                |
| 5   | Зерновое хозяйство и животноводство  |
| 6   | Производство технических культур, зерновое хозяйство и животноводство                |
| 7   | Животноводство и производства технических культур                                    |
| 8   | Молочное скотоводство  |
| 9   | Мясо-молочное скотоводство   |
| 10  | Мясо-шерстяное пастбищное животноводство   |
| 11  | Неспециализированное земледелие  |
| 12  | Неспециализированное земледелие и животноводство                                     |
| 13  | Лесопромышленное хозяйство, охота, рыболовство с очагами земледелия и животноводства |
| 14  | Малопользуемые и неиспользуемые земли  |
| /// | Районы наиболее интенсивного производства  |



# ТРАНСПОРТ: ГЛАВНЫЕ МАГИСТРАЛИ И УЗЛЫ.

Сравнительно небольшие расстояния стимулировали развитие **автомобильного транспорта**, который играет главную роль не только в перевозках пассажиров, но и грузов. (См. диаграмму)

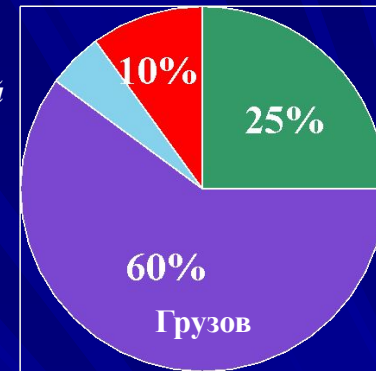


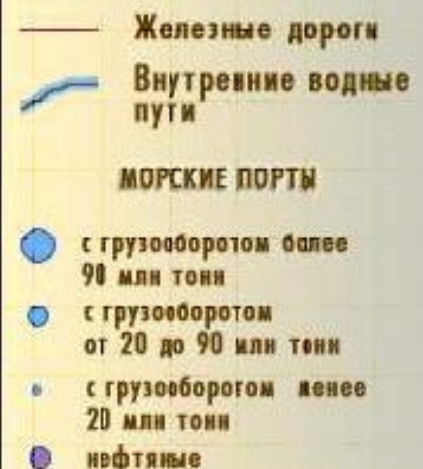
Диаграмма: Доля видов транспорта в перевозках - (Франция)

Имеется **густая сеть очень хороших автомобильных дорог**, в том числе международного значения (например, крупнейшая трансевропейская автомагистраль «Север - Юг»). [Смотри карту 2\).](#)

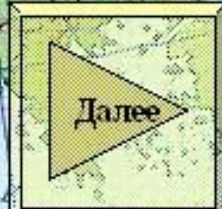
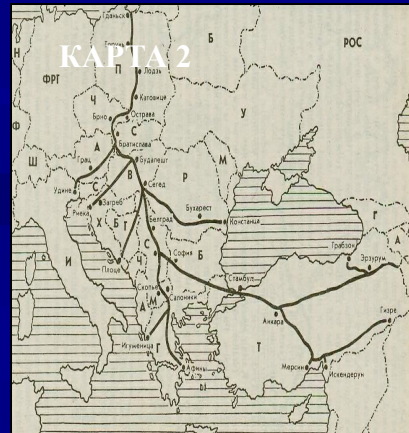
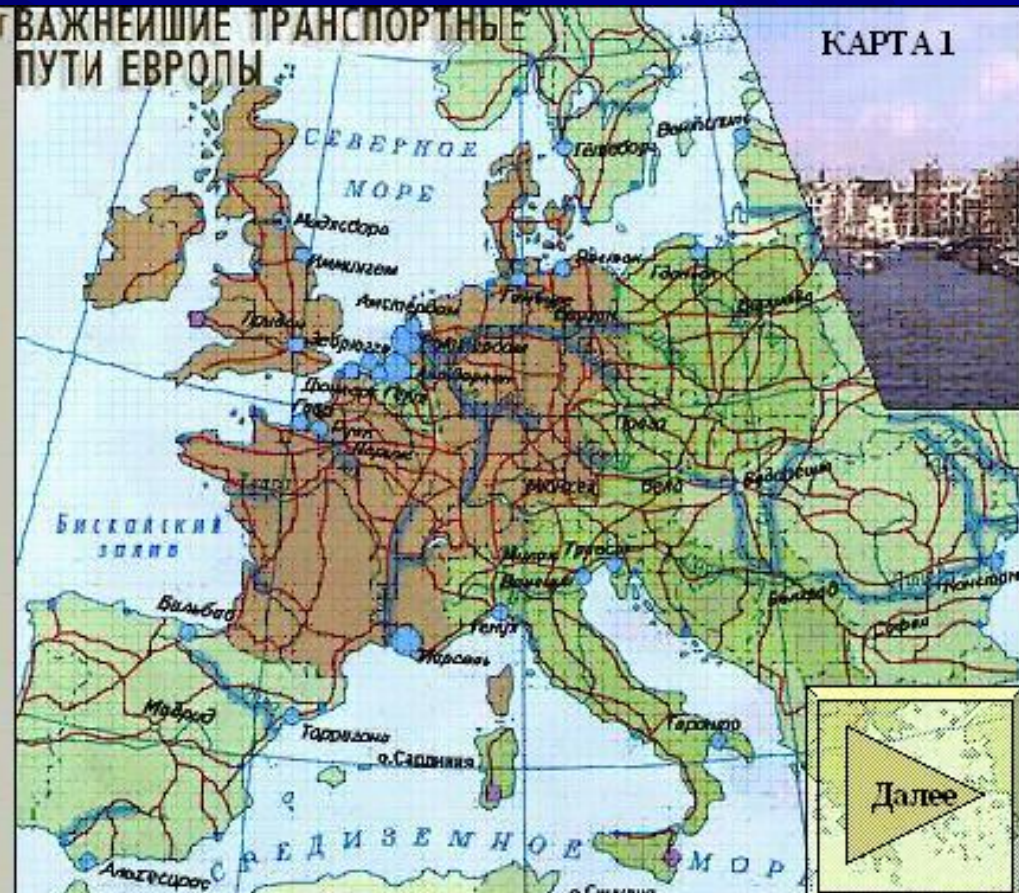
ГУСТОТА СЕТИ АВТОМОБИЛЬНЫХ ДОРОГ С ТВЕРДЫМ ПОКРЫТИЕМ (в км на 100 км<sup>2</sup> территории)




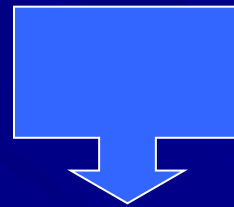

ВАЖНЕЙШИЕ ПУТИ СООБЩЕНИЯ



ВАЖНЕЙШИЕ ТРАНСПОРТНЫЕ ПУТИ ЕВРОПЫ



# Территориальный рисунок



Высокоразвитые  
районы

Старопромышленные  
районы

Аграрные районы

Районы нового освоения

# Экономико-географическое обоснование развития и размещения двух – трёх отраслей промышленности в одной из стран Зарубежной Европы.

**Вариант 1.** Экономико-географическое обоснование развития и размещения энергетики, алюминиевой и лесной промышленности Норвегии.

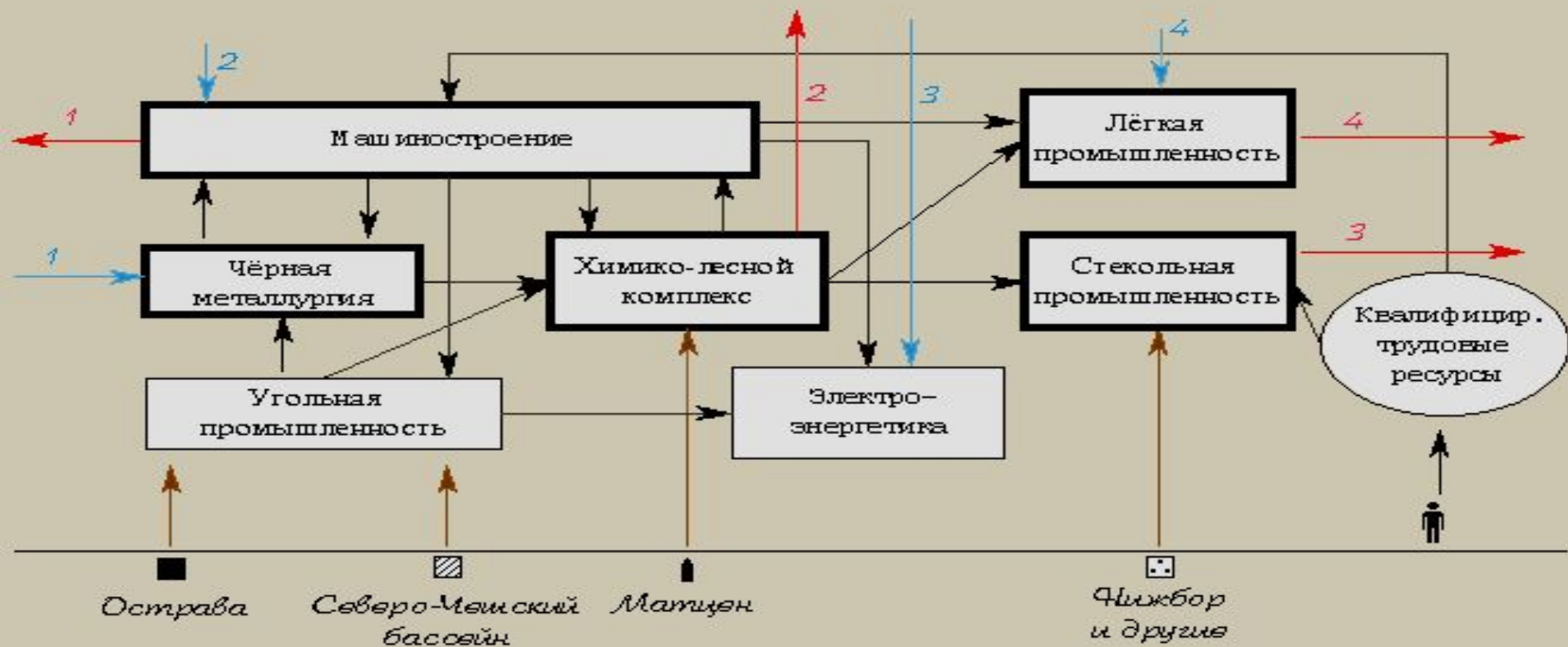
**Вариант 2.** Экономико-географическое обоснование развития и размещения металлургии, машиностроения и химической промышленности Германии.

**Вариант 3.** Экономико-географическое обоснование развития и размещения лёгкой и пищевой промышленности Португалии.

**Вариант 4.** Экономико-географическое обоснование развития и размещения алюминиевой промышленности, машиностроения и пищевой промышленности Венгрии.

**Вариант 5.** Экономико-географическое обоснование развития машиностроения и лесной промышленности Финляндии.

**Вариант 6.** Экономико-географическое обоснование развития чёрной металлургии, машиностроения и химической промышленности Польши.



**Условные знаки:**

- - каменный уголь
- ▨ - бурый уголь
- ⬮ - графит
- ▣ - стекляные пески
- ⤴ - население
- - межотраслевые связи
- ← - экспорт
- 1 - автомобили, локомотивы, электротехника, оборудование для АЭС
- 2 - лекарства, бытовая химия, карандаши
- 3 - стекло, хрусталь
- 4 - одежда, обувь
- ← - импорт
- 1 - руды чёрных металлов
- 2 - цветные металлы
- 3 - нефть, природный газ
- 4 - хлопок, шерсть, кожа

**Образец выполнения  
Экономико-географическое  
обоснование развития и  
размещения машиностроения,  
лёгкой и  
стекольной промышленности  
Чехии**

# Составление картосхемы главных промышленных и сельскохозяйственных районов Зарубежной Европы.



1. На контурной карте Европы подпишите названия соседних регионов, а также морей и океанов, омывающих её берега.
2. Обозначьте условными знаками главные районы добывающей промышленности европейских стран.
3. Условными знаками обозначьте на карте важнейшие промышленные районы Зарубежной Европы, отразив их промышленную специализацию. Не забудьте подписать названия промышленных районов!
4. Условными знаками обозначьте страны, в структуре энергетики которых преобладают ГЭС и АЭС.
5. Различным цветом заштрихуйте территорию стран с разными типами сельского хозяйства.
5. Сделайте вывод о развитии промышленности и сельского хозяйства Зарубежной Европы.

# Образец выполнения работы:




## Обработывающая промышленность:

-  - чёрная металлургия
-  - цветная металлургия
-  - машиностроение
-  - химическая
-  - нефтеперерабатывающая
-  - лесная
-  - лёгкая
-  - пищевая

## Энергетика:

-  - страны с преобладанием ГЭС
-  - страны с преобладанием АЭС

## Типы сельского хозяйства:

-  - северо-европейский
-  - средне-европейский
-  - южно-европейский

