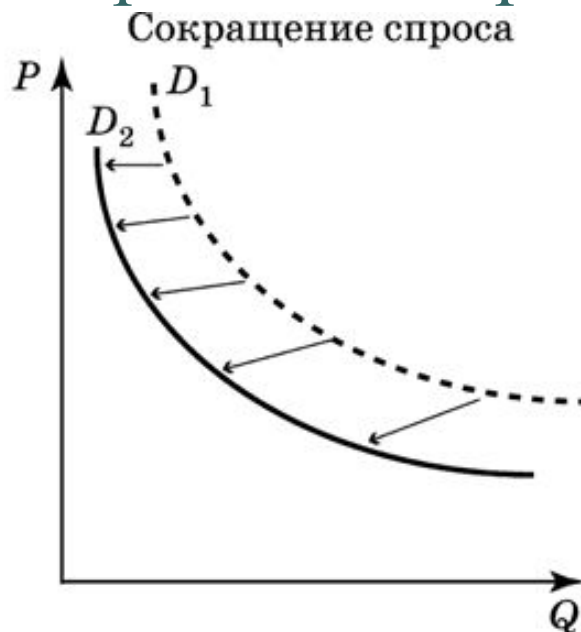


*«Спрос. Предложение.
Равновесная цена»*

Решение заданий с
графиками.
Практическое занятие.

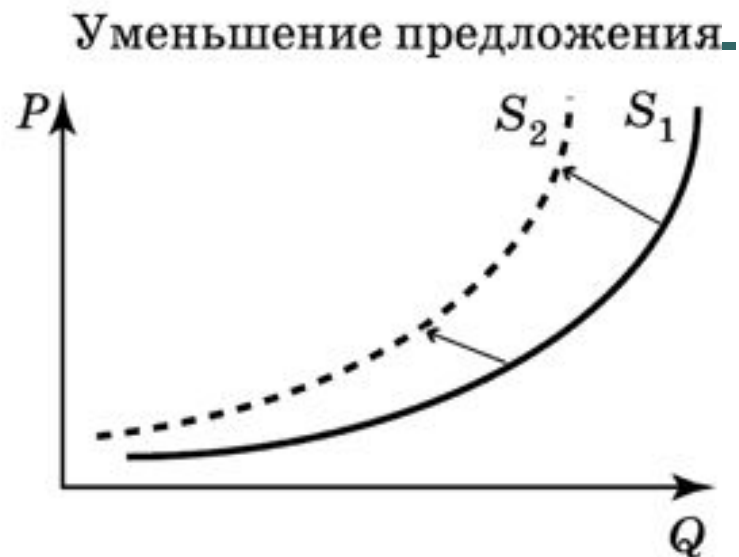
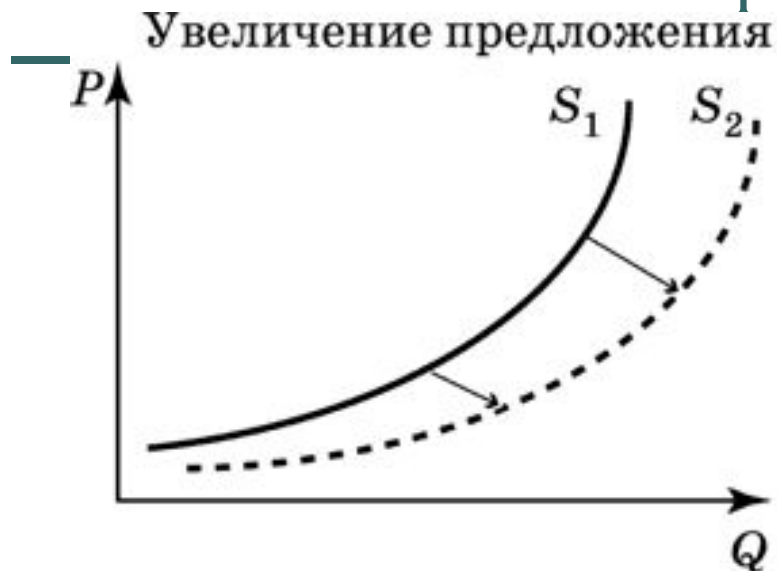
Найдите в приведенном ниже списке ситуации, в которых спрос на товар возрастет:



Выберите верные ответы:

1. товар вышел из моды
2. доходы покупателей возросли
3. товары, дополняющие друг друга, стали дешевле
4. покупатели ожидают понижения цен на товар
5. в стране демографический спад

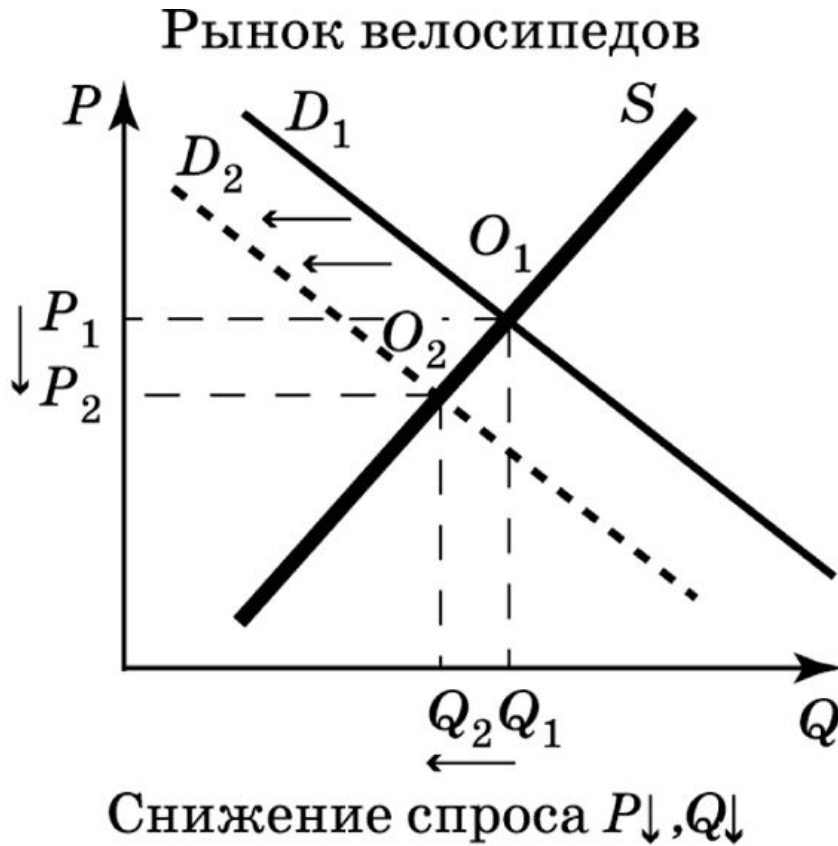
Найдите в приведенном ниже списке ситуации, в которых предложение товара сократится:



Выберите верные ответы:

1. проведена компьютеризация процесса производства
2. продавцы ожидают в скором будущем повышения цен на свой товар;
3. банкротство фирм – продавцов товара
4. снижен налог на товар
5. плохой урожай сахарной свеклы (предложение сахара)

Как изменится рынок велосипедов осенью?

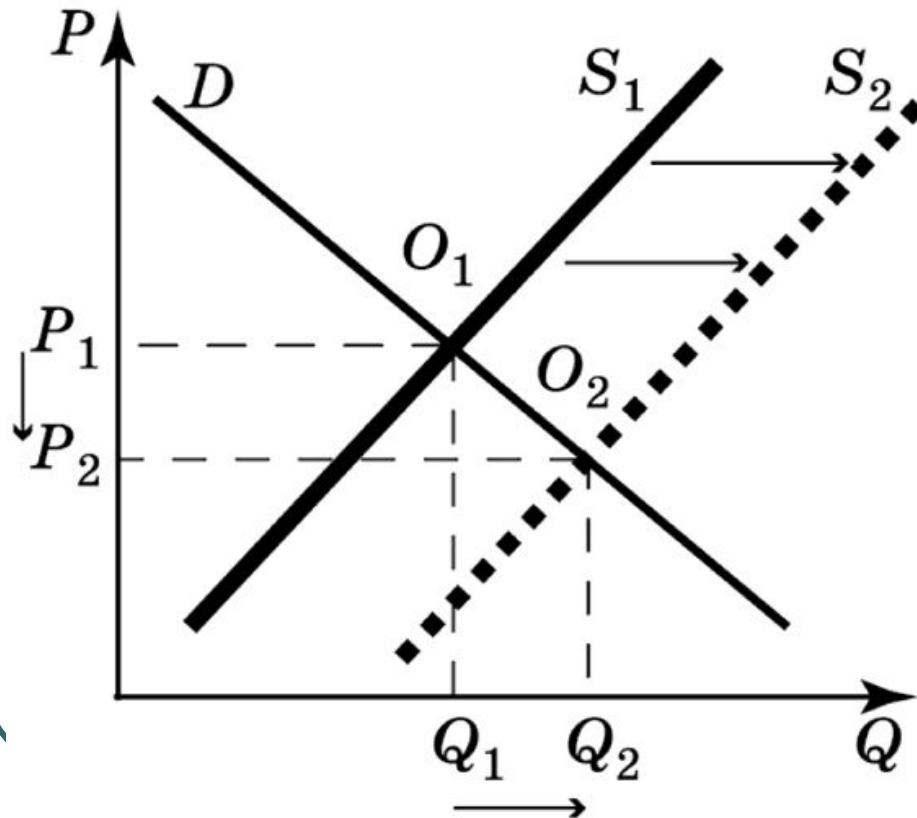


Выберите верные ответы

1. Спрос на велосипеды осенью повысится
2. Спрос на велосипеды осенью сократится
3. Произойдет понижение цен на велосипеды
4. Произойдет повышение цен на велосипеды
5. Объемы продаж велосипедов возрастут
6. Объемы продаж велосипедов упадут

На севере страны начали разработку нового месторождения алмазов. Как изменится отечественный рынок бриллиантов?

Повышение предложения отечественных бриллиантов: $P \downarrow, Q \uparrow$

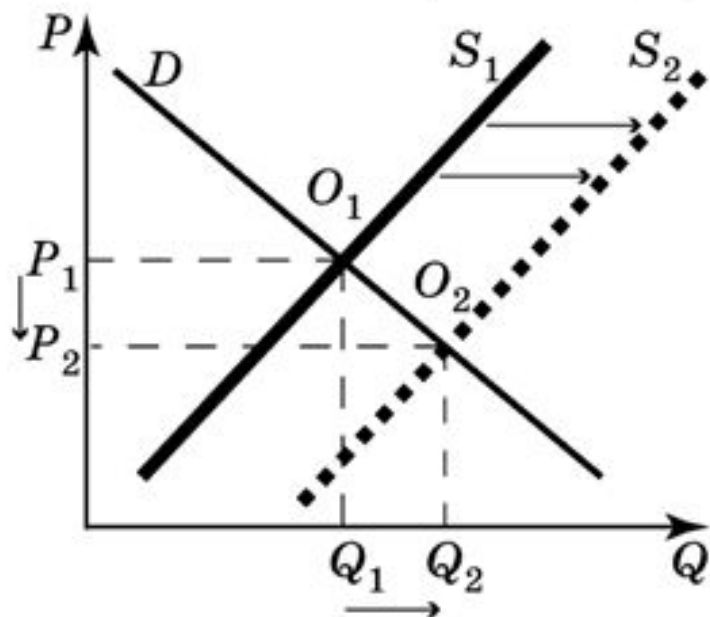


Выберите верные ответы:

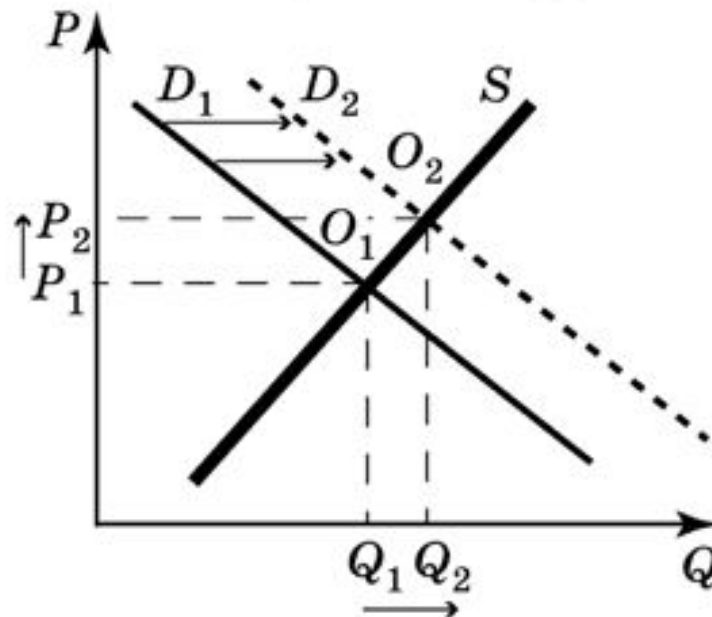
1. Предложение бриллиантов возрастет
2. Предложение бриллиантов упадет
3. Цена на отечественные бриллианты понизится
4. Цена на отечественные бриллианты повысится
5. Количество проданных бриллиантов понизится
6. Количество проданных бриллиантов повысится

- Как изменится рынок мобильных телефонов и рынок аксессуаров к ним, если будет усовершенствована технология производства мобильных телефонов?

Повышение предложения мобильных телефонов: $P \downarrow, Q \uparrow$



Повышение спроса на аксессуары к телефонам: $P \uparrow, Q \downarrow$



- Дайте полную письменную характеристику ситуации изображенной на графике.