



СВОЯ

игра

Кривая Производственных возможностей

Типы экономических систем

Спрос и закон спроса

Предложение и закон предложения

Взаимодействие спроса и
предложения

Безграничность потребностей.

Проблема выбора.

Ограниченность ресурсов

Ценовая эластичность спроса и
предложения.

Равновесная цена и равновесное
количество

СВОЯ

A large eagle is shown in flight, its wings spread wide, flying over a dark lake at night. The sky is a deep blue, and a crescent moon is visible in the upper right corner. The overall scene is serene and atmospheric.

игра

1

раунд

**Кривая
производственных
возможностей**

100 200 300 400 50
0

**Типы экономических
систем**

100 200 300 400 50
0

Спрос и закон спроса

100 200 300 400 50
0

**Предложение и закон
предложения**

100 200 300 400 50
0

**Взаимодействие спроса
и предложения**

100 200 300 400 50
0

КОТ

В МЕШКЕ



При увеличении предложения, увеличение качества ресурсов и технический прогресс, характеризующие растущую экономику, КПВ смещается.....



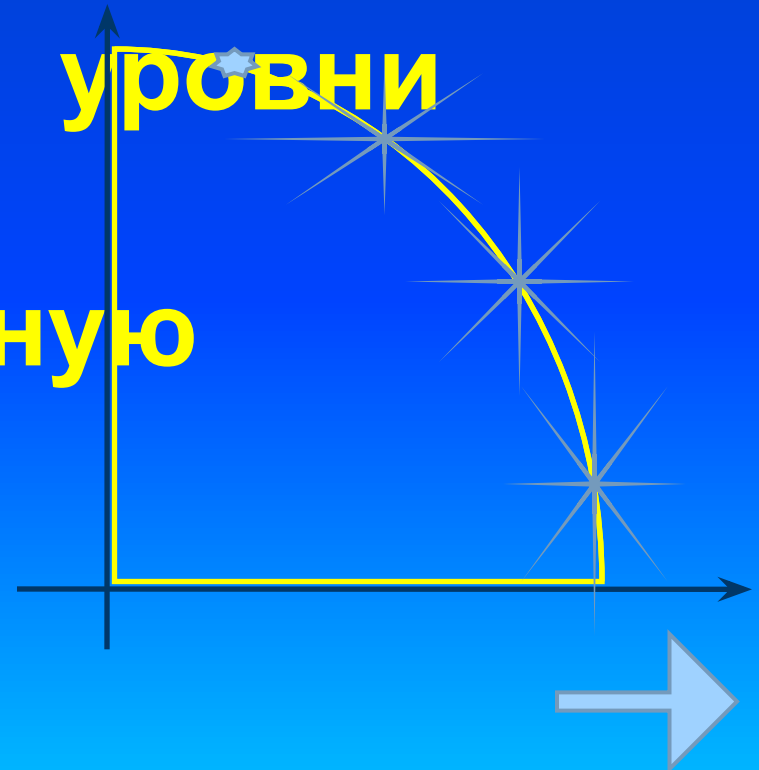
Все точки на КПВ отражают:

а) распределение эффективности;

б) неполное использование ресурсов;

в) недостижимые уровни производства;

г) производственную эффективность.



**Кривая производственных
возможностей показывает
эффективное
использование...**

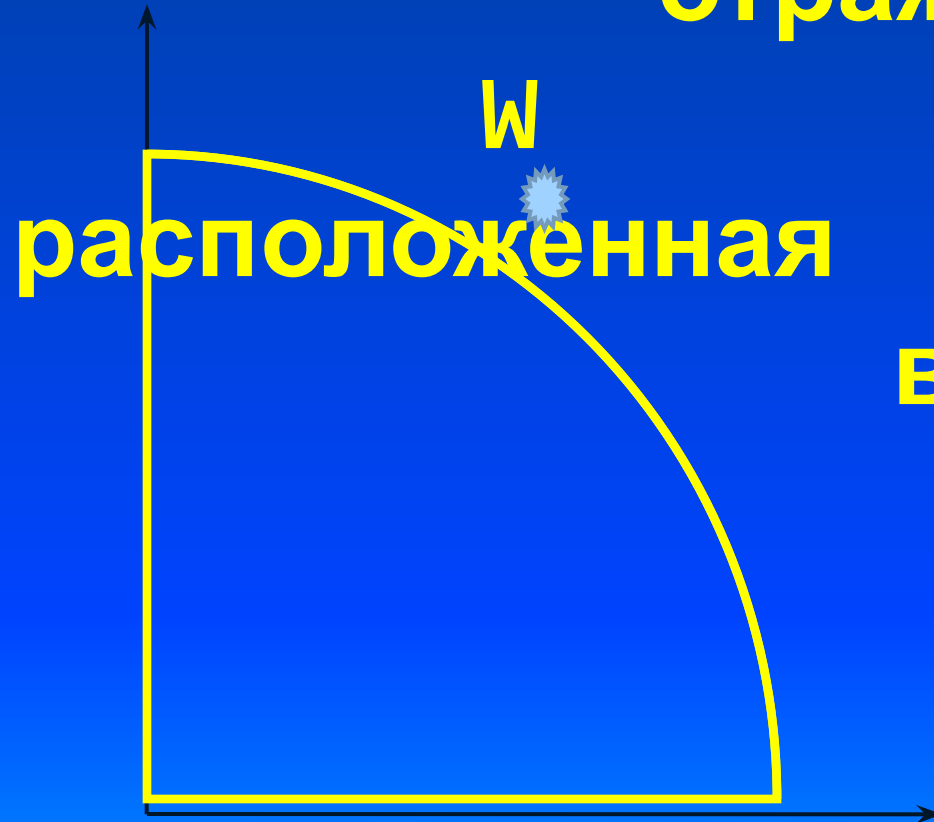




Q



Какую ситуацию
отражает точка W



В Японии господствует частная собственность на факторы производства, но роль государства в экономической жизни очень велика. О какой экономической системе можно говорить в данном случае?



... Это способ организации экономической жизни, при котором земля и капитал находятся в общем владении, а ограниченные ресурсы распределяются в соответствии с длительно существующими традициями. О какой экономической системе идет



К какому типу экономических систем будет относиться экономика США?



Каковы основные отличия
смешанной системы от
командной и рыночной?



АУКЦИОН





Перед вами схема «Кругооборот доходов и расходов» Опишите основные свойства модели кругооборота?



...можно представить в виде шкалы или кривой, показывающей количество продукта, которое потребители готовы и в состоянии купить по каждой конкретной цене из ряда возможных в течение определенного периода времени.



КОТ

В МЕШКЕ



Продолжите предложения.
При прочих равных условиях
величина спроса находится...

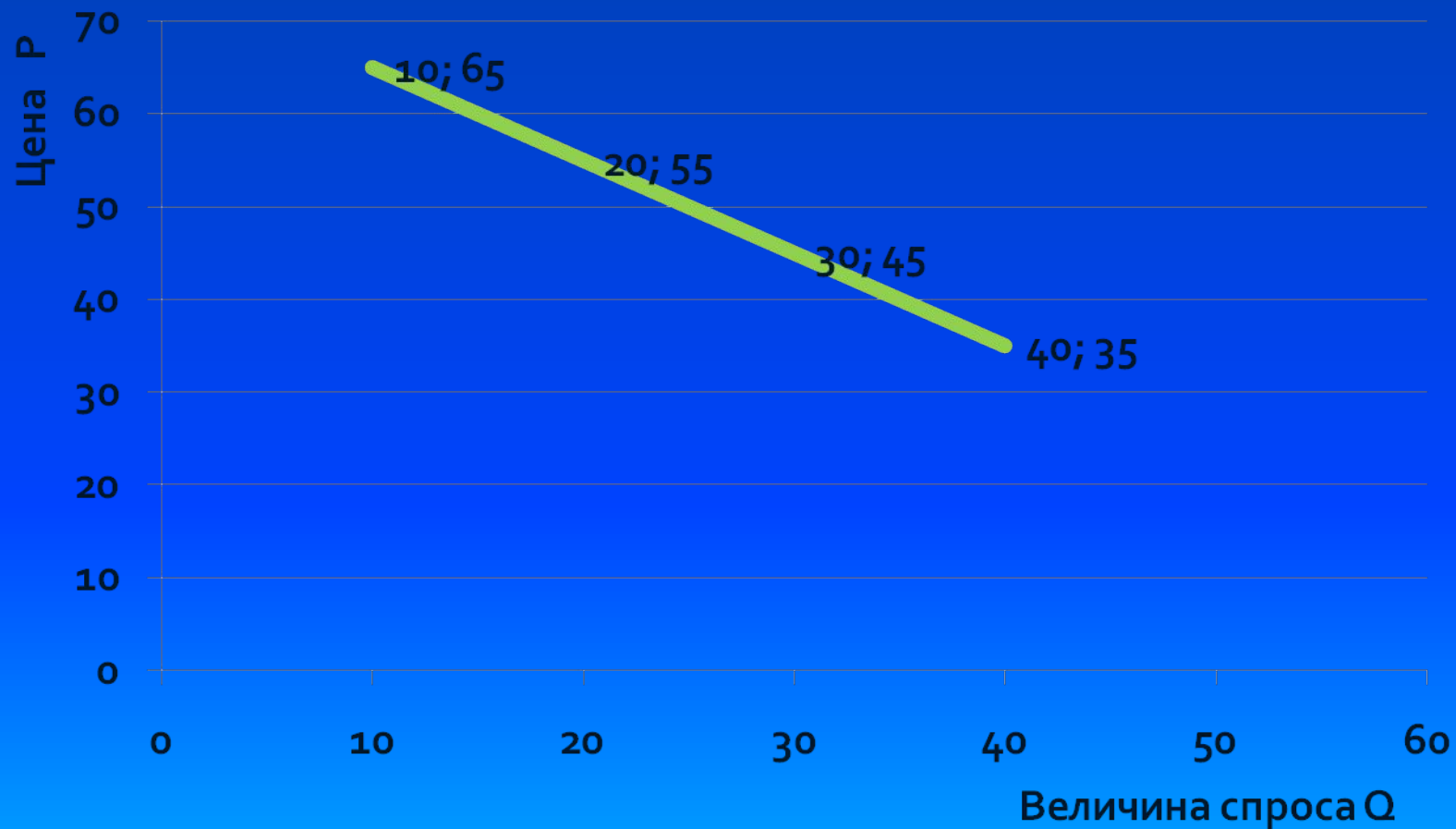


Используя шкалу спроса,
постройте кривую спроса.

Цена(руб.) P	Величина спроса (шт) Q
10	65
20	55
30	45
40	35
50	20



Правильный ответ



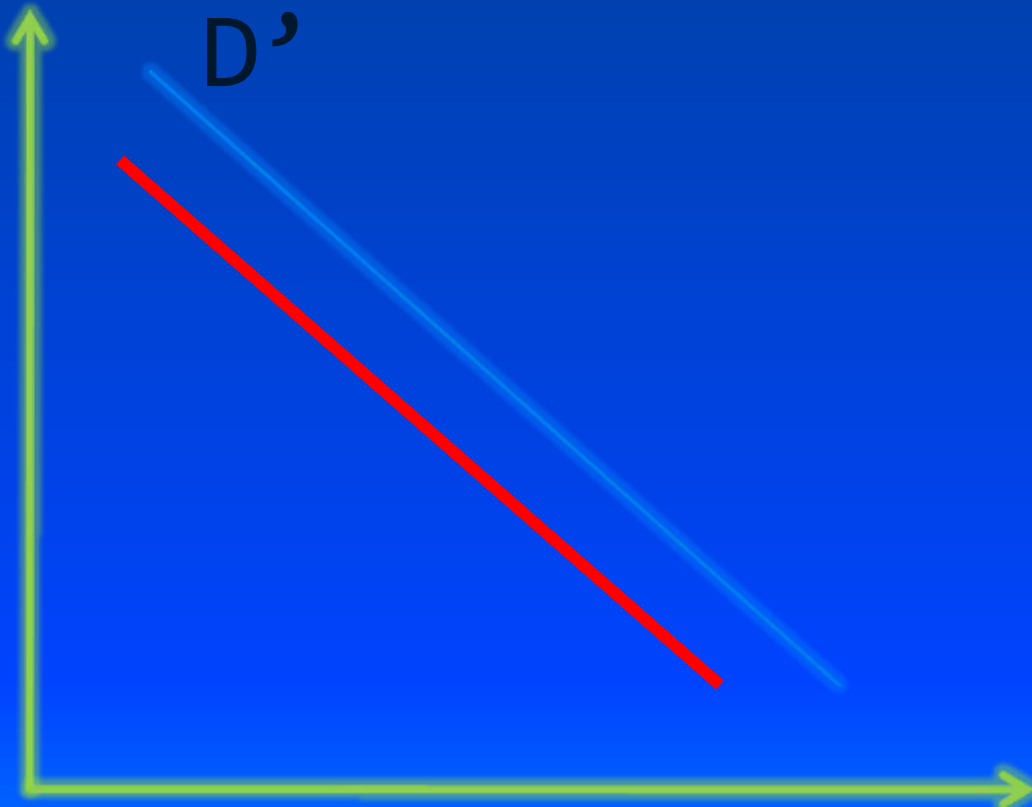
В результате рекламной кампании население стало предпочитать кока-колу квасу. Что произойдет с кривой спроса на квас?



P

D'


Q



Определите следующие сообщение из города Хаял (Великобритания) «Цены на рыбном рынке сегодня упали до такого низкого уровня, который местные комментаторы назвали «катастрофой», - и все из-за дефицита картофеля. Картофель служит одним из главных ингредиентов блюд, которое входит в меню почти любого кафе, а именно рыбы с жаренной картошкой». О каком факторе спроса идет речь?



... это можно определить как шкалу, показывающую количество продукта, которое производитель желает и способен произвести и предложить к продаже на рынке по каждой конкретной цене из ряда возможных цен в течение определенного периода времени.



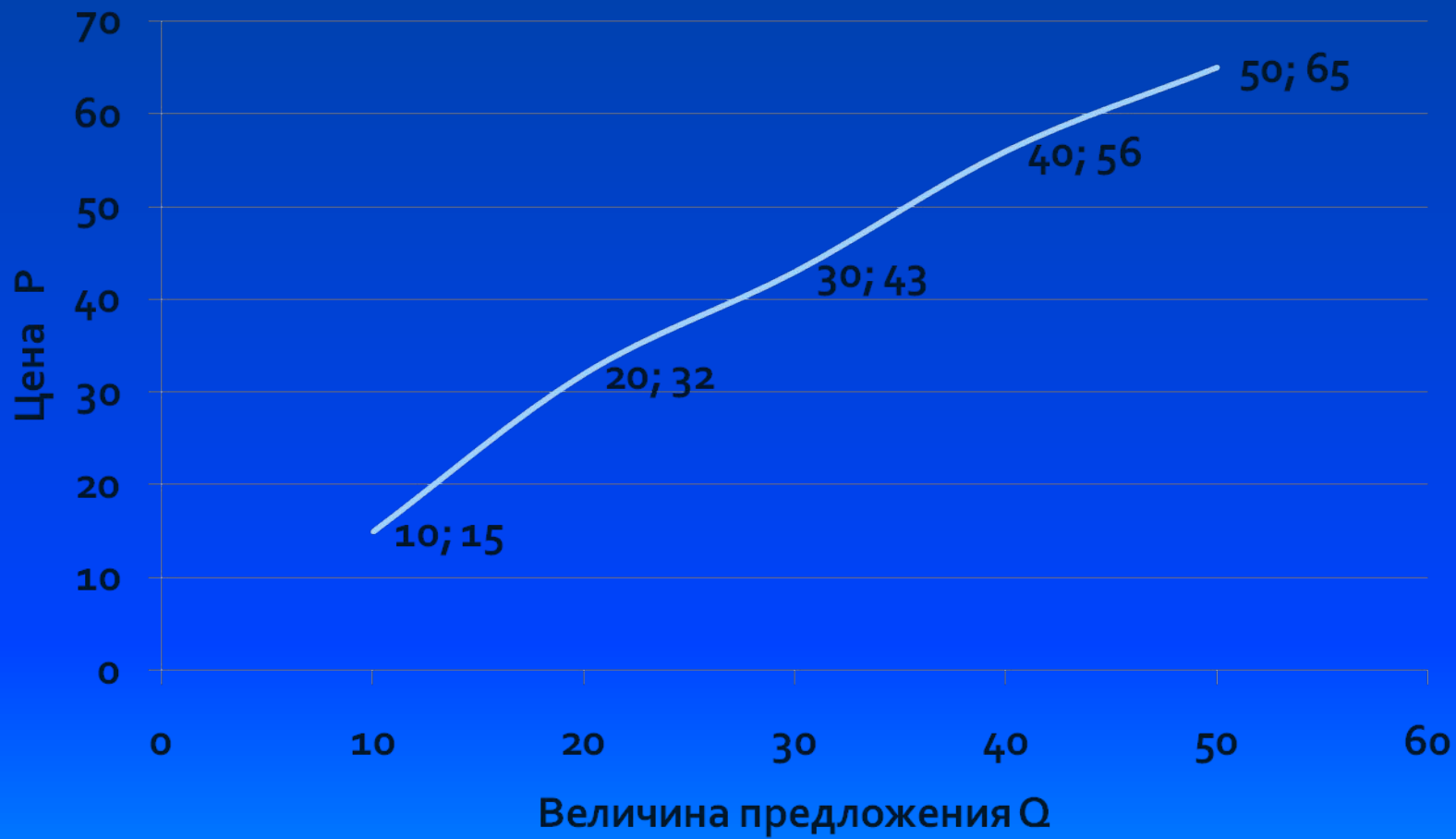
Закон предложения гласит
при равных прочих условиях
величина предложения
находится в...



Используя шкалу предложения, постройте кривую предложения.

Цена P	Величина предложения Q
10	15
20	32
30	43
40	56
50	65






Предположим, что в
производство стали внедрена
новая технология,
обеспечивающая экономию
затрат. Что случится с
предложением на рынке
стали?





P



S'

S'''

Q



«На рынке кукурузы спрос часто превышает предложение, а иногда превышает спрос».

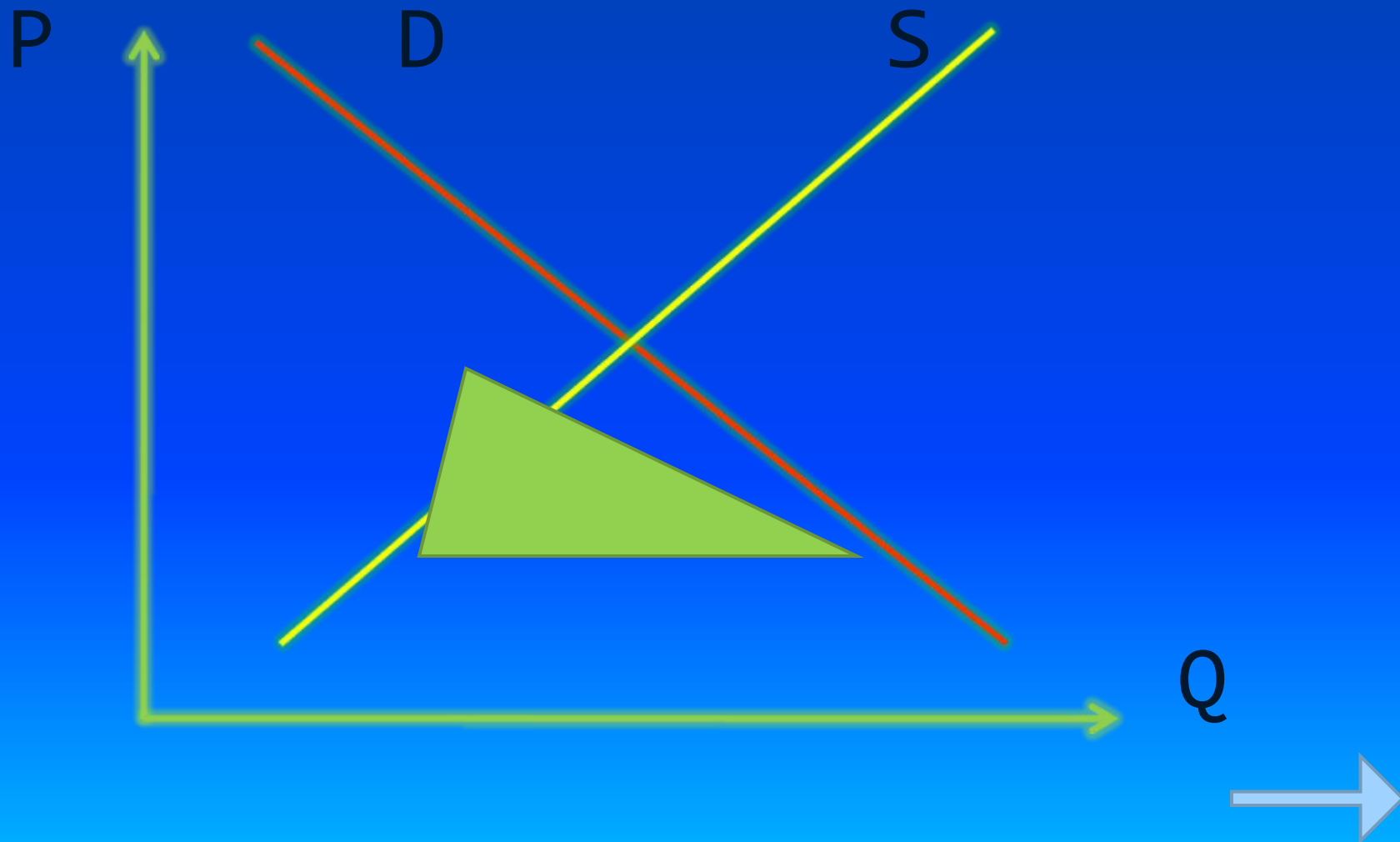
«Цена на кукурузу повышается и падает в результате изменения спроса». В каком из этих утверждение термины «предложения» и «спроса» употребляются правильно?



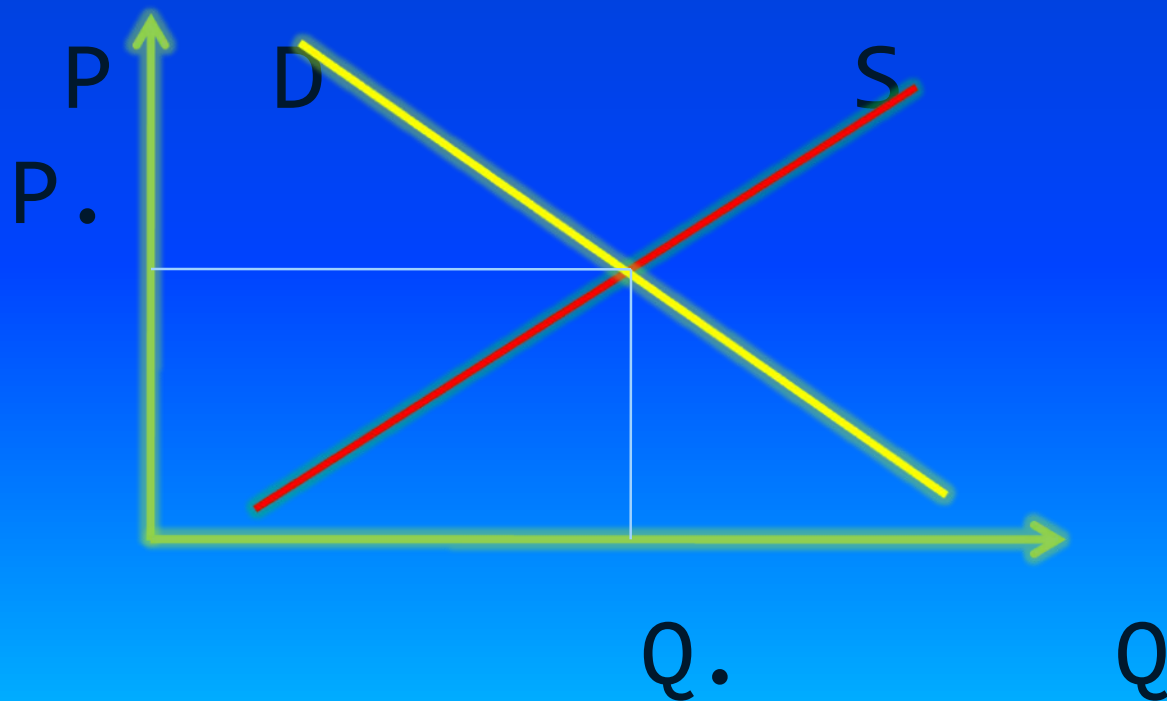
Цена, при которых
количество товара,
предлагаемого продавцами,
совпадает с количеством
товара, которое готовы
купить покупатель,
называется...

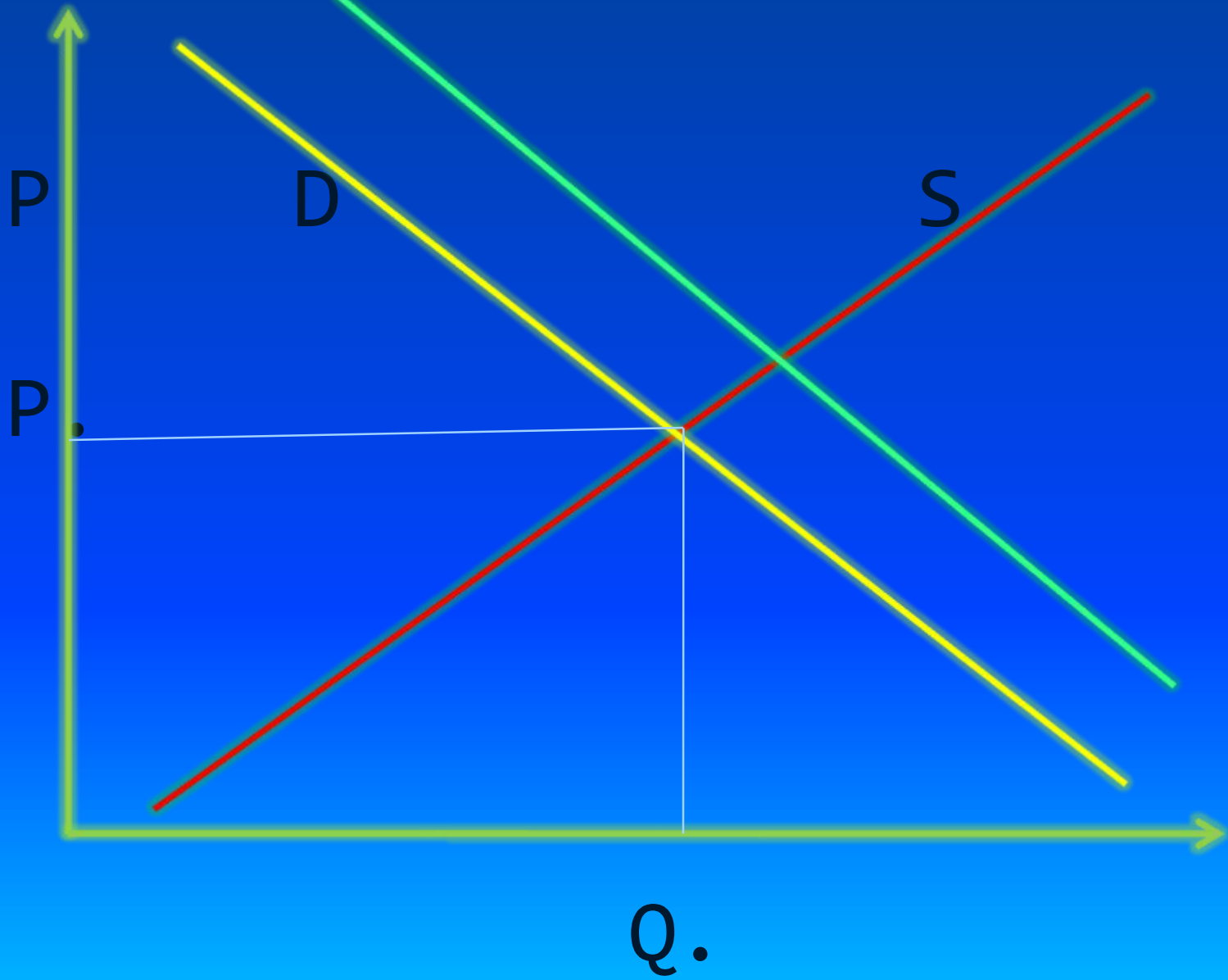


Что происходит на данном участке графика? (дефицит или избыток)





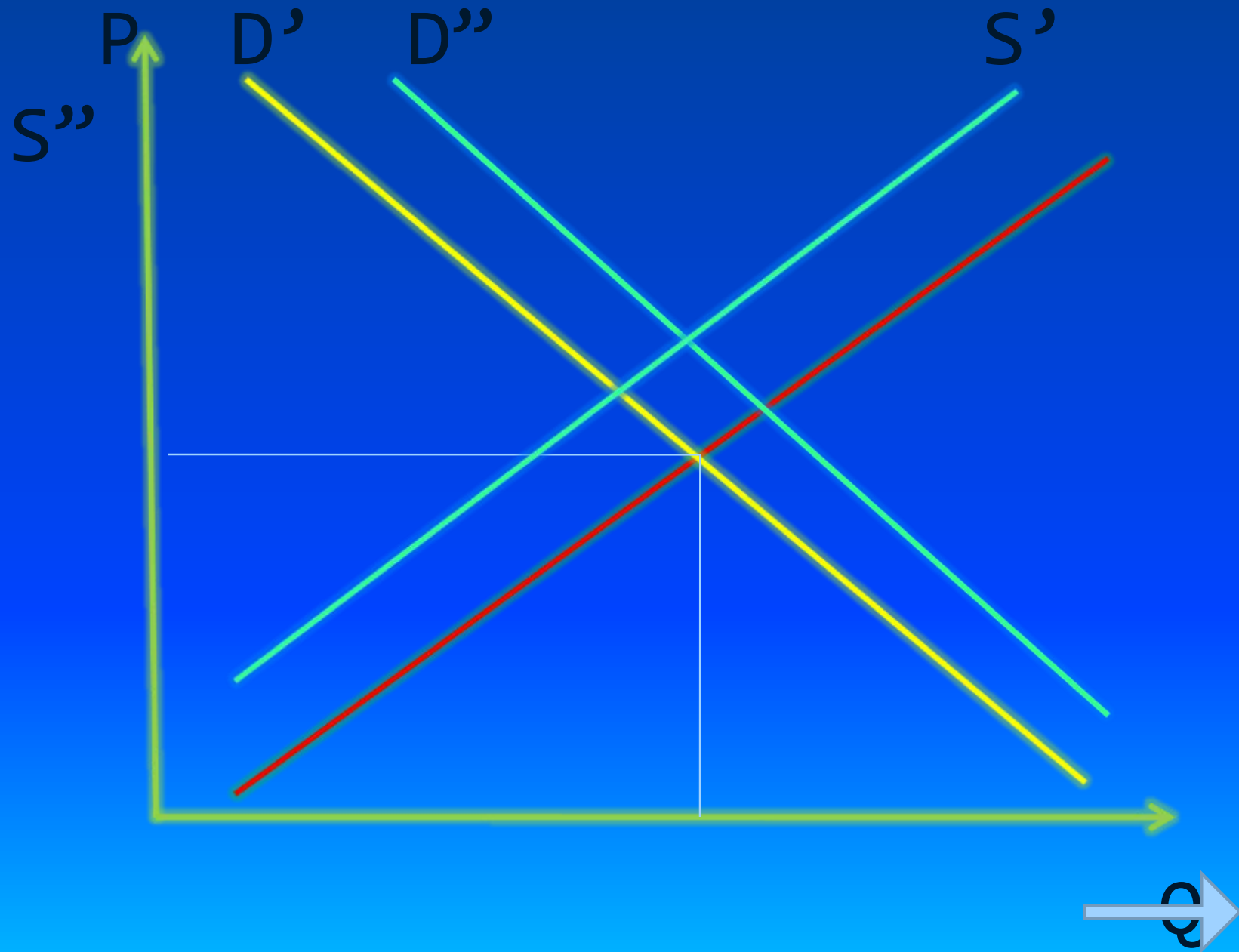
Что произойдет с равновесной ценой и равновесным количеством, если спрос возрастет, а предложение остается неизменной?






Что произойдет с равновесной ценой и равновесным количеством, если предложение уменьшится, а спрос возрастет?





Каковы последствия
установления государством
«Потолка» цен?




Экономика с перевода с
греческого “oіkonoμία”
означает...



Ресурсы, которые
используются людьми для
производства экономических
благ, называют...



Факторы производства:
земля, труд, капитал,
предпринимательство,
приносят их владельцам
доходы. Какие доходы?



Многообразиие ресурсов,
которые имеет в своем
распоряжение общество,
предполагает, что и факторы
производства многообразны.

Перечислите факторы
производства?



«Уровень безработицы в России в 1998г. составил 11,5%». «Неурожай мандаринов в Грузии привел к повышению цен на мандарины на московских рынках». В каких из этих утверждений относится к микроэкономике?





СВОЯ

игра

2 раунд

Ограниченность ресурсов.

Ценовая эластичность спроса и предложения.

Спрос и предложение.

Альтернативная стоимость и КПВ

**Ценовая
эластичность спроса
и предложения**

600

700

800

900

**Спрос и
предложение**

600

700

800

900

**Альтернативная
стоимость и КПВ**

600

700

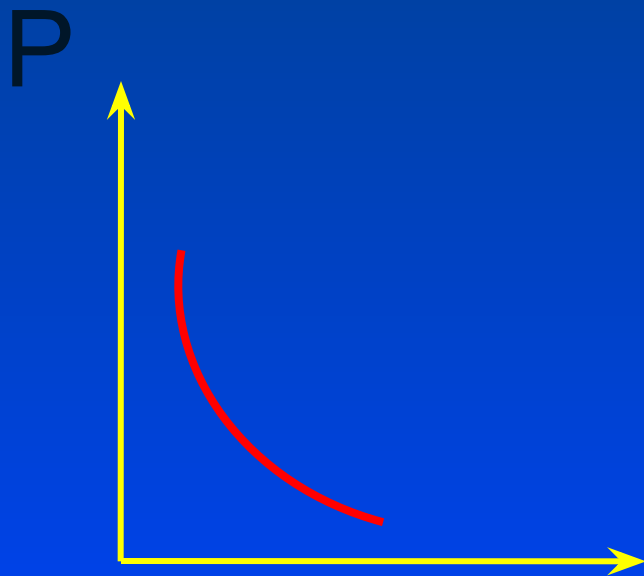
800

900



**Если при подорожании
велосипедов на 10% величина
спроса на них упадет на 15% то
спрос на данный товар будет**





Данный график показывает, что при изменении цены величины спроса изменяется незначительно. Экономисты говорят, что спрос на данный товар...



КОТ

В МЕШКЕ



При повышении цены с 25 до 28 рублей, количество покупаемого товара увеличивается с 10 до 12 шт. Рассчитайте коэффициент ценовой эластичности спроса.



При изменении цены на тюльпаны с 0,7 до 1,2 гульденов за штуку величина их предложения увеличилась с 200 тыс. шт. до 280 тыс. шт. Эластично или неэластично по цене предложение тюльпанов?



АУКЦИОН



Уравнение функции спроса на капусту $Q_d=14-3P$; уравнение функции предложения капусты $Q_s=-7+4P$. Найдите равновесную цену и равновесный объем.



Допустим, функция спроса на некоторые товары равна $Q_d=100-P$, а функция предложения составляет $Q_s=2P-50$.

А) найти равновесную цену, равновесное количество и выручку.

Б) правительство решило снизить цену до 45 р., стремясь стимулировать потребление. К чему это приведет? К дефициту или к избытку.



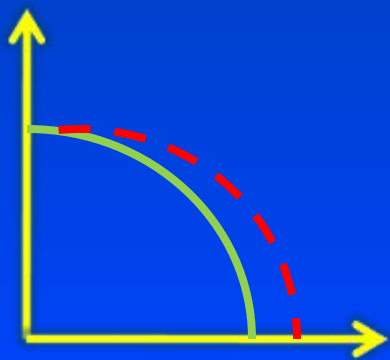
К какому фактору производства относятся данные рисунки?



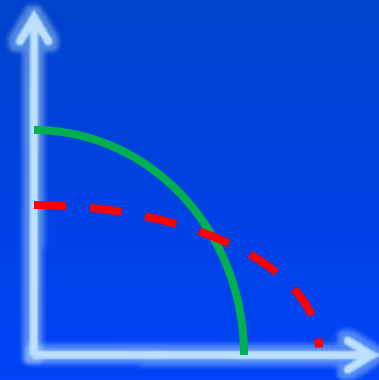
Перед Вами гвоздь и сруб
дома – это
взаимозаменяемые товары
или взаимодополняющие
товары



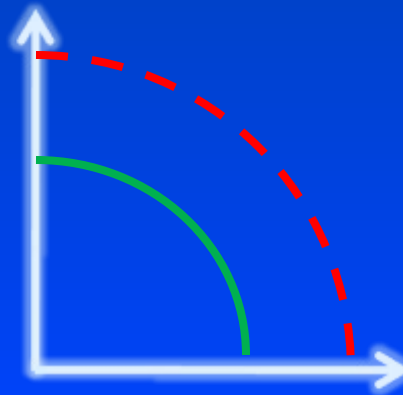
Повысилась квалификация производителей косметики. Какой вариант графика кривой производственной возможностей отражает это обстоятельство?



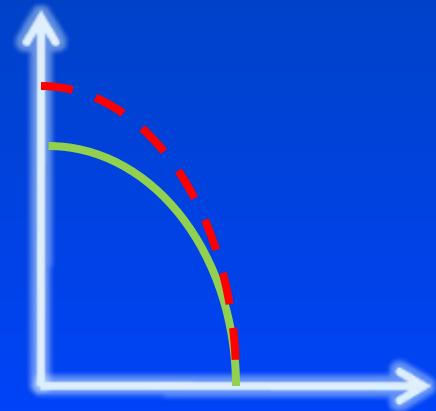
А



Б



В



Г



В. Антонов, Э. Голстин:

«Способ согласования деятельности производителей в условиях разделения труда называется экономической системой».

П. Грегори, Р. Стюард:

«Экономическая система – совокупность механизмов и институтов для принятия и реализации решений, касающихся производства, дохода и потребления в рамках определенной географической территории».

Ф. Прайор:

«Экономическая система включает все те институты, организации, законы и правила, традиции, убеждения, позиции, оценки, запреты и схемы поведения, которые прямо или косвенно воздействуют на экономическое поведение и результаты».

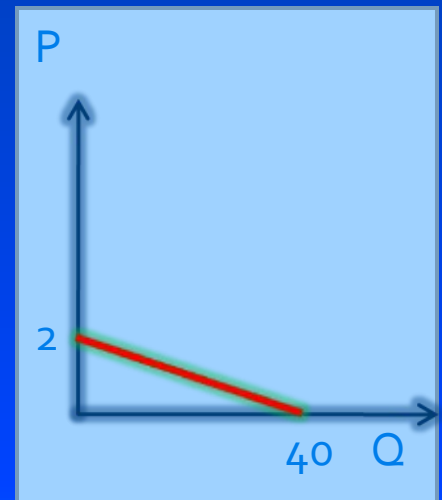
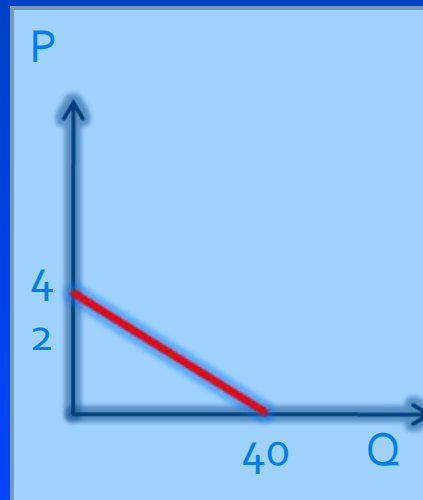
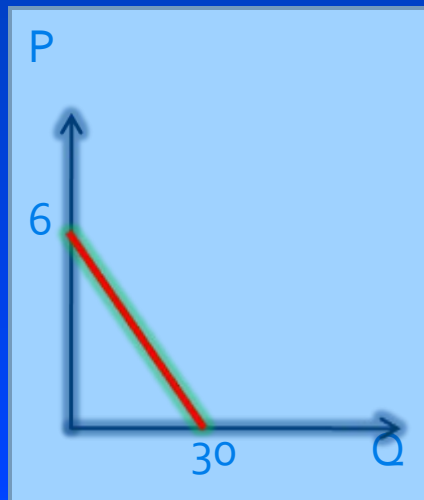


КОТ

В МЕШКЕ



Постройте кривую рыночного спроса, если заданы три индивидуальные кривые спроса потребителей А, В, С:



На какие из нижеперечисленных товаров, по вашему мнению, спрос будет эластичным по цене, а на какие – нет:

- косметический крем;
- мясо птицы;
- линзы для очков;
- обед в ресторане;
- мебельный гарнитур;
- шариковые ручки;
- автомобиль «Москвич»?





СВОЯ

игра

3

раунд



Спрос

Предложение

Определите и отразите на графике, как повлияют на положение кривой спроса на теннисные ракетки следующие события.

А) Доходы населения значительно выросли.

Б) Теннисные мячи подорожали в 5 раз.

В) В стране ожидается рост цен на спортивные товары.

Г) цены на ракетки действительно выросли.

Д) Врачи убеждают, что занятия теннисом способствуют снижению избыточного веса в большей степени, чем увеличение другими видами спорта. →

Определите и отразите на графике, как повлияют на предложение йогурта следующие события:

а) В городе увеличилось число любителей йогурта.

Б) Цены на ацидофилин неожиданно вырос.

В) Подорожали фрукты, которые используются в качестве наполнителей при производстве йогурта.

Г) Местная администрация ввела дотации на производство йогурта.

Д) Городские власти закупили новейшие технологии по изготовлению йогурта для местных молокозаводов.



Спасибо за игру.

