


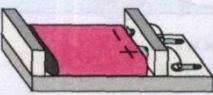

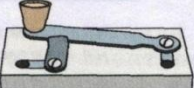
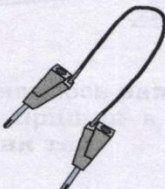




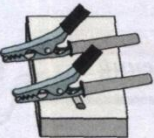







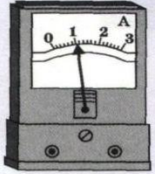
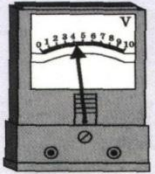




# СОДЕРЖАНИЕ

- Электрическая цепь и её составные части.
- **Законы** последовательного соединения проводников.
- Законы параллельного соединения проводников.
- Примеры решения задач.

# Электрическая цепь и её составные части

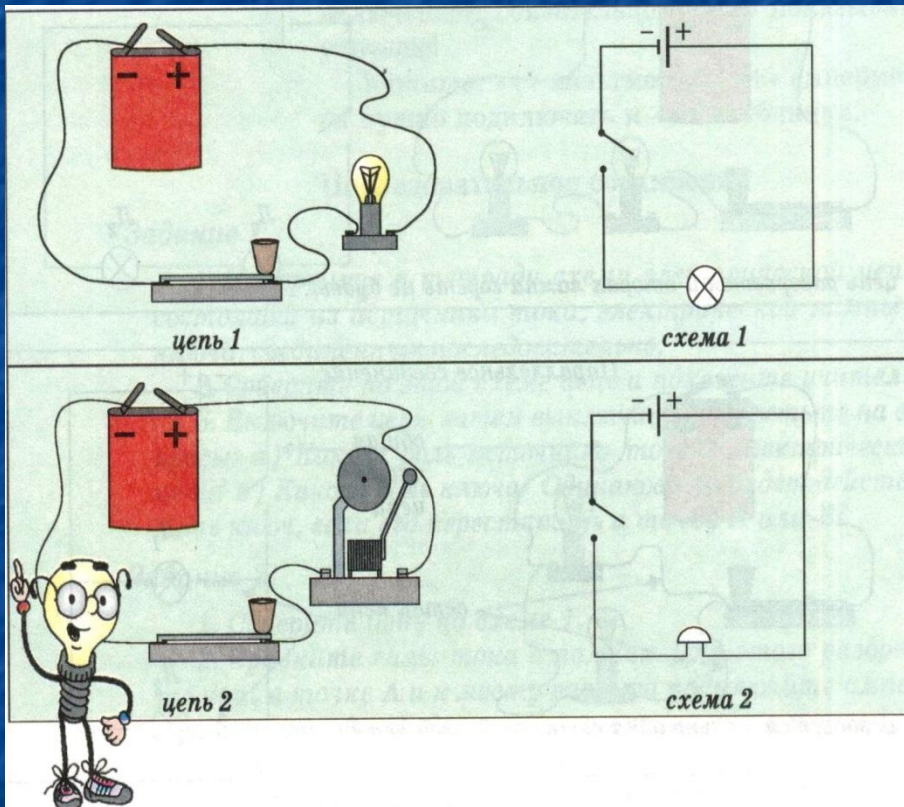


источник тока	потребитель тока	ключ	соединительные провода
			
			
универсальный держатель	электро-двигатель	катушка с сердечником	электрзвонок
			
			
амперметр	вольтметр		
			
			

Для того чтобы использовать энергию электрического тока, нужно прежде всего иметь **источник тока**. Электродвигатели, лампы, плитки, всевозможные электробытовые приборы называют **приёмниками** или **потребителями электрической энергии**. Чтобы включить и выключить в нужное время приёмники электрической энергии, применяют **ключи, рубильники, выключатели**. Для доставки электрической энергии приёмник соединяют с источником **проводами**.



# Электрическая цепь и её составные части



Источник тока, приемники, замыкающие устройства, соединенные между собой проводами, составляют *простейшую электрическую цепь*.

Чтобы в цепи был ток, она должна быть *замкнутой*, т.е. состоять только из проводников электричества. Если в каком-нибудь месте провод оборвется, то ток в цепи прекратится. (На этом и основано действие выключателей.)

Чертежи, на которых изображены способы соединения электрических приборов в цепь, называются *схемами*. Приборы на схемах обозначают условными знаками.

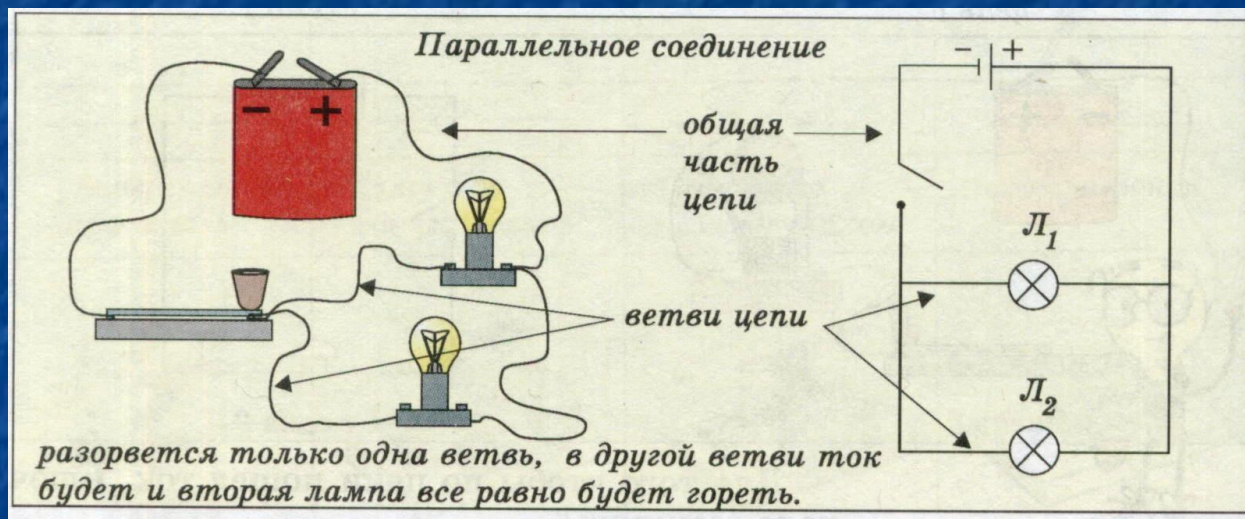


# Законы последовательного соединения проводников



- При последовательном соединении сила тока в любых частях цепи одна и та же:  $I=I_1=I_2$ .
- Общее сопротивление цепи при последовательном соединении равно сумме сопротивлений отдельных проводников (или отдельных участков цепи):  $R=R_1=R_2$ .
- Полное напряжение в цепи при последовательном соединении, или напряжение на полюсах источника тока, равно сумме напряжений на отдельных участках цепи:  $U=U_1+U_2$ .

# Законы параллельного соединения проводников



- Напряжение на концах всех параллельно соединенных проводников одно и тоже:  $U=U_1=U_2$ .
- Сила тока в неразветвленной части цепи равна сумме сил токов в отдельных параллельно соединенных проводниках:  $I=I_1+I_2$ .
- Общее сопротивление цепи при параллельном соединении равно:

$$\frac{1}{R} = \frac{1}{R_1} + \frac{1}{R_2}, \text{ или } R = \frac{R_1 \cdot R_2}{R_1 + R_2}$$

**Пример №1.** Два проводника сопротивлением  $R_1=2$  Ом,  $R_2=3$  Ом соединены последовательно. Сила тока в цепи 1 А. Определить сопротивление цепи, напряжение на каждом проводнике и полное напряжение всего участка цепи.

Дано:

$$R_1 = 2 \text{ Ом}$$

$$R_2 = 3 \text{ Ом}$$

$$I = 1 \text{ А}$$

Решение:

Сила тока во всех последовательно соединенных проводниках одна и та же и равна силе тока в цепи, т.е.:

$$I_1 = I_2 = I = 1 \text{ А}$$

$R$ -?

$U_1$ -?

$U_2$ -?

$U$ -?

Общее сопротивление цепи:

$$R = R_1 + R_2,$$

$$R = 2 \text{ Ом} + 3 \text{ Ом} = 5 \text{ Ом}.$$

Напряжение на каждом из проводников найдем по закону Ома:

$$U_1 = IR_1; U_1 = 1 \text{ А} \cdot 2 \text{ Ом} = 2 \text{ В};$$

$$U_2 = IR_2; U_2 = 1 \text{ А} \cdot 3 \text{ Ом} = 3 \text{ В};$$

Полное напряжение в цепи:

$$U = U_1 + U_2, \text{ или } U = IR.$$

$$U = 2 \text{ В} + 3 \text{ В} = 5 \text{ В}, \text{ или } U = 1 \text{ А} \cdot 5 \text{ Ом} = 5 \text{ В}.$$

**Ответ:**  $R = 5$  Ом,  $U_1 = 2$  В,  $U_2 = 3$  В,  $U = 5$  В.

**Пример №2.** осветительную сеть комнаты включены две электрические лампы, сопротивления которых 200 и 300 Ом. Напряжение в сети 120 В. Определить силу тока в каждой лампе, силу тока в подводящих проводах (т.е. силу тока до разветвления), общее сопротивление участка, состоящего из двух ламп.

Дано:

$$R_1 = 200 \text{ Ом}$$

$$R_2 = 300 \text{ Ом}$$

$$U = 120 \text{ В}$$

$$I_1 - ?$$

$$I_2 - ?$$

$$I - ?$$

$$R - ?$$

Решение:

Напряжение на каждой лампе равно напряжению в сети, так как лампы соединены параллельно, т.е.

$U_1 = U_2 = 120 \text{ В}$ . Силу тока в каждой лампе определяем, пользуясь законом Ома:

$$I = \frac{U}{R}$$

$$I_1 = \frac{U}{R_1}, \quad I_1 = \frac{120 \text{ В}}{200 \text{ Ом}} = 0,6 \text{ А}, \quad I_2 = \frac{U}{R_2}, \quad I_2 = \frac{120 \text{ В}}{300 \text{ Ом}} = 0,4 \text{ А}.$$

Сила тока в подводящих проводах равна сумме сил тока в лампах:

$$I = I_1 + I_2, \quad I = 0,6 \text{ А} + 0,4 \text{ А} = 1 \text{ А};$$

Общее сопротивление участка цепи, состоящего из двух параллельно соединенных ламп, находим по закону Ома:

$$R = \frac{U}{I}, \quad R = \frac{120 \text{ В}}{1 \text{ А}} = 120 \text{ Ом}.$$

**Ответ:**  $I_1 = 0,6 \text{ А}, I_2 = 0,4 \text{ А}, I = 1 \text{ А}, R = 120 \text{ Ом}.$



Домашнее задание:  
п. 48, 49, упр. 23.