


СИЛЫ.



Вопрос №1

Куда направлена сила Ампера?



Варианты ответов:

1) Вправо

2) Влево

3) Вверх

4) Вниз

5) К нам

6) От нас

Правильный ответ

5) К нам.



Вопрос №2

- Куда направлена сила Лоренца?



Варианты ответов:

1) Вправо
4) Вниз

2) Влево
5) К нам

3) Вверх
6) От нас

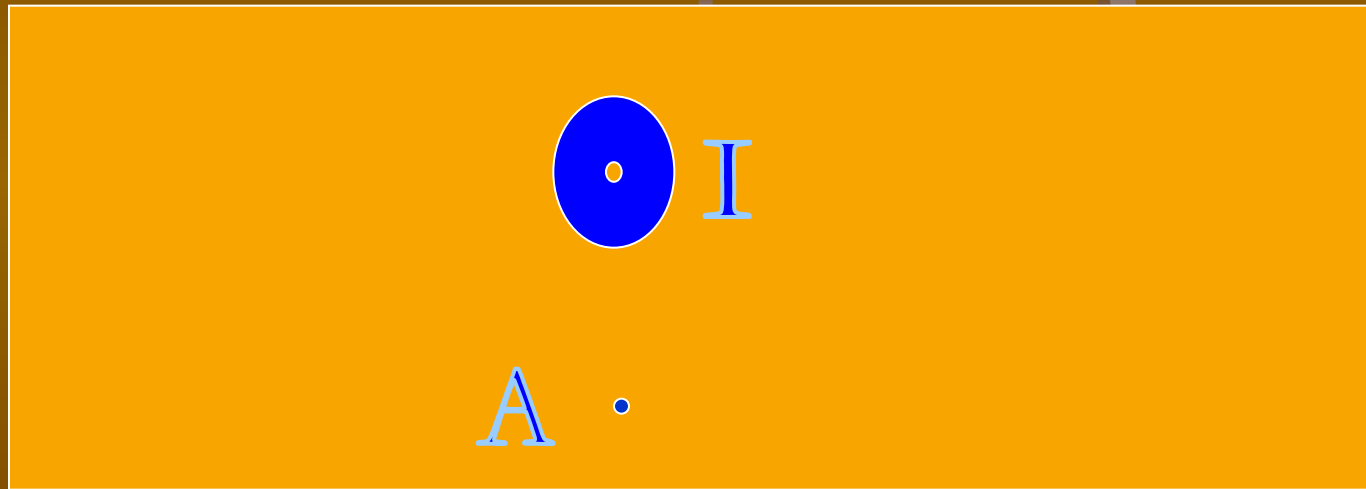
Правильный ответ

3) Вверх.



Вопрос №3

- Куда направлен вектор магнитной индукции в точке А?



Варианты ответов:

- 1) Вправо
- 2) Влево
- 3) Вверх
- 4) Вниз
- 5) К нам
- 6) От нас


Правильный ответ

1) Вправо.



Вопрос №4

- На рисунке изображена силовая линия магнитного поля. Куда направлен вектор магнитной индукции в точке А?



Варианты ответов:

1) Вправо
4) Вниз

2) Влево
5) К нам

3) Вверх
6) От нас

Правильный ответ

4) Вниз.



Вопрос №5

- Куда направлена силовая линия магнитной индукции в точке А?



Варианты ответов:

1) Вправо
4) Вниз

2) Влево
5) К нам

3) Вверх
6) От нас

Правильный ответ

2) Влево.



Вопрос №6

Если площадь контура увеличить в 3 раза и магнитную индукцию увеличить в 3 раза, то магнитный поток...

■ Варианты ответов:

1) Не изменится

2) увеличится в 2 раза

3) Уменьшится в 3 раза

4) увеличится в 3 раза

5) увеличится в 9 раз

6) уменьшится в 9 раз

Правильный ответ

5) увеличится в 9 раз

