



Тест 1

по теме «Измерение физических
величин»

Введите фамилию и имя

Всего заданий

7

Начать тестирование

Время тестирования

7

мин.

1. Какая из перечисленных ниже единиц является единицей длины?

1 секунда

2 метр

3 килограмм

4 литр

2. Какое слово обозначает физическую величину?

1 Масса тела

2 Инерция

3 Линейка

4 Движение

3. Назовите слово, обозначающее физическое тело ?

 1

тетрадь

 2

бумага

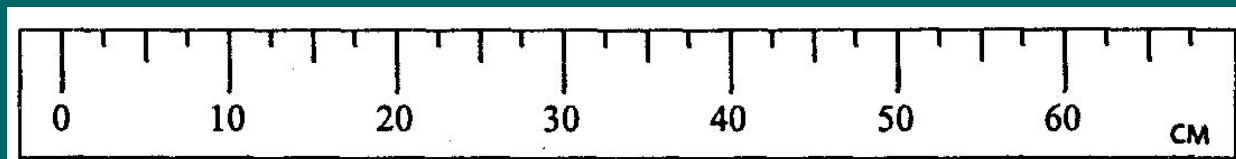
 3

воздух

 4

вода

4. Определите цену деления данной линейки:



1

5 см

2

60 см

3

2,5 см

4

10 см

Задание

4

Выберите все правильные ответы!

Далее

5. Определите объем тела, погруженного в жидкость.

 1

35 см³

 2

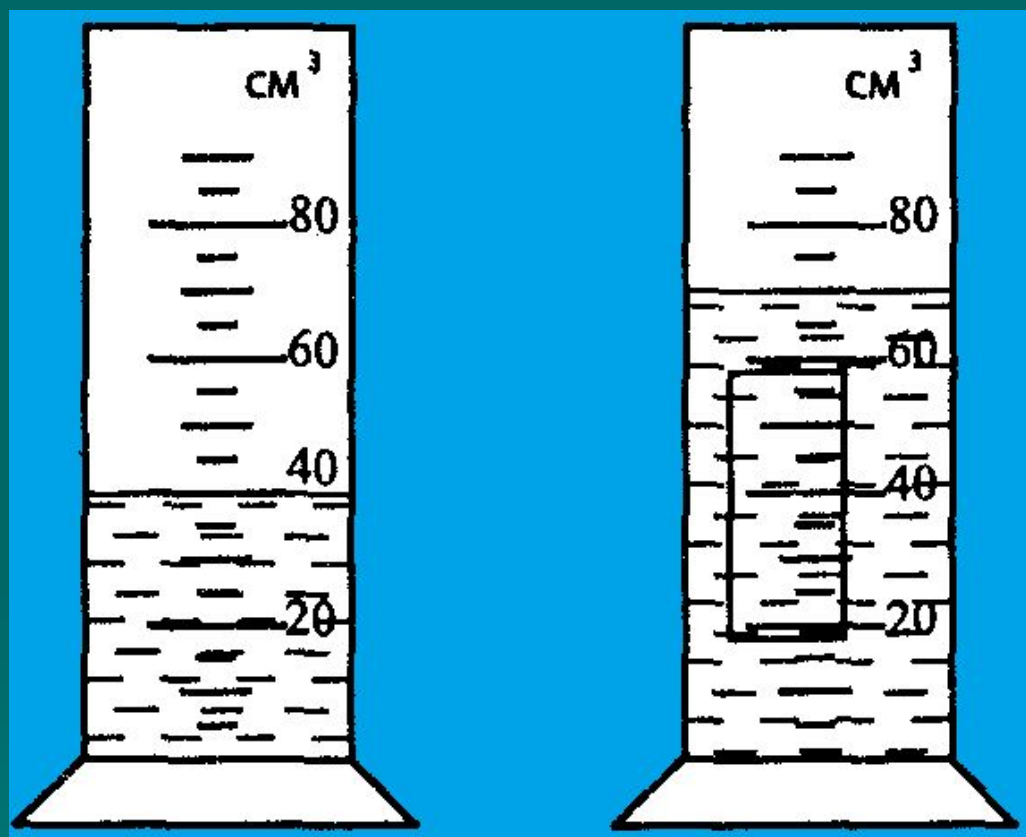
25 см³

 3

30 см³

 4

40 см³



6. Каким прибором измеряют объем жидкости?

 1

мензуркой

 2

термометром

 3

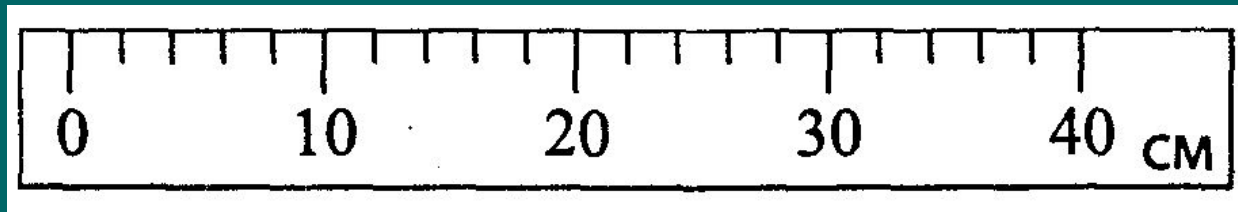
секундомером

 4

линейкой



7. С какой точностью можно измерить длину отрезка при помощи данной линейки?



1

1 см

2

10 см

3

2 см

4

0,5 см

Результаты тестирования

Оценка

Правильных ответов
в процентах

Ошибки в выборе
ответов на задания:

Всего заданий

Снова

Выход

Затрачено времени