



«Механическое движение»

№	§	вопрос	
1	13	Механическое движение –	<p>Изменение положения тела относительно других тел с течением времени.</p> <p>Линия, вдоль которой движется тело.</p> <p>Длина траектории.</p>
2	13	траектория –	<p>*Движение можно рассматривать только по отношению к другому телу.</p> <p>*Относительно разных тел скорость траектория путь могут быть различны</p>
3	13	путь –	
4	13	движение	



Выразите в системе СИ

15 см =

2 км =

40 мм =

5 см =

35 км =

2 мм =

2 мин =

10 мин =

20 мин =

0,5 мин =

1 час =

0,5 часа =


2 часа =

Нарисуйте траекторию по которой движется:

А) выпущенный из рук мяч;

Б) мяч, катящийся по полу;

В) шарик на нити вращающийся в горизонтальной плоскости.





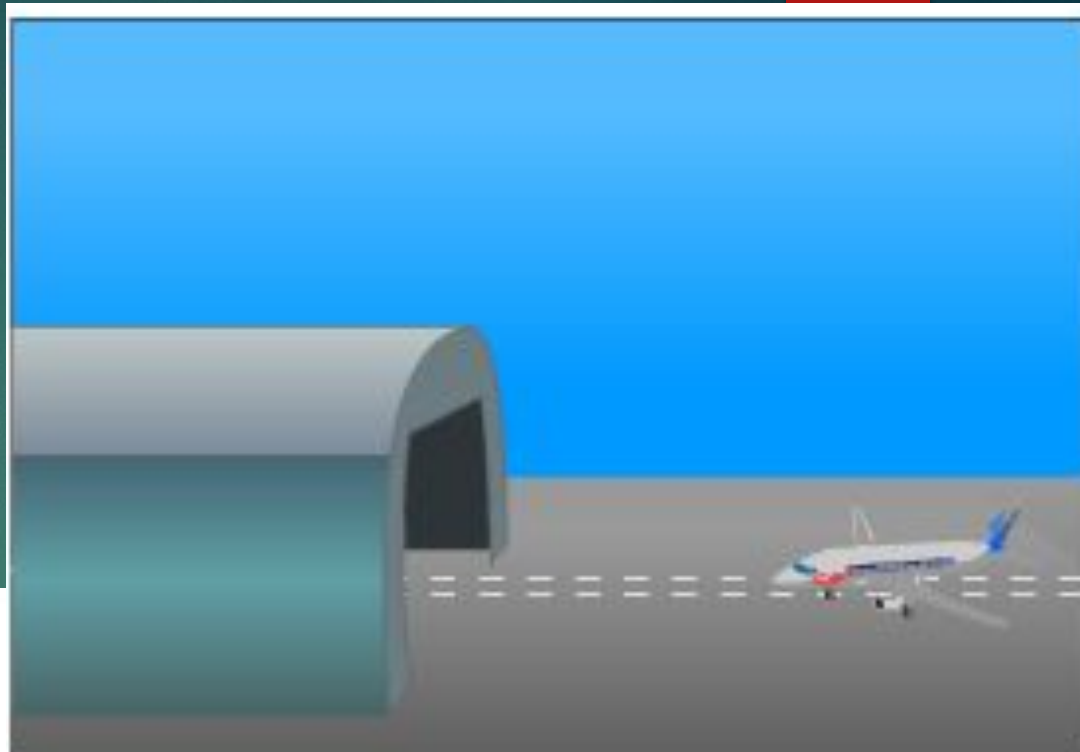

Дома:

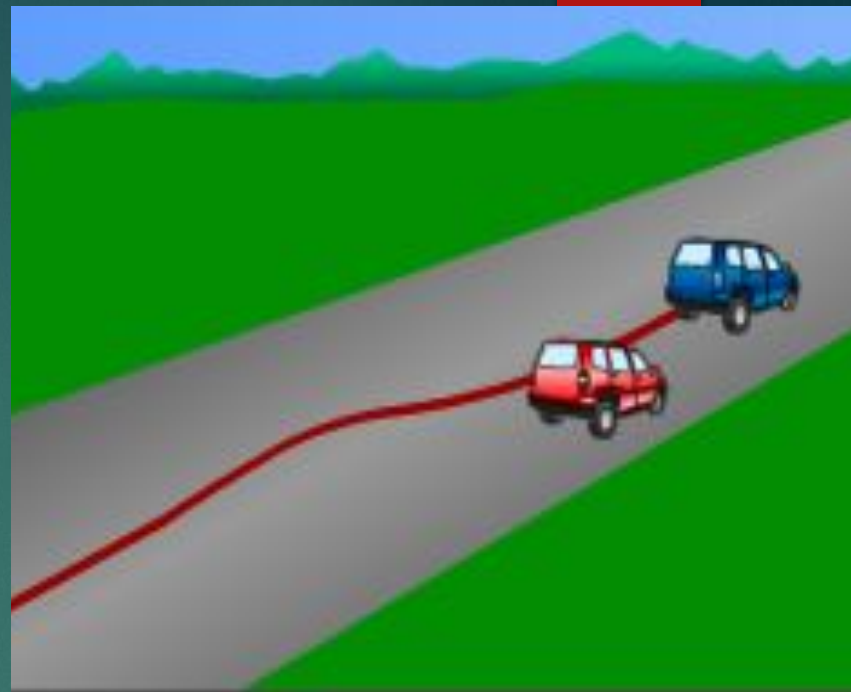
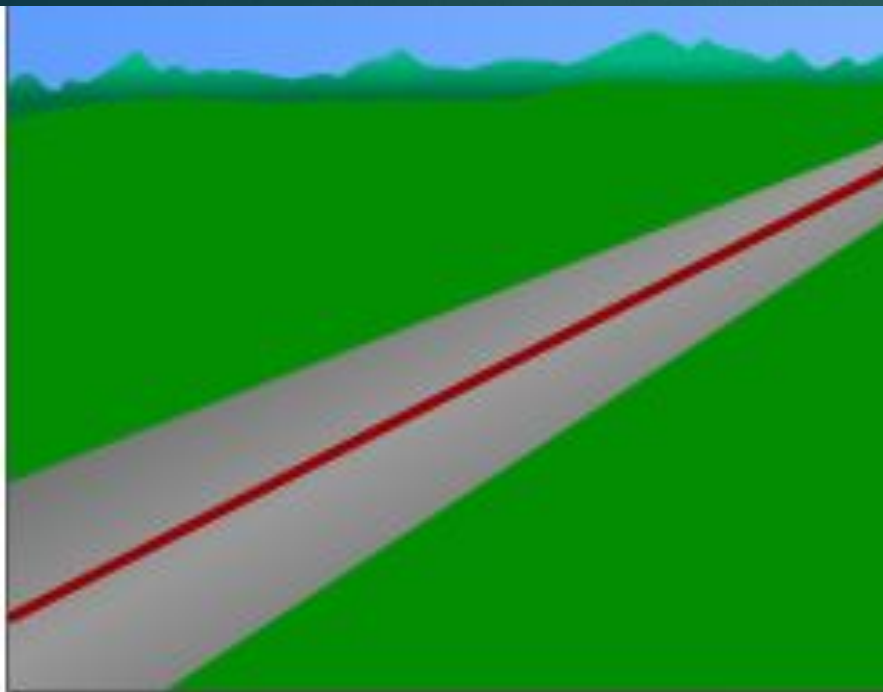
§ 13

Задание 4 (стр.32)

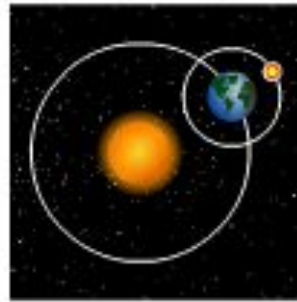


● Москва









относительно вертолета

относительно Земли

относительно Солнца



относительно Земли

относительно Земли

относительно Земли



ОТВ

ОТ

