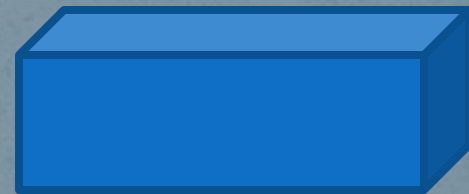


**Получение и передача  
переменного  
электрического тока.  
Трансформатор.**

Электрический ток, периодически  
меняющийся со временем по модулю и  
направлению, называется переменным  
ТОКОМ.

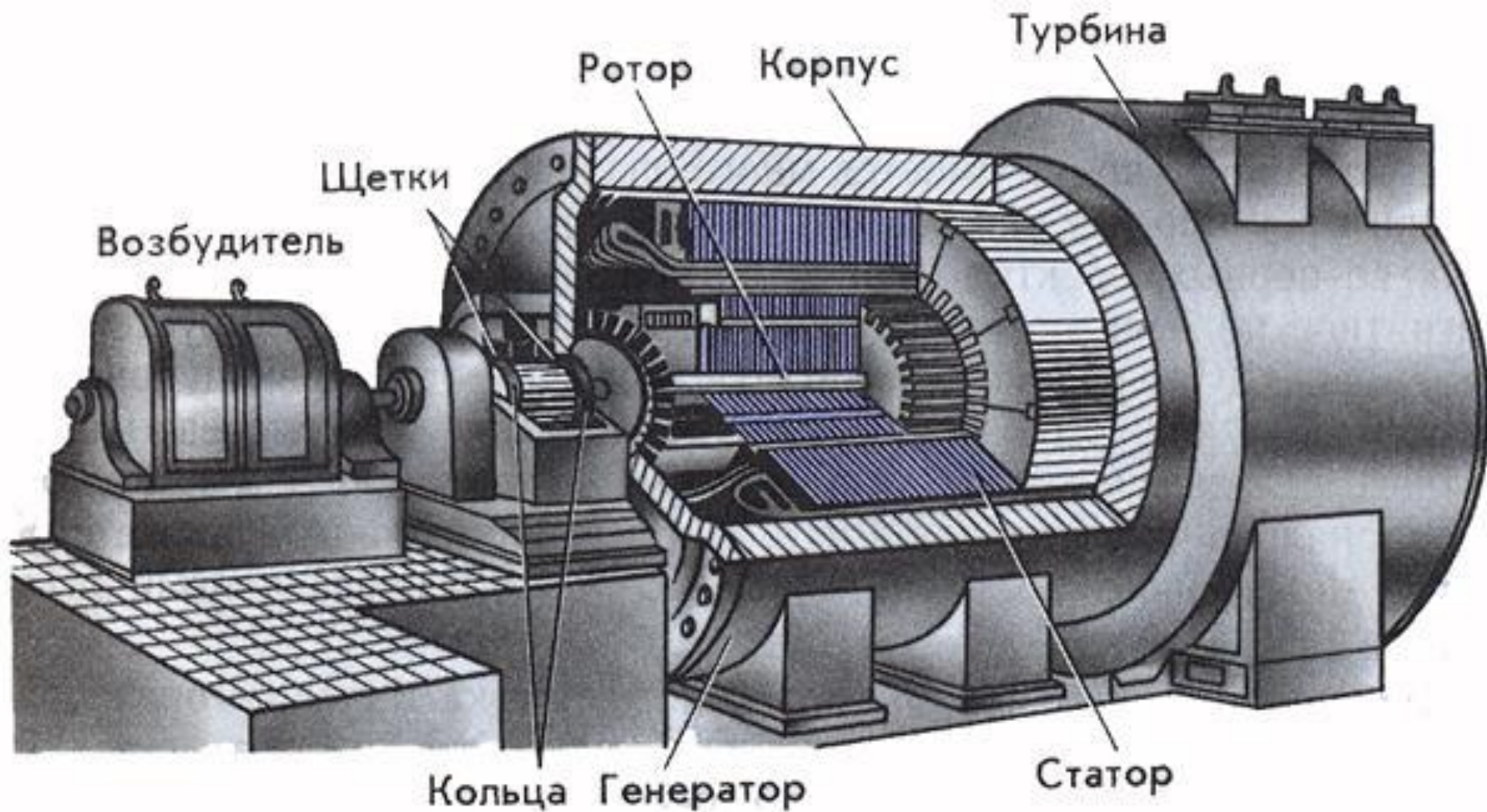


Для получения переменного тока  
используют в основном  
**электромагнитные индукционные  
генераторы**, т.е. устройства, в которых  
механическая энергия преобразуется в  
электрическую.






# Генератор переменного тока





На тепловых электростанциях ротор генератора вращается с помощью паровой турбины, на гидроэлектростанциях с помощью водяной турбины.

На рисунке цифрой 1 обозначен статор, цифрой 2 – ротор, цифрой 3 – водяная турбина.





# Передача электроэнергии



$$Q = I^2 R t$$

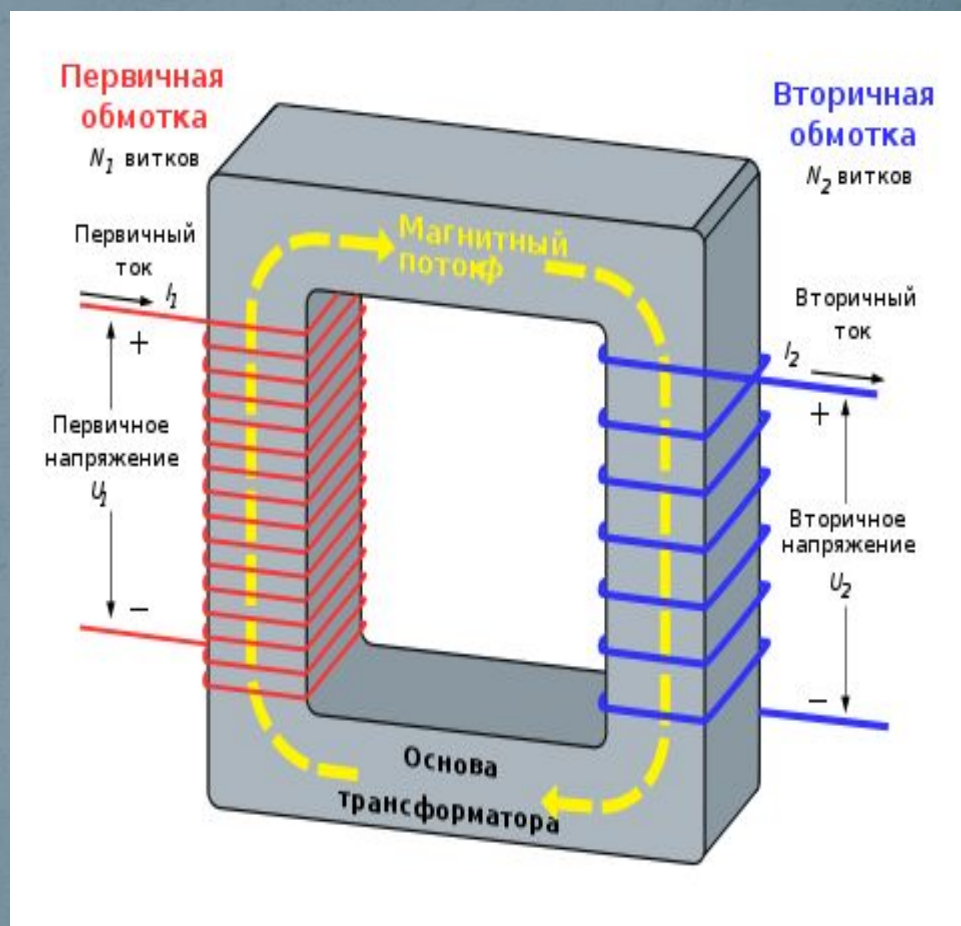
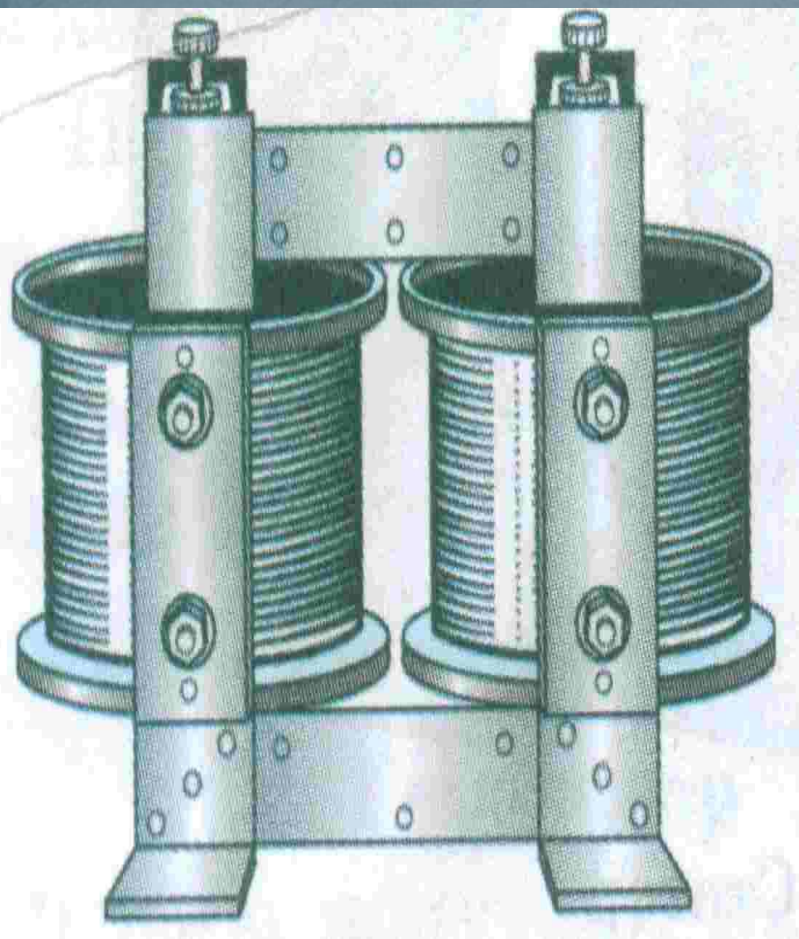
Электрический ток нагревает провода линии электропередачи. При очень большой длине линии, передача энергии может стать экономически невыгодной. Снизить сопротивление линии весьма трудно.

Для сохранения передаваемой мощности нужно повысить напряжение в линии передачи .

Чем длиннее линия передачи, тем выгоднее использовать более высокое напряжение.



# Трансформатор.





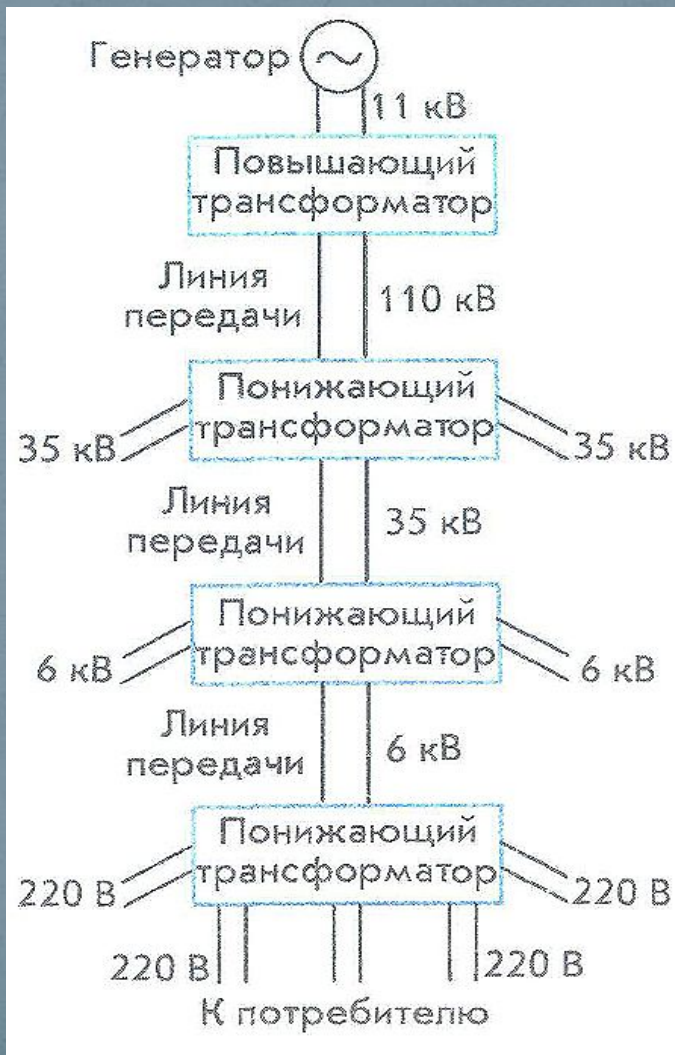
# Коэффициент трансформации

$$K = \frac{U_1}{U_2} = \frac{N_1}{N_2} \approx \frac{I_2}{I_1}$$


**Вывод:** 1)  $K < 1$ , если  $N_2 > N_1$  или  $U_2 > U_1$  – повышает  $U$ .

2)  $K > 1$ , если  $N_2 < N_1$  или  $U_2 < U_1$  – понижает  $U$ .

# Схема передачи и распределения электроэнергии








## Применение в источниках питания.

Для питания разных узлов электроприборов требуются самые разнообразные напряжения. Например, в телевизоре используются напряжения от 5 вольт, для питания микросхем и транзисторов, до 20 киловольт, для питания анода кинескопа. Все эти напряжения получают с помощью трансформаторов (напряжение 5 вольт с помощью сетевого трансформатора, напряжение 20 кВ с помощью строчного трансформатора). В компьютере также необходимы напряжения 5 и 12 вольт для питания разных блоков. Все эти напряжения преобразуются из напряжения электрической сети с помощью трансформатора со многими вторичными обмотками.



Трансформаторные модули, разработанные для интернет телефонии и сетей интернет.



# Решите задачи.

1. Электростанции России вырабатывают переменный ток частотой 50 Гц. Определите период этого тока.

2. По графику (рис. 132) определите период, частоту и амплитуду колебаний силы тока  $i$ .

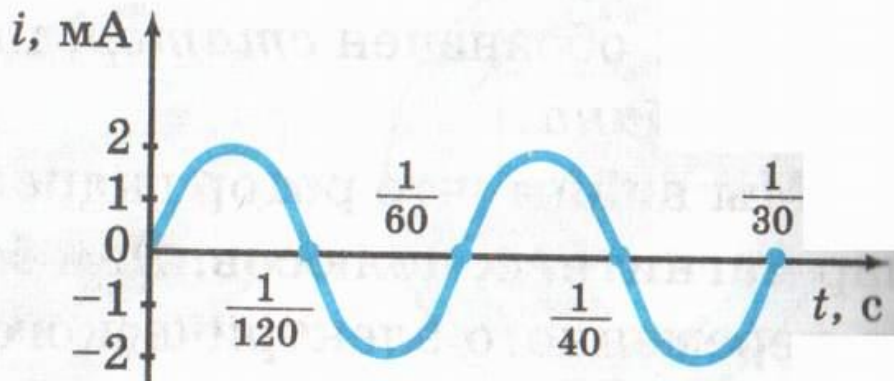


Рис. 132

Домашнее задание:

§ 51

Темы: «Экологические проблемы, связанные с работой тепловых и гидроэлектростанций».

«П.Н.Яблочков – изобретатель трансформатора».