



Игры на уроках географии


Подготовила:

Гоца Ирина Александровна




Назовите
столицу


1. Карелия
2. Башкортостан
3. Эстония
4. Казахстан
5. Ямало-Ненецкий АО
6. Республика Чечня
7. Республика Коми
8. Ненецкий АО
9. Дагестан
10. Грузия
11. Молдавия
12. Свердловская область
13. Республика Коми
14. Литва



Проверь себя: Решаем кроссворд



Г	р	и	з	л	и				
К	а	р	и	б	с	к	о	е	
К	а	р	т	о	ф	е	л	ь	
К	а	н	а	д	а				
К	о	р	д	и	л	ь	е	р	ы
К	у	к	у	р	у	з	а		
А	м	а	з	о	н	к	а		
А	н	д	ы						
			с	с	и	с	и	п	и
	р	а	з	и	л	и	я		



Игра «Что такое? Кто такой?»

Амударья

Шпицберген

Пиренеи

Балхаш

Инд

Каракумы

Гоби

Аппенинский

Иссык-Куль

Колыма

Игра «Найди соответствие»

Почвы

Подзолистые

Черноземные

Мерзлотно-таежные

Серые

Каштановые

Бурые

Красноземные

Природные зоны

Влажные субтропики

Степь

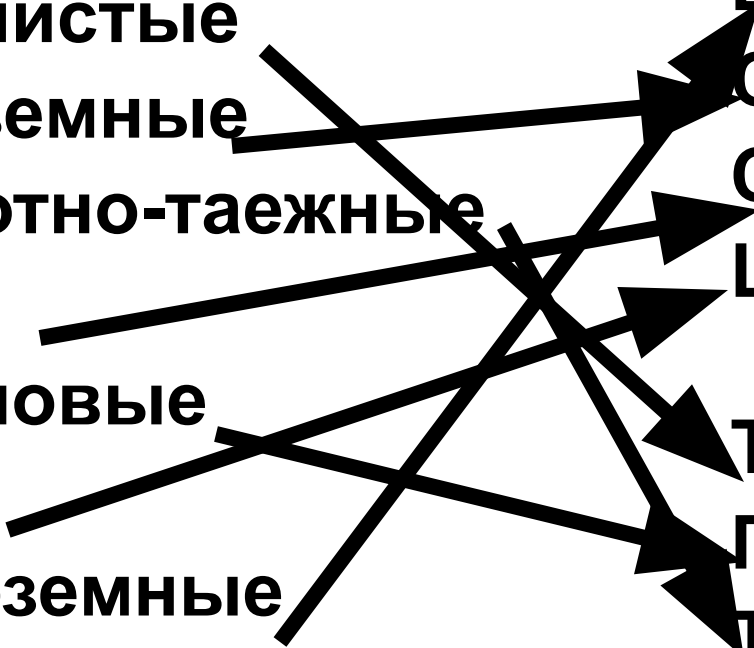
Смешанный лес

Широколиственный
лес

Тайга

Полупустыня

Тундра



Дополните предложение...

1. Река Волга впадает в ... и относится к ...бассейну.
2. Самая длинная река Евразии - ...
3. Самая полноводная река Евразии - ...
4. Реки ... океана отличаются непостоянством: зимой переполняются, а летом мелеют.
5. Реки, впадающие в Черное море, относятся к бассейну ... океана.
6. Вечная мерзлота преобладает в ... части материка.
7. Город Ленинград стоит на берегу озера ...

Определите климатический пояс по описанию:

- Летом здесь устанавливается жаркая, сухая погода. Дожди очень редки, безоблачная погода.
- Зимой, наоборот, часто идут дожди, но тепло. Дожди приносят влажные западные ветры. Температура зимой выше 0°C .
- Субтропический (побережье Средиземного моря)

Определите климатический пояс по описанию:

- Мягкая зима, средняя температура января выше 0° С, а летом от $+10^{\circ}$ до $+18^{\circ}$ С. Осадки выпадают постоянно, их много, более 1000 мм.
- Летом преобладает облачная пасмурная погода. Редко бывают солнечные дни.
- Зимой погода неустойчива, часты морозящие дожди, долго держится туман. Снег выпадает редко и быстро тает.
- **Морской климат умеренного пояса.**

Дополните и прочитайте предложения о Средиземном море

- Относится к океану.
- Располагается в ... частиокеана.
- Соединяется с ...океаном через ...пролив.
- Имеет приблизительную длину ... км и ширину ... км (определите с помощью масштаба)
- Северной, западной и восточной частями омывает материк..., а южной – материк....
Имеет крупные острова....

Определите климатический пояс по описанию:

- Воздушные массы с Тихого океана летом приносят большое количество осадков, густую облачность и понижение температуры. Потoki дождя льют не переставая. Реки переполняются водой и выходят из берегов.
- Зимой из внутренних частей материка приходит более холодный континентальный воздух, температура может упасть до 0° С.
- **Субтропический муссонный.**

Составьте пары

Название прибора
Термометр
Барометр
Гигрометр
Осадкомер
Флюгер

Что измеряет
Количество осадков
Температура воздуха
Направление ветра
Атмосферное давление
Влажность воздуха

Игра «Что такое, кто такой?»

- Хуанхэ
- Муссон
- КМА
- Альпы
- Шри-Ланка
- Черапунджи
- Скандинавский
- Памир
- Кимберлит

Игра «Что такое, кто такой?»

- Балхаш
- Саксаул
- Пекин
- Анадырь
- Пиренеи
- Гоби
- Амур
- Орангутан
- Сахалин
- Варшава
- Иссык-Куль
- Такла-Макан

Определи страну по описанию. Назови столицу

- Государство, относящееся к странам Юго-Восточной Азии, занимает архипелаг Большие Зондские острова.
- Находится в экваториальном климатическом поясе.
- На одном из островов (Ява) находится действующий вулкан Кракатау.
- Жители этого государства исповедуют ислам и буддизм.
- Столица - Джакарта

Определи страну по описанию. Назови столицу.

- Это европейская страна находится на одном из крупных полуостровов Европы.
- Богата лесами, нефтью, газом. Население занимается рыболовством.
- По территории страны проходят старые разрушенные горы.
- Житель этой страны занял в 2009 году первое место на конкурсе Евровидение.

Определи страну по описанию. Назови столицу.

- Это азиатское государство не имеет выхода в океан, что затрудняет его экономическое развитие.
- Большую часть территории занимают горы или плоскогорья.
- Климат тропический, засушливый.
- На юге граничит с Пакистаном, на западе – с Ираном.

Узнайте реку по её контуру



Игра «Найди лишнего»

- Енисей, Лена, Печора.
- Кубань, Дон, Днепр,
- , Байкал, Онежское, Ладожское.
- Урал, Волга, Кама.
- Шилка, Аргунь, Сунгари.