


A world map with a grid overlay. Five red circular markers with white borders are placed on the map: one in North America (USA), one in Europe (Russia), one in the Middle East (Turkey), one in South America (Venezuela), and one in Africa (South Africa).

Сан сүрәжкә

саяхат



Панама каналы қай
жылы іске қосылды?

1914жылы

Африкада өсетін вельвичия
өсімдігі қанша жыл
өмір сүреді?

2000жыл



Ресейдің ең қысқа шекарасы
қай мемлекетпен өтеді?

Солтүстік Корея



Қотопахи тауы қай елде
орналасқан?

Эквадор елінде



Ресейдің ең үлкен
аралын атаңыз

Сахалин аралы



Испания мен Франция
арасында орналасқан
мемлекет

Андорра




Ең ұзын шекара қай мемлекеттер
арасында жүргізілген?

**АҚШ пен Канада
арасында
(8963 км)**



Лотос шіркеуі қай
мемлекетте орналасқан?



Үндістан

Терендігі бірдей нүктелерді
қосатын сызықтар
қалай аталады?

ИЗОБАТА



**Жер шарында қанша
теңіз бар?**


43 теңіз бар





Женева көлі қай
мемлекет аумағында
орналасқан?

Швейцария



Прага, София, Лиссабон,
Дели, Мельбурн.

Бұл қалалардың арасында
бір байланыс бар,
тек бір қала бұл тізімде артық.
Ол қай қала?

Артығы – Мельбурн,
қалған қалалар астаналар болып табылады



Әлем бойынша екінші
орын алатын шығанақ

Мексика шығанағы

**Янцзы өзені ұзындығы
жөнінен әлемде
нешінші орын алады?**

Ніл мен Амазонкадан кейін үшінші





**Монблан шыңы қай
мемлекеттер
аралығында орналасқан**

Франция мен Италия

Арал теңізі үлкендігі жөнінен
әлемде нешінші орын алады?

АЛТЫНШЫ

1. Каспий
2. Жоғары көл
3. Виктория
4. Гурон
5. Мичиган
6. Арал



A red apple with a green leaf sits on top of a stack of three books with orange, blue, and green covers. The books are on a wooden desk in front of a green chalkboard.

Қай мемлекеттердің астаналарының
атауы “астана” деп аталады?

1. Корея - Сеул

2. Қазақстан - Астана

Апеннин түбегі қай теңіздер
аралығында орналасқан?


Шығысында Адриат теңізі
Батысында Тиррен теңізі
Оңтүстігінде Ион теңізі



Ағаштар жаппай кесілген жерлерде
екінші рет пайда болған ормандар
қалай аталады?


МАКВИС



A red apple with a green leaf sits on top of a stack of three books with brown, blue, and green covers. The background is a green chalkboard.

Франция мен Германия
аралығында қай мемлекет
орналасқан?

Люксембург



Жерінің 99 %-ын шөл
басып жатқан ең шөлді
мемлекетті атаңыз

Ливия

**Шахмат тақтасында қанша
шаршы бейнеленген?**

64 шаршы



Жер шарындағы ең таза теңіз

Антарктидадағы
Уэддел теңізі




1983 жылы бірде-бір туу

тіркелмеген жалғыз

мемлекет

Ватикан





Ауянтешуи тауынан
құлап ағатын сарқырама

Анхель



Мұздықтармен өңделіп,
тасымалданған жыныстар
қалай аталады?

Мореналар

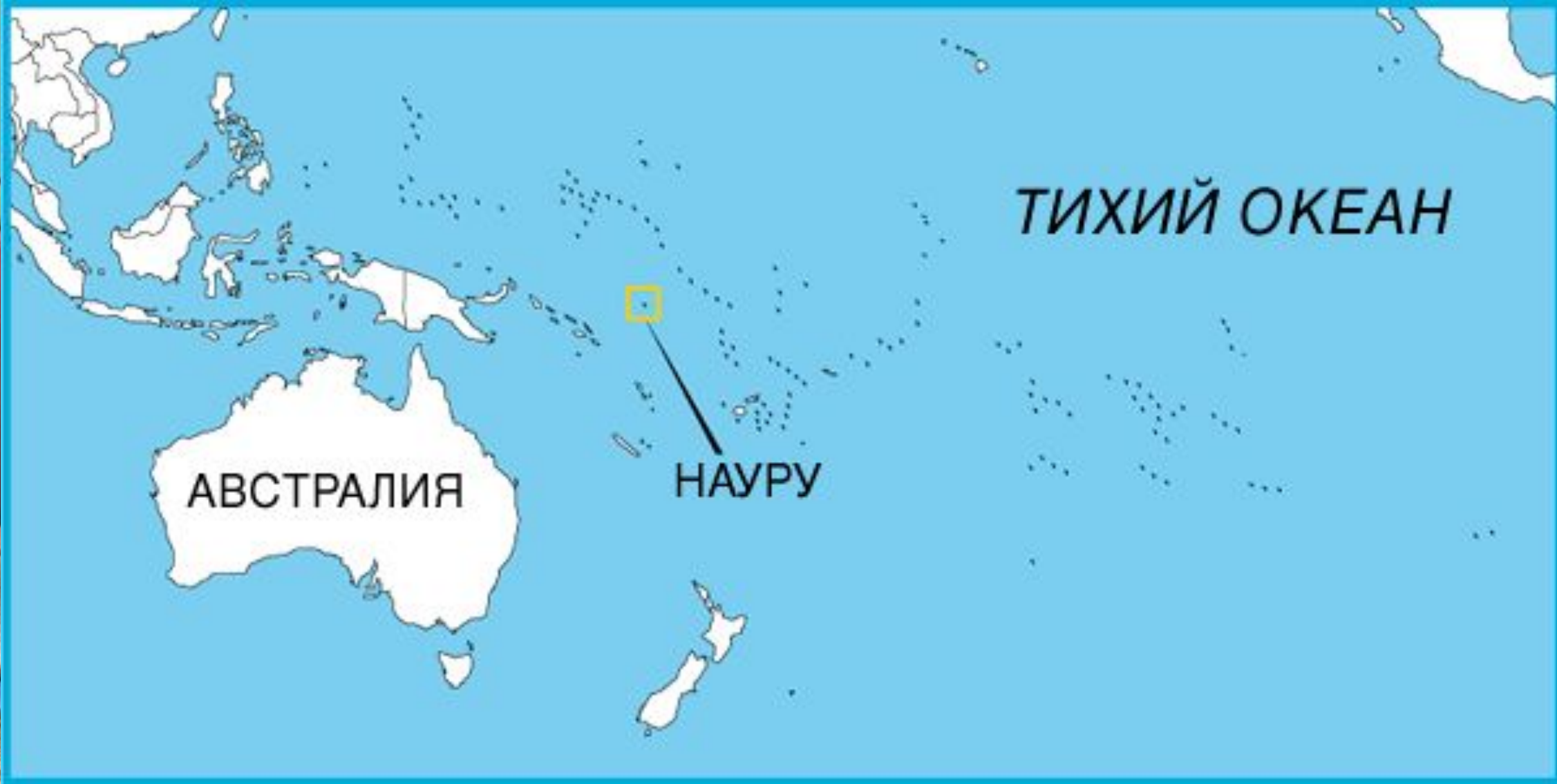
Барлық елдердің туында ақ,
көк, қызыл түс бейнеленеді.

Тек екі елдің туында ғана

стер кезд
дер?



Ямайка мен Мавритания



Науру

**АҚШ – тың 50 штатының
қаншасы теңізге шыға
алады**

23





ры ең көп
ет

Науру

• Бұл елдің 95% - ның
салмағы артық





Көптеген мемлекеттердің
елтанбаларында қай
жануар ең көп бейнеленген

Арыстан

Ол 29 мемлекеттің
елтанбасында бейнеленген


Сахалин аралы Ресеймен

қандай бұғаз арқылы

бөлінеді

Татар бұғазы



A red apple with a green leaf sits on top of a stack of four books with brown, blue, and green covers. The background is a green chalkboard.

Су буының конденсациясы
жүзеге асатын ауа
температурасы қалай
аталады?

Шық нүктесі

“Су перісі” мүсіні қай мемлекет
аумағында орналасқан?



Данияда

Мына қалалардың қайсысы
Мәскеу қаласына жақын
орналасқан

Сочи

Жиев

Тверь

Самара

Ең көп қауырсынды құсты
білесіз бе?


Қара аққу

25 мыңға дейін қауырсыны бар

Терендігі 220 метрден
астам әлемдегі
ең терен өзен


Конго өзені



A red apple with a green leaf sits on top of a stack of three books with brown, blue, and green covers. The background is a green chalkboard.

Өзінің ерекше мойын
омыртқасына байланысты
Басын 270° - қа дейін бұра
алатын құсты білесіз бе?

Үкі

A red apple with a green leaf sits on top of a stack of four books with brown, blue, and green covers. The background is a green chalkboard.

Игуасу сарқырамасы қай
мемлекеттер арасында
орналасқан?

Бразилия мен Аргентина


Виктория сарқыраамасы қай
мемлекеттер арасында
орналасқан?




Замбия мен Зимбабве

Үнді түбегі мен Үнді-Қытай
түбегі арасында қай
мемлекет орналасқан

Бангладеш



A red apple with a green leaf sits on top of a stack of three books with brown, blue, and green covers. The background is a green chalkboard.


Атмосфера қабаттары
мезосфера мен термосфера
аралығы қалай аталады?

мезопауза

Ұлыбритания мен Ирландия
арасын бөліп тұрған бұғаз
қалай аталады?

Әулие Георг





Валдес түбегі қай
мемлекет аумағында
орналасқан?

Аргентина

Венерн және Веттерн көлдері
қай мемлекет аумағында
орналасқан?

Швеция



Германияның солтүстігінде
қай мемлекет орналасқан?

Дания



**Флай гейзері АҚШ-тың қай
штатында орналасқан?**

Невада штаты