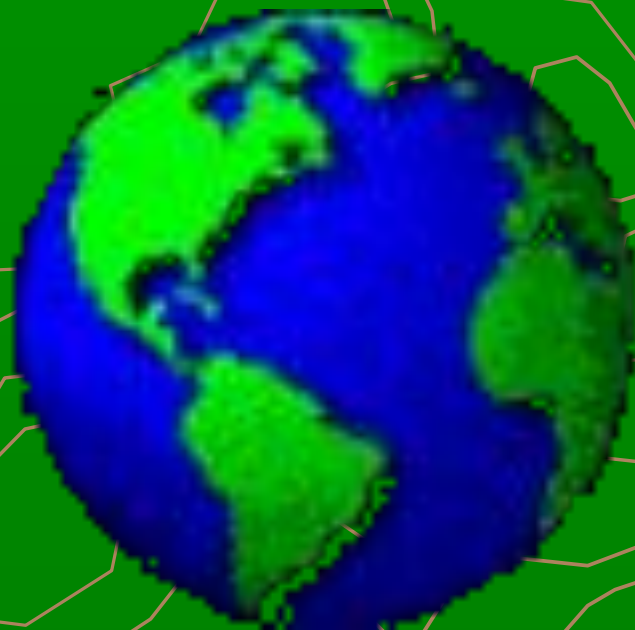




Здравствуйте



«Морская экспедиция»



	К	Д	Б
М	О	Р	Е
А	Л	Е	Л
Г	У	Й	Л
Е	М	К	И
Л	Б		Н
Л			С
А			Г
Н			А
			У
			З
			Е
			Н





ВЕСТИ КАРЕЛИЯ

1. Девальский камень. Рельеф человека и оленя.
Музей истории Карелии, Петрозаводск. Фото: А. С. Савельев. 2007. 40х40 см. Карелия. Музей истории Карелии. Петрозаводск. 2007. 40х40 см.

Что называется топографическим планом и картой ?

Топографический план и карта —
уменьшенные изображения
поверхности Земли, данные в
масштабе с помощью условных
знаков.

The background of the slide is a green topographic map. It features brown contour lines representing elevation. In the lower-left corner, there is a brown compass rose with a white needle pointing towards the top. The compass rose has markings for cardinal directions: 'N' for North, 'S' for South, 'E' for East, and 'W' for West. The map also shows some black lines representing roads or boundaries.



NW

\$

Виды изображения поверхности Земли



Государственный мемориальный историко-художественный и природный музей-заповедник художника Василия Поленова



Наглядность и информативность изображений

Номер вопроса	Картина	Аэрофотоснимок	Топографическая карта
1			
2			



Наглядность и информативность изображений

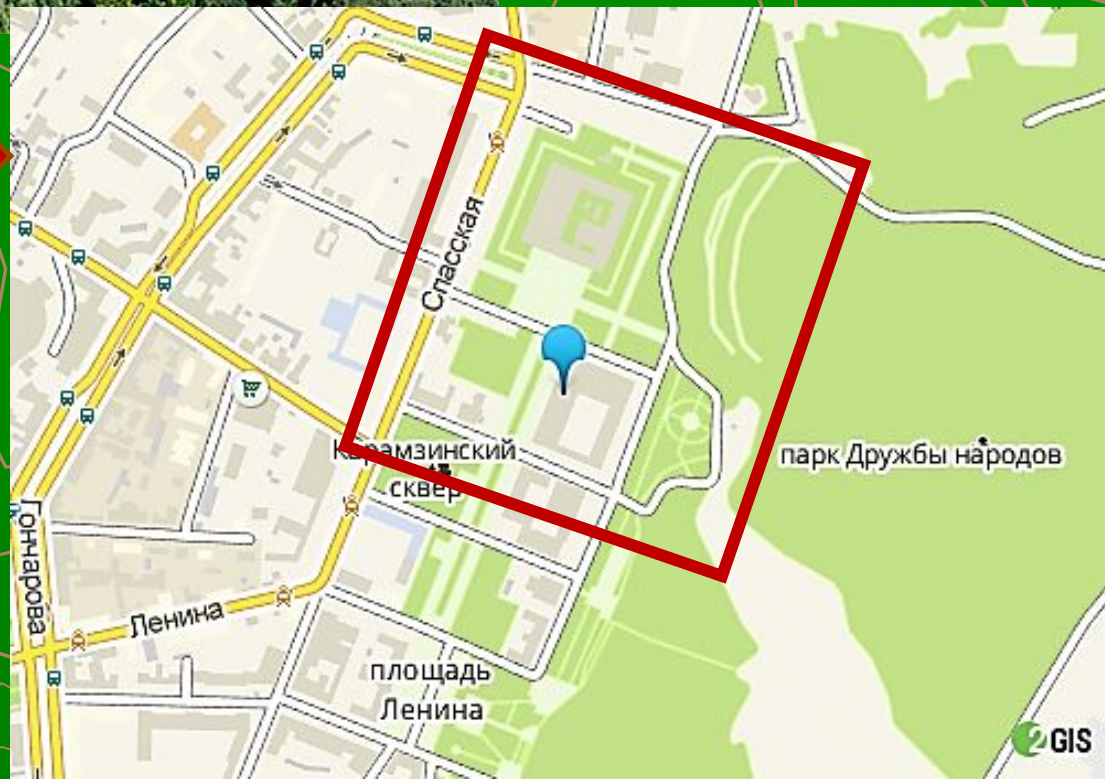
Номер вопроса	Картина	Аэрофото снимок	Топографическая карта
1	нет	нет	Ока, Таруса, Скнижка, можно определить направление, скорость рек
2	нет	нет	Бёхово, Таруса, д/о Таруса, Игнатовское, Кузмищево, Поленово, Страхово, Тяпкино, православные храмы

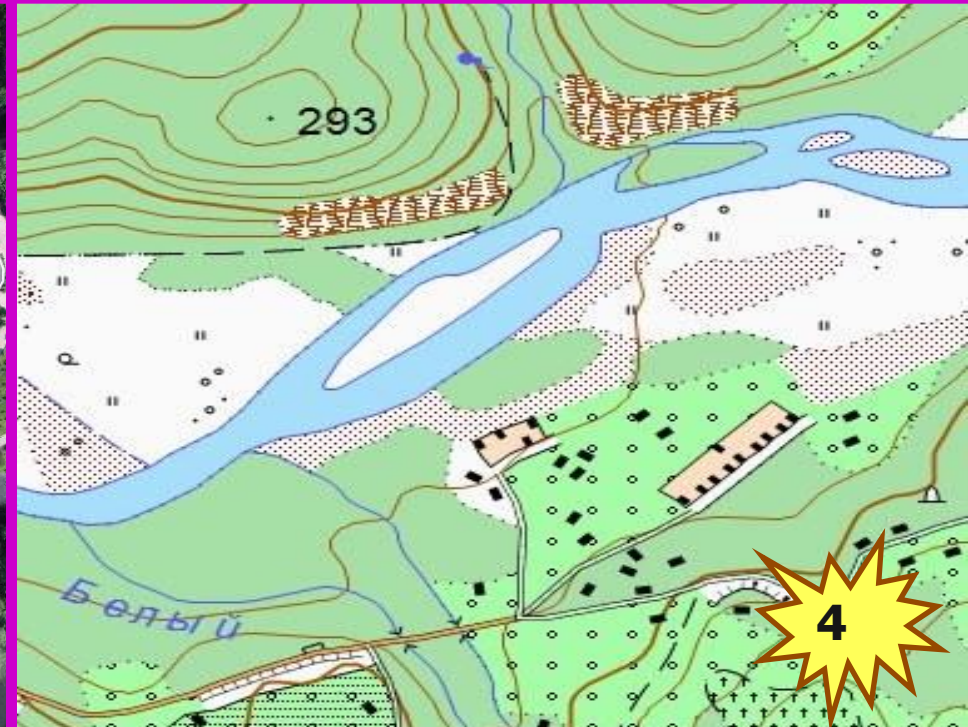



**Аэрофотоснимок
г. Ульяновска**

**Топографический
план г. Ульяновска**

По фрагменту плана г. Ульяновска определите район, откуда была сделана фотография. Цветным маркером выделите район фрагмента, откуда была сделана фотография.





Я узнал...

**У меня
получилось...**

**Было
интересно...**

**Я исправил
свою
ошибку...**



Домашнее задание

❖ *Базовый уровень с. 41-43*

❖ *Творческое задание*

совершить виртуальное путешествие по своей местности, выйдя на сайт <http://gpska.yapl.ru/>



Спасибо за внимание!



Ключи к тестированию

1. А рисунок

Б аэрофотоснимок

В топографический план, карта

2. В

3. Основная река – Ока

левый приток – Таруса

правый приток – Скнижка

4. Ока судоходная, на ее берегах
причалы