




Аустралия Одағы



ЖОСПАР

- I. Ұйымдастыру кезеңі
 - II. Үй тапсырмасын сұрау
 - III. Мағынаны тани білу кезеңі
 - IV. Қорытындылау
 - V. Кері байланыс
 - VI. Үйге тапсырма беру
- 

I. Ұйымдастыру кезеңі

- 1. Оқушыларды түгелдеу
 - 2. Сынып тазалығына назар аудару
 - 3. Кезеңшіден келмеген оқушыларды себебін анықтау
 - 4. Топқа бөлу
 - 5. Жағымды атмосфера қалыптастыру
- 

Хормен

- Жасыл жайлау, түкті кілем, көк кілем,
Көк кілемде көп ойнаймын, көп күлем.
Маңдайымнан сипап өткен самалды
Қазағымның алақаны деп білем.

Қайырмасы:

Қайда жүрсем атамекен,
Көкейіңде жатады екен.
Күннің өзі қимай оны
Ұясына батады екен.

II. Үй тапсырмасын сұрау “Көзбен кірпік қаққанша”

әдісі арқылы

- **I-топ: «Австралия» тобына:**
- Материктің шеткі нүктелерін ата?
- Материктің ауданы
- «Австралия» сөзі қандай мағынан береді?
- Эвкалипт ағаштары қалай Австралия материгінде сақталып қалған?
- Материк жағалауында қандай маржандық құрылым орналасқан?
- Материктің ең биік нүктесін ата?
- Теңіз деңгейінен ең төмен жатқан нүктесі қандай?

- **II-топ: «Тасмания» тобына:**
- Материкті қандай мұхит сулары шайып жатыр?
- Пайдалы қазбаларын ата?
- Жағалаудағы бұғаздармен шығанақтарын атаңдар?
- Материктегі ең жоғарғы температура қай жерінде тіркелген және неше градус болды?
- Дәл қазір Австралия материгінде қандай мезгіл?
- Климаттық белдеулерін атап, көрсетіңдер?
- Криктер дегеніміз не?

Семантикалық карта

№	Атауы	арал	астана	ғалым	тау	өсімдік	жануар	көл	өзен
1	Эйр							+	
2	Тасмания	+							
3	Кенгуру						+		
4	Эвкалипт					+			
5	Муррей								+
6	Үлкен Суайрық				+				
7	Коала						+		
8	Д.Кук			+					
9	Канберра		+						
	Жаңа Зеландия	+							

□ III-топ «Жаңа Зеландия» тобына:

- Муррей өзені қай мұхит алабына жатады?
- Муррейдің саласы Дарлинг қай жерден бастау алады?
- Материктің эндемиктік өсімдіктерін ата?
- Материкте көбіне суккулентті өсімдіктердің өсуінің себебі неде?
- Вилли-вилли деп нені айтамыз?
- Материкте қоян, ит, түлкі, егеуқұйрық қай жерлерден алып келінген?
- Осы сырттан алып келінген жануарлар қалай тез көбейіп кетті?

Сөзжұмбақ

				д	А	р	л	и	н	г
		к	а	з	У	а	р			
			к	о	С	ц	ю	ш	к	а
					Т	ү и	е	қ	ұ	с
				к	Р	и	к			
			к	о	А	л	а			
				у	Л	у	р	у		
				к	И	в	и			
	а	к	а	ц	И	Я				

Термин сөздермен жұмыс

- **Эндемиктер** – Белгілі бір жерге тән өсімдіктермен жануарлардың түрлерін айтамыз
- **Криктер** – Кеуіп қалған арналар
- **Вилли-вилли** – Қатты соғатын шаңды дауылдар
- **Суккулентті өсімдіктер** - құрғақшылыққа төзімді, бойына ылғалды жинайтын өсімдіктерді айтамыз
- **Косцюшка** – Үлкен Суайрық жотасының биік шыңы

Жаңа сабақ

Жер көлемі жөнінен 10 мемлекет:


- 1. РФР
- 2. Канада
- 3. ҚХР
- 4. АҚШ
- 5. Бразилия
- 6. Австралия
- 7. Үндістан
- 8. Аргентина
- 9. Қазақстан
- 10. Алжир

□ *Ең кіші материк және көлемі жөніненде*

□ *6 орындағы материкті атаңдар?*

Австралия Одағы

- Астанасы: Канберра
- Халық саны: 24 млн
- Қала халқының үлесі: 86%
- Байырғы халықтары: аборигердер
- Аңшылық қаруы: бумеранг
- Шаруашылығы: тау-кен, химия,
□ машина жасау,
□ тамақ өнеркәсібі
- Ананас, банан, қант құрағын көптеп өсіреді



Австралия Одағы

Аустралия Одағы – материктегі жалғыз ел. Ауданы 7,7 млн км²
Материктің жағалауларын Тынық және Үнді мұхиттары шайып жатыр.



Астанасы - Канберра





Аустралия Елтаңбасы





Ұлттық құрамымен Халқы

- Халықтың - көпшілігі христиан дініндегі адамдар, католиктер және протестанттар . Басқа діндердің өкілдері - болмашы санда.
- Мемлекеттік тіл - мемлекеттік ағылшын , итальян, қытай тілдері қолданылады.



Бумеранг







Меринос қойлары





Жануарлары



Эвкалипт ағашы



III. Мағынаны тани білу кезеңі

- ▣ *Оқулықтан жаңа мәтін бөлініп беріледі*
- ▣ I-топ: «Австралия» тобына
 - ▣ **Материктің географиялық орны**
- ▣ II-топ: «Тасмания» тобына
 - ▣ **Материктің халқы**
- ▣ III-топ: «Жаңа Зеландия» тобына
 - ▣ **Шаруашылығы**

Сергіту сәті

- ▣ *“Тапқыр болсаң тауып көр”* ел астаналары:
- ▣ 1. Куба
- ▣ 2. Аргентина
- ▣ 3. Оңтүстік Корея
- ▣ 4. Жапония
- ▣ 5. Йемен
- ▣ 6. Мысыр
- ▣ 7. Эквадор
- ▣ 8. Эфиопия

“Математикалық есептер”

- 1) $50 \times 50 + 6348 =$
- 2) $28 + 1000 + 1200 =$
- 3) $8 \times 2 =$
- 4) $2,7 + 5 =$
- 5) $5400 + 1271 =$
- 6) $250 + 260 =$

IV. Қорытынды

- «Ойландырған он сұрақ» кезеңі
- 1. Материктің ауданы қанша?
- 2. Халық саны қанша?
- 3. Халықтың қанша пайызы қалада трады?
- 4. Байырғы халқтарын қалай атайды?
- 5. Бумеранг қандай қару?
- 6. Мал шаруашылығынан не өсіреді?
- 7. Материкке халықтар қай жерден келген?
- 8. Аустралияның қазіргі халқы қалай қалыптасқан
- 9. Кенгуру қандай мағына білдіреді

□

Видиоролик

□ “Тәуелсіздіктің”

□ 25 жылдығына,

“Желтоқсан” оқиғасының

30 жылдығына арналған

V. Рефлексия

- **“Екі жұлдыз бір тілек”**
кезеңінде аралдарға
саяхат жасаймыз

VI. Үйге тапсырма

- §26 Аустралия Одағын жан-жақты ізденіп, оқып келу

**Назар аударғандарыңызға
рахмет**

