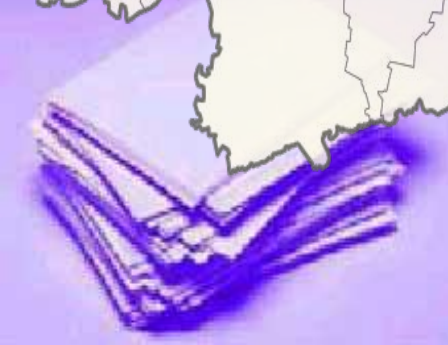
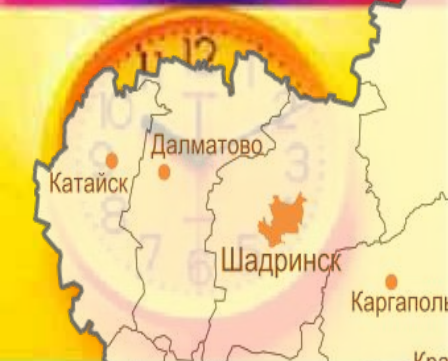


Рабочая тетрадь по физической географии Курганской области.



Содержание	
Правила работы с тетрадью для учащихся.....	4
Раздел 1. Географическое положение Курганской области.....	5
Раздел 2. Геологическое строение и рельеф.....	9
Раздел 3. Климат.....	15
Раздел 4. Воды и водные ресурсы.....	19
Раздел 5. Почвы и земельные ресурсы.....	26
Раздел 6. Растительный покров.....	30
Раздел 7. Животный мир.....	34

Раздел 1. Географическое положение Курганской области

1. Заполните пропуски:

1. Курганская область как самостоятельная территориально-административная единица образовалась за счет разукрупнения и областей.

2. Занимает площадь тыс. кв. км.

3. Административный центр город

4. Область расположена в части страны, в юго-западной части страны, в бассейне среднего течения реки

5. Курганская область имеет форму

6. На севере область граничит со областью, на западе и юго-западе с областью, на юге и юго-востоке, на востоке и северо-востоке с областью.

7. Область расположена в природных зонах:

8. Курган является своеобразными воротами

9. По территории области проходитмагистраль.

10. Область занимает удобное географическое положение, так как близко расположена от с его разнообразными

***2. Сделайте вывод о выгодности ЭГП Курганской области с точки зрения условий жизни и деятельности человека.**

.....


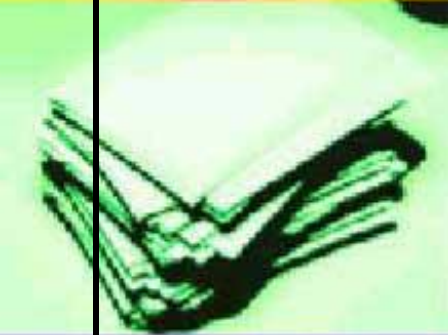
.....

.....

.....

.....

.....



Ответьте на вопрос

1. Что ближе расположено: крайняя северная точка Курганской области к северному полюсу или крайняя южная точка к экватору? Город Курган к Аральскому морю или Карскому?

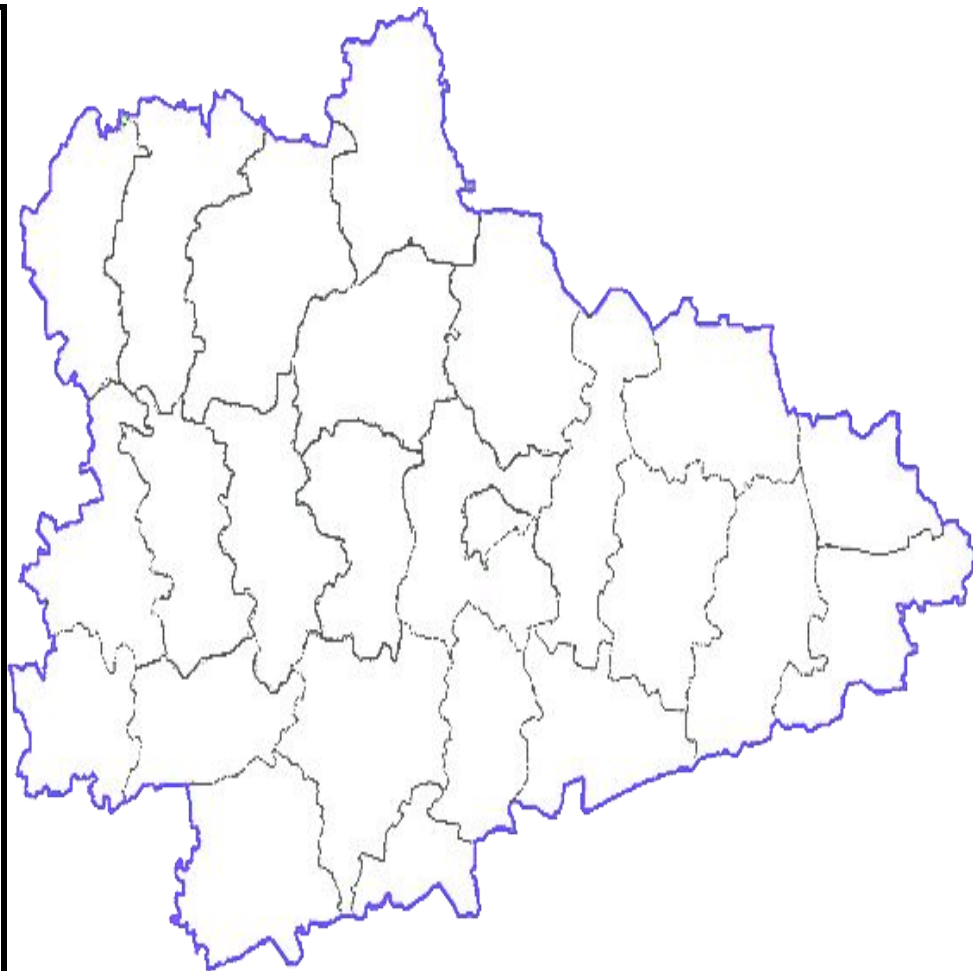
2. Территория Курганской области разделена на 24 района. Но официально в составе области 26 административных единиц. Какие еще административные единицы входят в состав области?

3. Какой район области самый молодой?

4. Какой район области самый большой, а какой самый маленький?

5. Какой из районов области самый западный, самый южный, самый восточный, самый северный?

6. Какие два района области имеют самое большое количество соседей?



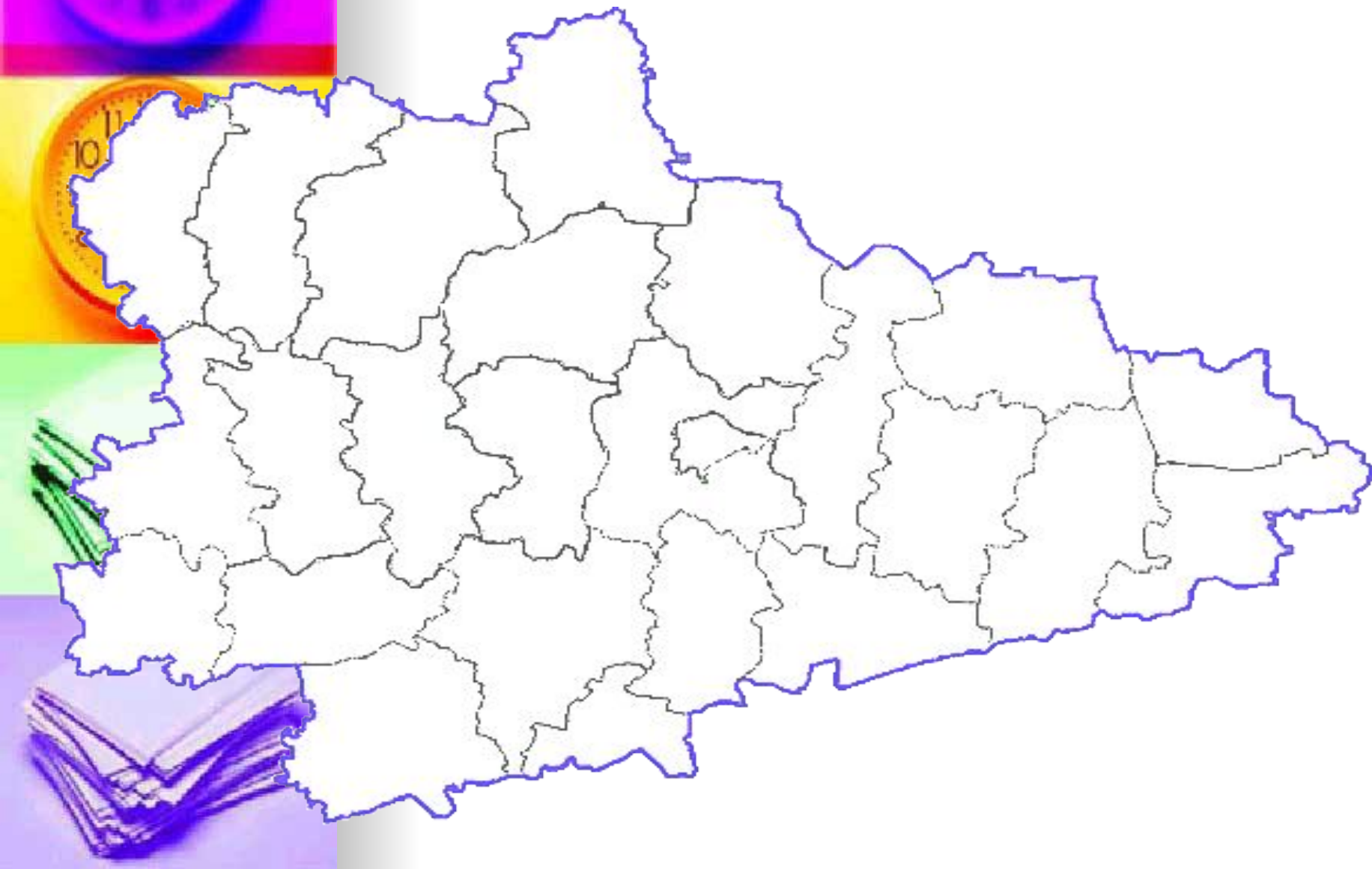
2. На контурной карте Курганской области укажите:

соседние области и государства, с которыми она граничит;

административный центр;

районы и районные центры;

главные железнодорожные пути.



*Раздел 2. Геологическое строение и рельеф
Курганской области*

. вспомните и назовите, какие две группы процессов формируют рельеф:

Внешние процессы

Внутренние

1.....

1.....

2.....

2.....

3.....

3

.....

4.....

4

.....

5.....

5

.....



в) деятельность.....;

г) биогенные процессы;

д) деятельность человека

. Заполните пропуски.

1. Рельеф Курганской области формировался под влиянием нескольких факторов:

а) тектоническое строение, 2. Курганская область расположена в прогибе

б)..... строение; складчатого пояса.

в) деятельность.....
3. В основании рельефа области лежит
(тектоническая структура).

г) биогенные процессы;
д)..... человека
4. В целом рельеф Курганской области представлен довольно


2. Курганская область расположена в прогибе складчатого
пояса.

Это часть равнины.

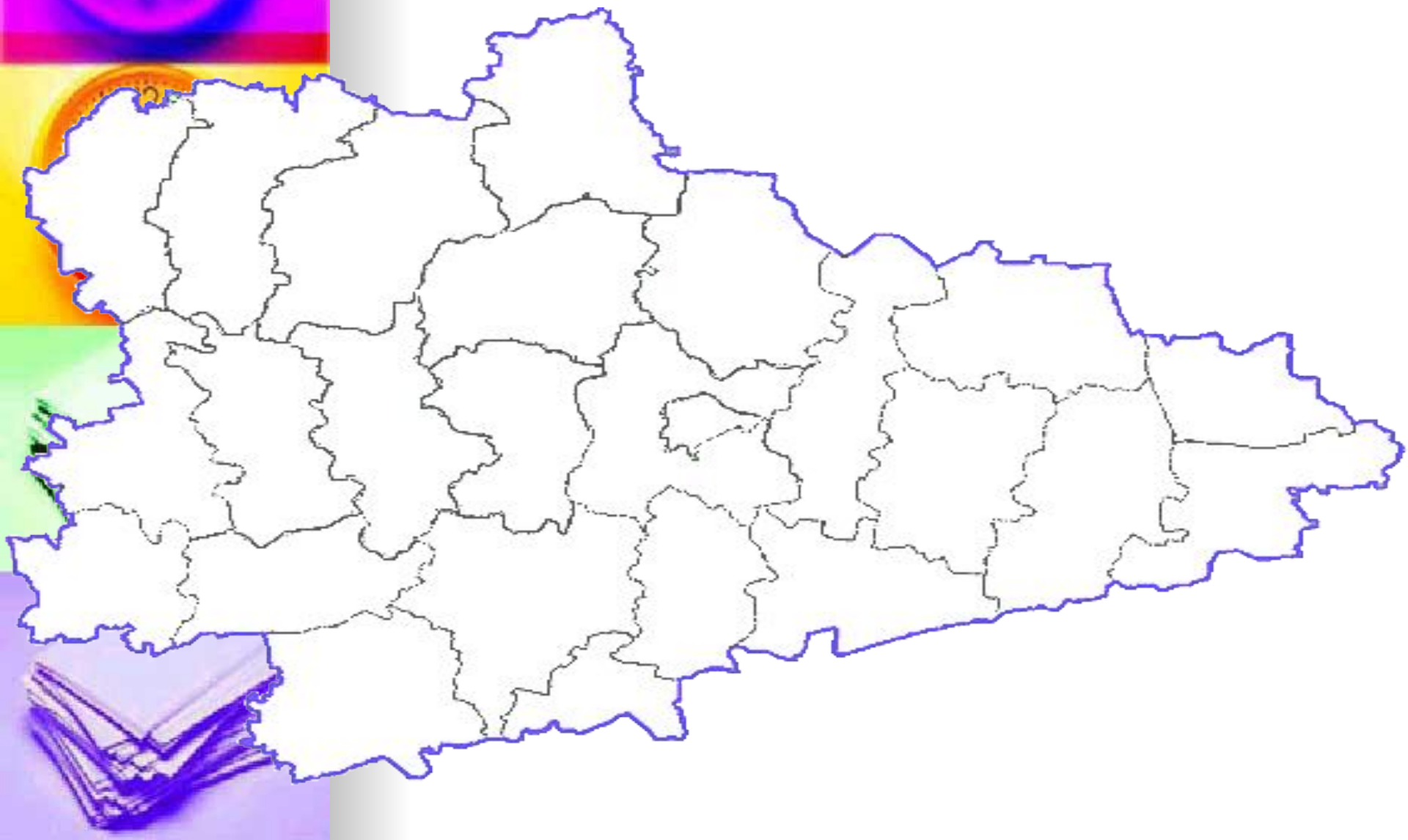
3. В основании рельефа области лежит (тектоническая структура).

4. В целом рельеф Курганской области представлен довольно однообразной
....., имеющей слабое поднятие на
.....

Это часть равнины.



- На контурную карту Курганской области нанесите основные формы рельефа и местные полезные ископаемые.



. Ответьте на вопросы

Охватывало ли древнее оледенение территорию современного Курганской области?

В триасе по трещинам в складчатом массиве разведочные работы проводились в Курганской области на территории Капюлики. Какие породы представлены эти излияния? Укажите 5 месторождений железной руды. Укажите, в каких районах они расположены?

1. Глубоченское (..... район)

2. Березовское (..... район)

Какая часть территории области наиболее высокая? Где находится место с максимальной абсолютной высотой?

4. Петровское (..... район)

5. Батовское (..... район)

Какие глины используются для производства керамики?
8. Одно из красивейших мест Курганской области в прошлом описано Д. Н. Маминым-Сибиряком в повести «Охонины брови». Где оно расположено? Что известно вам об этом участке природы в настоящее время?

Какие пески используются для производства силикатного кирпича?

9. Какая гора в Курганской области является геологическим памятником природы? Где она расположена? Какими породами представлена?

Для чего используется трепел?

Поисково-разведочные работы, проводились в Курганской области на территории Капюлики. Какие породы представлены эти излияния? Укажите, в каких районах они расположены?

1. Глубоченское (..... район)

2. Березовское (..... район)

3. Медвежьегорское (..... район)

4. Петровское (..... район)

5. Батовское (..... район)

8. Одно из красивейших мест Курганской области в прошлом описано Д. Н. Маминым-Сибиряком в повести «Охонины брови». Где оно расположено? Что известно вам об этом участке природы в настоящее время?

9. Какая гора в Курганской области является геологическим памятником природы? Где она расположена? Какими породами представлена?

10. Назовите полезные ископаемые области, помогающие сохранить здоровье человека?

ПОГОДА

Раздел 3. Климат Курганской области

Дайте следующие определения:

КЛИМАТ **Напишите основные характеристики климата и погоды:**

Климат.....

Погода

ПОГОДА..... 1..... 1.....

..... 2..... 2.....

Напишите основные характеристики климата и погоды..... 3.....

Климат..... 4..... **Погода**..... 4.....



1..... 5..... 1..... 5.....

2..... 2.....

3..... 3.....

4..... 4.....

5..... 5.....



повторяющейся.....

3. Курганская область удалена от теплых морей

Заполните пропуски

океана, отгорожена с запада..... хребтом,

1. Курганская область расположена в области..... материка, совершенно открыта с

2. Характерной особенностью нашей территории является....., поэтому

недостаточное..... на нашу территорию периодически.....

3. Курганская область удалена от теплых морей..... из степей Казахстана.

с запада..... 4. Большое влияние на климат Курганской области

совершенно открыта..... стороны воздушных масс умеренных широт,

поэтому на нашу территорию..... воздушные


массы, так и 5. Недостаточное увлажнение и континентальность нарастают с


4. Большое влияние на климат Курганской области оказывают.....

воздушные массы умеренных широт, приходящие из Восточной Сибири.

5. Недостаточное увлажнение и континентальность нарастают с на юго-

ВОСТОК.





ММ.....

Выпишите районы, для которых характерно:

340-380

менее 320

ММ.....

ММ.....

320-340

380-420

ММ.....

ММ.....

340-380

.....

ММ.....

420 и более

380-420

ММ.....

ММ.....

420 и более

ММ.....

.....

Когда высота полуденного Солнца для территории области наибольшая? Чему она равна?

. Ответьте на вопросы

Где количество суммарной солнечной радиации больше, на территории Курганской области или на той же широте в европейской части страны? На Камчатке?

Объясните имеющиеся различия. Какой месяц на территории Курганской области самый влажный, а какой самый – сухой? Объясните, почему?

Когда высота полуденного Солнца для территории области наибольшая? Чему она равна? Число дней со штилевой погодой на территории области в целом

невелико и они неравномерно распределены в течении года. Укажите, какие месяцы относительно спокойные, а какие – наиболее ветреные. Объясните, почему?

Какой месяц на территории Курганской области самый влажный, а какой самый – сухой? Объясните, почему?

Число дней со штилевой погодой на территории области в целом невелико и они неравномерно распределены в течении года. Укажите, какие месяцы относительно спокойные, а какие – наиболее ветреные. Объясните, почему?

ИСТОК

Раздел 4. Воды и водные ресурсы

1. РЕКИ

УСТЬЕ.....

Дайте следующие определения:.

РЕКА.....

ПОЙМА.....

РУСЛО.....

ИСТОК.....

БАССЕЙН.....


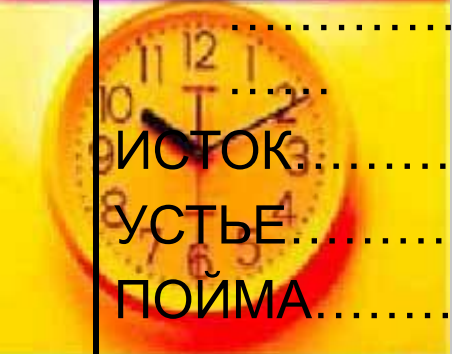
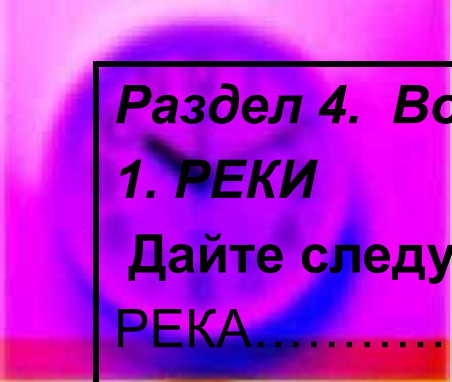
УСТЬЕ.....

ПОЙМА.....

РЕКИ.....


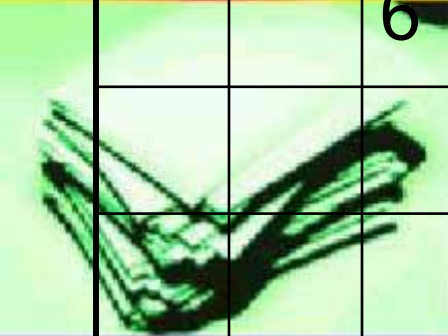
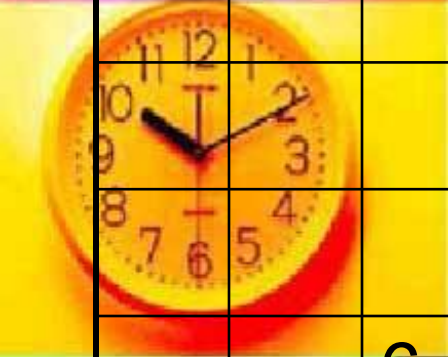

РУСЛО.....

БАССЕЙН РЕКИ.....

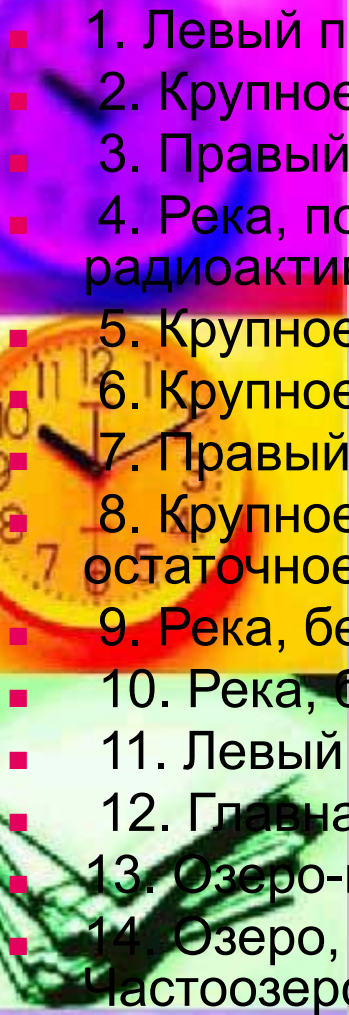



По плану дайте описание реки Тобол:

План описания р. Тобол	Описание реки Тобол
1.Исток.	
2.Устье.4.	
3.К какому бассейну относится.	
4.Притоки.	
5.Длина	
6.В каком направлении течет..	
7.Особенности рельефа.	
8.Характер течения	
9.Источник питания.	

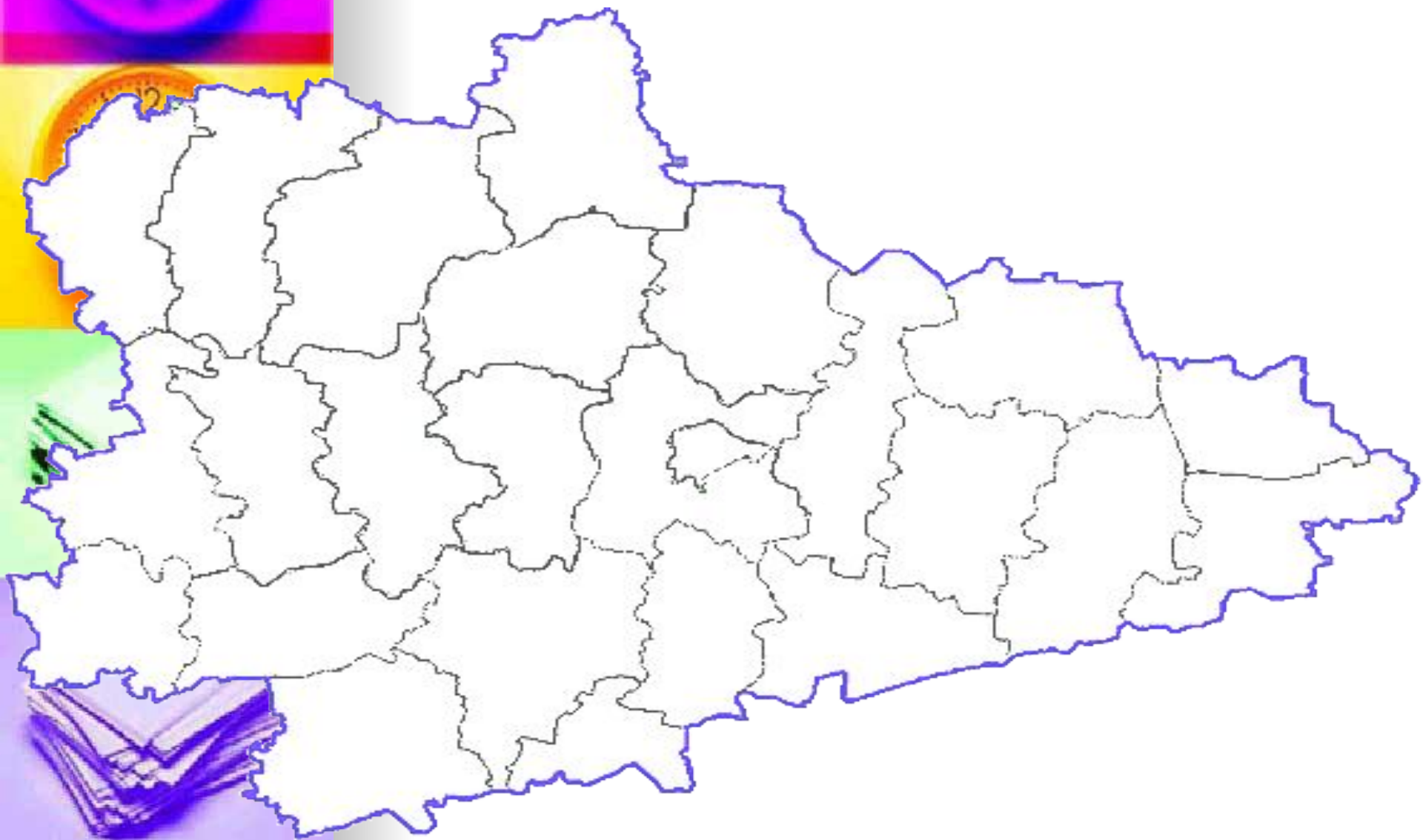


	1					В							
2			В			Н							
					3	у							
					4	т							
				5		р							
	6					е							
		7				н							
			8			н							
					9	и							
			10			е							
						в							

- 
- 1. Левый приток р. Исеть.
 - 2. Крупное заповедное озеро в Мокроусовском районе.
 - 3. Правый приток р.Тобол.
 - 4. Река, подвергшаяся в 1957 году загрязнению радиоактивными отходами.
 - 5. Крупное озеро области на границе с Тюменской областью.
 - 6. Крупное бессточное озеро области.
 - 7. Правый приток р.Исеть.
 - 8. Крупное бессточное озеро в Куртамышском районе, остаточное русло реки Тобол.
 - 9. Река, берущая начало с отрогов Уральских гор.
 - 10. Река, берущая начало из горного озера Исетского.
 - 11. Левый приток р. Исеть.
 - 12. Главная река области.
 - 13. Озеро-курорт.
 - 14. Озеро, расположенное на границе Макушинского и Частоозерского районов.



На контурную карту области нанесите крупные озера, выделите цветом соленые и пресные озера. По карте определите самые озерные районы области.



В каких районах расположены крупнейшие озера области:

Озера	Районы
Черное	
Стекленей	
Малые Донки	
Крутали	
Медвежье	
Ашикуль	
Щучье	



Болота Курганской области занимают % территории. В области преобладают болота. Они используются для добычи..... и получения на выработанных торфяниках сена, и других с/х

.....

.....

б). Есть ли в области артезианские бассейны? Где?

Имеют ли они лечебное значение?

а). Какова обеспеченность подземными водами Зауралья в сравнении с Предуральем? Чем можно объяснить различия?

в). Известно, что по мере удаления с севера-запада

области на юго-восток уменьшается водообильность подземных горизонтов и росте минерализация вод. Чем это можно объяснить?

в). Известно, что по мере удаления с севера-запада области на юго-восток уменьшается водообильность подземных горизонтов и росте минерализация вод. Чем это можно объяснить?

3.....
4.....
Раздел 5. Почвы и земельные ресурсы

5.....
.
Дайте следующее определение:

ПОЧВА – это.....

. По почвенной карте Курганской области установите, какие типы почв широко распространены (см. Приложение 4):

. Назовите факторы образования почв:

1.....

2.....

3.....

..... Докажите справедливость высказывания В.В.

Докучаева, что «почв – это зеркало ландшафта».

5.....
.
По почвенной карте Курганской области установите, какие типы почв широко распространены (см. Приложение 4):

.....

.....

..... Докажите справедливость высказывания В.В. Докучаева, что «почв – это зеркало ландшафта».

.....

.....

.....

Раздел 6. Растительный покров Курганской области

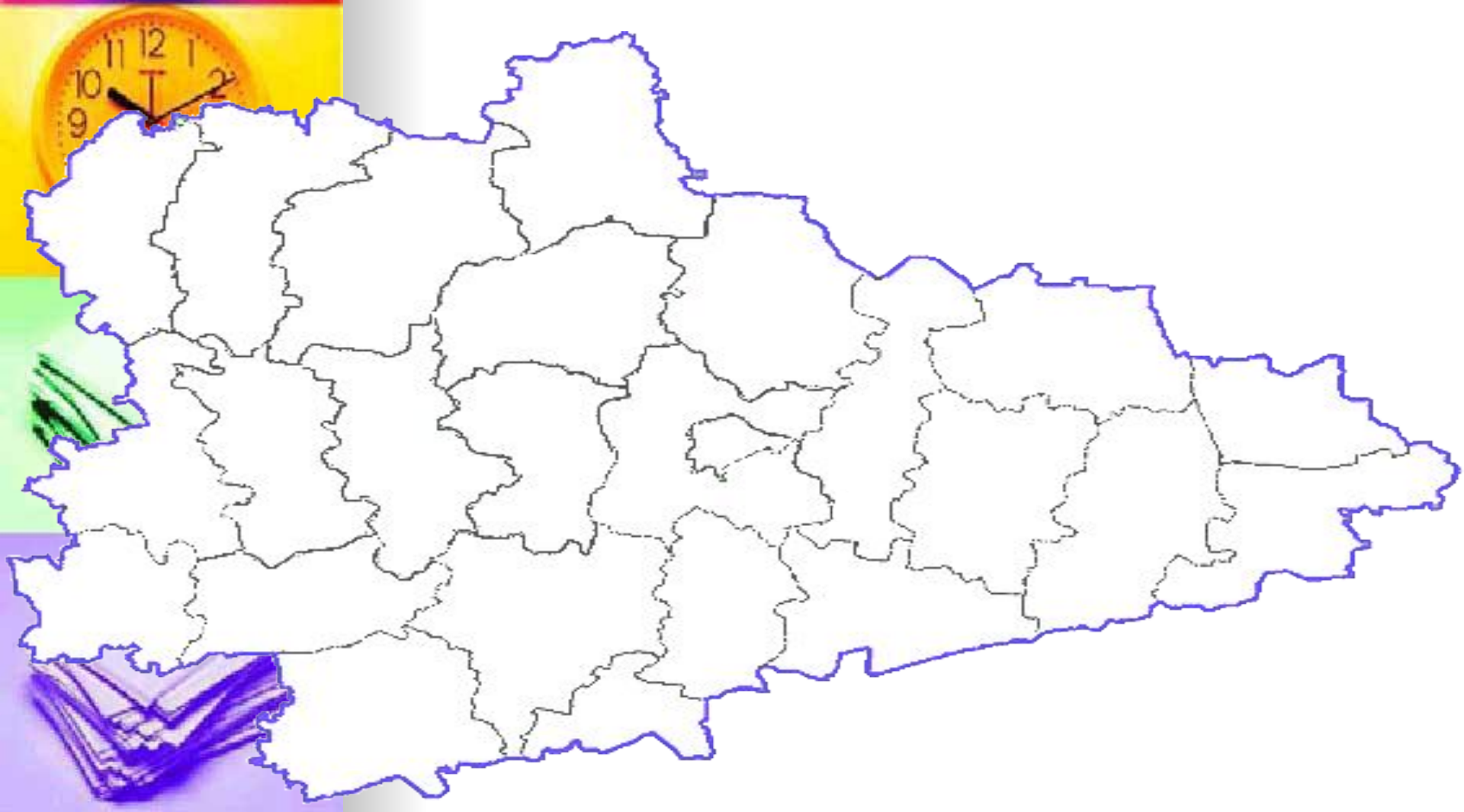
Заполните пропуски:

1. Курганская область лежит в пределах зоны Западной Сибири.
2. Север Курганской области переходит в полосу лесов..... зоны.
3. На юге встречаются участки северных
4. Леса занимают.....% территории.
5. Мелколиственные леса представлены и березово-осиновыми колками.
6. Тополевые рощи образованы, тополем черным, осинкой и
7. Сосновые боры рассматриваются как наследие эпох. Они приурочены к песчаным наносам вдоль рек -, Исети и Миасса.
8. Еловые леса встречаются на области.

Раздел 7. Животный мир Курганской области

На контурную карту Курганской области нанесите ареалы распространения следующих животных области:

обыкновенная лисица, махаон, русская выхухоль, ондатра, кабан, волк, косуля, заяц, гадюка, уж, глухарь, тетерев.





■ . **Ответьте на вопросы**

- Назовите рыбу, которая размножается не весной и не летом, а в январе. В летнее время она обитает на глубине, в норах или под камнями. Объясните с чем связан подобный образ жизни?
(.....)

- В нашей области водятся лисица обыкновенная и лисица-корсак. В каких природных зонах они живут?
-
-



В каких районах области можно встретить азиатского бурундука?

- Среди отрядов классов животных наиболее богатыми в видовом отношении являются ...

■

- 
- Назовите самое древнее животное нашей области? (.....)

- Назовите самую маленькую птицу области? (.....)

- Самое маленькое животное нашей области? (.....)

- Самый крупный грызун области? (.....)

- Самое крупное животное области? (.....)
- 

