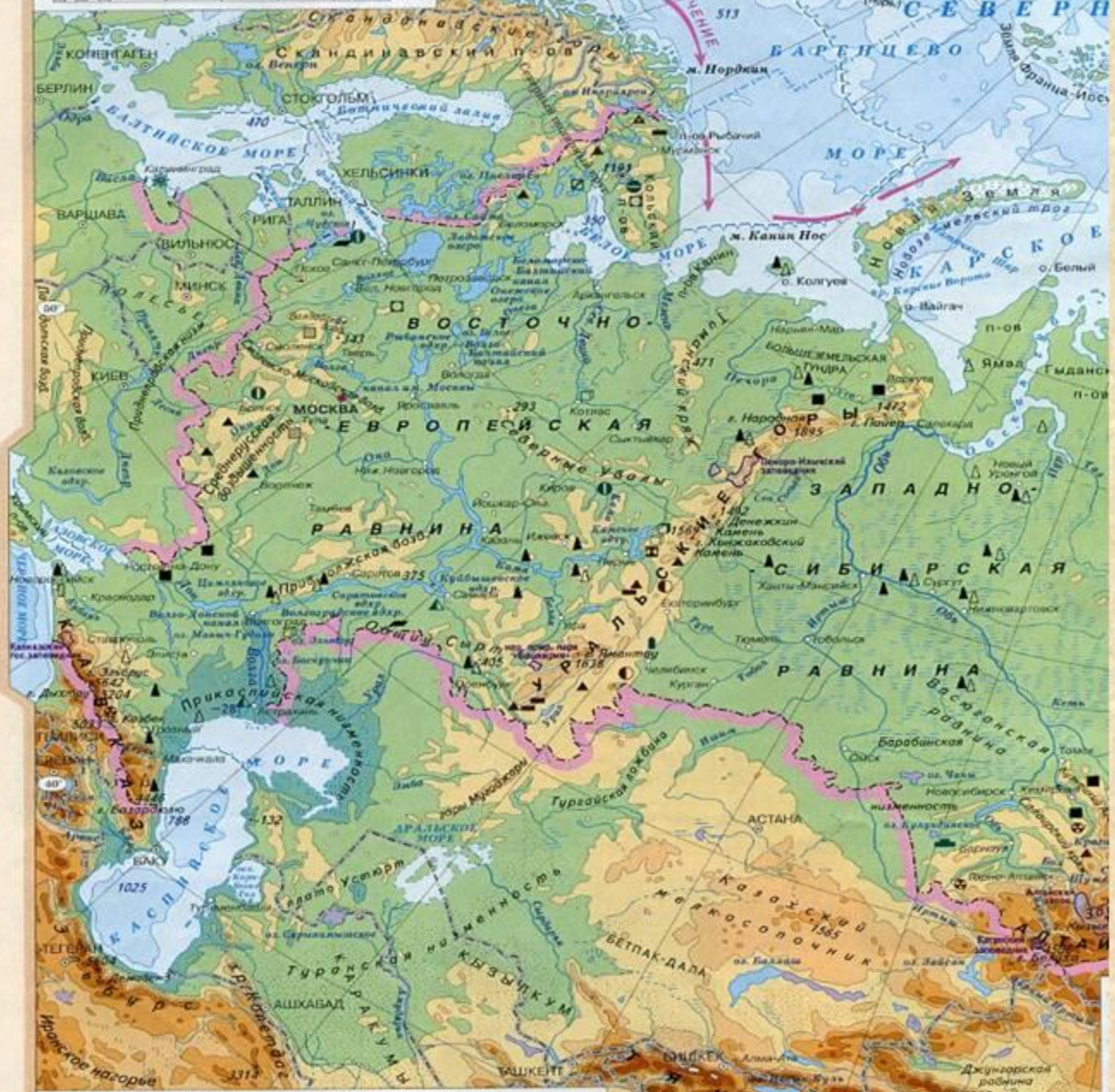


- 1. Сколько субъектов РФ?**
- 2. Сколько республик? краев? областей? городов федерального значения (назвать)? автономных областей? автономных округов?**
- 3. Как называется субъект, в котором мы живем?**
- 4. В каком федеральном округе и экономическом районе он расположен?**
- 5. Сколько федеральных округов выделяется на территории России (назвать)?**
- 6. Сколько экономических районов (назвать)?**
- 7. Сколько военных округов на территории России (назвать)?**

**ВЕЛИКИЕ РАВНИНЫ
РОССИИ – ВОСТОЧНО-
ЕВРОПЕЙСКАЯ И
ЗАПАДНО-СИБИРСКАЯ**

Масштаб 1:20 000 000 (в 1 см 200 км)

200 0 200 400 600 800 1000 км



19.4 Длина дуги одного градуса параллели в километрах

ШКАЛА ГЛУБИНЫ И ВЫСОТЫ В МЕТРАХ



Выписать основные формы рельефа:

- Горы
- Возвышенности
- Кряж
- Увалы
- Низменности

ОЛЕДЕНЕНИЕ

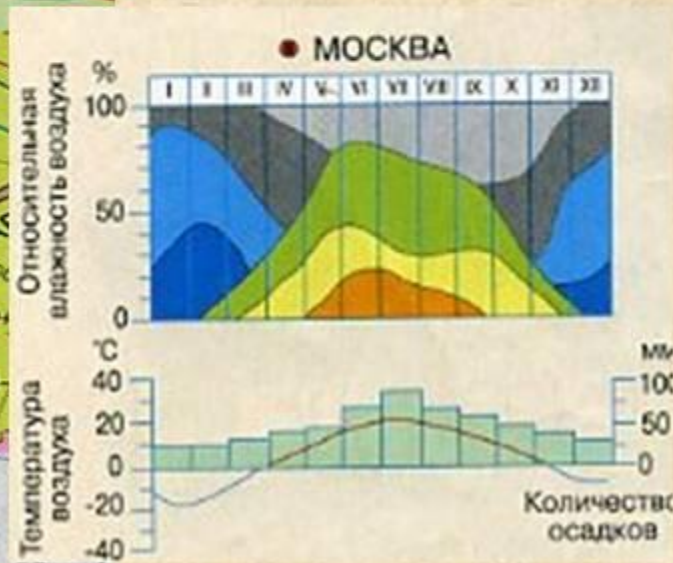
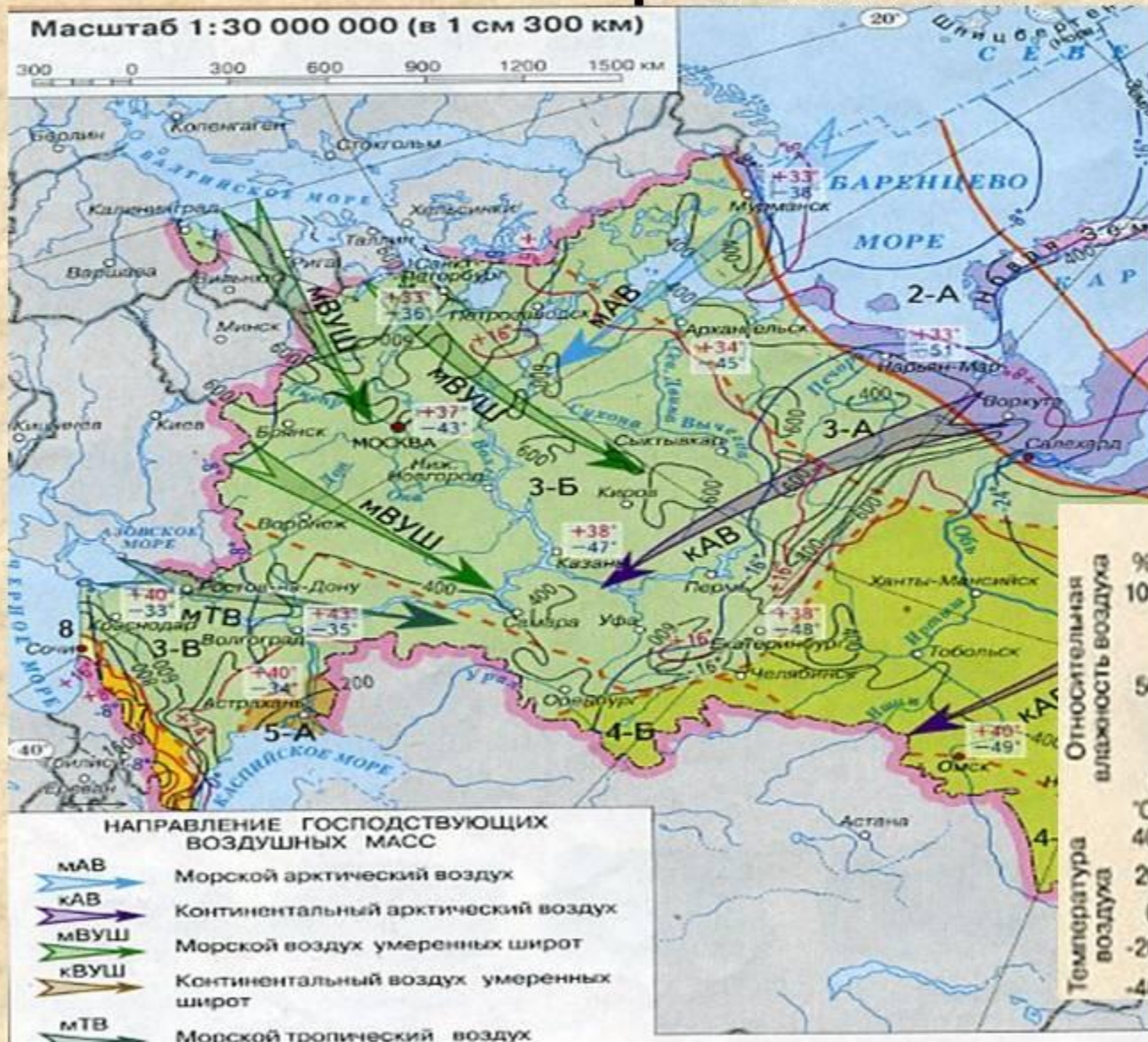
```
graph TD; A[ОЛЕДЕНЕНИЕ] --> B[Моренных возвышенностей]; A --> C[Озер ледникового Происхождения]; A --> D[Сглаженность рельефа на севере];
```

**Моренных
возвышенностей**

**Озер
ледникового
Происхождения**

**Сглаженность
рельефа на севере**

Климат Восточно-Европейской равнины.



Географическое положение

РОССИЯ. ФИЗИЧЕСКАЯ КАРТА



Западно-Сибирская равнина занимает всю западную часть Сибири от Уральских гор на западе до Среднесибирского плоскогорья на востоке.

Площадь равнины составляет около 3 миллионов км²; её протяжённость с севера на юг — 2500 км, а с запада на восток — 1900 км. Расположение хребта с запада на восток

Полезные ископаемые

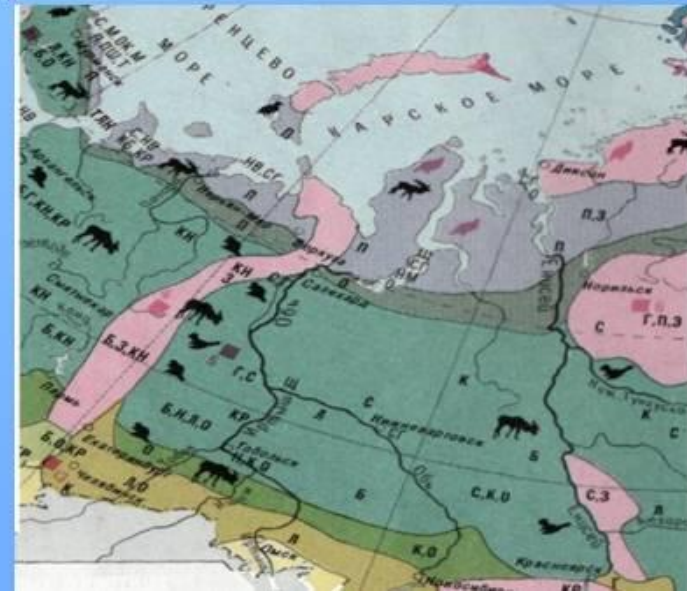
Немало полезных ископаемых содержится в Западно-Сибирской равнине. В Соколовско-Сарбайском, Качарском месторождениях добывают железную руду. В городе Рудный работает горно-обогатительный комбинат. В Аятском, Лисаковском месторождениях найдены большие запасы никеля и угля. Были разведаны месторождения хромитов, бокситов, кобальта. Встречается множество строительных материалов.



Природные зоны Западно - Сибирской равнины

Большая протяжённость с севера на юг и однообразиие рельефа обуславливают:

- отчётливо выраженную зональность её природы от тундры до степей;
- широтное размещение зон;
- во всех зонах большие площади заняты болотами и озёрами;
- нет широколиственных лесов;
- небольшие площади лесостепной и степной зоны.



Особенности климата Западно-Сибирской равнины

- **Климат континентальный и довольно суровый;**
- **Положение преимущественно в умеренных широтах;**
- **Удалённость от Атлантического и Тихого океана;**
- **Влияние Северного Ледовитого океана;**
- **Горы по периферии.**

Выполнить задание 6
стр.21

Д/З: пар.4, атлас

ПРАКТИЧЕСКАЯ РАБОТА

1. Что общего и какие различия в рельефе великих равнин России?

2. Заполните таблицу используя атлас:

Равнина	Тектоническая структура	Тип климата	Природные зоны	Крупнейшие реки	Полезные ископаемые	Крупные города	Экологические проблемы
В-Е							
З-С							

1. Что общего и какие различия в рельефе великих равнин России?

2. Нанесите на контурную карту географические объекты выделенные в тексте параграфа жирным шрифтом, а также реки и озера равнин

3. Заполните таблицу используя атлас:

Равнина	Тектоническая структура	Тип климата	Природные зоны	Крупнейшие реки	Полезные ископаемые	Крупные города	Экологические проблемы
В-Е							
З-С							

**Д/З: повтор. параграф 1-4,
атлас**