

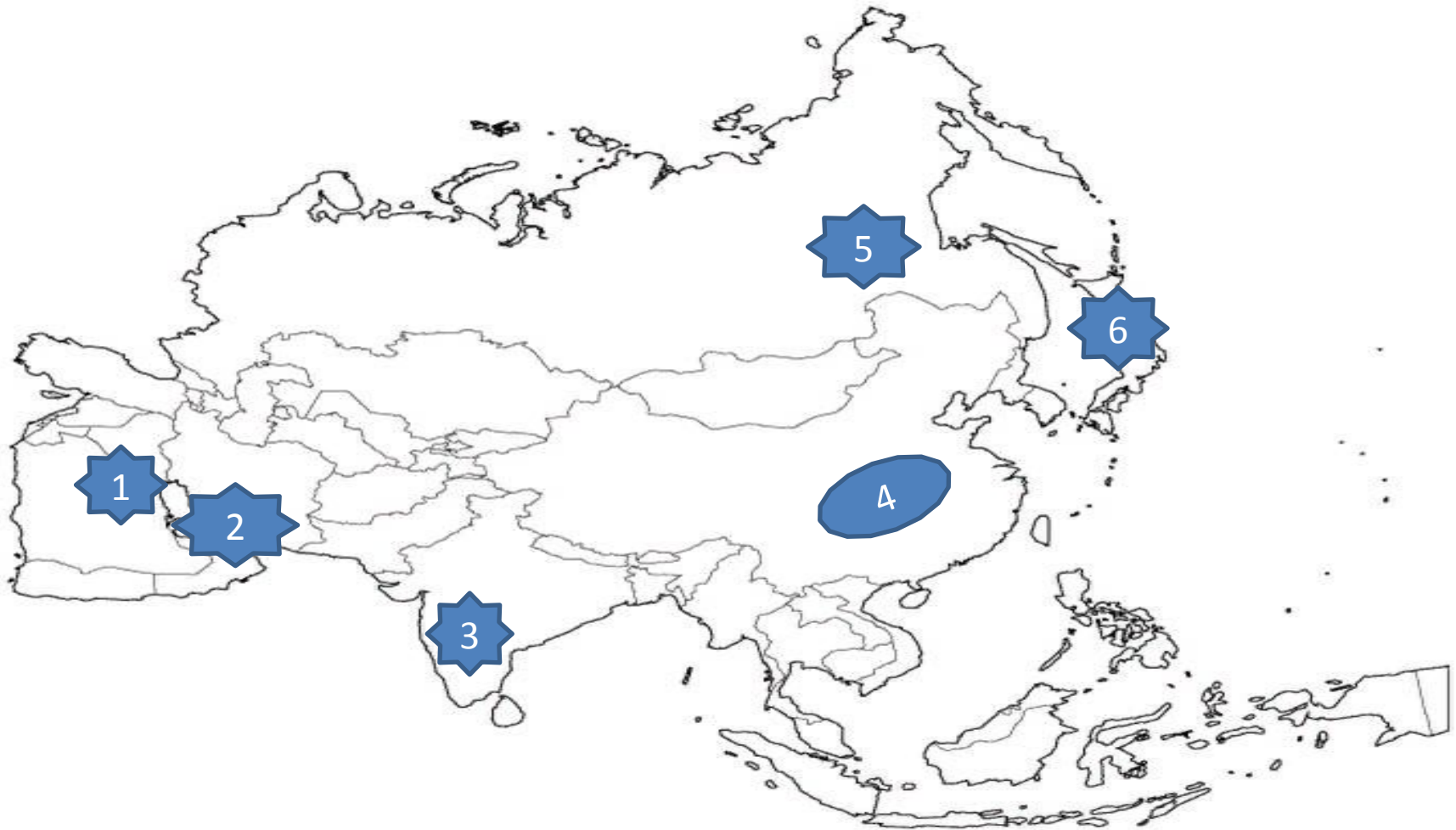


Тесты по географии 11 класс

преподаватель Л.А. Суханова
СОГБПОУ «СИТТ»



Назови страны, сохранившие территориальные споры

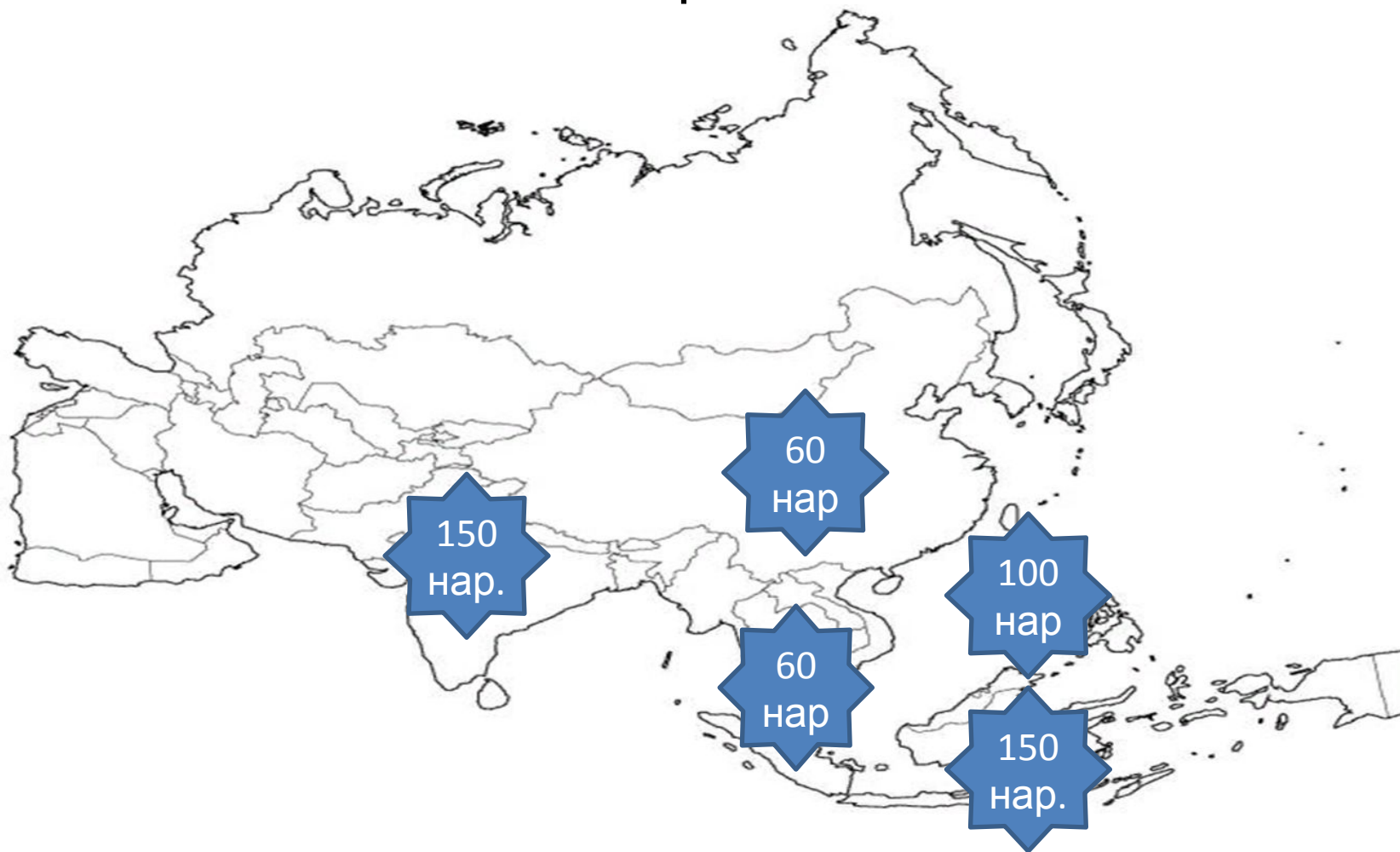


Ответы на тест № 1

- Пара № 1 и № 2--- Иран и Ирак;
- Пара № 3 и № 4--- Индия и Китай;
- Пара № 5 и № 6--- Россия и Япония



Дай характеристику этнического состава населения. Назови самые многонациональные



Ответы на тест № 2

- Индия и Индонезия около 150 народов;
- Филиппины – почти 100 народов;
- Китай и Вьетнам по 60 народов



Назови лидеров по развитию данных отраслей

Заняты в промышленности	Китай	США	Япония
Производство электроэнергии	Китай	США	Япония
Производство стали	Китай	США	Япония
Легковые автомобили	Китай	США	Япония
Морские суда	Китай	США	Япония
Пластмассы	Китай	США	Япония
Научное оборудование	Китай	США	Япония

Ответы на тест № 3

Заняты в промышленности	Япония – 3 место
Производство электроэнергии	Япония – 3 место
Производство стали	Япония – 2 место
Легковые автомобили	Япония- 1 место
Морские суда	Япония- 1 место
Пластмассы	Япония – 2 место
Научное оборудование	Япония – 2 место

Какие страны можно отнести к НОВЫМ индустриальным странам?

Первый эшелон	Второй эшелон



Ответы на тест № 4

Первый эшелон	Второй эшелон
Республика Корея (Южная Корея)	Малайзия
Сингапур	Тайланд
Тайвань	Индонезия
Сянган	

Назови пять центров экономической мощи региона



Ответы на тест № 5

№ 1	Китай
№ 2	Япония
№ 3	Индия
№ 4	Нефтеэкспортирующие страны
№ 5	Новые индустриальные страны

Определи наименее развитые страны



Отвѣты на тест № 6

№ 1	Йемен
№ 2	Афганистан
№ 3	Бангладеш
№ 4	Непал
№ 5	Лаос
№ 6	Камбоджа

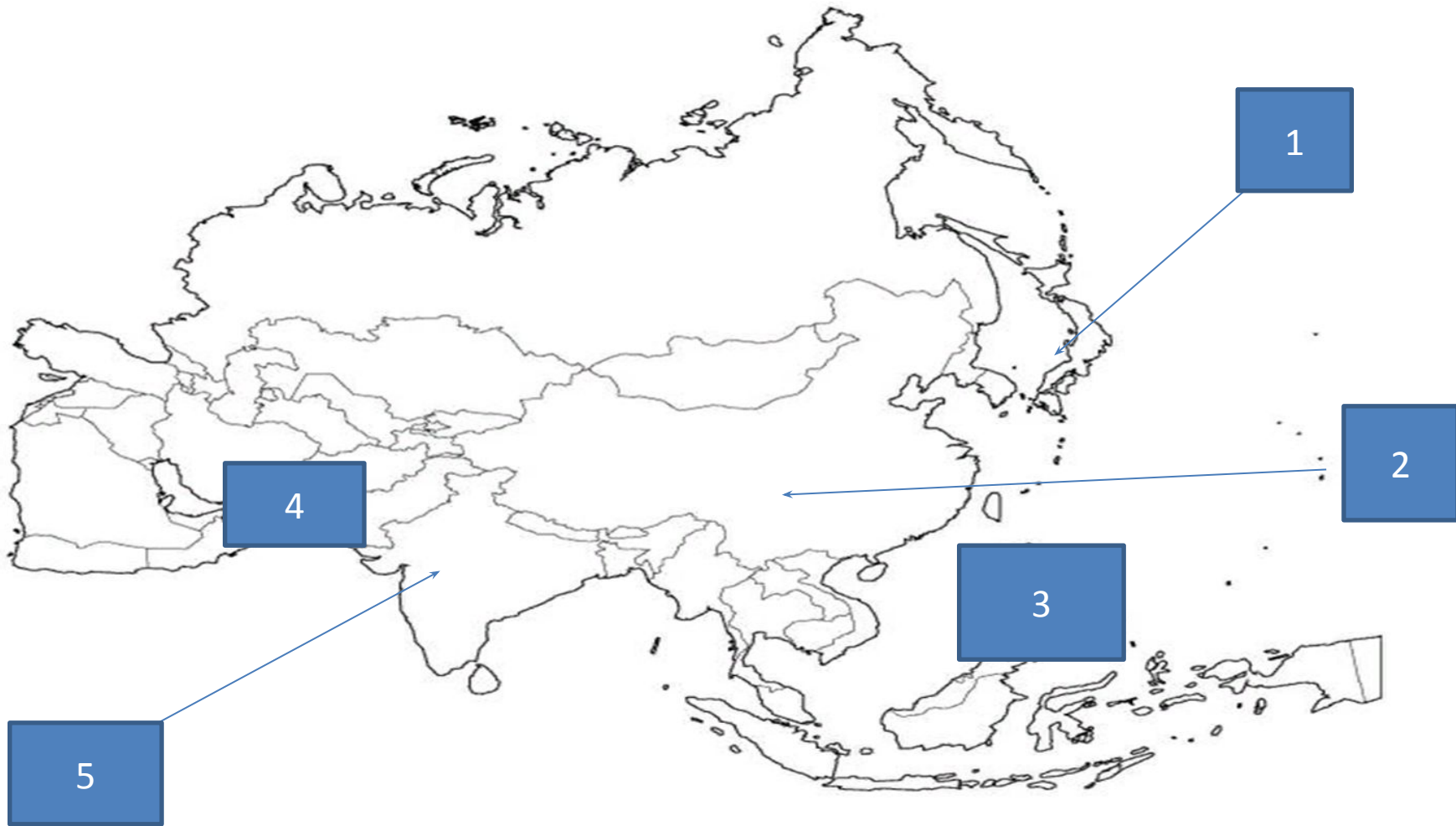
Определи главные районы развития сельского хозяйства



Ответы теста № 7

- № 1-пастбищное животноводство
- № 2- район рисосеяния
- № 3- район субтропического земледелия

Назовите пять центров экономической мощи Зарубежной Азии



Ответы теста № 8

№ 1- Япония

№2- Китай

№ 3- Новые индустриальные страны

№4 – Нефтеэкспортирующие страны

№ 5- Индия



Памятники архитектуры мирового значения



Ответы теста № 9

- № 1-Кутб-Минар(Индия) — самый высокий кирпичный минарет в мире, расположенный в районе Мехраули в индийском городе Дели.
- № 2- Великая Китайская стена

Укажи описание какой страны указано в задании

Это государство расположено в Южной Азии.

- Общая площадь - 803 940 км²
- Протяжённость сухопутных границ — 6 774 км. граничит на востоке с Индией (2 912 км), на западе с Ираном (909 км) и Афганистаном (2 430 км), на севере с Китаем (523 км).

Ответы теста № 10

- Пакистан



Информационные источники:

- <http://www.hyno.ru/tom2/1257.html>;
- <https://azialand.ru/>;
- <https://tani-y.livejournal.com/>;

