



«Суша или вода»

1.Гудзонов

2.Аравийский

3.Малайский

4.Гольфстрим

5.Гибралтарский

6.Великобритания

7.Тихий

8.Балтийское

9.Дрейка

10.Австралия

- 1. Материки
 - 2. Архипелаг
 - 3. Остров
 - 4. Море
 - 5. Залив
 - 6. Пролив
 - 7. Полуостров
- А) часть океана, моря, другого водоема, вдающаяся в сушу.
- Б) группа островов, лежащих недалеко друг от друга.
- В) огромные участки суши
- Г) сравнительно небольшие участки суши в океане
- Д) сравнительно неширокое водное пространство, ограниченное с двух сторон берегами материков или островов
- Е) часть океана, отделенная от него сушей или подводными возвышениями
- Ж) участок материка или острова, глубоко вдающийся в океан

Выпишите окраинные моря

- Красное
- Карское
- Черное
- Баренцево
- Средиземное
- Чукотское
- Карибское
- Берингово
- Лаптевых
- Балтийское

Ответ:

- Красное
- Карское
- Черное
- Баренцево
- Средиземное
- Чукотское
- Карибское
- Берингово
- Лаптевых
- Балтийское

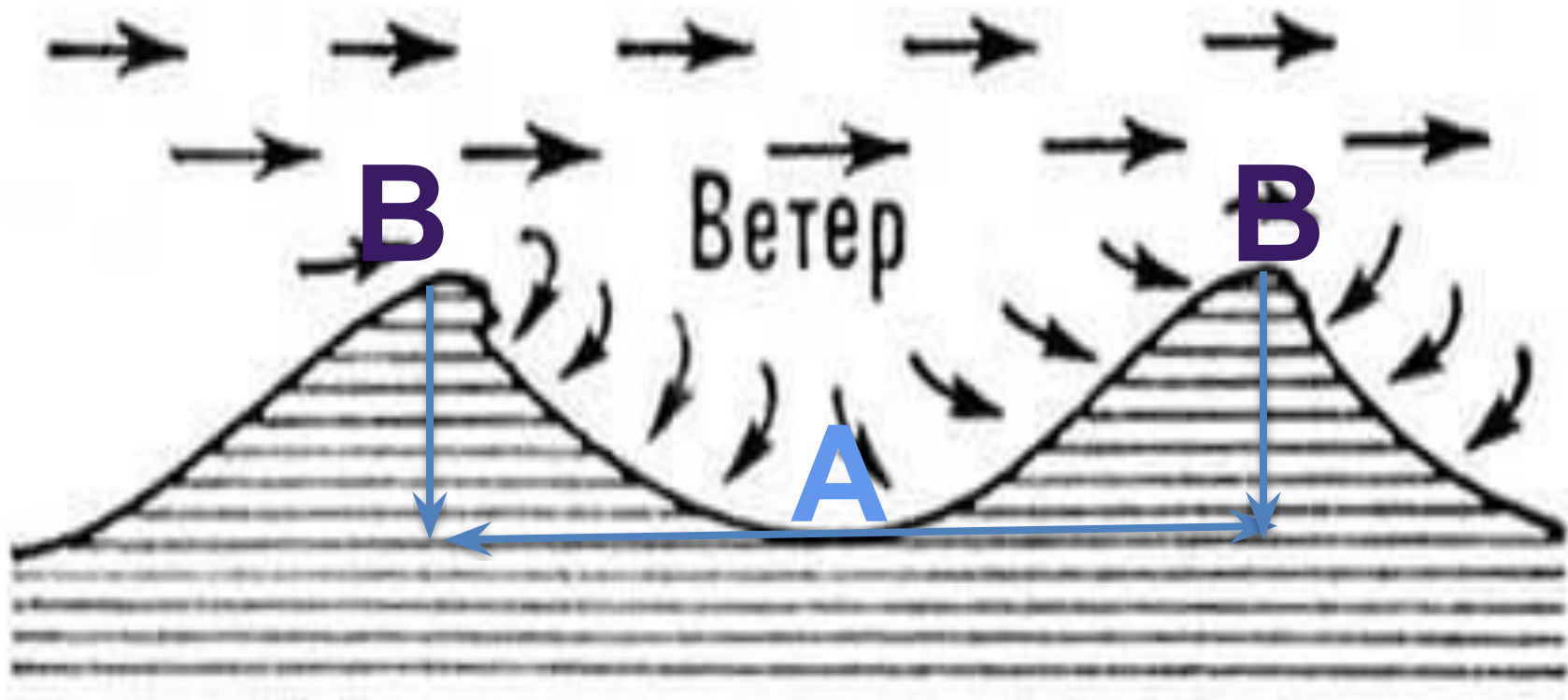
- Суша
- 2,3,6,10

- Вода
- 1,4,5,7,8,9

1	2	3	4	5	6	7	8	9	10
+	+	+	-	+	-	-	-	+	-

Понятия


1	2	3	4	5	6	7
В	Б	Г	Е	А	Д	Ж



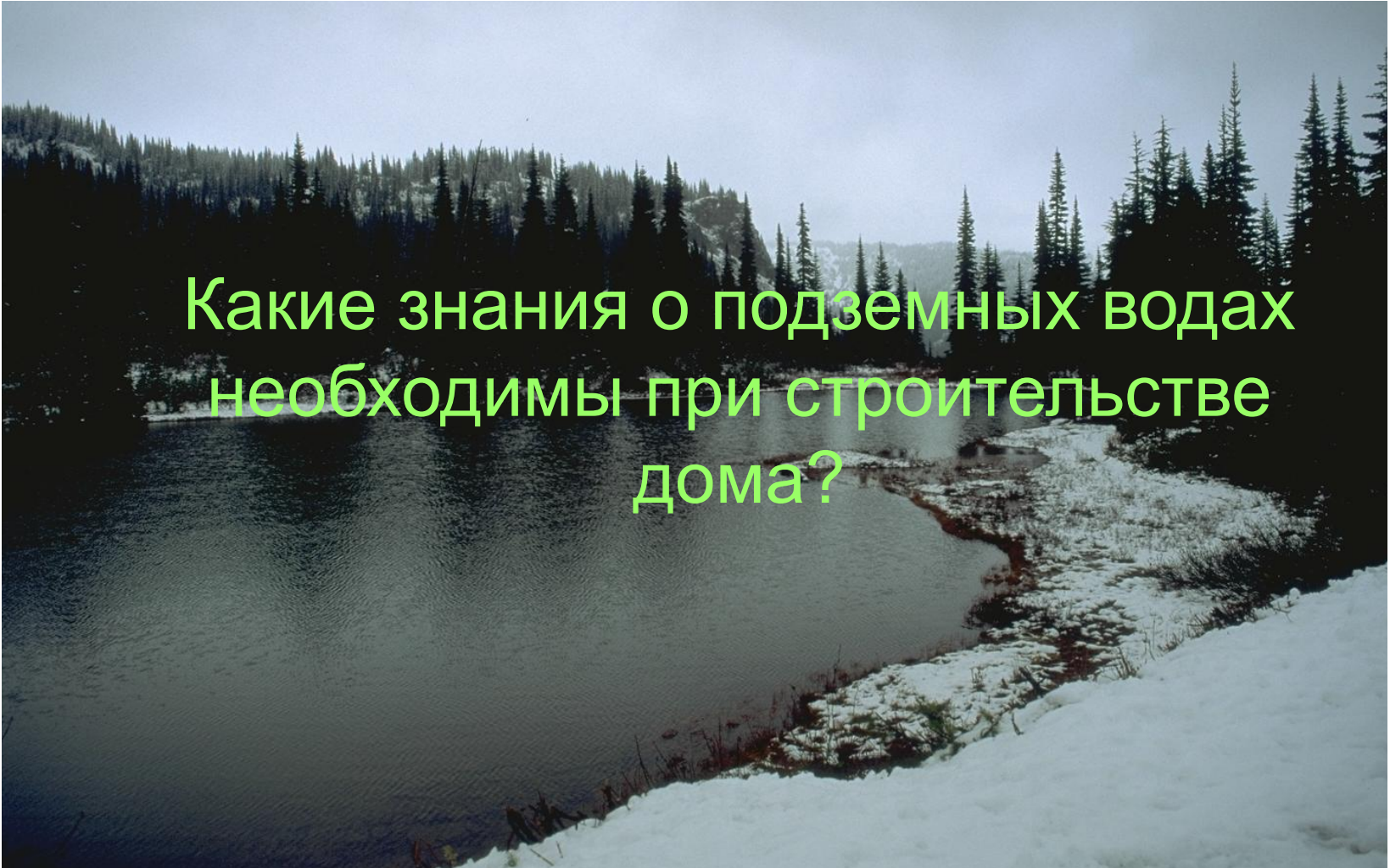
Подземные воды



Домашнее задание



Проблемный вопрос

A photograph of a snowy mountain landscape. In the foreground, there is a body of water, possibly a lake or a wide river, with a snow-covered bank on the right. The background is filled with dense evergreen trees and snow-covered mountains under a cloudy sky. The text is overlaid on the image in a light green color.

Какие знания о подземных водах
необходимы при строительстве
дома?

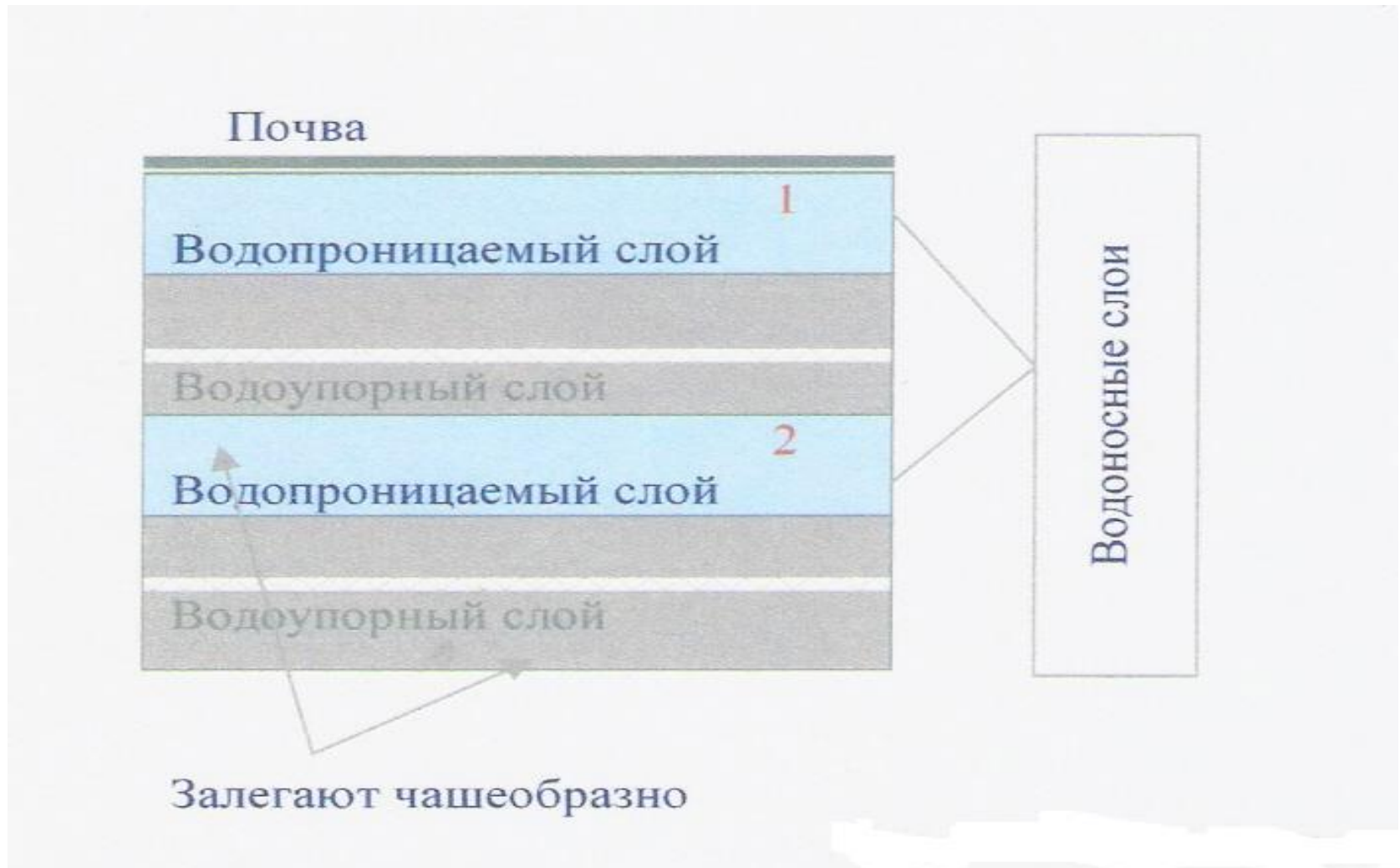
- ОПЫТ
- ВЫВОД ?

Горные породы

- Водопроницаемые
- Водоупорные
- Легкорастворимые



Схема залегания подземных ВОД

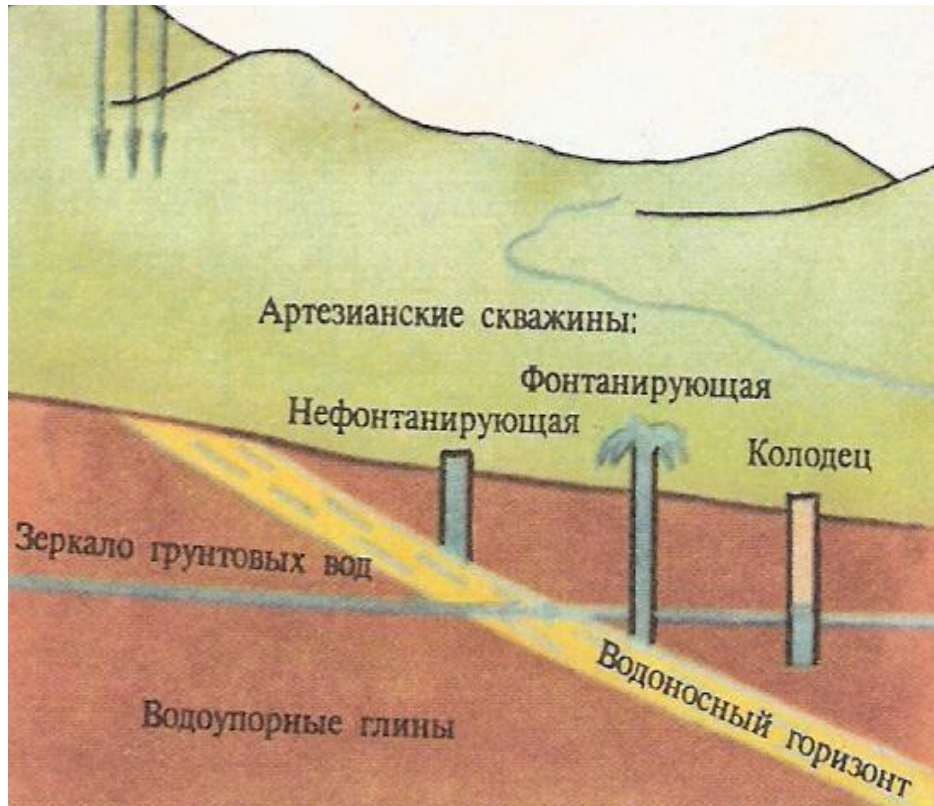




Подземные воды

- 1 – Грунтовые воды, находящиеся в водоносном слое, не прикрытом сверху
- 2 – Межпластовые воды, воды водоносного слоя, лежащего между двумя водоупорными пластами

Артезианские воды



*XII век.
Французская провинция Артуа*

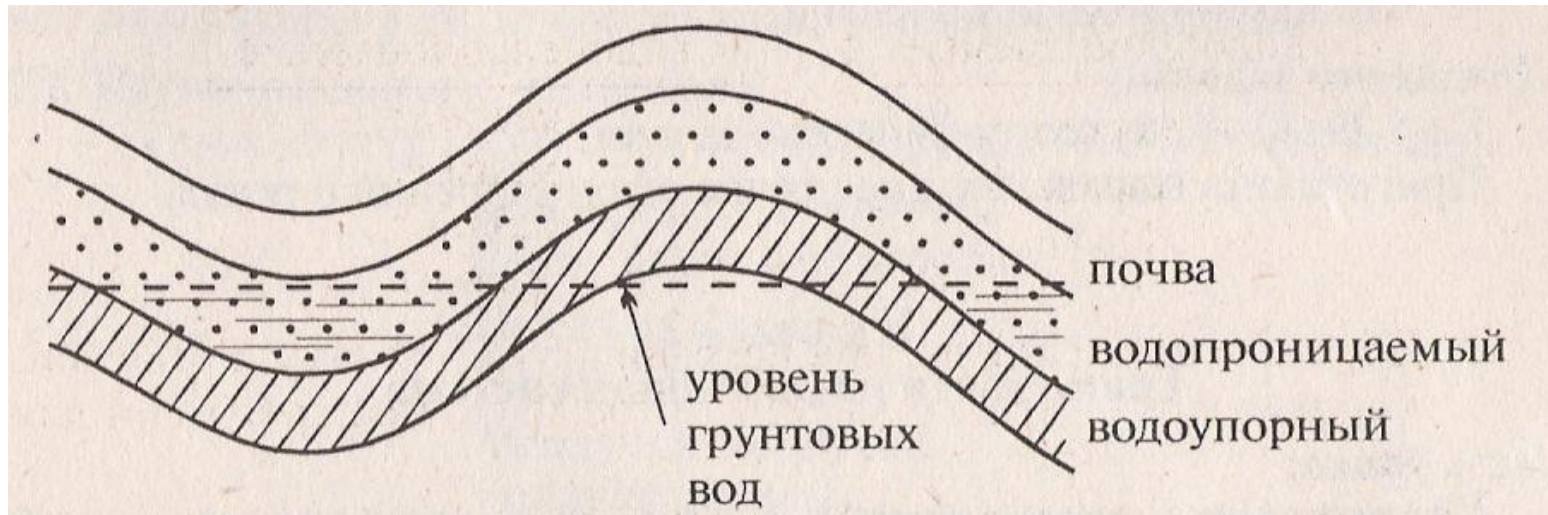
Артезианские воды – самоизливающиеся подземные воды

Уровень грунтовых вод зависит

- Количества осадков
- Таяния снега
- Засушливого лета
- От рельефа
- Близости рек и озер

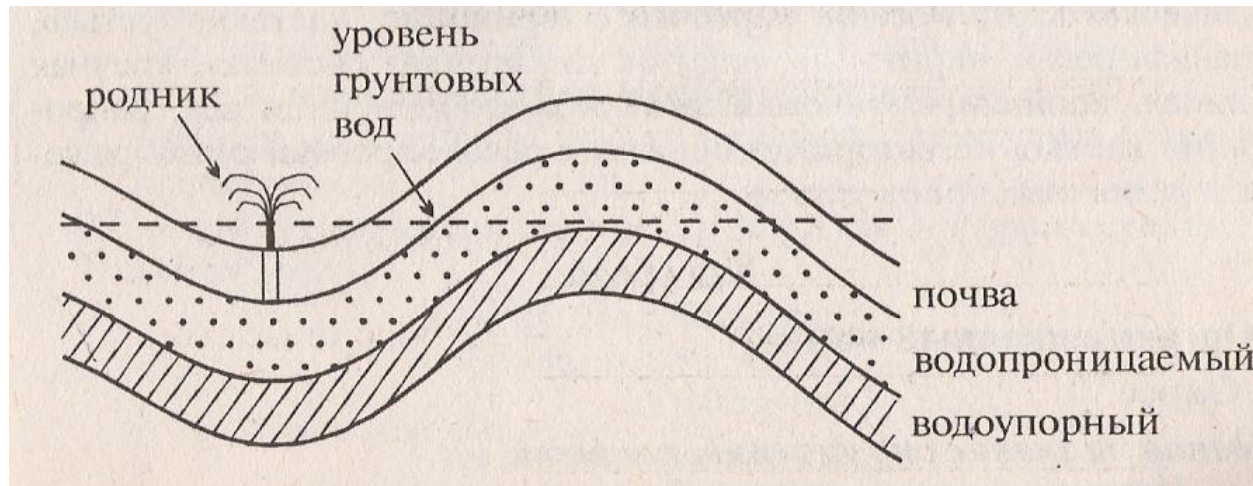
Познавательная задача № 1

Если вы пошли в поход, и вода закончилась. Где вы будете её искать?

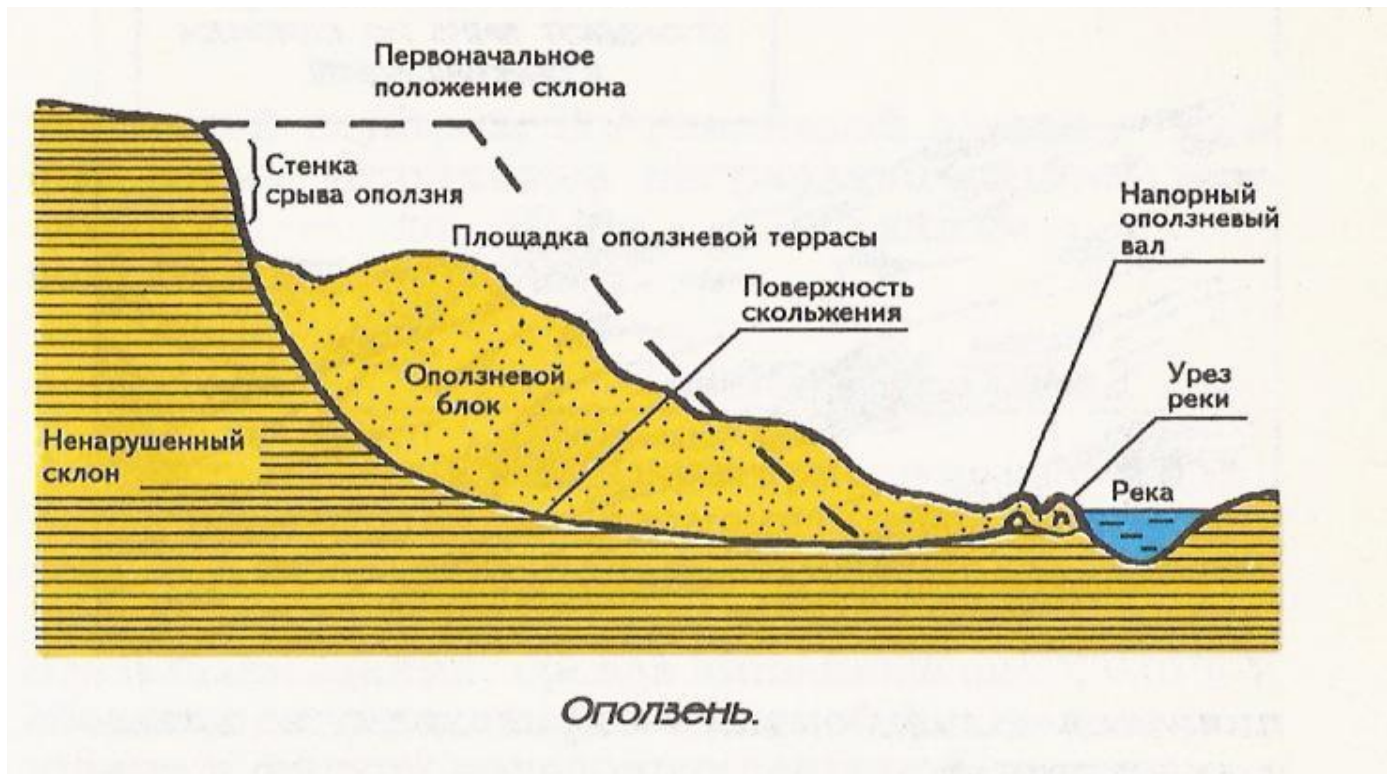


Познавательная задача № 2

Почему родник выглядит как маленький фонтанчик?



Оползни





Оползень



- Состав водопроницаемых слоёв
- Уровень грунтовых вод
- Особенности рельефа (низины, берега и т.д.)

Горные породы

