

# ПРОВЕРКА ДОМАШНЕГО ЗАДАНИЯ

## 1 ВАРИАНТ

1. Какое место по площади занимает Африка?

- 1) первое в мире
- 2) второе в мире
- 3) пятое в мире
- 4) третье в мире

## 2 ВАРИАНТ

1. Африка — единственный материк, который:

- 1) пересекает начальный меридиан
- 2) посередине пересекает экватор
- 3) полностью находится в экваториальном поясе
- 4) полностью расположен в Восточном полушарии

# ПРОВЕРКА ДОМАШНЕГО ЗАДАНИЯ

## 1 ВАРИАНТ

2. Африка — единственный материк, который почти по середине пересекает:

- 1) меридиан
- 2) Северный тропик
- 3) экватор
- 4) Южный тропик

## 2 ВАРИАНТ

2. В скольких полушариях расположена Африка?

- 1) в одном
- 2) в двух
- 3) в трёх
- 4) в четырёх

# ПРОВЕРКА ДОМАШНЕГО ЗАДАНИЯ

## 1 ВАРИАНТ

3. Какой мыс является крайней южной точкой Африки?

- 1) Альмади
- 2) Бен-Секка
- 3) Рас-Хафун
- 4) Игольный

## 2 ВАРИАНТ

3. Какой мыс является крайней северной точкой Африки?

- 1) Игольный
- 2) Альмади
- 3) Рас-Хафун
- 4) Бен-Секка (Эль-Абьяд)

# ПРОВЕРКА ДОМАШНЕГО ЗАДАНИЯ

## 1 ВАРИАНТ

4. Какой пролив отделяет Африку от Европы?

- 1) Мозамбикский
- 2) Суэцкий
- 3) Гибралтарский
- 4) Гвинейский

## 2 ВАРИАНТ

4. Какой материк ближайший к Африке?

- 1) Антарктида
- 2) Евразия
- 3) Южная Америка
- 4) Австралия

# ПРОВЕРКА ДОМАШНЕГО ЗАДАНИЯ

## 1 ВАРИАНТ

5. Африку омывают океаны:

- 1) на западе Атлантический, а на востоке Индийский
- 2) на востоке Атлантический, а на западе Индийский
- 3) на востоке Тихий, а на западе Атлантический
- 4) все четыре

## 2 ВАРИАНТ

5. Какие берега Африки омывает Гвинейский залив?

- 1) западные
- 2) северные
- 3) восточные
- 4) южные

# ПРОВЕРКА ДОМАШНЕГО ЗАДАНИЯ

## 1 ВАРИАНТ

6. Чем является Альмади?

- 1) полуостровом
- 2) проливом
- 3) островом
- 4) мысом

## 2 ВАРИАНТ

6. Какие моря омывают Африку?

- 1) Средиземное и Черное
- 2) Красное и Мраморное
- 3) Черное и Красное
- 4) Красное и Средиземное

# ПРОВЕРКА ДОМАШНЕГО ЗАДАНИЯ

## 1 ВАРИАНТ

7. Кто руководил экспедицией, которая с 1926 по 1927 г. в Африке собрала 6000 образцов культурных растений?

## 2 ВАРИАНТ

7. Этот английский учёный в XIX в. совершил несколько путешествий в глубь Африки, открыв самый высокий водопад.

# ПРОВЕРКА ДОМАШНЕГО ЗАДАНИЯ

## 1 ВАРИАНТ

8. Какая особенность географического положения Африки оказывает наиболее важное влияние на природу материка?

## 2 ВАРИАНТ

8. Почему Африка — самый жаркий материк Земли?



# ПРОВЕРКА ДОМАШНЕГО ЗАДАНИЯ ОТВЕТЫ

## 1 ВАРИАНТ

1-2, 2-3, 3-4, 4-3, 5-1, 6-4,

7- Н. И. Вавилов

8- Африку посередине  
пересекает экватор

**8 баллов - «5»**

**6-7 баллов – «4»**

**4-5 баллов – «3»**

**Менее 4 – «2»**

## 2 ВАРИАНТ

1-2, 2-4, 3-4, 4-2, 5-1, 6-4,

7- Давид Ливингстон

8- Большая часть Африки  
находится между  
тропиками, т.е. в жарком  
климатическом поясе.

Муниципальное Автономное Общеобразовательное учреждение  
Московская Средняя Образовательная школа

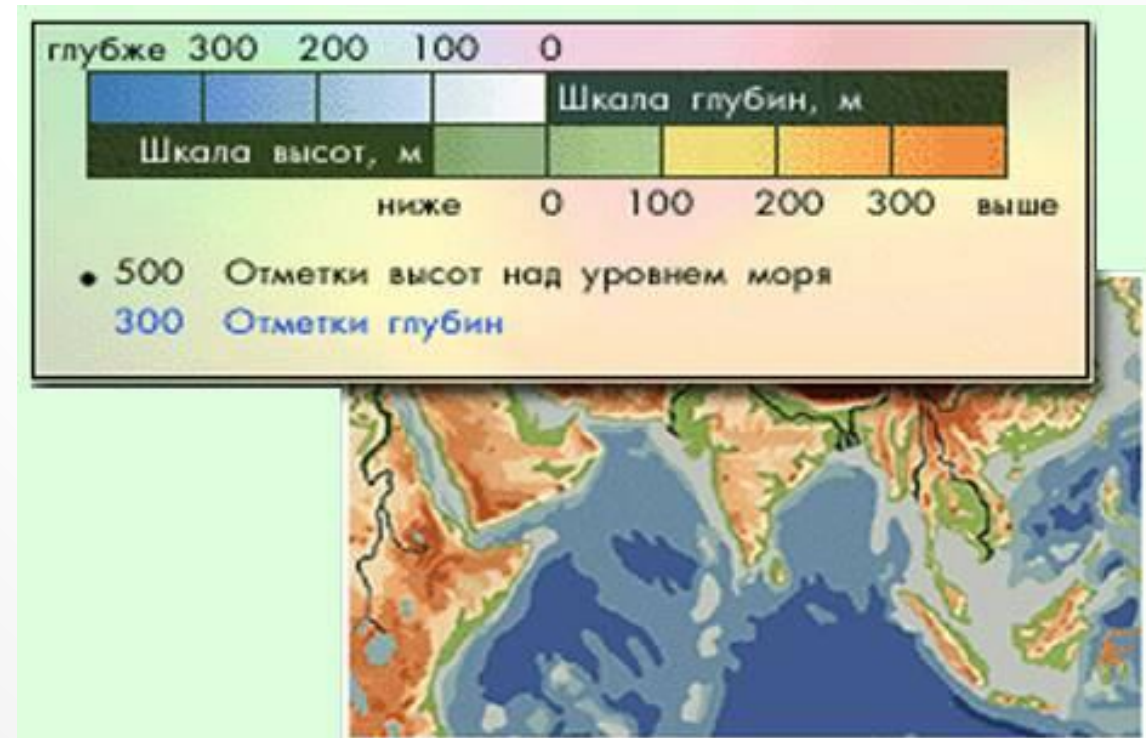


# **ТЕМА УРОКА: РЕЛЬЕФ И ПОЛЕЗНЫЕ ИСКОПАЕМЫЕ АФРИКИ**

Ершова Надежда Алексеевна  
МАОУ Московская СОШ  
Тюменская область

# ИЗОБРАЖЕНИЕ РЕЛЬЕФА НА КАРТЕ

- Рельеф изображают на карте с помощью послойной окраски, т.е. цветом (зелёным и коричневым) разной интенсивности.
- Участки, имеющие высоты **от 0 до 200м,** закрашиваются в **зелёный** цвет, а **от 200 до 500м** – в **светло-коричневый** и т.д.
- Какому цвету соответствует определённая высота или глубина видно на шкале высот и глубин, которая имеется на любой физической карте.



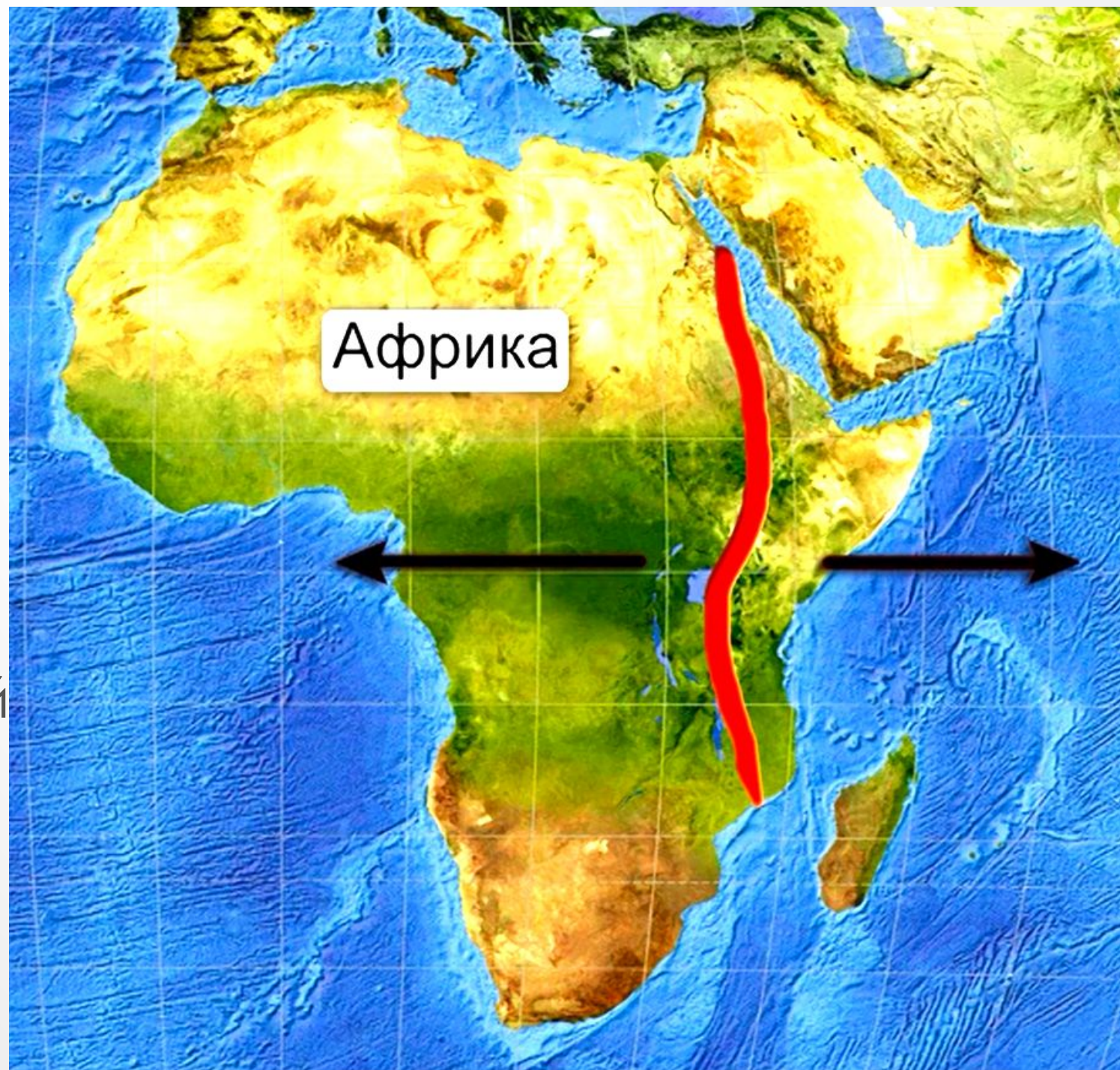
# ТЕКТОНИЧЕСКАЯ КАРТА



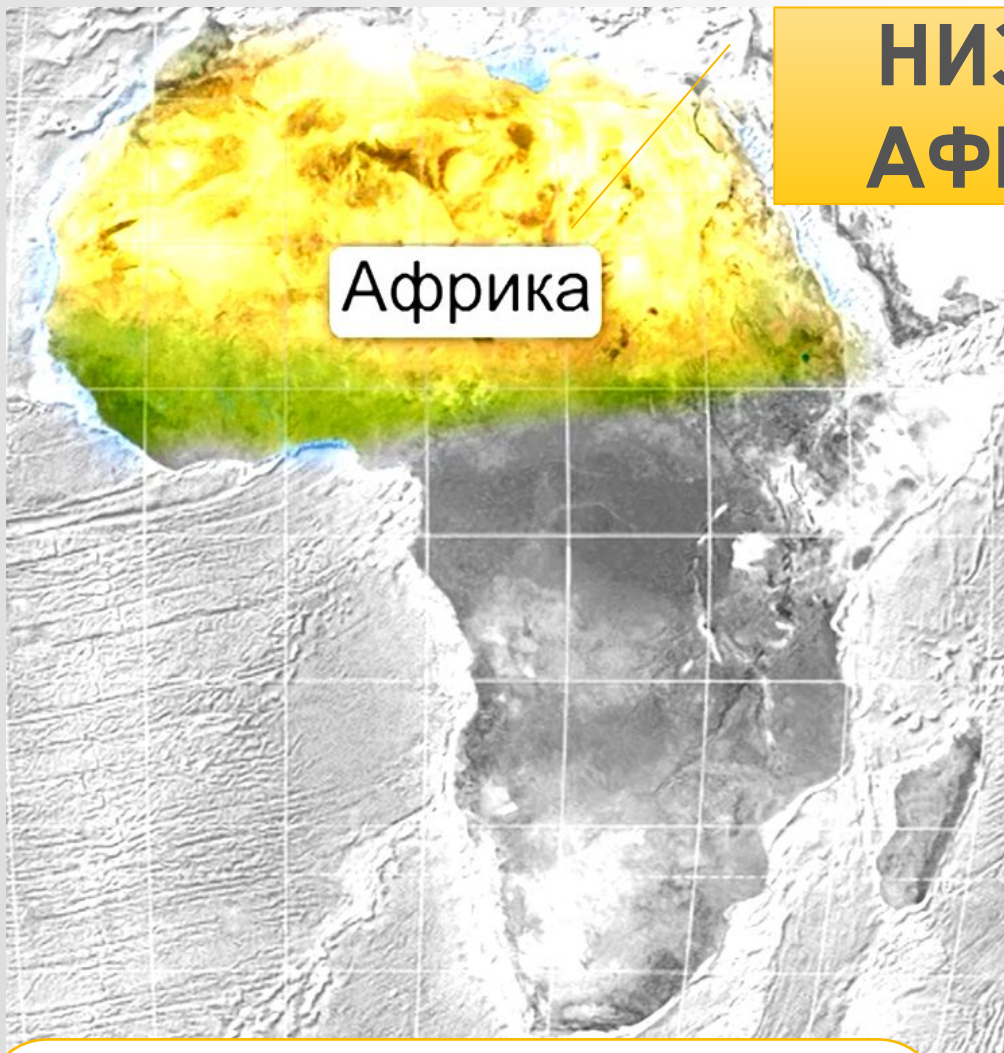


- Самый крупный разлом земной коры на суше протянулся **вдоль Красного моря через Эфиопское нагорье до устья реки Замбези.**

Здесь происходит раздвижение литосферной плиты, поэтому часты землетрясения и извержения вулканов.







## НИЗКАЯ АФРИКА

Африка

Низкая Африка имеет преимущественно Высоты, не превышающие 1000м.



## ВЫСОКАЯ АФРИКА

Преобладающие высоты Высокой Африки – 1000-1500 м, а самые высокие горы (Килиманджаро, Кения) превышают 5000 м.



# северная и западная Африка



# ЮЖНАЯ И ВОСТОЧНАЯ Африка



Равнины **САХАРЫ** покрыты  
барханами – формами  
ветрового происхождения





**АТЛАС** (Атласские горы).

Длина около 2000 км.

Высота до 4165 м (г. Тубкаль).





# ЭФИОПСКОЕ НАГОРЬЕ



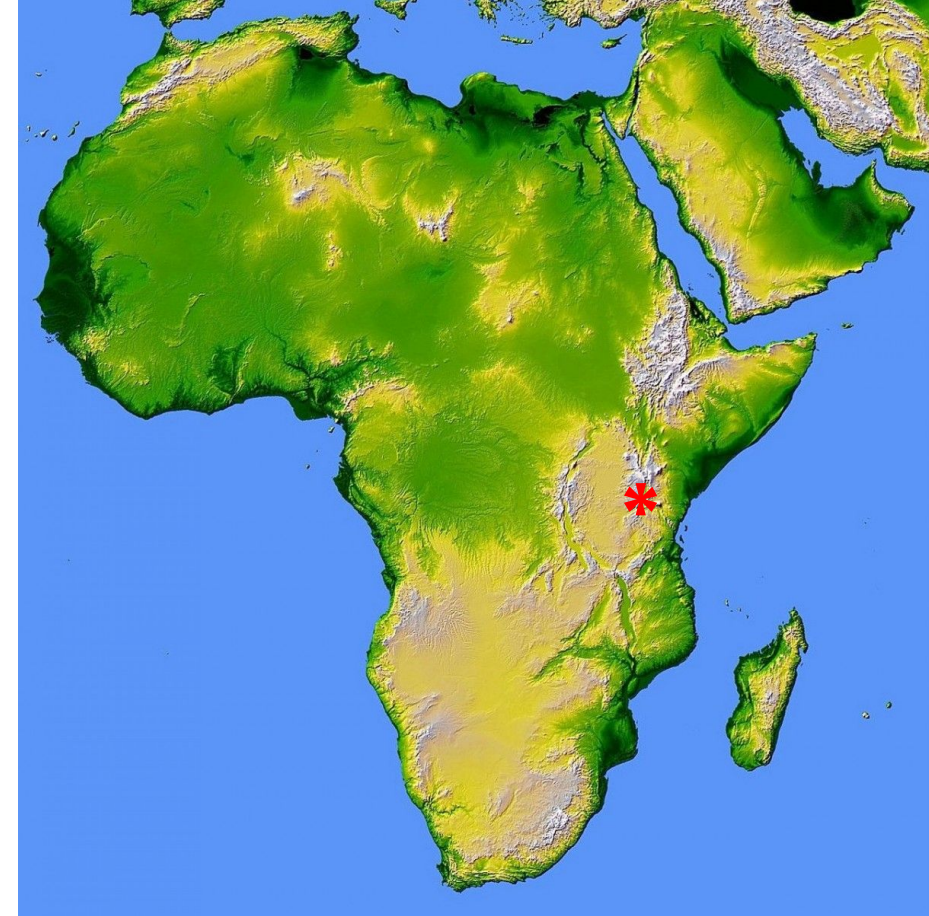


# ВОСТОЧНО-АФРИКАНСКОЕ ПЛОСКОГОРЬЕ – НАИБОЛЕЕ ПРИПОДНЯТАЯ ЧАСТЬ АФРИКИ





# ПОТУХШИЙ ВУЛКАН – КИЛИМАНДЖАРО (5895 М)



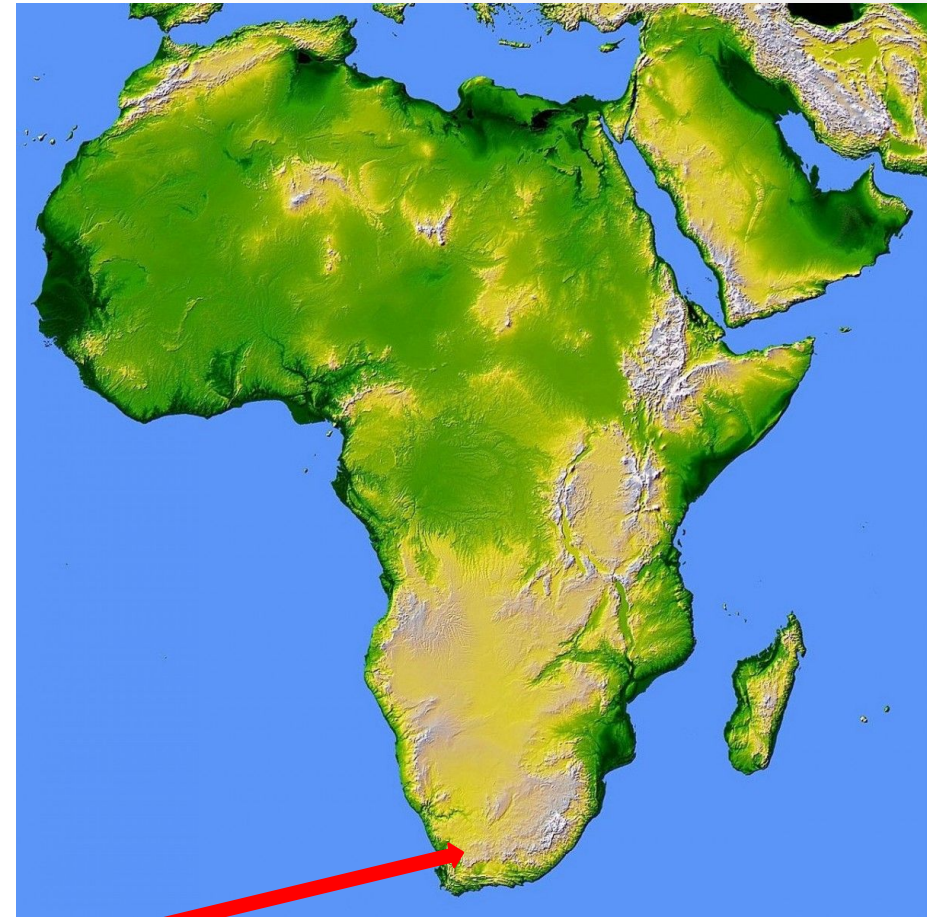


# ВУЛКАН (ГОРА) КЕНИЯ (5199М)





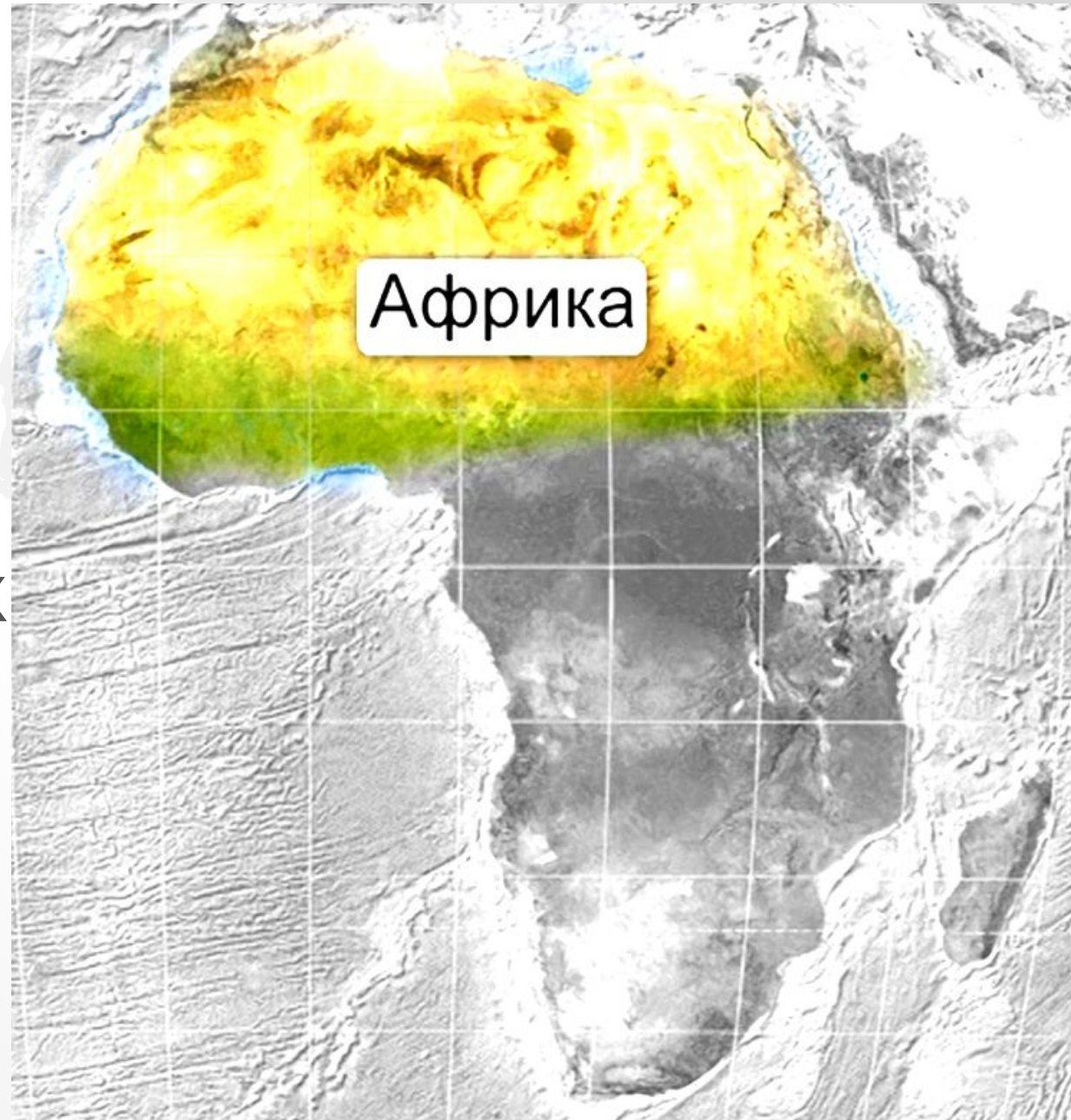
**КАПСКИЕ ГОРЫ (ДО 2326М) СЛОЖЕНЫ  
ПРЕИМУЩЕСТВЕННО ПЕСЧАНИКАМИ  
И КВАРЦИТАМИ**





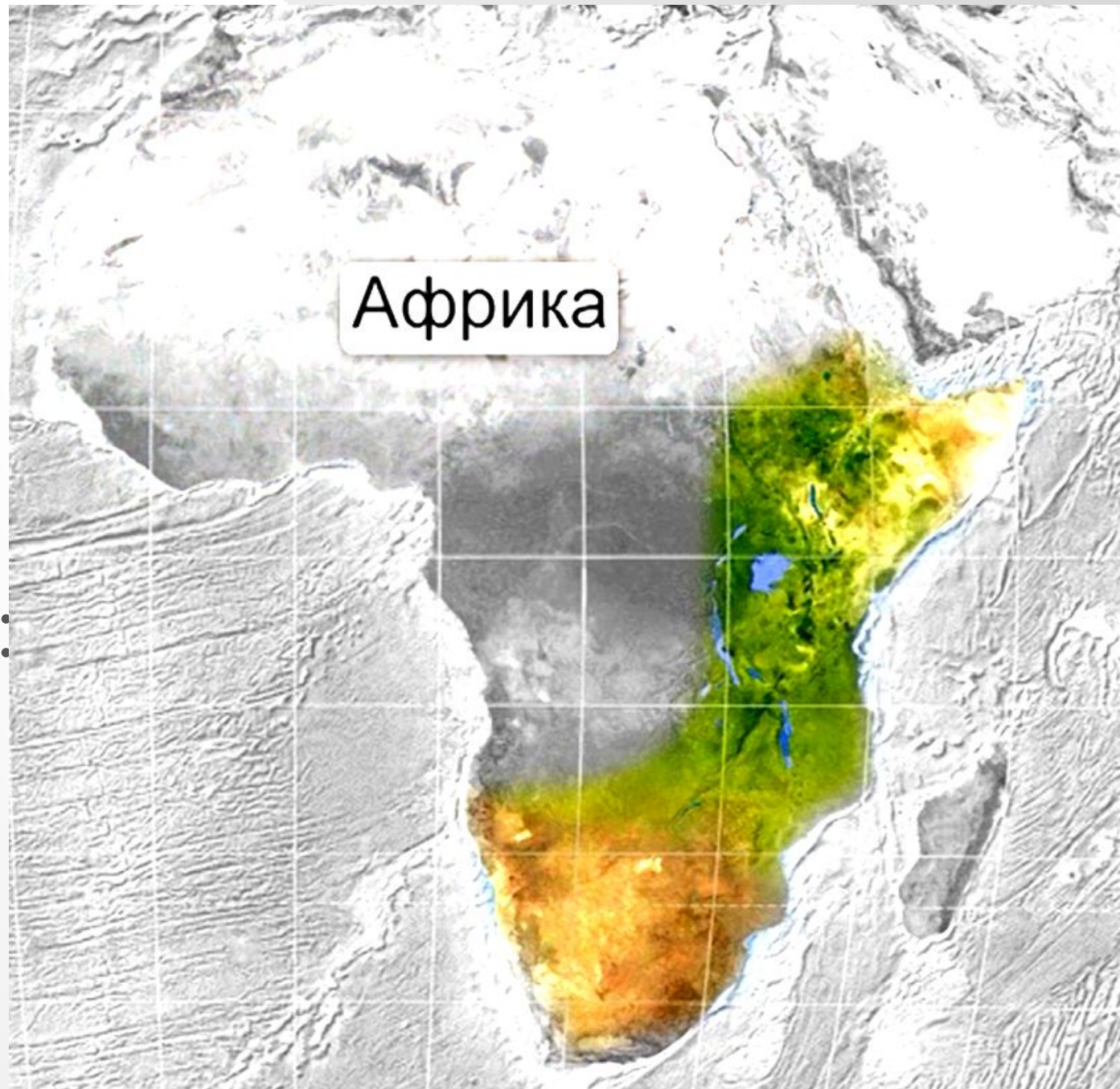
Северо-Запад Африки долгое время был дном моря, поэтому на его поверхности залегают осадочные породы, которыми связаны месторождения нерудных полезных ископаемых

- Нефть
- Газ
- Соль
- Фосфориты



Юго-Восток Африки подвергался излиянию лавы, здесь на поверхности залегают магматические породы, с которыми связаны рудные полезные ископаемые:

- Медные руды
- Золото
- Урановые руды





- С вулканической деятельностью связаны месторождения алмазов. Это самый твёрдый минерал, который используется в ювелирной промышленности, в машиностроении. Месторождения называются «трубки взрыва» или «Кимберлитовые трубки».
- Алмазами богаты **Намибия** и **ЮАР**.



**ПОЛЕЗНЫЕ  
ИСКОПАЕМЫЕ**

*В магматических  
породах*

*В осадочных  
породах*

**РУДНЫЕ**

**НЕРУДНЫЕ**

**Медная  
руда**

**Железная  
руда**

**Соли**

**Горючие**

**Алмазы**

**Нефть**

**Газ**

# **ДОМАШНЕЕ ЗАДАНИЕ**

- 1. Изучить §19.**
- 2. Выучить список номенклатуры.**

## НОМЕНКЛАТУРА АФРИКА

**океаны:** Атлантический и Индийский.

**моря:** Средиземное и Красное.

**заливы:** Гвинейский и Аденский.

**проливы:** Гибралтарский, Баб-эль-Мандебский и Мозамбикский.

**острова:** Канарские, Коморские, Мадагаскар, Мадейра, Занзибар.

**полуостров:** Сомали.

**крайние точки:** м. Бен-Секка, м. Игольный, м. Альмади, м. Рас-Хафун.

**канал:** Суэцкий.

**равнины:** Восточно-Африканское плоскогорье.

**нагорья:** Ахаггар, Тибести, Эфиопское.

**горы:** Атлас, Драконовы, Капские.

**вулканы:** Килиманджаро (5895м), Камерун (4040м), Карисимби(4507м)

**вершины:** Кения (5199м), Тубкаль (4165м)

**пустыни:** Сахара, Ливийская, Намиб, Калахари.

**реки:** Нил, Белый Нил, Голубой Нил, Конго, Нигер, Замбези, Лимпопо, Оранжевая.

**озёра:** Виктория, Чад, Танганьика, Ньяса.

**водопады:** Виктория, Ливингстона.

