The background of the slide is a vibrant photograph of the Machu Picchu archaeological site. The ruins, constructed from dark stone, are built on a steep, terraced mountain slope. In the foreground, there are lush green terraces and stone walls. The middle ground shows more extensive ruins, including a prominent stone structure with a triangular roof. The background features a range of blue, misty mountains under a clear sky. The text is overlaid in white, bold, sans-serif font.

Латинская Америка

Формирование
политической карты
Природные условия и
население

Латинская Америка – регион Западного полушария, расположенный между США и Антарктидой 46 государств, 33 –

независимых Центральная Америка и страны Латинского бассейна:

Антигуа и Барбуда,
Содружество Багамских
островов, Барбадос, Белиз,
Гаити, Гватемала, Гондурас,
Гренада, Доминика,
Доминиканская Республика,
Коста-Рика, Куба, Мексика,
Никарагуа, Панама,
Сальвадор, Сент-Винсент и

Южная Америка

Суринам, Гвиана (Фр.),
Людвигия, Тобаго,
Аргентина, Ямайка,
Бразилия, Гайяна, Парагвай,
Суринам, Уругвай





**Мачу-Пикчу, город
ИНКОВ**



**Пирамиды
мая**



**Храмы
ацтеков**



**Пирамида в
Белизе**

Состав региона

Центральная Америка:
Мексика, страны Центральной Америки и островные государства в Карибском море

Андские страны:
Венесуэла, Колумбия, Эквадор, Перу, Боливия, Чили

Страны Восточной части Южной Америки (Ла-Платские страны):
Аргентина, Парагвай, Уругвай, Суринам, Гайяна

Ведущая страна: Бразилия
Большинство стран региона – унитарные

республики,
Аргентина, Мексика, Бразилия, Венесуэла – федерации
Британское Содружество: Белиз, Барбадос, Доминика, Сент-Винсент и Гренадины, Сент-Люсия, Тринидад и Тобаго, Ямайка, Гайяна



Геополитическое положение

1. Удалённость Латинской Америки от остальных частей света и значительное влияние на развитие стран и внутрирегиональной политико-экономической ситуации;
2. Соседство Латинской Америки с США - самой высокоразвитой страной мира, и значительное влияние США на экономику стран региона;
3. Наличие на территории Латинской Америки колониальных владений высокоразвитых стран, укрепляющее их военно-стратегические позиции плане;
4. Международная буферная (посредническая) роль стран Карибского бассейна, занимающих транзитное положение между Америкой и другими регионами мира;
5. Ускоренное развитие партнерства между странами Америки, создание зоны свободной торговли западного полушария (2005 год).

*Стр. 228-229,
примеры*

Рельеф Латинской Америки

Мексиканское нагорье

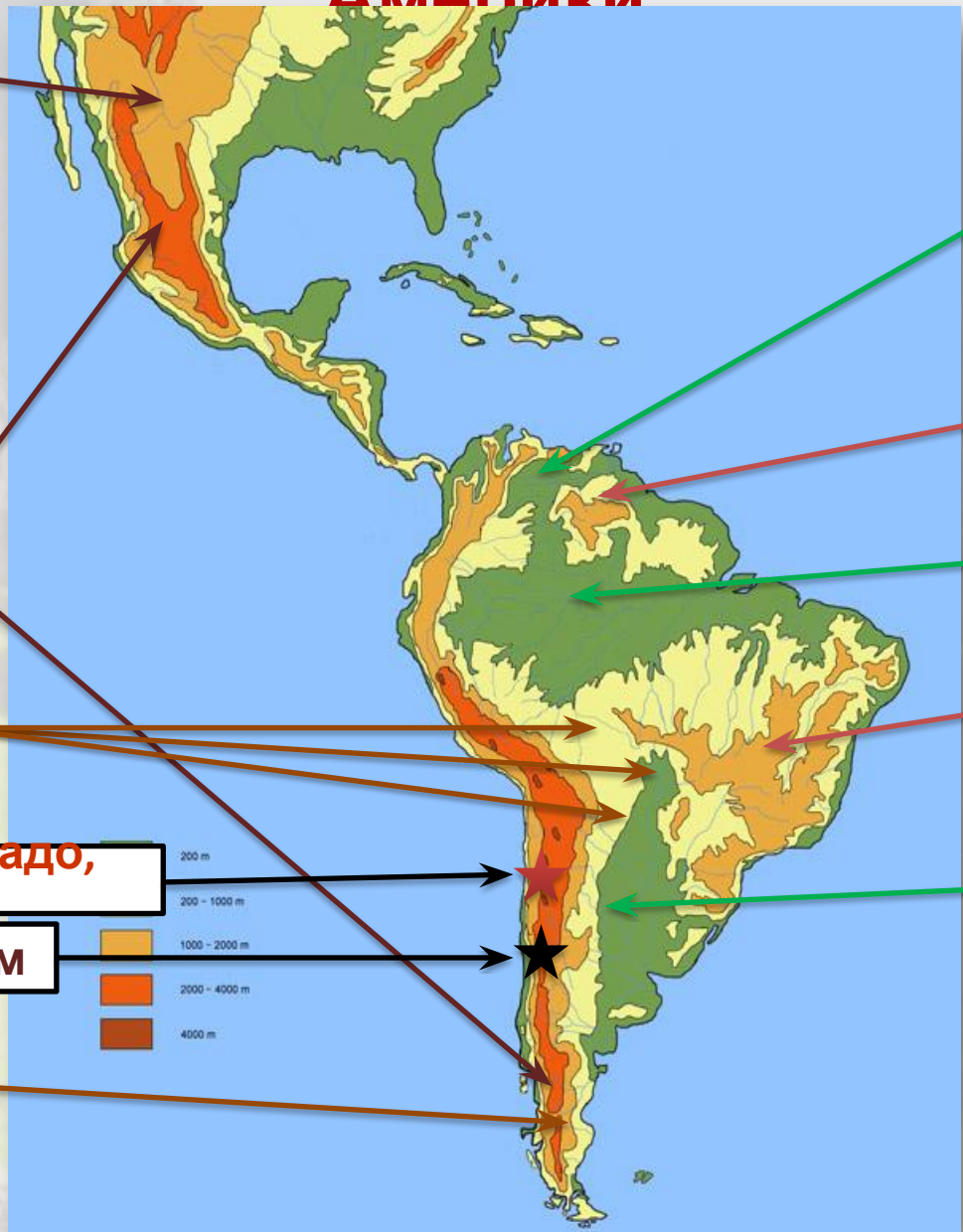
Анды, 9000 км

Равнины:
Маморе
Пантанал
Гран-Чако

Охос-дель-Саладо, 6880 м

Аконгагуа, 6990 м

Плато Патагония



Ориноковская низменность

Гвианское плоскогорье

Амазонская низменность

Бразильское плоскогорье

Ла-Платская низменность



Страны Центральной

Америки:

- Благоприятные условия для выращивания тропических культур
- Значительные лесные ресурсы
- Территория бедна полезными ископаемыми
- Залежи бокситов на островах

Мексика:

- Природные условия разнообразны
- Нефть, газ, серебро (1 место в мире), золото, железная руда, сера
- Недостаток воды

Природно-ресурсный потенциал

Андские страны:

- Природные условия изменяются с высотой
- Месторождения цветных металлов, серебра, сурьмы, бериллия, бокситов, олова, железной руды, платины, алмазы
- В Чили крупнейшие в мире запасы селитры
- Реки богаты гидроресурсами

Восток Южной Америки:

- Равнинные территории с благоприятными почвенно-климатическими условиями
- Значительные лесные и водные ресурсы
- Месторождения **железа**, марганца, олова, бокситов, нефти, урана, тория, алмазов

Природные условия

Климатический пояс	Субтропический пояс, тропический, экваториальный , тропический субтропический, умеренный
Самое жаркое место	Равнина Гранд-Чако, летом +50°C
Осадки	5000-10000 мм в год в Амазонии 150-200 мм в пустыне Атакама
Влияние океанов	Теплые течения: запад Колумбии, Гвианское, Бразильское Холодные течения: Перуанское, Фолклендское
Высотная поясность в Андах	Терра фриа (холодные земли): выше 2500 м - район животноводства
	Терра темплада (теплые земли): 1200-2500 м, благоприятный режим температур и увлажнения – район земледелия
	Терра кальенте (жаркие земли): ниже 1200 м При достаточном увлажнении

Водные ресурсы

Самый увлажненный регион мира, 25% мирового стока Речная сеть густая, но озер мало

Крупные реки: Амазонка (7 стран), Парана с Парагваем (5 стран), Ориноко (2 страны)

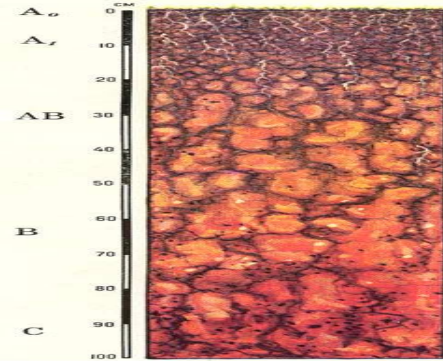
Большой потенциал гидроэнергии у крупных рек
Каскады ГЭС Бразилия, Аргентина, Колумбия

Реки судоходны

Тектонические озера в Центральной Америке - **Никарагуа**
В Венесуэле крупное лагунное озеро **Маракайбо** с запасами нефти
Самое большое судоходное высокогорное озеро мира - **Титикака** (3812 м) находится в Перу и Боливии

Почвенный покров и земельные ресурсы

- Преобладают латеритные почвы, красноцветные железистые или элювиальные железисто-глиноземные.
- Почвы подвержены ветровой и водной эрозии, необходимы специальные мероприятия для их с/х использования
- На севере – красно-бурые и коричневые
- Пампа – черноземы
- Распаханные и обрабатываемые 11% земель



или -
а.



Леса
Амазонии



лекарственные

са

и

Население Латинской Америки

Коренное население:
ацтеки, майя

Европейские переселенцы
:
испанцы,
португальцы

Африканцы



метис

мулат



самб

Население Латинской Америки

Население
Этнический состав
Доля европейского населения
Доля индейцев
Языковой состав



Перу – испанский и кечуа,


Боливия – три языка

Население Латинской Америки


ПЛОТНОСТЬ НАСЕЛЕНИЯ ЛАТИНСКОЙ АМЕРИКИ



ПЛОТНОСТЬ НАСЕЛЕНИЯ на 1 кв.км



ЧИСЛО ЖИТЕЛЕЙ В ГОРОДАХ



Патагония, долины рек Амазонки и

Мехик

o



Сан-
Паулу



Буэнос -
Айрес



Рио-де-
Жанейро



Определи страну...



Мексик

а

Определи страну...



Определи страну...

Аргенти
на



на мировом рынке выступает как крупный поставщик

Определи страну...

Чил
и



Определи страну...

Куб
а



Определи страну...

Болив
ия



Знаешь ли

1. Сколько независимых государств входят в состав Латинской Америки?

- A) 25 ★ B) 33 C) 17 D) 41 E) 52

2. В каком веке, до прихода европейцев, на территории Латинской Америки существовали процветающие цивилизации ацтеков?

- A) в XVI в. B) в XIX в. C) в XX в. D) в XVIII в. ★ E) в XV в.

3. Большинство государств Латинской Америки являются ..?

- A) ★ федеративными республиками
B) унитарными республиками C) конфедерациями

D) социалистическими республиками E) колониями

★ 4. На сколько групп делятся страны Латинской Америки по историко-географическим особенностям?

- A) 4 B) 3 C) 6 D) 5 E) 7

5. Как называется горный район, имеющий очень сложное строение и занимающий западную часть Центральной Америки?

- A) Западными Кордильерами B) Восточными Андами
C) Карибскими Кордильерами D) Багамскими Кордильерами

E) Ямайскими Кордильерами

Знаешь ли

6. Назовите самый высокий действующий вулкан планеты? ★

- A) Аконкагуа В) Охос-дель-Саладо С) Коста-Рика
D) Сан-Кристобаль Е) Мадерас

7. Какая платформа расположена к востоку от Анд? ★

- A) Северо-Американская В) Восточно-Европейская
C) Африкано-Аравийская D) Южно-Американская Е) Сибирская

8. Назовите самое большое высокогорное озеро планеты? ★

- A) Маракайбо В) Патус С) Никарагуа D) Флорида Е) Титикака

9. Назовите главные богатства Латинской Америки? ★

- A) пустыни В) агроклиматические ресурсы С) леса
D) водные ресурсы Е) горные цепи

10. Креолы – это? ★

- A) «чистокровные» потомки испанцев
B) дети от браков африканцев и индейцев
C) дети от браков африканцев и европейцев
D) Дети от браков европейцев и азиатов
E) потомки голландцев

Готовимся к экзамену

1. Назовите 3 государства, относящиеся к региону Латинская Америка:

Бангладеш★ Коста-Рика, Ливан, Мьянма, Катар, ★ Непал, Суринам, Кувейт, Буркина-Фасо, Сальвадор

2. Назовите столицы Латиноамериканских государств:

★ Асунсьон, ★ Антананариву, Джакарта, Эр-Ряд, Ла-Пас, Катманду, Багдад, Анкара, Бельмопан, Маскат

3. Найдите ошибку:

Берега Латинской Америки омывают воды

А. Мексиканского залива

★ Б. Карибского моря

В. Гудзонова залива

Г. Атлантического океана

Д. Магелланова пролива

★ Самые крупные города Латинской Америки:

А. Мехико и Сан-Пауло

Б. Мехико и Буэнос-Айрес

Айрес

В. Рио-де-Жанейро и Лагос

Г. Лагос и Мехико

★ Какое из перечисленных государств Латинской Америки является федерацией?

6. Латинская Америка занимает первое место среди регионов мира по обеспеченности ресурсами:

- 1) почвенными;
- ★ 2) водными;
- 3) гидроэнергетическими;
- 4) земельными.

7. Наиболее распространенный в Латинской Америке язык:

- ★ 1) английский;
- 2) французский;
- 3) испанский;
- 4) португальский.

8. Государство Парагвай относится к субрегиону Латинской Америки:

- 1) Центральная Америка;
- 2) Андские страны;
- 3) страны бассейна Ла-Платы.
- ★ 4) страны бассейна Ла-Платы.

9. Современная «экономическая столица» Бразилии — это:

- 1) Рио-де-Жанейро;
- 2) Сан-Паулу;
- 3) Бразилиа;
- 4) Буэнос-Айрес.

★ 10. В Латинской Америке отсутствуют:

- 1) внутриконтинентальные государства;
- 2) островные государства;
- 3) развитые государства;
- 4) зависимые территории.

11. Большая часть Латинской Америки в начале XIX в.

являлась колониями:

12. Более половины земельной площади в Латинской Америке занято:

- ★) лесами; 2) обрабатываемыми землями;
3) пастбищами; 4) пустынями и высокогорьями.

13. Государство Сальвадор относится к субрегиону Латинской Америки:

- ★) Центральная Америка; 2) Андские страны;
3) Страны бассейна Ла-Платы.

14. Внутриконтинентальное положение среди

государств Латинской Америки имеют:

- А. Парагвай и Боливия Б. Парагвай и Уругвай
В. Боливия и Уругвай Г. Боливия и Бразилия

15. Найдите ошибку: к Андским странам не относят:

Чили, ★ Мексика, Колумбия, Эквадор, Перу, Боливию

16. Какое государство входит в состав Британского Содружества:

- А. Аргентина ★ Б. Ямайка В. Парагвай Г. Уругвай

17. Одна из характерных черт Латинской Америки?

- А) низкий уровень урбанизации ★ В) «ложная урбанизация»
С) сосредоточение агломераций в центре региона
D) развитие мегалополисов Е) высокая доля

ПОЖИЛЫХ

На дом: §41-43,
задание на контурной карте, стр. 229

Ла-Пас, Боливия (3650 м)



Интернет-ресурсы

- http://mirblizko.ru/wp-content/uploads/2014/04/Machu_Pikchu.jpg Мачу-Пикчу
- http://img-fotki.yandex.ru/get/9230/137106206.34a/0_c4c64_4829d5dc_orig.jpg Пирамиды майя
- http://www.visacomtour.ru/wp-content/uploads/dostvisa/ruini_shunantunich.jpg Пирамида в Белизе
- <http://tracking.org.ua/wp-content/gallery/gallery48/13.jpg> Ацтеки
- http://www.vidiani.com/maps/maps_of_south_america/large_detailed_physical_and_hydrographic_map_of_latin_america_1.jpg Карта
- http://900igr.net/datas/geografija/Naselenie-Ameriki/0010-010-KHARAKTERNYE-CHERTY-RAZMESCHENIJA-naimenee-zasele_nnyj-region-mira-so.jpg Карта населения
- http://tao44.narod.ru/images/religii_mira.jpg Религии мира
- http://visacomtour.ru/wp-content/uploads/dostvisa/istoricheskij_tsentr_mehiko.jpg Мехико
- <http://de.academic.ru/pictures/dewiki/115/saopaulo6.jpg> Сан-Паулу
- http://www.hola.com/imagenes/viaies/2010102046067/buenos-aires/argentina/america/0-152-528/a_panoramic-a.jpg Буэнос Айрес
- <http://kuda-pohat-otdyhat.ru/wp-content/uploads/2015/09/Rio-de-ZHaneyro4.jpg> Рио-де-Жанейро
- <http://gorodamira.info/images/stories/Sities/Boliviya/La-Pas/%D0%9B%D0%B0-%D0%9F%D0%B0%D1%81%20-%20%D1%81%D1%82%D0%BE%D0%BB%D0%B8%D1%86%D0%B0%20%D0%91%D0%BE%D0%BB%D0%B8%D0%B2%D0%B8%D0%B8.JPG> Ла-Пас
- <http://fb.ru/misc/i/gallery/3277/434204.jpg> Леса Бразилии
- <http://photosflowery.ru/photo/56/5655be028dd45fb5145ff29c7f1da993.jpg> Сейба
- <http://photosflowery.ru/photo/22/22d5814deeb52b82ae5197acc403eb10.jpg> Бальса
- <http://drefko.ru/wp-content/uploads/2015/06/mahagonievoe.jpg> Красное дерево
- <http://photosflowery.ru/photo/0e/0e1bea3bfca036eaedfab136deb8f10.jpg> Гевея
- <http://school.xvatit.com/images/9/92/06.01-09a.jpg> Схема рас
- <http://www.poradatour.com.ua/published/publicdata/TJAGNWB11/attachments/SC/images/z-4728.png> Мексика
- http://fis.ru/popup_imgs/10651217.jpg Бразилия
- <http://orionintour.com/userfiles/images/%D0%B0%D1%80%D0%B3%D0%B5%D0%BD%D1%82%D0%B8%D0%BD%D0%B0%203.jpg> Аргентина
- <http://sakhapress.ru/wp-content/uploads/2014/12/VcLG21kp.jpg> Куба
- https://img-fotki.yandex.ru/get/3310/326594467.0/0_ff394_85f7603_orig.jpg Боливия
- http://kontur-map.ru/1506722_BIG_0_0.jpg Карта физическая