

# **Тема урока:**

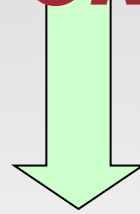
**Реки в природе  
и на географических картах.**

## цель:



*Сформировать представление о реке, ее частях, частях речной системы и долины;  
научиться определять левые и правые притоки, притоки I, II и т. д. порядка; географическое положение реки; к бассейнам каких океанов относится;  
воспитывать любовь к рекам, видеть их красоту.*

# Река



*Поток воды, текущий в  
выработанном им  
углублении. Это  
углубление называется  
руслом реки*

**Река состоит из истока,  
русла, устья**

**Исток**

*начало реки*

**Русло**

*самая низкая*

*часть*

*речной долины, по которой  
происходит сток воды*

**Устье**

*место впадения*

*потока (реки, ручья) в  
другую реку, море, озеро,  
океан*

# Истоки реки



Озеро



Болото

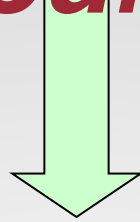


Ледник



Родник,  
ИСТОЧНИК

# *Пойма*



*Нижняя часть речной долины, регулярно заливаемая в половодье*



БОЛОТО

РОДНИК

ЛЕДНИК

ОЗЕРО

ИСТОК

Приток 1 порядка

ДОЛИНА

Русло реки

ПОЙМА

ДЕЛЬТА

УСТЬЕ

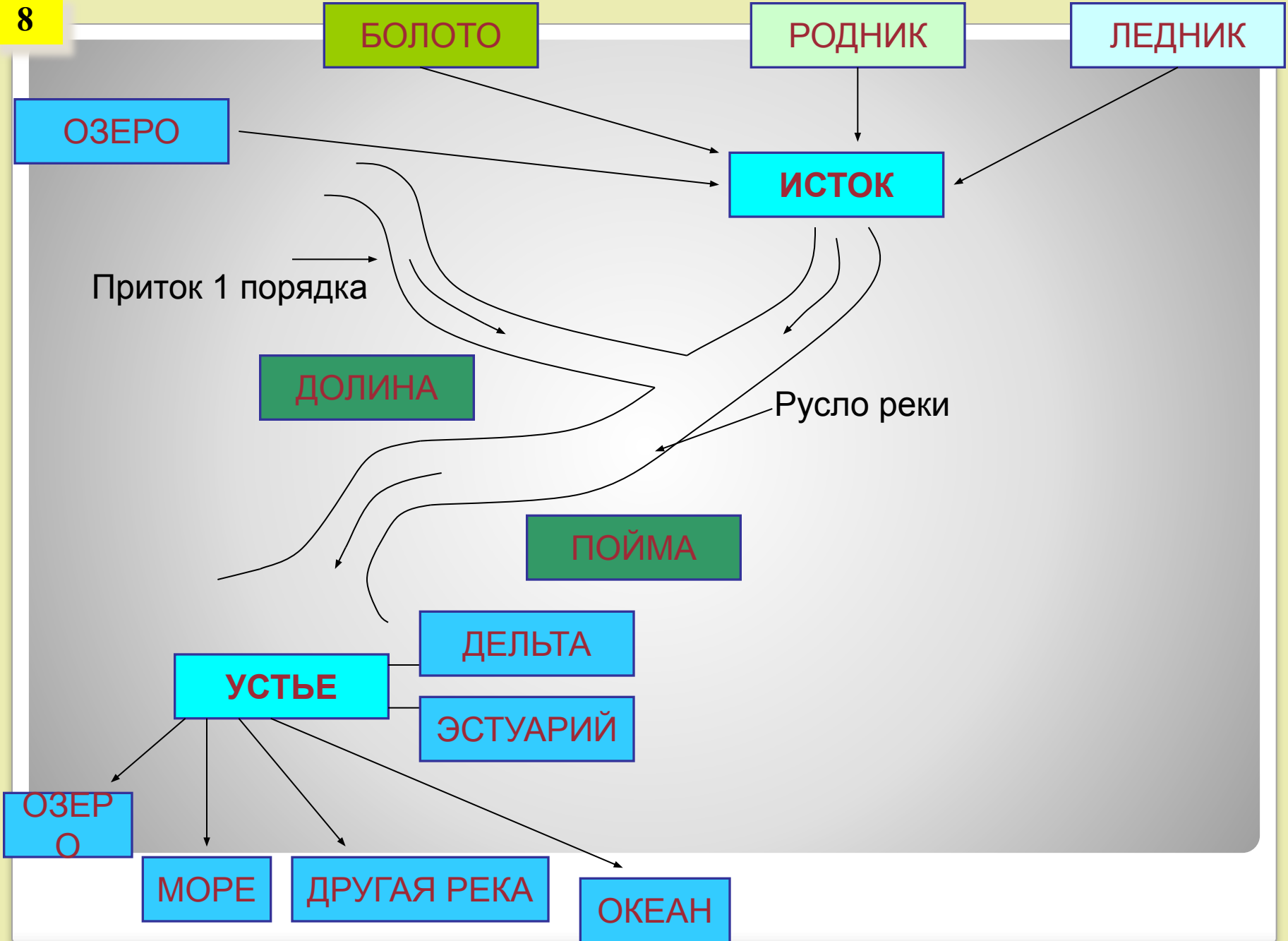
ЭСТУАРИЙ

ОЗЕРО

МОРЕ

ДРУГАЯ РЕКА

ОКЕАН





**Речная долина** узкое,  
вытянутое в длину,  
извилистое углубление,  
образованное работой  
стекающей по руслу воды



***с которого вся вода стекает в реку***

***Водораздел***

*это граница, разделяющая соседние речные бассейны*



***Речная система***

*главная*

*река со всеми притоками*



# Равнинная река





# Горная река





**Горная река**

**большая разница в  
высоте между  
истоком и устьем**



**большая скорость  
течения**



**река  
разрушает**



**узкая, глубокая  
речная долина**

**Равнинная  
река**

**небольшая разница в  
высоте между  
истоком и устьем**



**небольшая  
скорость  
течения**



**река наносит**



**широкая, неглубокая  
речная долина**

- Что такое исток, устье, приток ?
- Что такое речная система? Из каких частей она состоит?
- Дайте определение термина « Речная система», перечислите ее составные части

**Задание на проверку знаний**

## Задания на проверку умений

- Приведите примеры левых и правых притоков Волги, Оби, Енисея, Лены

### Задание на знание номенклатуры

- Покажите на карте( от истока до устья) следующие реки: Волга, Енисей, Амазонка, Нил, Хуанхэ, Обь, Лена, Миссисипи, Дон, Днепр