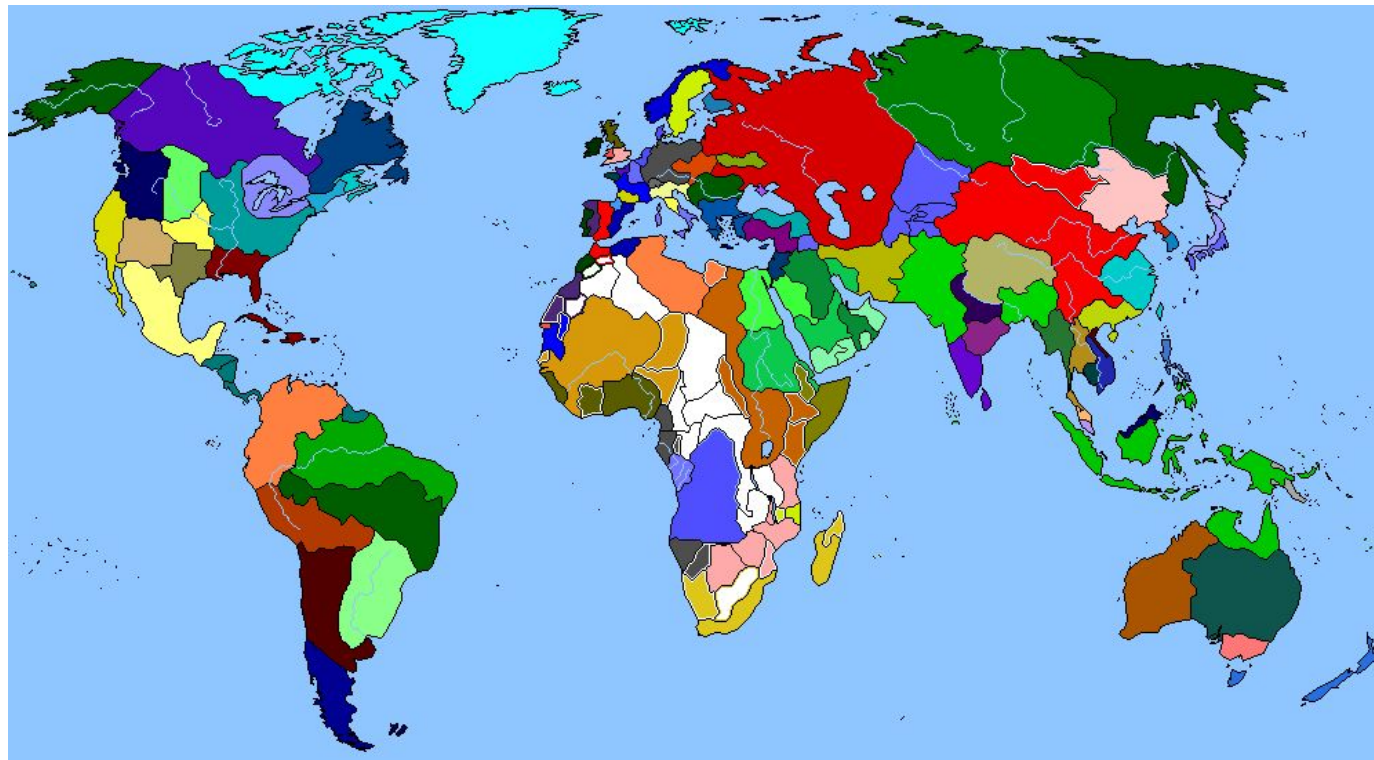
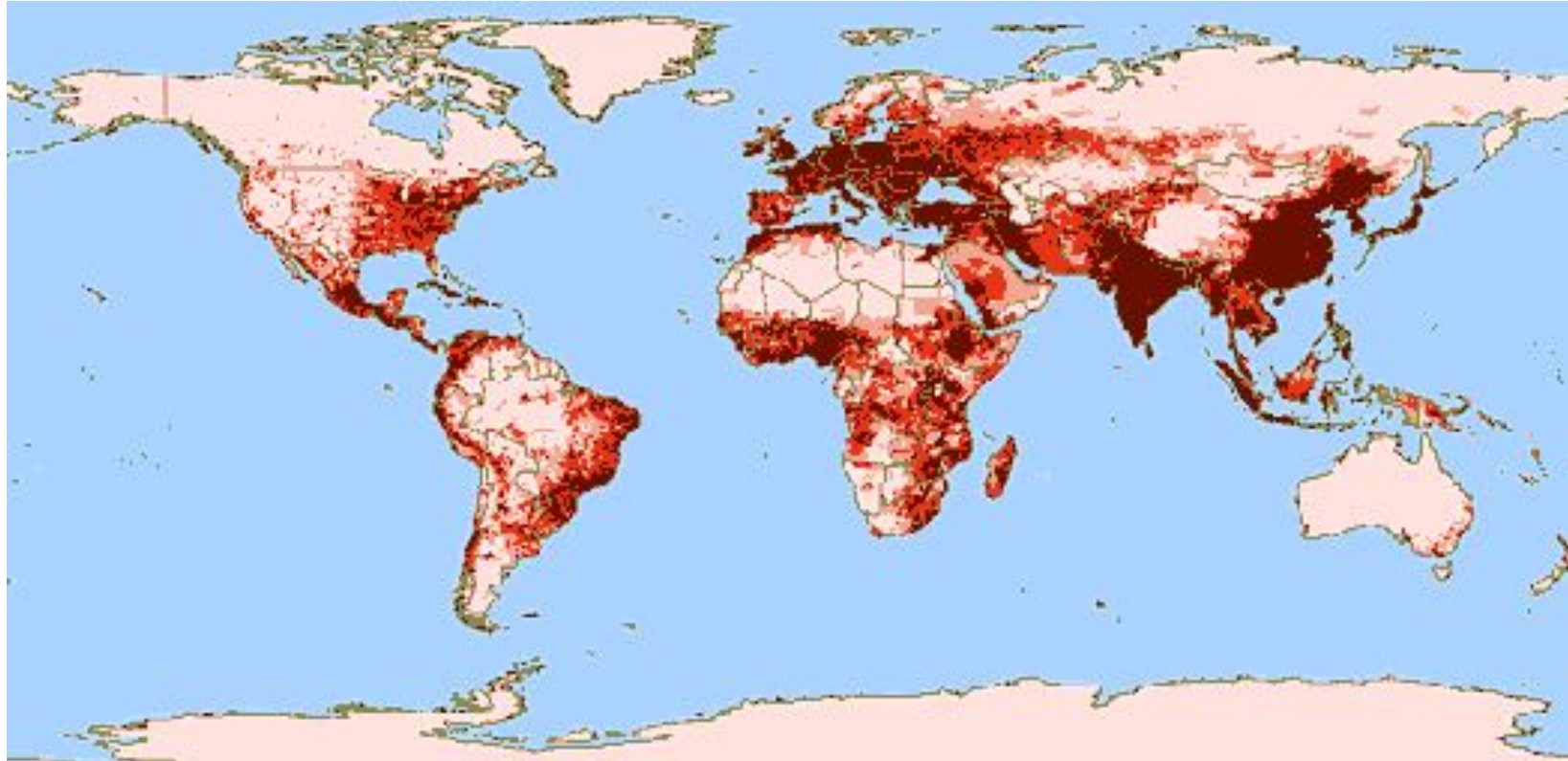


# Домашнее задание: читать §6



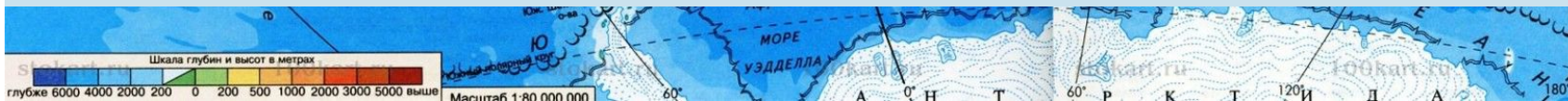
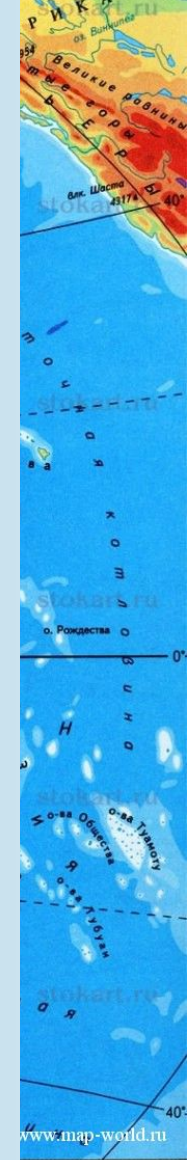
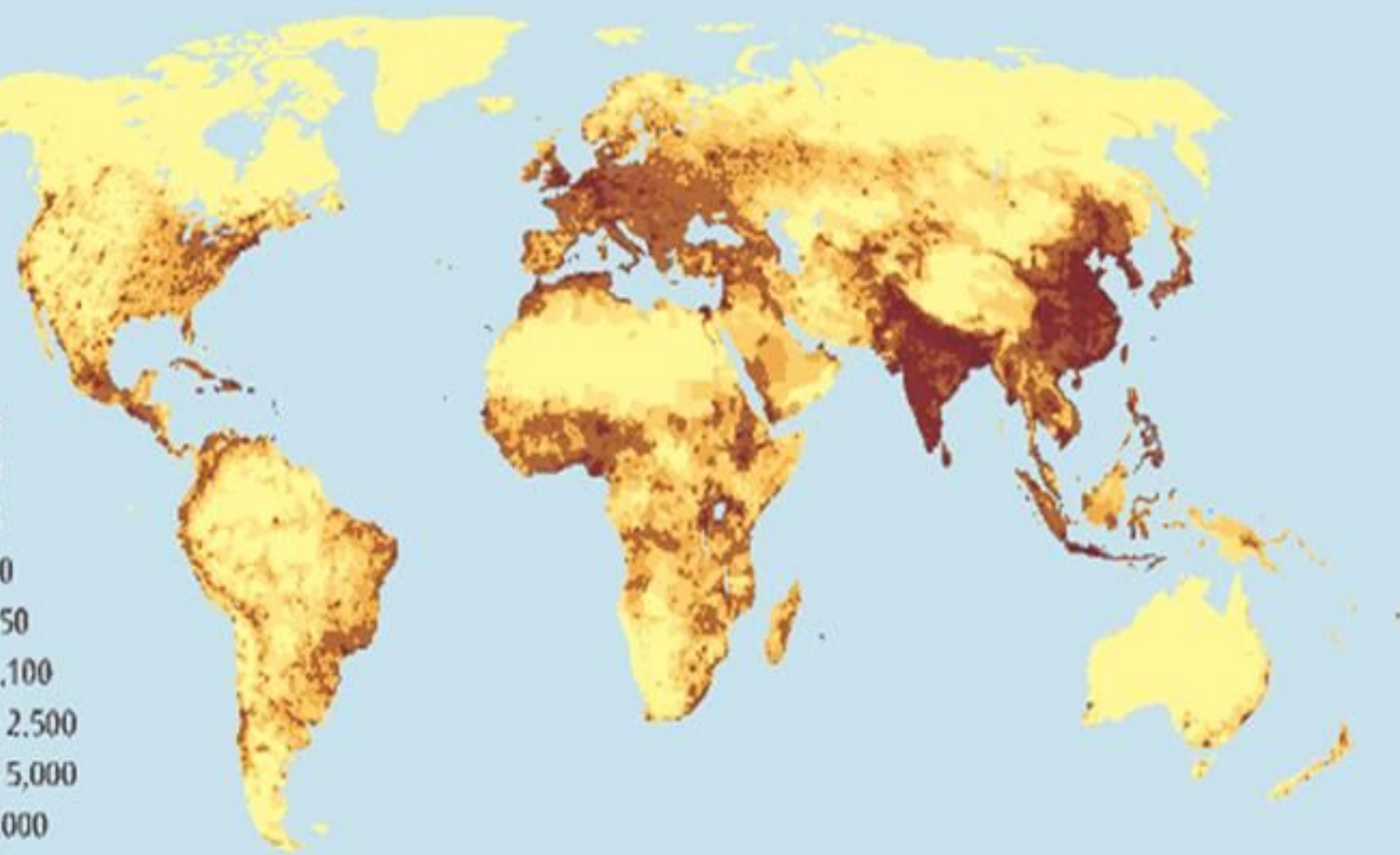
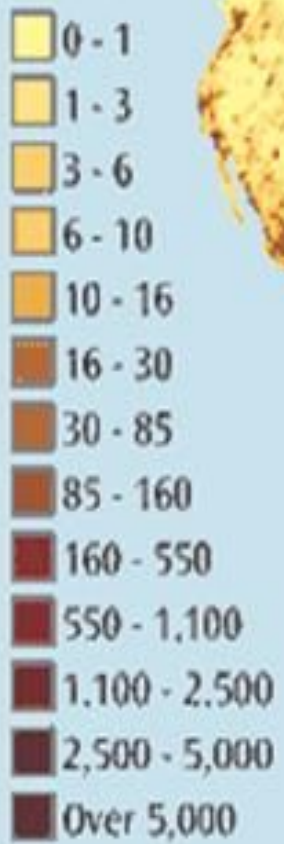
**Изучаем население  
по картам и диаграммам**

**Рассмотрите рис. 11 и сделайте выводы о размещении населения.**



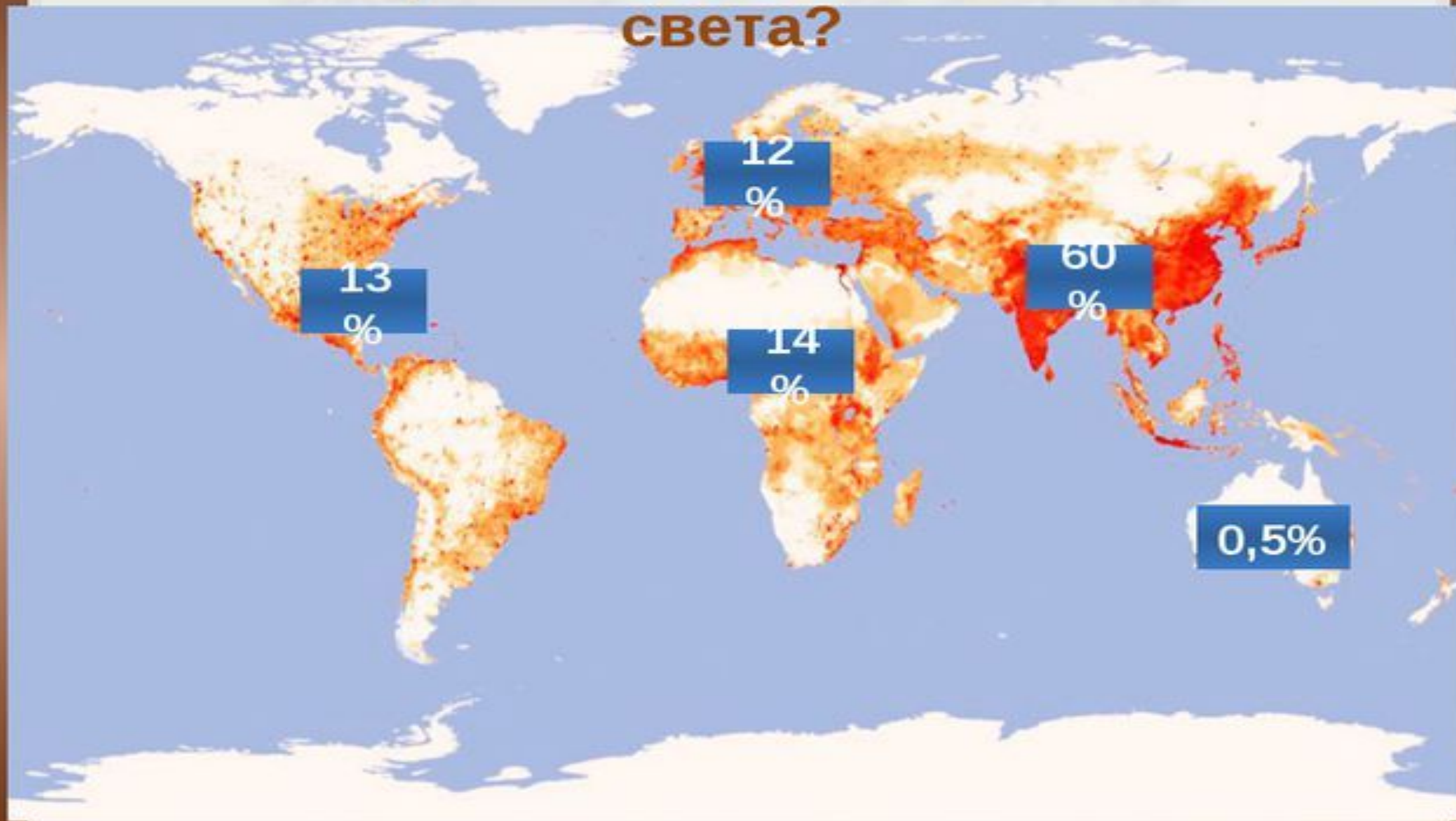
**Для работы вам понадобятся также физическая и политическая карты мира (см. атлас).**





|   |                        |
|---|------------------------|
| Время полного оборота Земли вокруг своей оси (звездные сутки) | 23 часа 56 мин. 4 сек. |
| Период обращения Земли вокруг Солнца (тропический год)        | 365,256 суток          |
| Средняя скорость движения Земли по орбите                     | 29,80 км/сек.          |

# Размещение населения по частям света?

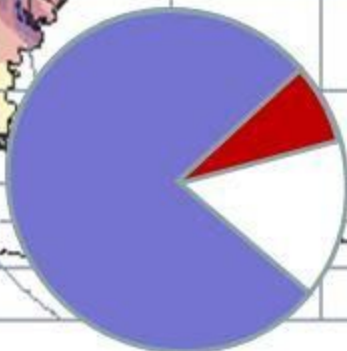
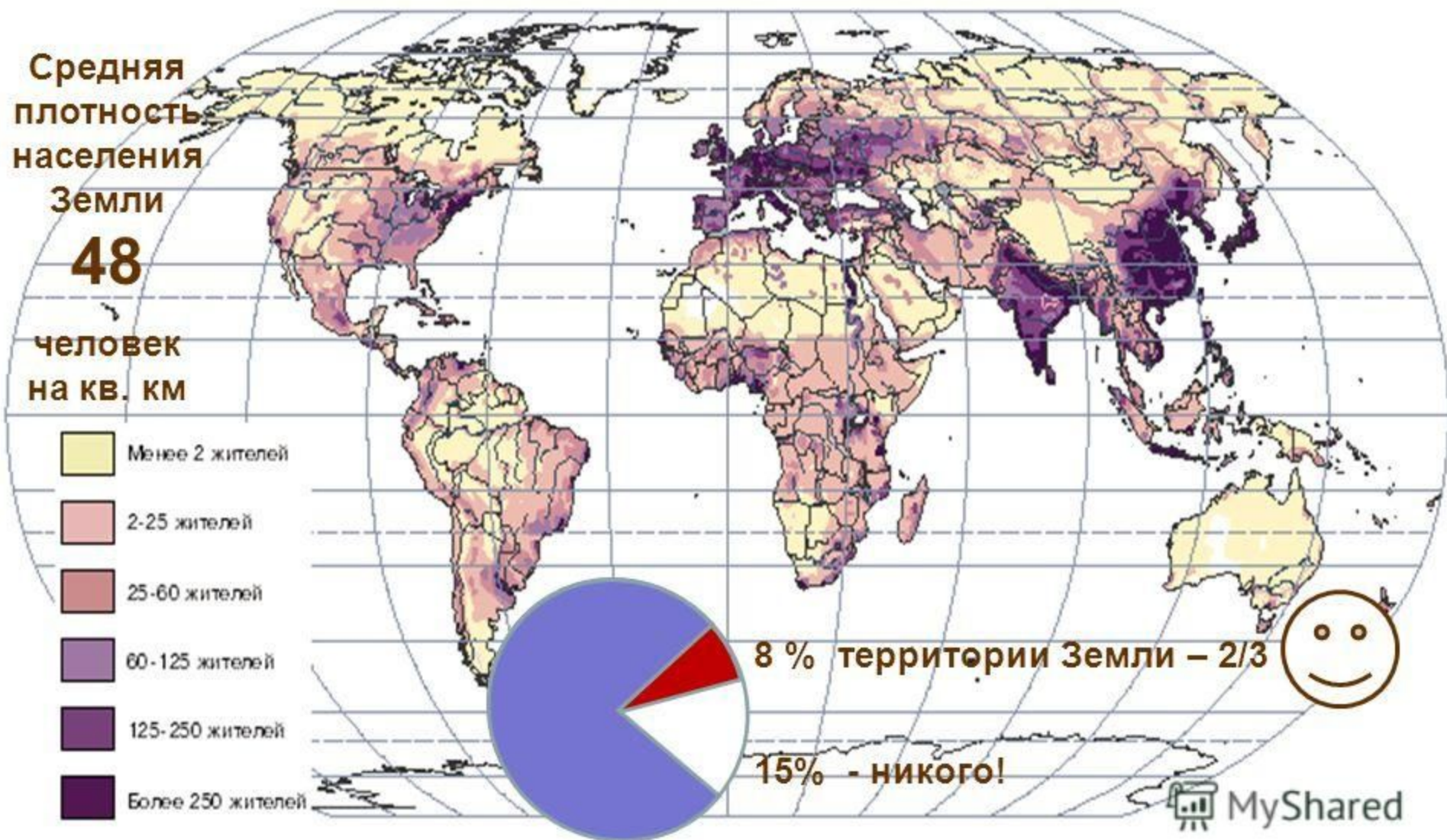




# Контрасты размещения В чём причины?

Средняя  
плотность  
населения  
Земли  
**48**

человек  
на кв. км



8 % территории Земли – 2/3

15% - никого!



**1. Главная особенность размещения населения – его **неравномерность**.**

**2. Большая часть населения Земли живёт **на равнинах Северного полушария** в умеренном, субтропическом и субэкваториальном климате **(почему?)****

**3. В основном люди расселяются **на морских побережьях** (у каких морей и почему?)**



# ПОЛИТИЧЕСКАЯ КАРТА МИРА



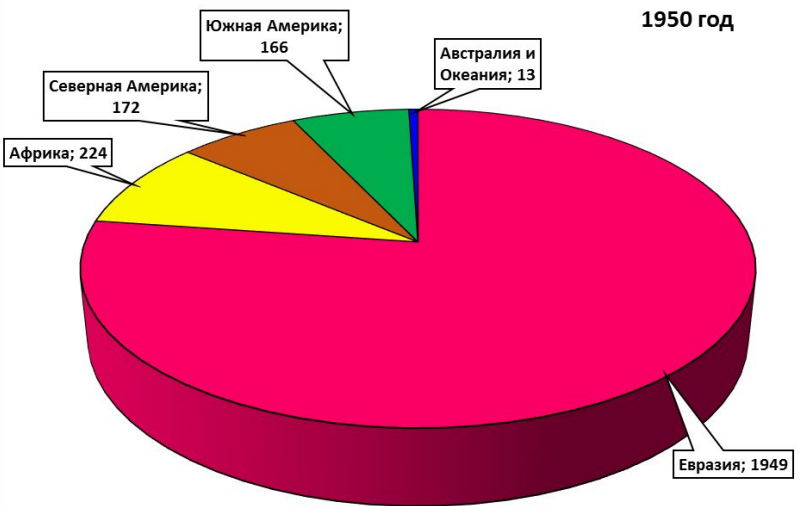
Масштаб 1:40 000 000

**Анализируем** диаграммы «**Изменение численности населения в регионах мира**» (см. рис. 12)

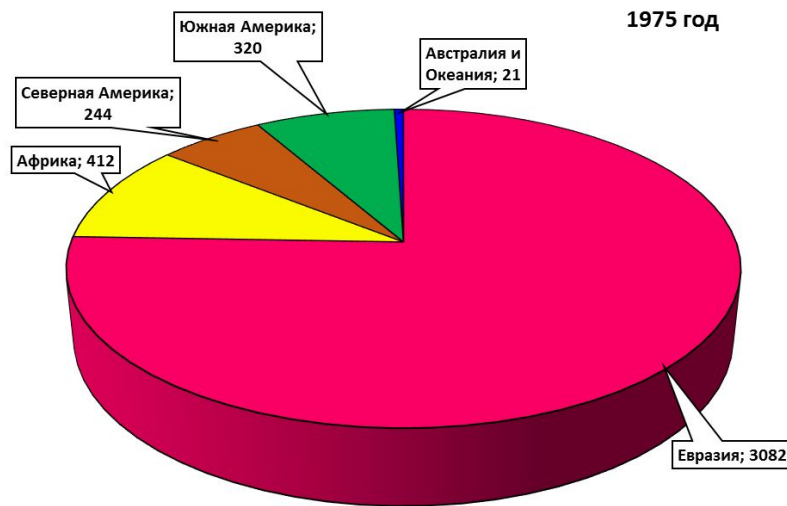




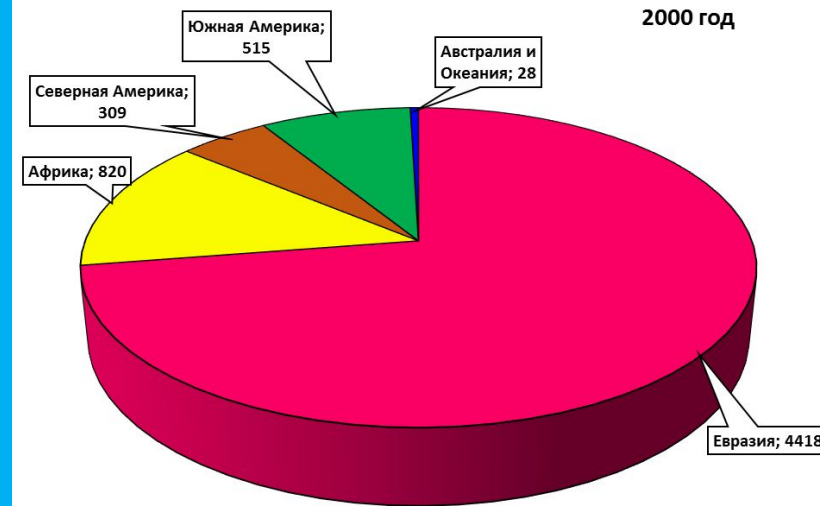
1950 год



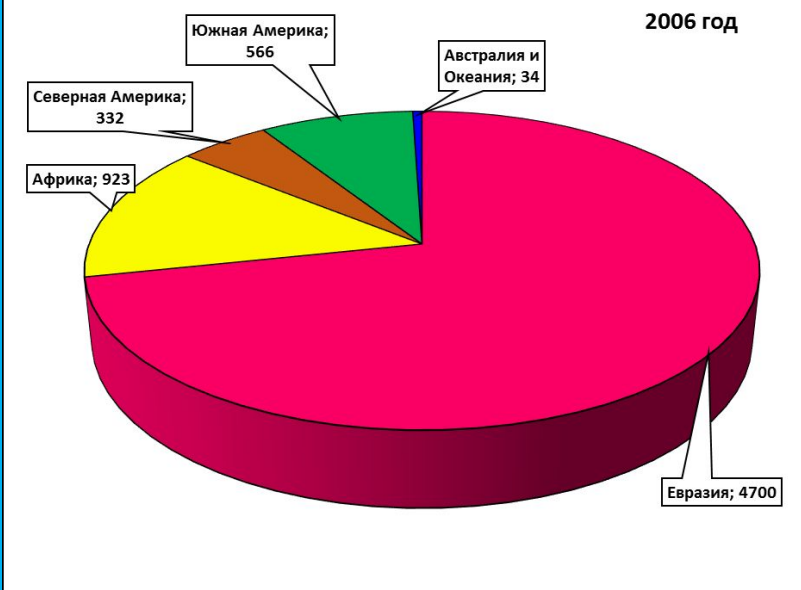
1975 год



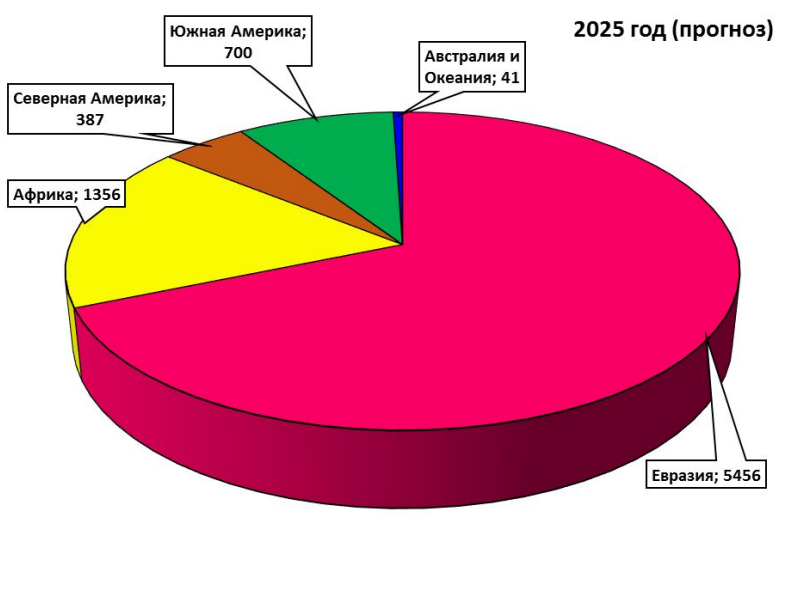
2000 год



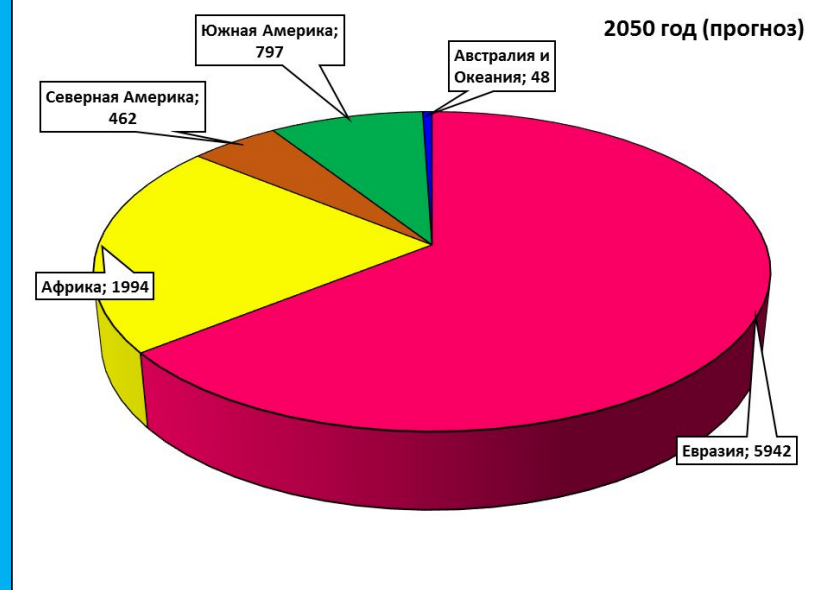
2006 год



2025 год (прогноз)



2050 год (прогноз)







**НАСЕЛЕННЫЕ ПУНКТЫ**  
**МОСКВА** Столица государства  
**КАБЕНА** Штаты владений и территории с особым статусом  
**ДРЕВНО** Прочие населенные пункты  
 ● более 1 млн жителей  
 ○ от 100 тыс. до 1 млн жителей  
 ○ менее 100 тыс. жителей

**ГОСУДАРСТВА И ТЕРРИТОРИИ**  
**ИТАЛИЯ** Государства  
 Штаты владений и территории с особым статусом

**ГРАНИЦЫ**  
 — государственные  
 - - - - - политическая граница Российской Федерации и Республики Крым и между Россией и Крымской Республикой (спорная часть)  
 - - - - - граница на территории Гвинеи

**ГИДРОГРАФИЯ**  
 Водосток: а) постоянный и сезонный, б) непостоянный и неопределенный  
 Острова: в) островной, г) материковый  
 Реки: а) постоянные, б) пересыхающие

**ЦИФРЫ НА КАРТЕ ОБОЗНАЧЕНЫ**

|                             |                                  |
|-----------------------------|----------------------------------|
| 17 Чад                      | 33 Южная Африка                  |
| 18 Чехия                    | 34 Турция                        |
| 19 Дания                    | 35 Австралия                     |
| 20 Эстония                  | 36 Австралия                     |
| 21 Доминиканская Республика | 37 Канада                        |
| 22 Коста-Рика               | 38 Ливия                         |
| 23 Франция                  | 39 Политические территории       |
| 24 Молдова                  | 40 Сандвичевы острова            |
| 25 Германия                 | 41 Норвегия                      |
| 26 Италия                   | 42 Иордания                      |
| 27 Великобритания           | 43 Катар                         |
| 28 Швейцария                | 44 Катар                         |
| 29 Австралия                | 45 Катар                         |
| 30 Австралия                | 46 Объединенные Арабские Эмираты |
| 31 Австралия                | 47 Катар                         |
| 32 Австралия                | 48 Катар                         |
| 33 Австралия                | 49 Восточный Тимор               |

Примечание: 1. Международно-правовые режимы Антарктиды и территории, расположенные южнее 60° южной широты, регулируются Договором об Антарктике от 1 декабря 1959 г.  
 2. Восточная Западная Сахара признана государством-наблюдателем в Организации Объединенных Наций.  
 3. Формально все территории, расположенные в южной части Тихого океана, принадлежат Великобритании.  
 4. Восточная Территория в Южном океане (Земельный Чили) — спорная территория.  
 5. Политическая территория (Сандвичевы острова и север Тасм) актуализированы в соответствии с 1987 г. в соответствии с актами международного права.  
 6. Восточная часть территории (Сандвичевы острова и север Тасм) актуализированы в соответствии с 1987 г. в соответствии с актами международного права.



## **Выводы:**

- 1. более половины населения живёт в Евразии (почему?)**
- 2. быстрее всего растёт население Африки (докажите!)**
- 3. медленнее всего растёт население Европы (докажите!)**

**Пользуясь текстом параграфа ответьте:**

**В каких странах самая большая  
плотность населения?**

**Бангладеш, Бахрейн,**

**В каких странах самая низкая плотность?**

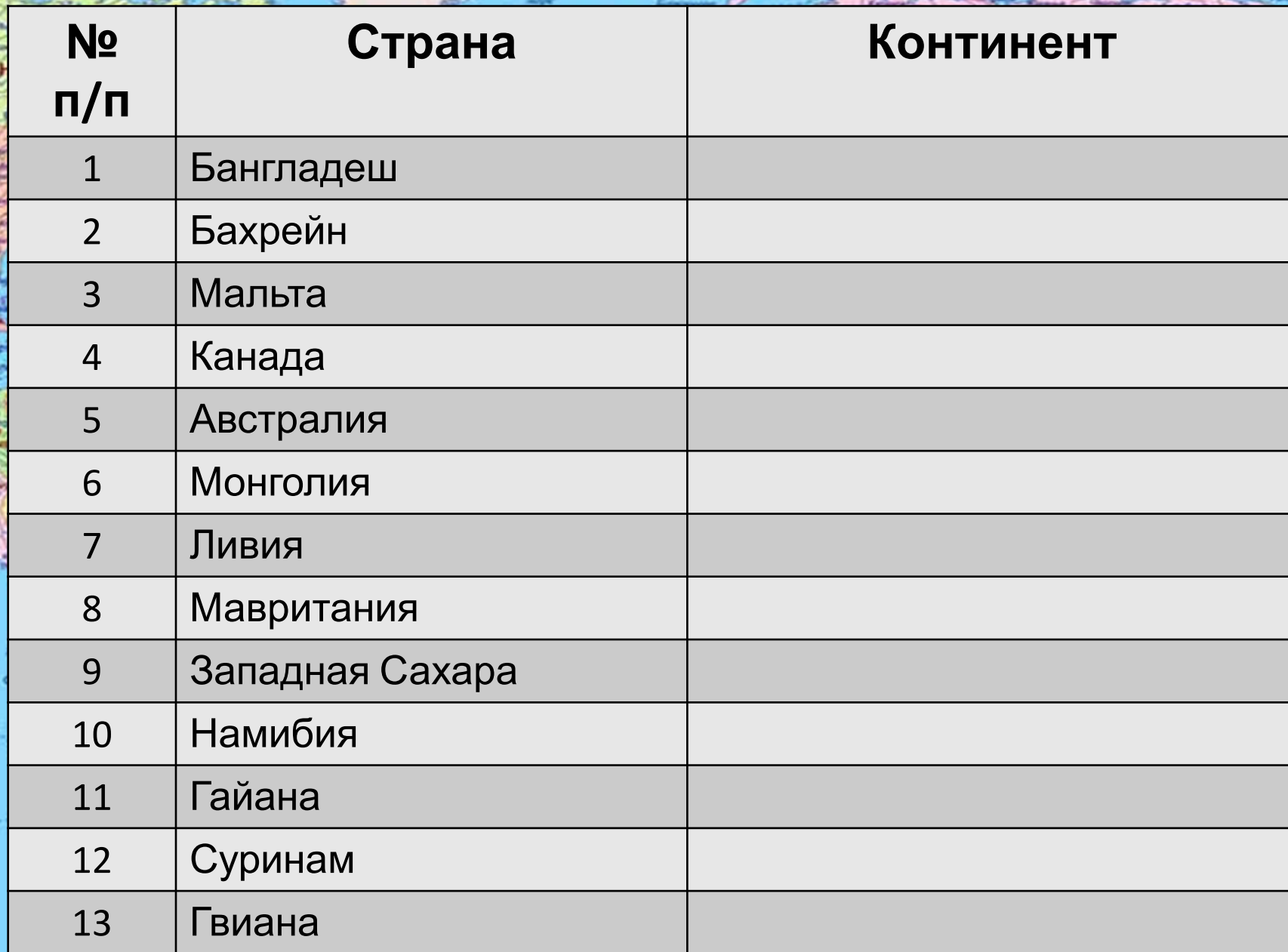
**Мальта**

**Канада, Австралия, Монголия, Ливия,**

**Мавритания, Западная Сахара, Намибия, Гайана,**

**Суринам, Гвиана**  
**Найдите и покажите эти страны на карте!**





| № п/п | Страна          | Континент |
|-------|-----------------|-----------|
| 1     | Бангладеш       |           |
| 2     | Бахрейн         |           |
| 3     | Мальта          |           |
| 4     | Канада          |           |
| 5     | Австралия       |           |
| 6     | Монголия        |           |
| 7     | Ливия           |           |
| 8     | Мавритания      |           |
| 9     | Западная Сахара |           |
| 10    | Намибия         |           |
| 11    | Гайана          |           |
| 12    | Суринам         |           |
| 13    | Гвиана          |           |