

## Глава 2

# «Путешествия европейцев в Центральную Азию, Индию и Китай»

Мещерякова Е.А.

# Сегодня вы узнаете:


- О путешествии Марко Поло в Китай
- Как ходил за три моря Афанасий Никитин
- Новые понятия: континентальный климат, джунгли
- Новые географические названия



# Китай – страна на востоке Азии

- Природа: высокие горы, пустыни, густые леса, реки, **континентальный климат**
- Развитая цивилизация с древности:
  - Плавали по морям Тихого океана;
  - На западе доходили до Тибетского нагорья и пустыни Гоби;
  - 2300 лет назад возвели стену в 5000 км
  - Создали Великий торговый шелковый путь;
  - Родина – компаса, бумаги, фарфора, пороха

# Великий путешественник Марко Поло



- В **1271—1292 гг.** совершил поход в Китай. Путешествие, длившееся *три с половиной года*, проходило через *Малую Азию, Персию, Памир и пустыню Гоби.*
- В Китае Марко Поло провел 17 лет, находясь на службе у китайского императора.

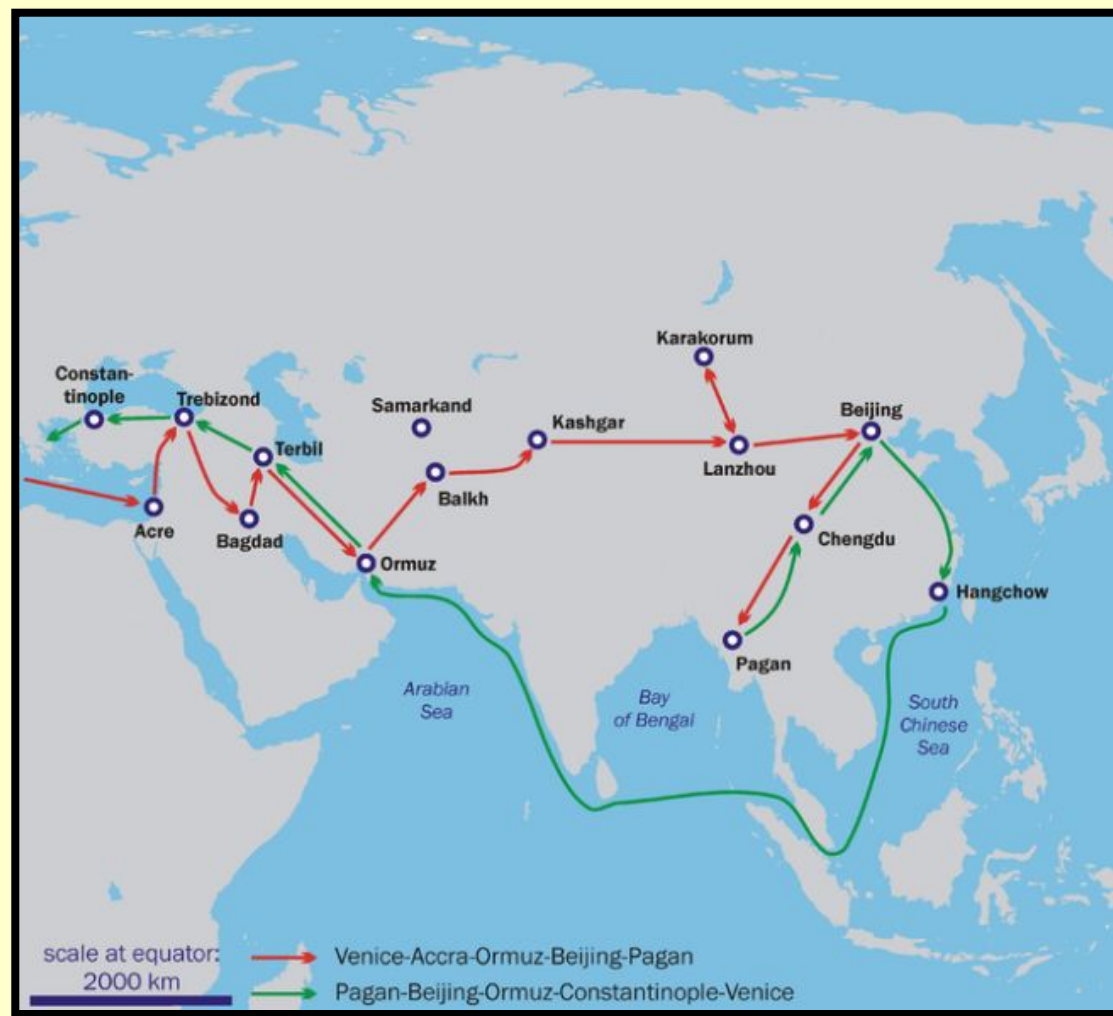


## *Марко Поло: итоги путешествия*

Домой Марко Поло вернулся по **Южно-Китайскому морю**, побывал на **Зондских островах** и **Шри-Ланке**, обогнув Азию с юга. Участвуя в войне с Генуей, в 1298 г. был взят в плен и в тюрьме продиктовал одному из узников рассказ о своем путешествии, снискавшем ему европейскую славу.

Путешественник открыл Восток для европейцев, первым прошел морским путем из Китая в Италию. Его труд *«Описание мира»*-самая известная книга той эпохи.

# Марко Поло: карта путешествия



*На контурную карту нанесите:*

*Тибетское нагорье*

*Река Янцзы*

*Река Хуанхе*

*Желтое море*


*Южно-Китайское море*

*Зондские острова*

*Остров Шри-Ланка*

# Афанасий Никитин

(умер в 1475 году)




- С 1466-1472 г. с торговыми целями совершил путешествие в Иран и Индию.
- Из Индии он возвращался через Персию и по дороге домой умер в г. Смоленске.



# Афанасий Никитин - ИТОГ ПУТЕШЕСТВИЯ:



# Индия: на восточном базаре



Джунгли

**Из карты на с. 157  
выпишите названия  
географических объектов,  
через которые проходил  
путь Афанасия Никитина,  
следуя по стрелкам**



**Монета,  
Посвященная  
525-летию  
путешествия  
А. Никитина.**

# Дома:

**§ - 8, изучить**

**Задание №5 – заполнить  
контурную карту**