


ОТГАДАЙТЕ ЦИФРУ

□ От точки А велосипедист проехал 10 км на запад, затем повернув на юг, проделал путь в 20 км, после чего двигался на восток 10 км и столько же – на север. Наконец опять повернул на запад, проехав еще 10 км

Масштаб в 1 см – 10 км.

Какая буква получилась?

ПРАВИЛЬНЫЙ ОТВЕТ



УСЛОВНЫЕ ЗНАКИ.

Условные знаки



Требования к условным

3 Цвет 4:

Простота

Непохожесть друг на друга

Одинаковая форма и величина

Изображенные знаки напоминают сами
предметы

ФОНОВЫЙ ЦВЕТ УСЛОВНЫХ ЗНАКОВ

Следующим *свойством условного знака является его цвет.*

Синий цвет – цвет воды, следовательно, именно им выделены на плане многочисленные водные объекты.

Коллективное размышление:

На местности есть родник. Из этого родника берет начало ручей. Назовем его Веселый. Название ручья тоже пишется синим. Невдалеке есть болото. Из него может вытекать река?

Как мы ее назовем?


Ручей Веселый впадает в реку Большую.

Это правый или левый приток реки? Как это узнать?

Как указать направление течения реки?..

Река впадает в озеро. Назовем его Тихое.

Один берег озера заболочен...



Черным цветом изображают объекты деятельности человека:
все виды дорог, тропинка и просека в лесу, грунтовая дорога и дорога с
тверды

Зеленый цвет называют фоновым – им не рисуют и не подписывают названия, но *заливают площадь*, которую занимают лес, кустарник и сад. С помощью условных значков уточняют, из каких деревьев – лиственных или хвойных – он состоит. Если лес хвойный, то рисуют знак, похожий на ель. Если лес смешанный, то вместе со значком хвойного дерева рисуют значок лиственного

фрукт.сад

кустарники


луг

вырубка


лес лиственный

редколесье


Условные знаки плана




**Одиночное
лиственное
дерево**




**Смешанный
лес**



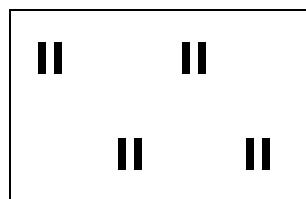
**Одиночное
хвойное
дерево**




Куст



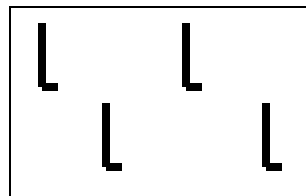
**Хвойный
лес**



Луг

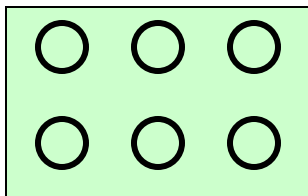


**Лиственный
лес**

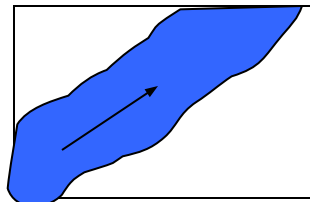


Вырубка

Условные знаки плана




Фруктовый сад




Направление течения реки



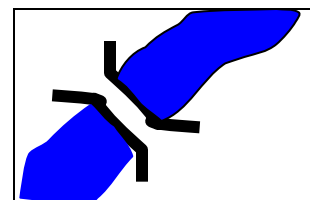
Поле, пашня



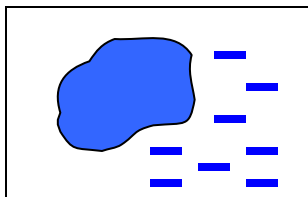
Обрыв



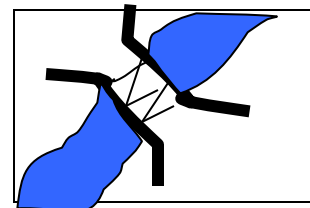
Огороды



Деревянный мост



Озеро, болото




Металлический мост

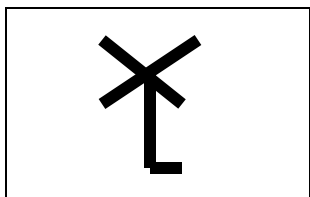
Условные знаки плана




Карьер




Камни



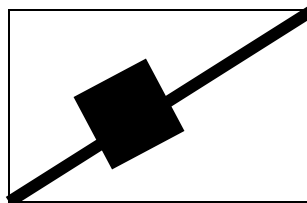
**Ветряная
мельница**




**Родник
источник
ключ**



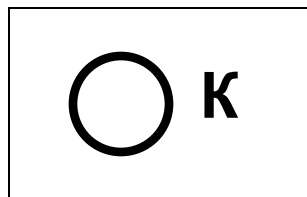
**Водяная
мельница**



Ж\д станция



Памятник




Колодец

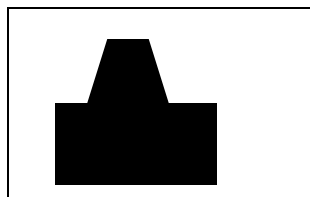
Условные знаки плана




Школа



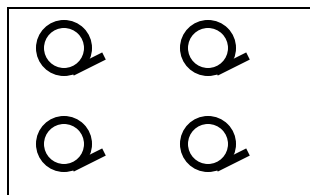
Просека



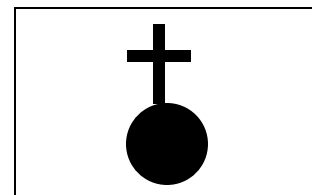
Завод



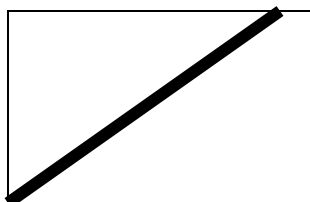
Башня



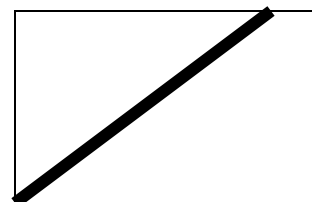
Редкий лес



Церковь
храм

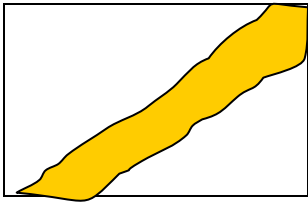


Тропинка

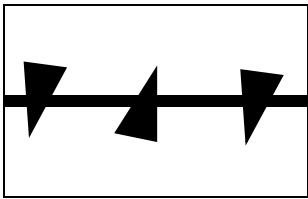


Грунтовая
дорога
Железная
дорога

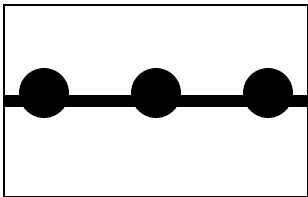
Условные знаки плана



Шоссе



**Линия
электропередач**

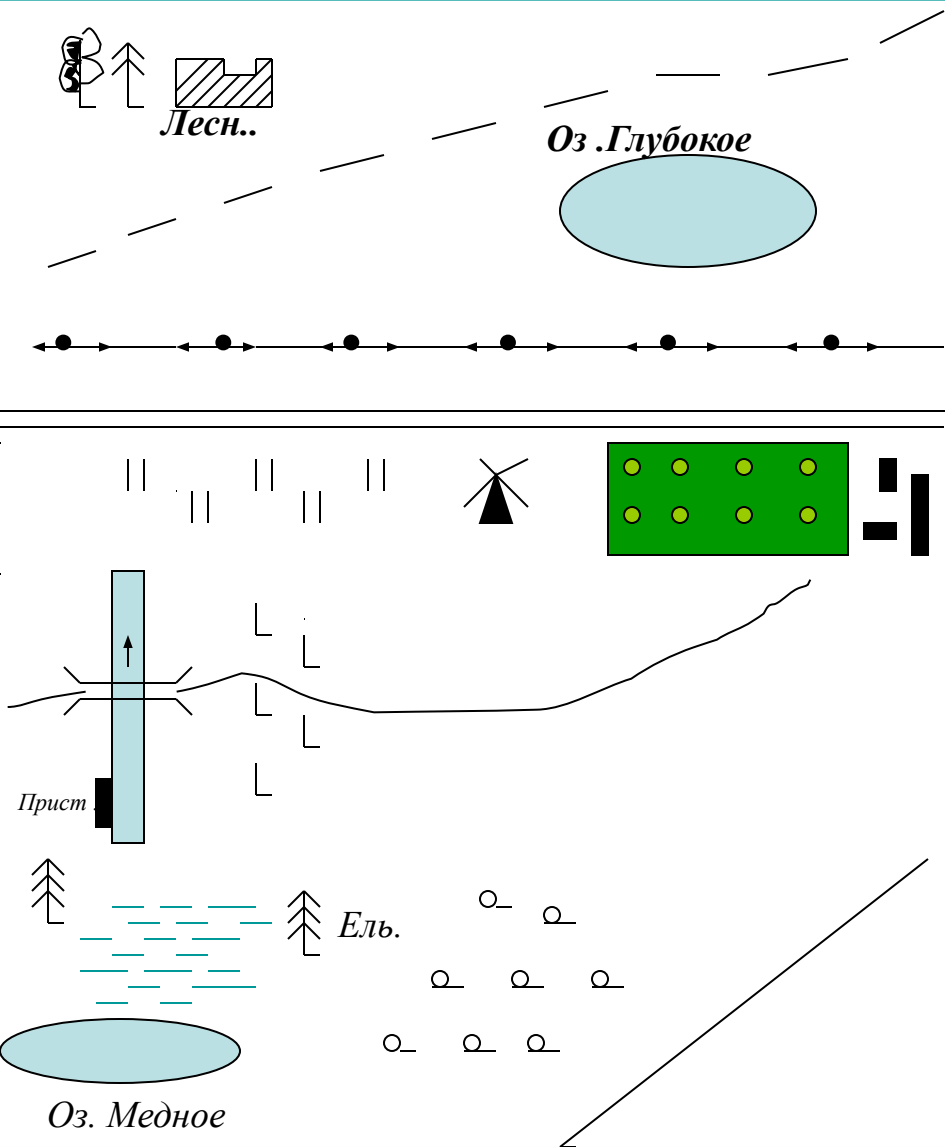


Линия связи



Овраг

Придумать рассказ по топографическим знакам



Домик лесника
смешанный лес
озеро Глубокое
тропинка

Сады
линии электропередачи
луга
ветряная мельница
поселок
шоссе

Река
вырубленные леса
пристань
деревянный мост
грунтовая дорога

Озеро Медное
хвойный лес
редкие леса
болото

Запиши рассказ условными знаками

Жил на Руси богатырь славный Алеша Попович, и умел он только на печи лежать, да с Тугариным Змеем воевать. Отправился он однажды золото народное из лап тугаринских высвободить. Путь его лежал через берёзовый лес, мимо гнилого болота, через которое тропинка была. Зашел Алеша в самую чащу леса и видит живописное озеро, а возле него дом лесника. Спрашивает он лесника, как попасть ему к реке, где тугаринское войско расположилось. А старик ему отвечает, путь далекий тебе предстоит. Сначала пойдешь по грунтовой дороге, свернешь в сосновый лес. Там увидишь колодец, смело от него ступай к роднику, у родника есть глубокий овраг, перейдешь его и увидишь луг, на том лугу стоит одинокое дерево. Подойдешь к нему, Тугарин сам и появится.