


Самый умный...

- Земная кора
- Рельеф
- Знание карты

автор игры

правила игры

начать игру



•1. Для выбора вопроса ученики называют номер вопроса. Вопросы по темам выделены цветом

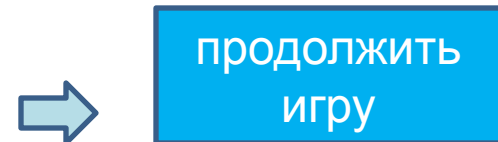
•2. На ответ дается 5 секунд, после чего учитель переходит к 3 или 4 пункту

•3. Если правильный ответ, то щелкнуть красную кнопку.

•4. Если не правильный ответ, то щелкнуть синюю кнопку

•5. Чтобы показать правильный ответ нужно щелкнуть на знак вопроса.

•6. Для продолжения игры выбираем кнопку «продолжить игру»





ВЫХОД

КОНЕЦ

•Земная кора

1

Назовите основные типы
земной коры.

Материковая и
океаническая.

1

2

3

4

5



продолжит
игру

•Земная кора

4

назовите основные виды
движений земной коры.

Вертикальные и
горизонтальные.

1

2

3

4

5



продолжит
игру



•Земная кора

8

Какие слои выделяют в земной коре.

Осадочный,
гранитный,
базальтовый.

1

2

3

4

5



продолжит
ь игру

•Земная кора

11

Назовите основные группы
горных пород.

Осадочные,
магматические,
метаморфические.

1

2

3

4

5



продолжит
игру



15

•Земная кора

Назовите основные группы
металлических ископаемых.

Рудные, нерудные и
горючие.

1

2

3

4

5



продолжит
игру



18

•Земная кора

Что такое литосфера?

Земная кора и верхняя часть мантии.

1

2

3

4

5



продолжит
ь игру



•Земная кора

19

Какие выделяют виды вулканов по степени активности.

Действующие,
потухшие,
проснувшие.

1

2

3

4

5



продолжит
ь игру

23

•Земная кора

назовите основные группы
магматических горных пород.

Обломочные,
химические,
органические.

1

2

3

4

5



продолжит
игру



•Карта

2



Назовите самую высокую
ВЕРШИНУ в мире.

ЭВЕРЕСТ



1

2

3

4

5



продолжить
игру

•Карта

6



Назовите известные объекты
АФРИКИ

РЕКА НИЛ, ПУСТЫНЯ
САХАРА.



1

2

3

4

5



продолжить
игру

•Карта

7

назовите самые известные
горы ЕВРАЗИИ

ГИМАЛАИ.

1

2

3

4

5



продолжить
игру

•Карта

9



назовите известный вулкан
Африки.

Килиманджаро.



1

2

3

4

5



продолжить
игру

•Карта

14

НАЗОВИТЕ САМЫЙ
АЛЕНЬКИЙ МАТЕРИК

АВСТРАЛИЯ

1

2

3

4

5



продолжить
игру



•Карта

16



НАЗОВИТЕ МАТЕРИК,
КОТОРЫЙ ПЕРЕСЕКАЮТ
ВСЕ МЕРИДИАНЫ

АНТАРКТИДА



1

2

3

4

5



продолжить
игру

•Карта

21



НАЗОВИТЕ ВТОРОЙ ПО
ВЕЛИЧИНЕ ОСТРОВ.

МАДАГАСКАР

1

2

3

4

5



продолжить
игру

•Карта

24

НАЗОВИТЕ МАТЕРИК
СОСТОЯЩИЙ ИЗ ДВУХ
ЧАСТЕЙ СВЕТА.

ЕВРАЗИЯ.

1

2

3

4

5



продолжить
игру

•Рельеф

3

Назовите самые
главные формы рельефа
Земли.

Впадины океанов и
выступы материков.

1

2

3

4


5



продолжить
игру



•Рельеф



назовите основные формы рельефа суши.

Горы и равнины.

1

2

3

4


5



продолжить
игру



•Рельеф



кие выделяют равнины по
высоте.

Низменности,
возвышенности,
плато.



1

2

3

4


5



продолжить
игру



•Рельеф



Какие выделяют горы по
высоте.

Низкие, средние,
высокие.

1

2

3

4


5



продолжить
игру




•Рельеф



Назовите внешние силы,
которые изменяют рельеф.

Выветривание, ветер,
текучая вода, реки, ледники,
подземные воды, человек.



продолжить
игру



•Рельеф



Какие бывают горы по возрасту.

Древние и молодые.

1

2

3

4

5



продолжить
игру

20

•Рельеф

Какие бывают равнины по характеру поверхности.

Холмистая и плоская.

1

2

3

4

5



продолжить
игру

22

•Рельеф

Какие бывают горы по происхождению.

Складчатые, глыбовые, складчато-глыбовые, вулканические.

1

2

3

4

5



продолжить
игру

Игра закончена!