



# БРАЗИЛИ



д

# Бразилия



# «Еркін талқылау»

## Топпен жұмыс

1- топ

Өлкетанушылар

2- топ

Демографтар

3-топ

Экономистер



# Бразилия «Түртіп алу»

Білемін  
«V»

Мен үшін жаңа ақпарат  
«+»

Білмеймін  
«-»

Мені таңқалдырады  
«?»



# «Даталар сөйлейді»

Жылдар	Анықтама
1500 ж	
1808 ж	
1822 ж	
1889 ж	
1888ж	
XX ғ.60 ж	
1945 жылдан бері	





# *Карта тест*

**№1. Халықтың басым көпшілігі қайда шоғырланаған?**

1. Атлант мұхиты жағалауында
2. Үнді мұхиты жағалауында

**№2. Аса ірі қалалары**

1. Сан –Паулу, Рио-де-Жанейро
2. Венесуэла, Мараба

**№3. Географиялық координатын анықта**

1.  $15^{\circ}$  о.е. -  $47^{\circ}$  б.б.
2.  $22^{\circ}$  о.е -  $43^{\circ}$  б.б.
3.  $5^{\circ}$  о.е -  $35^{\circ}$  б.б.





# №1. Халықтың басым көпшілігі қайда шоғырланаған?



1. Атлант мұхиты жағалауында

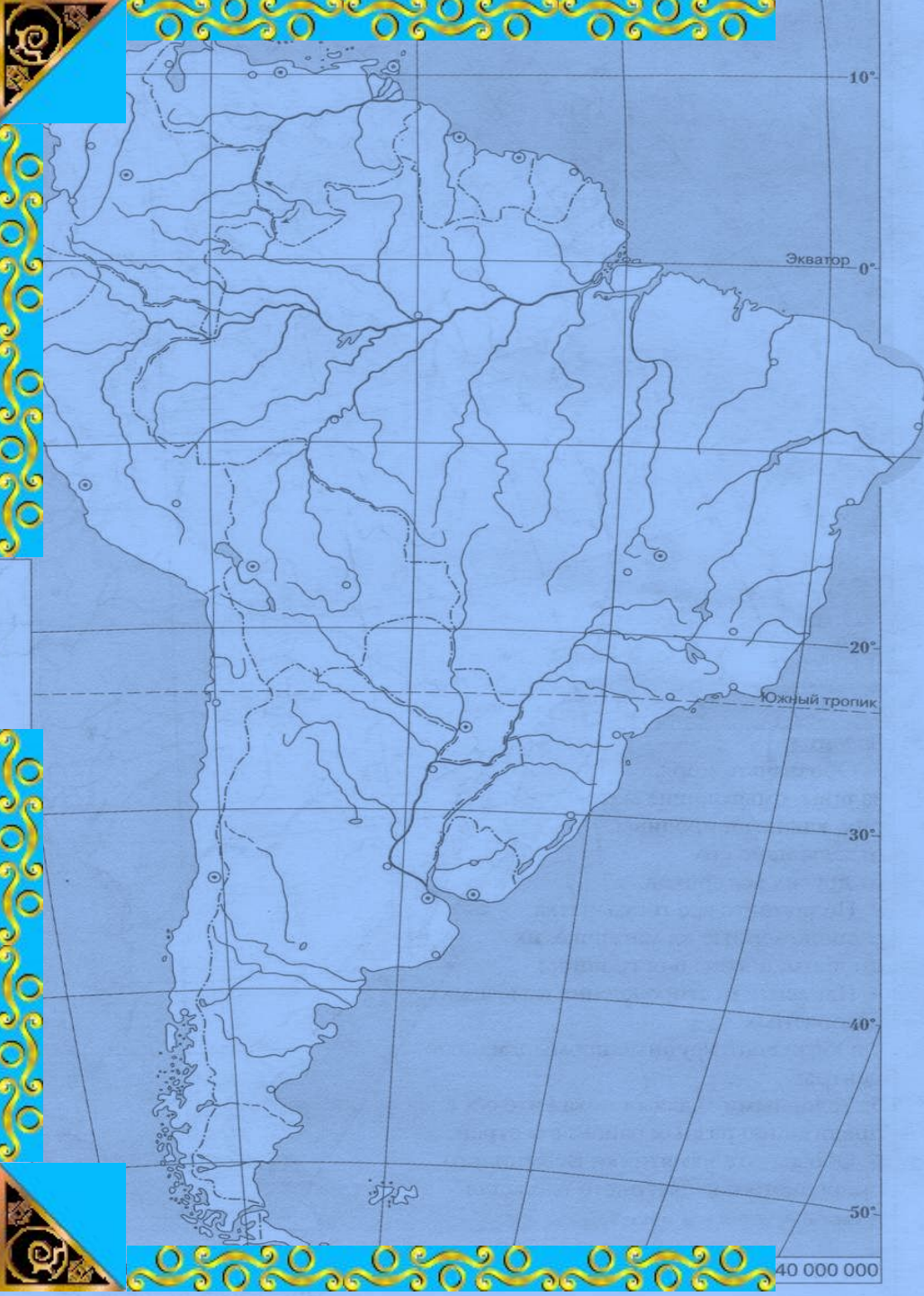
2. Үнді мұхит жағалауында

## №2. Аса ірі қалалары



1. Сан –Паулу, Рио-де-Жанейро

2. Венесуэла, Мараба



1.  $15^{\circ}$  о.е .-  $47^{\circ}$  б.б.

2.  $22^{\circ}$  о.е -  $43^{\circ}$  б.б.

3.  $5^{\circ}$  о.е -  $35^{\circ}$  б.б.



1.15° о.е .- 47° б.б.

# 1. Бразилия



2)  $22^{\circ}$  о.е -  $43^{\circ}$  б.б.


## 2. Рио-де-Жанейро



3. 5 ° о.е - 35 ° б.б.

3. Риу – Гранди-ду -норти

# «Ақылдың алты қалпағы»



*Сезім, эмоция, интуиция*



**Ақпарат,  
дерек**



**Тапқырлық, жаңа идея,  
ұсыныс**



**Қолдау нәтиже күту,  
оптимизм**



**Сынау,  
қауіптену,  
жағымсыз жағы**



**Процеске жетекшілігі  
жасау**

# «Даналық сандықшасы»






# Ел ертеңі-білімді ұрпақ

Н.Ә.Назарбаев



**Зейін қойып  
тыңдағандарыңызға  
рахмет!**













- 1 СУРИНАМ
- 2 ГВИАНА (Фр.)
- 3 УРУГВАЙ

ВЕНЕСУЭЛА ГАЯНА  
 г. Неблина  
 3400

Манаус

Белен

Сан-Луис

Ресифи

Салвадор

БРАЗИЛИЯ

Бразильское  
 плоскогорье

Белу-Оризонти

Рио-де-Жанейро

Сан-Паулу

Серра-Жерал

Порту-Алегри

КОЛУМБИЯ

ПЕРУ

БОЛИВИЯ

ПАРАГВАЙ

АРГЕНТИНА

ТИХИЙ  
 ОКЕАН

АТЛАНТИЧЕСКИЙ  
 ОКЕАН


Солтүстік аудан

Солтүстік шығыс аудан

Орталық батыс аудан

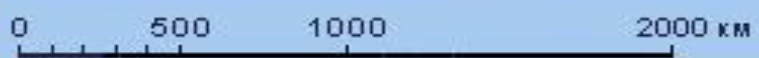
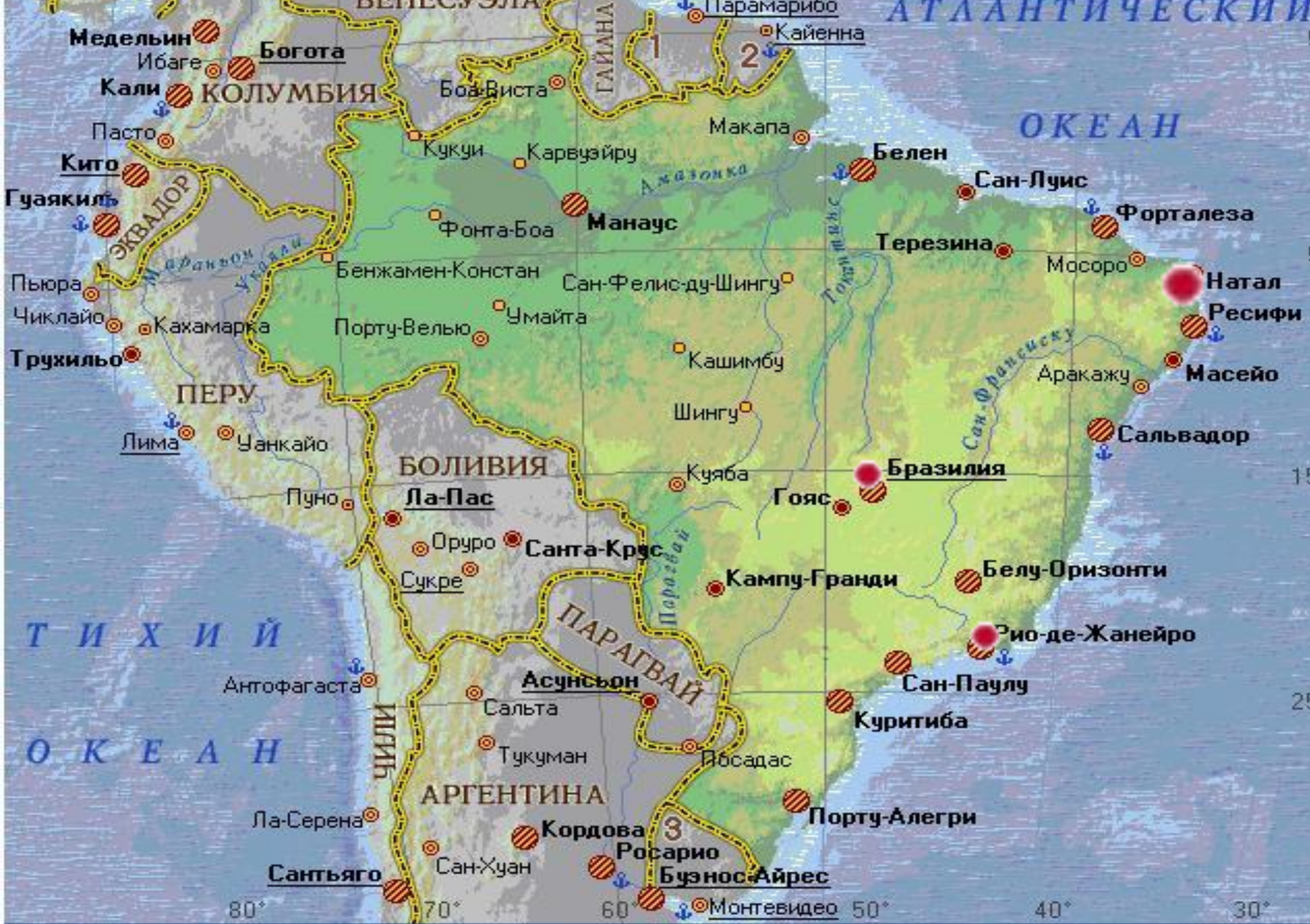
Оңтүстік шығыс аудан

Оңтүстік аудан









- 1 - Суринам
- 2 - Гвиана
- 3 - Уругвай

БРАЗИЛИЯ

