


«МЫ ПРОДВИГАЕМСЯ ВПЕРЁД ПО ПУТИ РАЗВИТИЯ НА ОСНОВЕ ПАРТНЁРСТВА, КОГДА ВЫИГРЫШ ОДНОГО ОБОРАЧИВАЕТСЯ ПРЕИМУЩЕСТВОМ ДЛЯ ДРУГОГО».



**Ф.Э. Кордозо –
президент Бразилии**

Викторина




“Самый – самая - самое
”




САМАЯ ОПАСНАЯ ПРЕСНОВОДНАЯ РЫБА?

Пиранья



САМАЯ БОЛЬШАЯ ПТИЦА?

Кондор



САМАЯ МАЛЕНЬКАЯ ПТИЦА?



Колибри

САМОЕ МЕДЛЕННОЕ МЛЕКОПИТАЮЩЕЕ?

Ленивец



САМЫЙ ВЫСОКИЙ ВОДОПАД?

Анхель



РОДИНА ВСЕХ ЭТИХ ЧУДЕС СВЕТА?




*Латинская
Америка*

**НАЗОВИТЕ ТЕМУ
НАШЕГО УРОКА**





Общая характеристика Латинской Америки



ОПРЕДЕЛИТЕ ЗАДАЧУ, КОТОРУЮ ВЫ ДОЛЖНЫ РЕШИТЬ НА УРОКЕ



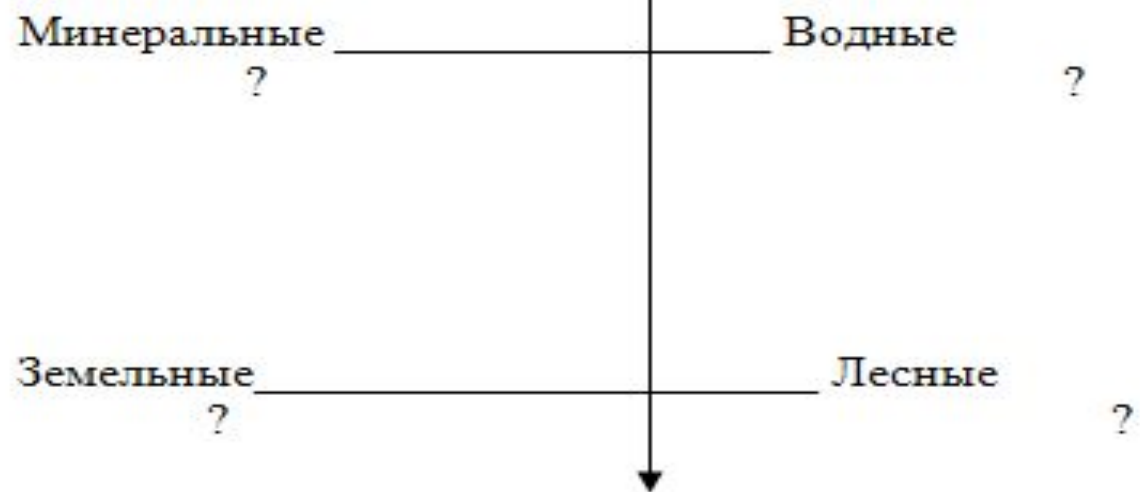
*Дать общую
характеристику
Латинской Америки*

ЗАПОЛНИТЕ ТАБЛИЦУ «БЛАГОПРИЯТНЫЕ И НЕБЛАГОПРИЯТНЫЕ ЧЕРТЫ ЭГП СТРАН ЛАТИНСКОЙ АМЕРИКИ»

| Благоприятные черты ЭГП | Неблагоприятные черты ЭГП |
|----------------------------|------------------------------|
| | |
| | |
| | |
| | |

В-1

Природные ресурсы Латинской Америки.



В-2

Население Латинской Америки.



1 группа: Приведите примеры Латиноамериканских государств, в структуре хозяйства, которых преобладает:

| Аграрная структура хозяйства | Индустриальная структура хозяйства |
|------------------------------|------------------------------------|
| | |

2 группа: Специализация горнодобывающей промышленности Латинской Америки:

| Виды минеральных ресурсов | Страны |
|---------------------------|--------|
| 1. Нефть | |
| 2. Железная руда | |
| 4. Медные руды | |
| 5. Оловянные руды | |
| 6. Бокситы | |

НАЙДИТЕ ВЕРНЫЕ УТВЕРЖДЕНИЯ:

1. в отличие от Африки ведущая роль в экономике региона перешла к обрабатывающей промышленности;
2. "индустриальный" облик Латинской Америки сейчас определяют Чили, Венесуэла, Колумбия, Перу; "второй эшелон" составляют Аргентина, Бразилия и Мексика;
3. Аргентина, Бразилия и Мексика концентрируют около 1 \ 10 промышленного производства Латинской Америки;
4. Аргентину, Бразилию и Мексику можно отнести к "новым индустриальным странам" Латинской Америки (странам, развивающимся очень динамично);
5. Машиностроение и химическая промышленность наиболее динамично развиваются в странах Центральной Америки, Карибского бассейна, в Парагвае и Боливии;

ОЦЕНИТЕ СВОЮ РАБОТУ, ОТВЕТИВ НА ВОПРОСЫ:

1. Как я работал на уроке?
2. Самым интересным было...
3. Что изучил нового?

ДОМАШНЕЕ ЗАДАНИЕ:

1. Тема 10.1 пересказ
2. По желанию подготовить письменно творческую работу «Формы и направления сотрудничества Ульяновской области со странами Латинской Америки»
3. Выяснить экологические проблемы Латинской Америки.